

## MATEMATİK SINAVI

ADI-SOYADI:.....

1-) “3 düzine elma ..... tane elma eder.”

Yukarıdaki boşluğa hangi sayı yazılmalıdır.

2-)Yandaki şekilde hangisi vardır?

- a-)Köşe
- b-) Yüzey
- c-)Ayrıt



3-)Yandaki şekil hangisini ifade eder?

- a-)Çeyrek
- b-)Tam
- c-)Yarım



4-) 5 onluk, 8 birlikten oluşan sayı kaçtır?

5-) 49 sayısında 4 sayısının basamak değeri kaçtır?

6-)İki basamaklı en büyük sayı kaçtır?

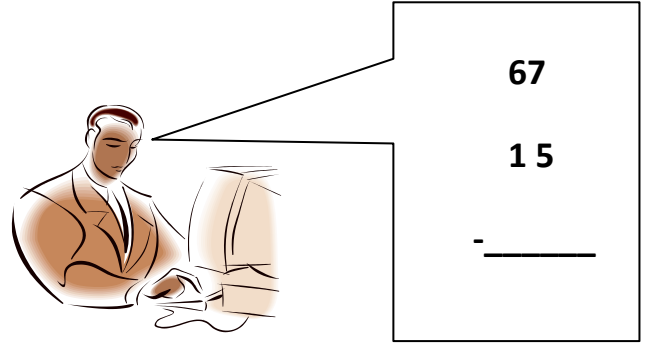
- a-)99
- b-)100
- c-)10

7-)Silgimizin boyunu hangi ölçme yöntemi ile daha kolay ölçeriz?

- a-)Ayak
- b-)Kol
- c-)Parmak

8-)iki düzine elma ile bir deste elmayı topladık ve sepete attık. Sepette toplam kaç elmamız oldu?

10-)



Yukarıdaki adamın bilgisayarda çözmeye çalıştığı işlemin sonucu kaçtır?

- a-) 82
- b-)72
- c-)52

11-)Bir karenin kenar sayısı ile köşe sayısını toplarsam kaç olur?

- a-)2
- b-)4
- c-)8

12-)Yandaki karenin çevresi


6 cm.

kaç cm.dir?

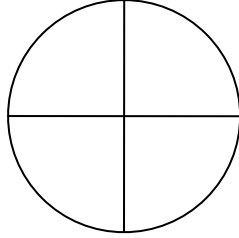
- a-)6
- b-)12
- c-)24



13-)Aşağıdaki kalplerin içindeki sayıları toplarsam sonucu kaç bulurum?



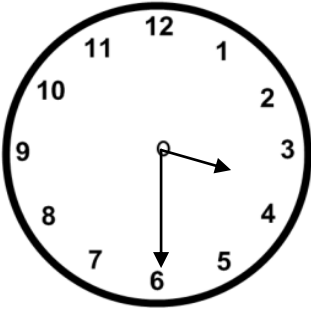
14-)Aşağıdaki pastanın çeyreği 3 lira ise tamamı kaç liradır?



15-) Aşağıdakilerin hangisinde 23 sayısının onluk ve birlikleri doğru gösterilmiştir?

- a-) 2 birlik ve 3 onluk.
- b-) 20 onluk ve 3 birlik.
- c-) 2 onluk ve 3 birlik.

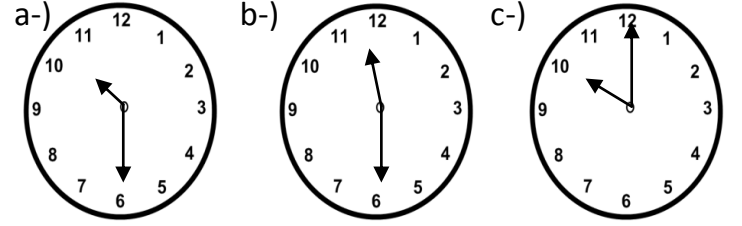
16-)



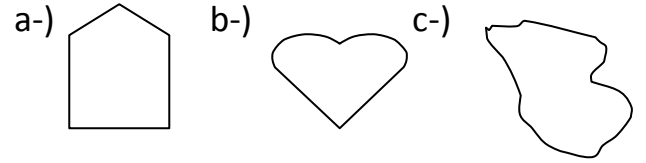
Yukarıdaki saat kaçı göstermektedir?

17-) Babam pastaneden, yarısı 5 lira olan pastadan 2 tane almamı istedi. Acaba kaç para ödemem gerekir?

18-) Saat üzerinde 22:30 nasıl gösterilir?



19-) Aşağıdakilerden hangisi simetrik değildir?



20-) 2 yarım ekmek ile 4 çeyrek ekmek kaç tane bütün ekmek eder?