


Adı Soyadı : .....

Numara: .....

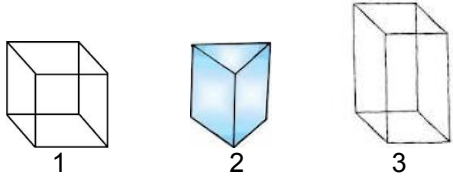
1. Aşağıdakilerden hangisinin köşesi **yoktur**?



2. Aşağıdakilerden hangisinin ayrıtı vardır?

A) küre B) küp C) silindir

3. Aşağıdaki geometrik cisimlerden hangilerinin 6 yüzeyi, 8 köşesi ve 12 ayrıtı vardır?

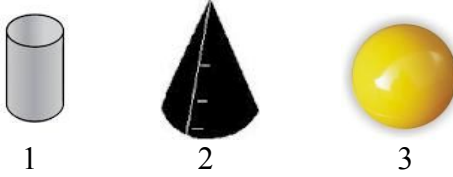


A) 1 ve 2 B) 2 ve 3 C) 1 ve 3

4. Beş yüzeyi ve 6 köşesi olan geometrik cisim hangisidir?

A) Üçgen Prizma B) Kare Prizma C) Küp

5. Aşındaki cisimlerden hangilerinin ayrıtı **yoktur**?




A) 1, 2 ve 3 B) 2 ve 3 C) 1 ve 3

6. Aşağıdakilerden hangisi karedir?



7. Çember çizmek isteyen birisi aşağıdaki nesnelerden hangisini **kullanamaz**?



8. Aşağıdakilerden hangisi standart ölçme aracıdır?



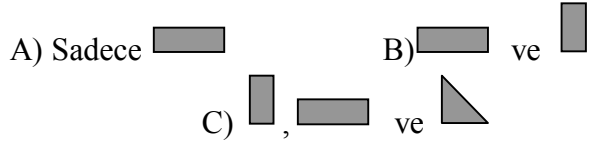
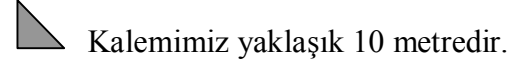
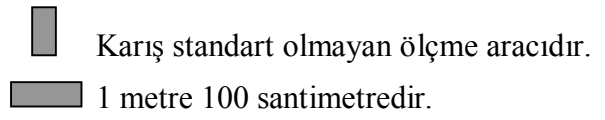
9.



Sıramızın gerçek tahmini ne kadardır?

A) 1 santimetre B) 1 metre C) 10 metre

10. Aşağıdaki ifadelerden hangileri doğrudur?



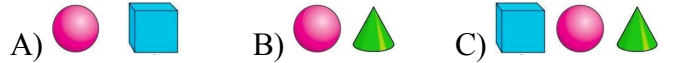
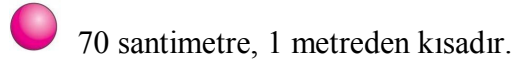
11. Sınıfımızın enini sınıf başkanımız 10 **adım** bulmuştur. Sınıfımızın enini öğretmenimiz adım ile ölçerse kaç adım bulabilir?

A) 10 adım B) 13 adım C) 8 adım

12. Ayşe, fotokopi kağıdının uzunluğunu **cetvelle** ölçmüş ve 29 santimetre bulmuştur. Aynı kağıdı öğretmenimiz cetvelle ölçerse kaç santimetre bulur?

A) 29 cm B) 28 cm C) 30 cm

13. Aşağıdaki ifadelerden hangileri doğrudur?



14. Aşağıda kaç tane şeker vardır?



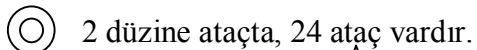
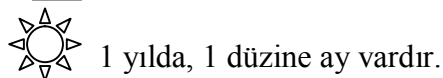
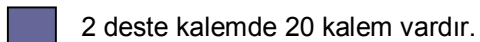
A) 1 deste B) 1 düzine C) 2 deste

15. Aşağıda kaç tane top vardır?



A) 1 deste B) 1 düzine C) 2 düzine

16. Aşağıdaki ifadelerden hangileri doğrudur?



**Yanıtlarını (cevaplarını) kontrol etmeyi unutma!**