

# KAMU PERSONELİ SEÇME SINAVI

## KPSS

### GENEL KÜLTÜR ve GENEL YETENEK

*KPSS Sınavına hazırlık dosyalarımız son 3 yılda yapılan sınavlarda çıkmış sorular baz alınarak hazırlanmıştır. İtinallı çalışmalarımıza rağmen rastlanabilecek hata ve eksikliğinden doğabilecek zararlardan MaximumBilgi.com hiçbir şekilde sorumluluk kabul etmemektedir.*

1. Aşağıdakilerden hangisi iklim elemanlarından değildir?
  - A) Basınç
  - B) Sıcaklık
  - C) Nem
  - D) Yağış
  - E) Bitki örtüsü
2. Ekvatorun 10° - 30° kuzeyi ve 10°-30° güneyindeki enlemler arasında görülen ve bitki örtüsü uzun ve gür çayırardan oluşan iklim kuşağı aşağıdakilerden hangisidir?
  - A) Akdeniz iklimi
  - B) Muson iklimi
  - C) Ekvatorial iklim
  - D) Tropikal iklim
  - E) Kurak iklim
3. Aşağıda bazı iklimler ile bu iklimlere ait karakteristik bitki toplulukları eşleştirilmiştir. Yanlış olanı hangisidir?
  - A) Tundra iklimi - yosunlar
  - B) Step iklimi - bozkırlar
  - C) Tropikal iklim - savanlar
  - D) Akdeniz iklimi - yayvan yapraklı ormanlar
  - E) Çöl iklimi - kurakçıl otlar
4. Ülkemizde bakı etkisi düşünüldüğünde, aşağıdaki yerlerden hangisi daha çok ısınır?
  - A) Aydın dağlarının kuzey yamaçları
  - B) Torosların güney yamaçları
  - C) Süphan dağının zirvesi
  - D) Karadeniz'e bakan dağ yamaçları
  - E) Uludağ'ın batı yamaçları
5. Türkiye'nin jeolojik yapısı göz önünde tutulduğunda, aşağıdaki alanların hangisinde şiddetli yer sarsıntılarının görülmesi olasılığı en fazladır?
  - A) Obruk Platosu
  - B) Ergene Ovası
  - C) Gediz Havzası
  - D) Şanlı Urfa Platosu
  - E) Mardin Eşiği
6. Aşağıdakilerden hangisi, rüzgar erozyonundan korunma yollarından biri değildir?
  - A) Tarlalar eğim yönünde sürülmelidir.
  - B) Rüzgarların geldiği yöne dik ağaçlandırma yapılmalıdır.
  - C) Toprağa otsu bitkiler dikilmelidir.
  - D) Tarlalar nadasa bırakılmamalıdır.
  - E) Meraların bilinçsizce otlatılması önlenmelidir.
7. Türkiye'de karstik yapının yaygın olduğu yerlerde nüfus yoğunluğu azdır. Aşağıdaki yerlerin hangisinde, nüfus yoğunluğunun azlığı bu duruma örnek olarak gösterilebilir?
  - A) Van Gölü Çevresi

- B) Yıldız Dağları Bölümü  
C) Taşeli Platosu  
D) Bozok Platosu  
E) İğdır Ovası
8. Türkiye'nin iç bölgelerinin orman bakımından daha fakir olduğu görülür. Aşağıdakilerden hangisi, bu durumun ortaya çıkmasında daha çok etkilidir?
- A) Ortalama yükseltinin fazla oluşu  
B) Yer altı sularının yetersizliği  
C) Tarım alanlarının geniş olması  
D) Yağışın yetersiz olması  
E) Toprak örtüsünün ince olması
9. Türkiye'nin yedi coğrafi bölgesini, nüfusu en yoğun olandan başlayarak sıraya koymak gerekirse Marmara Bölgesi kaçınıcı sırada yer alır?
- A) I  
B) II  
C) III  
D) IV  
E) V
10. Türkiye'deki doğal bitki örtüsünün dağılışını gösteren bir haritadan, aşağıdaki bilgilerden hangisini elde etmek mümkündür?
- A) Ulaşım olanaklarını  
B) İklim tiplerini  
C) Nüfus yoğunluğunu  
D) Akarsu havzalarının genişliğini  
E) Hayvancılıkta uygulanan yöntemleri
11. Köyden kente göçü hızlandıran etkenlerden biri de tarımın makineleşmesidir. Böyle bir genelleme, aşağıdaki illerden hangisi için uygun değildir?
- A) Aydın  
B) Bursa  
C) Adana  
D) Rize  
E) Konya
12. Aşağıdaki illerimizden hangisinin nüfus yoğunluğu, mevsimden mevsime en fazla değişir?
- A) Rize  
B) Muğla  
C) Adapazarı  
D) Zonguldak  
E) Trabzon
13. Aşağıdakilerden hangisi, Karadeniz'in, Akdeniz'den daha az tuzlu olmasında etkili değildir?
- A) Bol akarsularla beslenmesi  
B) Buharlaştırmanın az olması  
C) Enlem olarak kuzeyde olması  
D) Yüzeyde ve derinde akıntıların olması

E) Sıcaklığın az olması

14. Türkiye'de endüstri kurumlarının büyük ölçüde Marmara Bölgesi'nde toplanmış olmasının temel nedeni aşağıdakilerden hangisidir?

- A) Nüfus sıklığı
- B) iklimin etkisi
- C) Ulaşım kolaylığı
- D) Enerji bolluğu
- E) Vergi indirimi uygulaması

15. Heyelan oluşmasında,

- i. Sık orman örtüsü
- ii. Eğim
- iii. Eğime dik tabakalaşma
- iv. Yağış

gibi etkenlerden hangisi ya da hangilerinin rolü yoktur?

- A) Yalnız I
- B) I ve II
- C) Yalnız III
- D) I ve IV
- E) I ve III

16. Türkiye'de dağların çeşitli etkileri vardır. Aşağıdakilerden hangisi dağların etkili olduğu durumlardan biri değildir?

- A) Kıyılarda yağışın artması
- B) Karadeniz bölgesinde yerleşmenin dağınık olması
- C) İç Anadolu'da kaplıca sularının oluşması
- D) Kar halindeki yağışların artması
- E) İç kısımlarda yağışın azalması

17. İç Anadolu'nun etrafı yüksek dağlarla çevrilidir. Bu özellik İç Anadolu'da aşağıdaki sonuçlardan hangisini doğurmaz?

- A) İklimin kurak olmasını
- B) Geniş ovaların yaygın olmasını
- C) Buğday tarımının yaygınlaşmasını
- D) Karasal iklimin etkisini
- E) Nüfus yoğunluğunun azalmasını

18. Aşağıda verilen hangi şehir çiftinde, kış sıcaklıkları en fazla farklılık gösterir?

- A) Urfa- Ankara
- B) Kars-Ağrı
- C) İzmir-Afyon
- D) Antalya - Kars
- E) Adana – Gaziantep

19. Bir bölgede iklimin buğday tarımına elverişli olduğuna, aşağıdakilerden hangisi kanıt olarak gösterilebilir?

- A) Kışların soğuk geçmesi
- B) Düzlüklerin geniş yer tutması
- C) Yükseltinin fazla olması
- D) Nüfusun kırsal kesimde yoğunlaşması
- E) Yaz mevsiminin kurak geçmesi

20. Türkiye'deki illerin dağılışını gösteren idari haritalar, aşağıdakilerin hangisinde pek elverişli değildir?

- A) Yön bulmada
- B) Profil çıkarmada
- C) Uzaklık hesaplamada
- D) Konum belirlemede
- E) Alan hesaplamada

21. İklim koşulları bakımından Türkiye'de sebze tarımına en az elverişli olan bölge aşağıdakilerden hangisidir?

- A) Marmara Bölgesi
- B) Karadeniz Bölgesi
- C) Doğu Anadolu Bölgesi
- D) Akdeniz Bölgesi
- E) İç Anadolu Bölgesi

22. Aşağıdakilerden hangisi, Ege Bölgesi'nde yer alan İç Batı Anadolu ile Ege Bölümlerini birbirinden ayıran özelliklerden biri değildir?

- A) Yer altı zenginliği
- B) Sıcaklık durumu
- C) Yükseltisi
- D) Nüfus yoğunluğu
- E) Yağış rejimi

23. Doğu Anadolu Bölgesi'nin ekonomisinde, aşağıdakilerden hangisinin payı en büyüktür?

- A) Endüstri
- B) Turizm
- C) Tarla tarımı
- D) Hayvancılık
- E) Seracılık

24. Marmara Bölgesi'nde şehirleşme oranının yüksek olmasında, aşağıdaki hangi iki etmenin rolü büyüktür?

- A) Sanayinin gelişmiş olması - Modern tarım yöntemleri
- B) Dışardan göç alması -- Doğum oranının fazlalığı
- C) Tarım gelirlerinin azlığı -- Hayvancılığın gelişmemiş olması
- D) Ticaretin gelişmesi - Ulaşım kolaylığı
- E) Sağlık hizmetlerinin yeterli olması - Üniversitelerin fazlalığı

25. Aşağıdakilerden hangisi, Karadeniz ikliminin en önemli özelliğini yansıtır?

- A) Her mevsimin yağışlı olması
- B) En fazla yağışın kışın düşmesi
- C) Bölgede cephe yağışlarının fazla görülmesi
- D) Yazları çok sıcak olması

- E) Kışın don olayı olmaması
26. Türkiye'de, besi ve ahır hayvancılığının genellikle şeker fabrikası bulunan yörelerde yoğunlaşması, aşağıdakilerden hangisine bağlanabilir?
- A) Otlakların daha çok pancar üretimine ayrılmış olması  
B) Şeker pancarının, yem bitkileriyle dönüşümlü ekilmesi  
C) Şeker pancarı küspesinin hayvan yemi olarak kullanılması  
D) Çiftlik gübresinin pancar ekilen tarlalarda kullanılması  
E) Şeker pancarından elde edilen gelirin yetersiz olması
27. 40° Doğu boylamında yerel saat 14.00 iken, 33° Doğu boylamında bulunan Ankara'da yerel saat kaç olur?
- A) 13.32 B) 14.26 C) 13.28 D) 14.32 E) 14.28
28. 23 Eylül günü için, aşağıdakiler-den hangisi söylenemez?
- A) Güneş ışınları Ekvator'a dik gelir.  
B) Aydınlanma çemberi kutup dairesinden geçer.  
C) Güney yarımkürede ilkbahar başlangıcıdır.  
D) Gece - gündüz süreleri her yerde eşittir.  
E) Kuzey yarımkürede sonbahar başlangıcıdır.
29. Türkiye'de, iklim özellikleri göz-önüne alındığında, Akdeniz bölgesinde yetişen ürünler için aşağıdakilerden hangisi söylenemez?
- A) Yazın yağış ister.  
B) Ilık bir kış ister.  
C) Yaz sıcaklığı ister.  
D) Ilık bir ilkbahar ister.  
E) Orta derecede yıllık yağış ister.
30. Aşağıdakilerden hangisi, Ekvatorial iklimin özelliklerden biri değildir?
- A) Yıllık sıcaklık farkının az olması  
B) Yağış rejiminin düzenli olması  
C) Dört mevsimin görülmesi  
D) Yıllık yağış miktarının fazla olması  
E) Bitki örtüsünün gür olması
31. Karadeniz Bölgesi'nde yükseklik artınca, bitki örtüsünde değişme gözlenir. Belirli bir yükseltiden sonra, bitki örtüsü cılızlaşır ve ortadan kalkar. Bu durum, aşağıdakilerden hangisinin bir göstergesidir?
- A) Yükseldikçe yağışların arttığının  
B) Yükseldikçe basıncın düştüğünün  
C) Yükseldikçe toprak tabakasının incelmediğinin  
D) Yükseldikçe sıcaklığın düştüğünün  
E) Yükseldikçe su buharının arttığının
32. Yaz kuraklığı hakim olan bir bölgede, aşağıdaki bitkilerden hangisinin üretimi zorlaşır?
- A) Susam  
B) Pamuk  
C) Mercimek

- D) Tütün
- E) Mısır

33. Aşağıdakilerden hangisi, İç Anadolu Bölgesi ile Marmara Bölgesi'nin ortak özelliğidir?

- A) Tarım ve sanayi birlikte gelişmiştir.
- B) Nüfus yoğunlukları Türkiye ortalamasının üstündedir.
- C) Diğer bölgelerle bağlantıları oldukça zordur.
- D) Ekilebilir alanların oranı fazladır.
- E) Küçükbaş hayvancılığı yaygındır.

34. Antalya çevresini Göller yöresine bağlayan geçit aşağıdakilerden hangisidir?

- A) Çubuk
- B) Aksu
- C) Gülek
- D) Sertavul
- E) Belen

35. 33° doğu meridyeninde yer alan Mersin'de yerel saat 8.00 iken, Iğdır'da 8,44' olmaktadır. Buna göre, aşağıdakilerden hangisi Iğdır'ın boylam derecesidir?

- A) 33° doğu
- B) 34° doğu
- C) 40° doğu
- D) 43° doğu
- E) 44° doğu

36. 23 Eylül tarihinde İzmit'te güneş saat 19.00'da batmaktadır. Aynı anda güneş hangi boylamda doğar?

- A) 0° Greenwich
- B) 30° Batı
- C) 150° Doğu
- D) 150° Batı
- E) 180° Doğu

37. Türkiye'nin doğu batı uzunluğu 1650 km olduğuna göre, iki meridyen arası yaklaşık kaç kilometredir?

- A) 55,5
- B) 75
- C) 86,8
- D) 111
- E) 275

38. Beşinci saat dilimindeki bir ülkeden aşağıdaki meridyenlerden hangisi geçer?

- A) 70° Batı
- B) 70° Doğu
- C) 85° Doğu
- D) 85° Batı
- E) 97,5° Doğu

39. 28° doğu meridyeni üzerindeki Balıkesir'de yerel saat 11.20'dir. Yerel saatin 12.08 olduğu Diyarbakır hangi meridyen üzerinde bulunmaktadır?

- A) 37°
- B) 39°
- C) 40°
- D) 41°
- E) 42°

40. İzmit'te yerel saat 16.30' iken, 60° Doğu boylamındaki bir noktada yerel saat kaç olur?

- A) 13.50
- B) 16.30
- C) 17.20
- D) 18.30
- E) 19.10

41. A kenti 10° batı boylamında, B kenti ise 240' doğusundadır. Her iki kentten eşit uzaklıkta bulunan C kenti hangi boylam üzerindedir?

- A) 20° doğu
- B) 25° doğu
- C) 25° batı
- D) 40° batı
- E) 40° doğu

42. Bir fiziki harita üzerinde aşağıda-kilerden hangisinin belirlenmesinde yararlanılamaz?


- A) İki yer arasındaki gerçek uzaklığı bulma
- B) İki yer arasındaki yerel saat farkı bulma
- C) İki yer arasındaki eğimi bulma
- D) Bir gölün suyunun tuzlu ya da tatlı su olduğunun belirlenmesi
- E) Ekonomik gelişmişliğinin belirlenmesi

43. Aşağıdakilerden hangisi, Harita ve Planda bulunan ortak özelliklerdendir?

- A) İzopihslerle çizilmesi
- B) Enlem ve boylam bulunması
- C) Profil çıkarılabilmesi
- D) Ölçeklerin bulunması
- E) Aynı ayrıntıları göstermeleri

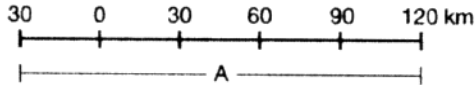
44. Aşağıdaki eşlemelerden hangisi harita için zorunludur?

- A) Kuşbakışı - Tarama
- B) Eşyükselti - Ölçek
- C) Renklendirme-Tarama
- D) Ölçek - Kuşbakışı
- E) Kuşbakışı - Eşyükselti

45.  Bu çizik ölçekli bir haritada 60 mm. gelen uzunluk gerçekte kaç km'dir?

- A) 12
- B) 120
- C) 160

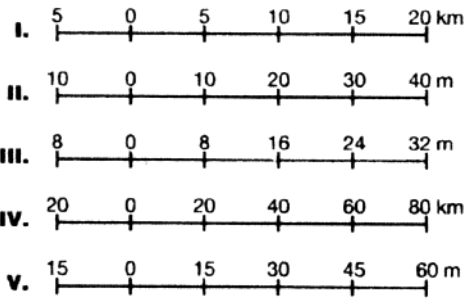
- D) 200  
E) 1200



46. Çizik ölçek 1:500.000 ile gösterilseydi, A kaç cm. olacaktı?

- A) 23 cm.  
B) 30 cm.  
C) 40 cm.  
D) 50 cm.  
E) 90 cm.

47.



Yukarıdaki çizik ölçekli Türkiye haritalarının hangisinde ayrıntı en fazladır?

- A) I  
B) II  
C) III  
D) IV  
E) V

48. 1/1.600.000 ölçekli bir haritada 5 cm olarak gösterilen iki kent arası, 1/400.000 ölçekli bir başka haritada kaç cm olarak gösterilir?

- A) 8  
B) 10  
C) 20  
D) 32  
E) 90

49. Bir Dünya haritasında Türkiye'nin güney enlemi ile ekvator arasındaki uzaklık 36 cm. ile gösterilmişse, bu haritanın ölçeği aşağıdakilerden hangisi olur?

- A) 1/1.110.000  
B) 1/2.220.000  
C) 1/3.600.000  
D) 1/11.100.000  
E) 1/22.200.000

50. Aşağıda 5 cm uzunlukta gösterilmiş olan çizik ölçeğin kesir ölçek değeri hangisidir?

- A) 1/1.200.000

- B) 1/1.500.000
- C) 1/2.400.000
- D) 1/3.000.000
- E) 1/5.000.000

## CEVAP ANAHTARI

1.	E	11.	D	21.	C	31.	D	41.	A
2.	D	12.	B	22.	A	32.	E	42.	E
3.	D	13.	D	23.	D	33.	D	43.	D
4.	B	14.	C	24.	D	34.	A	44.	D
5.	C	15.	E	25.	A	35.	E	45.	B
6.	A	16.	C	26.	C	36.	D	46.	B
7.	C	17.	B	27.	E	37.	C	47.	C
8.	D	18.	D	28.	B	38.	B	48.	C
9.	A	19.	E	29.	A	39.	C	49.	D
10.	B	20.	B	30.	C	40.	D	50.	D