



20. Hangisi derslerde kullanılan bir araç değildir?
A) matkap B) defter C) bilgisayar

21.  Yandaki trafik levhası ne anlama gelir?
A) Tehlikeli yol.
B) Otobüs durağı.
C) Bisiklet geçebilir.

22. Meslek seçimini neye göre yapmalıyız?
A) Yetenek ve ilgimize göre
B) Öğretmenimizin isteğine göre
C) Ailemizin isteğine göre

23. Hata yaptığımızda kullandığımız nezaket ifadesi hangisidir?
A) Özür dilerim. B) İyi günler. C) Günaydın.

24. "Şeyma 10 Kasım şiir okuyacağı için çok heyecanlıdır." cümlesini hangisiyle tamamlanmalıdır?
A) Zafer Bayramı'nda
B) Atatürk'ü Anma Günü'nde
C) Çanakkale Zaferi gününde

25.  Resimde gösterilen şapka hangi mesleğe ait olabilir?
A) hemşire B) mühendis C) polis

Her soru 4 (dört) puandır.
CEVAPLARINIZI KONTROL EDİNİZ

S. Ocak
Süleyman OCAK
Uzman Sınıf Öğretmeni



TÜRKÇE DERSİ SORULARI

1. İnce ünlü harfler "e, i, ö, ü", kalın ünlü harfler "a, ı, o, u" dur. Buna göre hangi kelimedeki ünlü harflerin tümü incedir?
A) doktor B) mühendis C) tamirci
2. "Şortunu() terliğini() havlusunu alıp denize gitti()" cümlesinde parantez içlerine sırasıyla hangi işaretler konulmalıdır?
A) (.) (.) (.) B) (!) (.) (?) C) (.) (!) (.)
3. Hangi seçenekteki cümlelerin hece sayısı en azdır?
A) Hüseyin erkenden uyandı.
B) Kahvaltısını mutfaktaki masada yaptı.
C) Çantasını kendisi hazırladı.
4. "Ona yumuşak elma vereceğiz." cümlesinde altı çizili sözcüğün zıt (karşıt) anlamı hangisidir?
A) tatlı B) yuvarlak C) sert
5. Aşağıdaki tümcelerden hangisinde kişi adı vardır?
A) Gülşen tenis oynamayı sevmez.
B) Yengem pazardan gelmiş.
C) Kedi, fareyi kovaladı mı?
6. Aşağıdaki sözcüklerden hangisi sözlükte en önce gelir?
A) hemşire B) bakkal C) kasap

7. "Bizimle pikniğe ?" cümlesindeki noktalı yere, aşağıdakilerden hangisi yazılmalıdır?

- A) gelir misin B) geleceksin C) geliyorlar

8. "severdi, çocukları, Atatürk, çok" sözcüklerinden anlamlı ve kurallı bir tümce oluşturduğumuzda baştan ikinci sözcük hangisi olur?



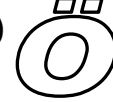
- A) severdi B) çok C) çocukları

MATEMATİK DERSİ SORULARI

9. Hangi şekil çeyreği belirtmez?

- A)  B)  C) 

10. Aşağıdaki harflerden hangisi simetri doğrusu ile eşit olarak ayrılmaz?

- A)  B)  C) 

11. Aşağıdaki cisimlerden hangisinin boyu en kısadır?

- A) kapı B) kalem C) dolap

12. Hangi parayla daha fazla alışveriş yapabiliriz?

- A)  B)  C) 



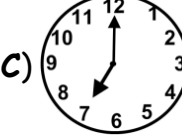
13. Hangi şekil, dikdörtgenler prizmasına benzemektedir?

- A)  B)  C) 

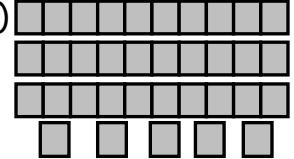
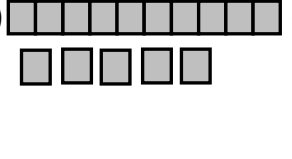

14. Dört köşem var. İki uzun kenarım ve iki kısa kenarım var. Ben kimim?

- A) dikdörtgen B) kare C) silindir

15. Cengiz, saat 08.30 da uyandı. Buna göre 1 saat öncesini gösteren saat hangisidir?

- A)  B)  C) 

16. "25" sayısının onluk ve birliklerini gösteren seçenek hangisidir?

- A)  B)  C) 

17. İki deste silginin 7 tanesi satıldı. Geriye kaç silgi kaldı?

- A) 17 B) 15 C) 13

HAYAT BİLGİSİ DERSİ SORULARI

18. "Ayşe'nin babası yaralıları hastaneye taşıyan aracı kullanıyor." Sizce Ayşe'nin babasının mesleği nedir?

- A) kamyon şoförü B) ambulans şoförü C) itfaiye şoförü

19. Aşağıdakilerden hangisi okul kurallarından değildir?

- A) Okul koridorlarında koşmamak.
B) Odamızı toplamak.
C) Sıraları kirletmemek.

Bafra Gazi
İlköğretim Okulu
2 / B Sınıfı
Genel
Değerlendirme
Sınavı - 5

Adı:
Soyadı:

- 1 ☐ A ☐ B ☐ C
- 2 ☐ A ☐ B ☐ C
- 3 ☐ A ☐ B ☐ C
- 4 ☐ A ☐ B ☐ C
- 5 ☐ A ☐ B ☐ C
- 6 ☐ A ☐ B ☐ C
- 7 ☐ A ☐ B ☐ C
- 8 ☐ A ☐ B ☐ C
- 9 ☐ A ☐ B ☐ C
- 10 ☐ A ☐ B ☐ C
- 11 ☐ A ☐ B ☐ C
- 12 ☐ A ☐ B ☐ C
- 13 ☐ A ☐ B ☐ C
- 14 ☐ A ☐ B ☐ C
- 15 ☐ A ☐ B ☐ C
- 16 ☐ A ☐ B ☐ C
- 17 ☐ A ☐ B ☐ C
- 18 ☐ A ☐ B ☐ C
- 19 ☐ A ☐ B ☐ C
- 20 ☐ A ☐ B ☐ C
- 21 ☐ A ☐ B ☐ C
- 22 ☐ A ☐ B ☐ C
- 23 ☐ A ☐ B ☐ C
- 24 ☐ A ☐ B ☐ C
- 25 ☐ A ☐ B ☐ C

Doğru:

Yanlış:

PUAN:

Bafra Gazi
İlköğretim Okulu
2 / B Sınıfı
Genel
Değerlendirme
Sınavı - 5

Adı:
Soyadı:

- 1 ☐ A ☐ B ☐ C
- 2 ☐ A ☐ B ☐ C
- 3 ☐ A ☐ B ☐ C
- 4 ☐ A ☐ B ☐ C
- 5 ☐ A ☐ B ☐ C
- 6 ☐ A ☐ B ☐ C
- 7 ☐ A ☐ B ☐ C
- 8 ☐ A ☐ B ☐ C
- 9 ☐ A ☐ B ☐ C
- 10 ☐ A ☐ B ☐ C
- 11 ☐ A ☐ B ☐ C
- 12 ☐ A ☐ B ☐ C
- 13 ☐ A ☐ B ☐ C
- 14 ☐ A ☐ B ☐ C
- 15 ☐ A ☐ B ☐ C
- 16 ☐ A ☐ B ☐ C
- 17 ☐ A ☐ B ☐ C
- 18 ☐ A ☐ B ☐ C
- 19 ☐ A ☐ B ☐ C
- 20 ☐ A ☐ B ☐ C
- 21 ☐ A ☐ B ☐ C
- 22 ☐ A ☐ B ☐ C
- 23 ☐ A ☐ B ☐ C
- 24 ☐ A ☐ B ☐ C
- 25 ☐ A ☐ B ☐ C

Doğru:

Yanlış:

PUAN:

Bafra Gazi
İlköğretim Okulu
2 / B Sınıfı
Genel
Değerlendirme
Sınavı - 5

Adı:
Soyadı:

- 1 ☐ A ☐ B ☐ C
- 2 ☐ A ☐ B ☐ C
- 3 ☐ A ☐ B ☐ C
- 4 ☐ A ☐ B ☐ C
- 5 ☐ A ☐ B ☐ C
- 6 ☐ A ☐ B ☐ C
- 7 ☐ A ☐ B ☐ C
- 8 ☐ A ☐ B ☐ C
- 9 ☐ A ☐ B ☐ C
- 10 ☐ A ☐ B ☐ C
- 11 ☐ A ☐ B ☐ C
- 12 ☐ A ☐ B ☐ C
- 13 ☐ A ☐ B ☐ C
- 14 ☐ A ☐ B ☐ C
- 15 ☐ A ☐ B ☐ C
- 16 ☐ A ☐ B ☐ C
- 17 ☐ A ☐ B ☐ C
- 18 ☐ A ☐ B ☐ C
- 19 ☐ A ☐ B ☐ C
- 20 ☐ A ☐ B ☐ C
- 21 ☐ A ☐ B ☐ C
- 22 ☐ A ☐ B ☐ C
- 23 ☐ A ☐ B ☐ C
- 24 ☐ A ☐ B ☐ C
- 25 ☐ A ☐ B ☐ C

Doğru:

Yanlış:

PUAN:

Bafra Gazi
İlköğretim Okulu
2 / B Sınıfı
Genel
Değerlendirme
Sınavı - 5

Adı:
Soyadı:

- 1 ☐ A ☐ B ☐ C
- 2 ☐ A ☐ B ☐ C
- 3 ☐ A ☐ B ☐ C
- 4 ☐ A ☐ B ☐ C
- 5 ☐ A ☐ B ☐ C
- 6 ☐ A ☐ B ☐ C
- 7 ☐ A ☐ B ☐ C
- 8 ☐ A ☐ B ☐ C
- 9 ☐ A ☐ B ☐ C
- 10 ☐ A ☐ B ☐ C
- 11 ☐ A ☐ B ☐ C
- 12 ☐ A ☐ B ☐ C
- 13 ☐ A ☐ B ☐ C
- 14 ☐ A ☐ B ☐ C
- 15 ☐ A ☐ B ☐ C
- 16 ☐ A ☐ B ☐ C
- 17 ☐ A ☐ B ☐ C
- 18 ☐ A ☐ B ☐ C
- 19 ☐ A ☐ B ☐ C
- 20 ☐ A ☐ B ☐ C
- 21 ☐ A ☐ B ☐ C
- 22 ☐ A ☐ B ☐ C
- 23 ☐ A ☐ B ☐ C
- 24 ☐ A ☐ B ☐ C
- 25 ☐ A ☐ B ☐ C

Doğru:

Yanlış:

PUAN: