

4.
SINIF



T.C.
MİLLÎ EĞİTİM BAKANLIĞI

KİTAPÇIK TÜRÜ

A

TED ANKARA KOLEJİ VAKFI SEÇME SINAVI
(3'ten 4'e Geçenler)
14 HAZİRAN 2009 Saat: 10.00

Adayın Adı ve Soyadı :
Aday Numarası (T.C. Kimlik No) :

DİKKAT: 1. Soru kitapçıklarını kontrol ederek, baskı hatası olan kitapçığın değiştirilmesi için salon görevlilerine başvurunuz.
2. Soru kitapçığının ön ve arka yüzündeki açıklamaları okuyunuz.
3. Sınavda hesap makinesi, cep telefonu ve çağrı cihazı kullanılması yasaktır. Bu cihazları sınav başlamadan önce salon başkanına teslim ediniz.

CEVAP KÂĞIDI İLE İLGİLİ AÇIKLAMA

1. Cevap kâğıdı üzerine yazacağınız yazı ve yapacağınız işaretlemelerde kurşun kalem kullanmayınız.
2. Cevap kâğıdındaki bilgilerin size ait olup olmadığını kontrol ediniz. Cevap kâğıdı kullanılmayacak durumdaysa veya size ait değilse verilecek yedek cevap kâğıdına, kimliğinizle ilgili bilgileri, salon başkanının açıklamalarına göre yazınız.
3. Kitapçık türünü cevap kâğıdınızın ilgili bölümüne mutlaka işaretleyiniz.
4. Cevap kâğıdında **TÜRKÇE, MATEMATİK ve HAYAT BİLGİSİ** testleri için üç ayrı bölüm bulunmaktadır. Cevaplarınızı cevap kâğıdındaki ilgili sütunlara aşağıdaki örnekte olduğu gibi yuvarlağı, dışına taşımadan işaretleyiniz.
Yanlış karalamalarınızı düzeltirken yuvarlağın içini temizce siliniz.

ÖRNEK KODLAMA:

☐ (A) ☐ (B) ☒ (C) ☐ (D)

SORU KİTAPÇIĞI İLE İLGİLİ AÇIKLAMA

1. Bu soru kitapçığında; **TÜRKÇE testinde 25, MATEMATİK testinde 25 ve HAYAT BİLGİSİ testinde 25** olmak üzere toplam **75** soru bulunmaktadır. Kitapçığın tümü için verilen cevaplama süresi **75** dakikadır.
2. Her sorunun dört seçeneğı vardır. Dört seçenekten sadece bir tanesi doğru cevaptır. Doğru bulduğunuz seçeneğı cevap kâğıdında o soru için ayrılan yerde bularak işaretleyiniz.
3. Size ayrı bir karalama kâğıdı verilmeyecektir. Soru kitapçığının içindeki boş alanları karalama yapmak için kullanabilirsiniz.
4. Cevabını bilmediğiniz sorular üzerinde fazla zaman kaybetmeden diğer sorulara geçiniz. Zamanınız kalırsa bu sorulara daha sonra dönebilirsiniz.
5. Puanlamada her soru grubu için yanlış cevap sayısının **üçte biri, doğru cevap sayısından çıkarılarak** geçerli cevaplara karşı gelen ham puan tespit edilecektir. Bu nedenle rastgele cevaplama yapmayınız.
6. Sınavın bitiminde cevap kâğıdınızı ve soru kitapçığınızı salon sorumlularına teslim etmeyi unutmayınız.

BAŞLAYINIZ DENİLMEDEN SORU KİTAPÇIĞINIZI AÇMAYINIZ.

1.

meşhur	neden
siyah	cümle

Aşağıdaki kelimelerden hangisinin anlam-
daşı bu kutuda yoktur?

- A) Sebep B) Kara
C) Sözcük D) Ünlü

2. Aşağıdakilerin hangisinde karşıt anlamlı
kelimeler bir arada verilmiştir?

- A) Düz - yuvarlak
B) Sert - yumuşak
C) Kızgın - ateşli
D) Mutlu - mutsuz

3. Aşağıdaki kelimelerden hangisi hecelerine
yanlış ayrılmıştır?

- A) Mer - ham - et B) Dost - ça
C) Nö - bet - çi D) Kut - sal - lık

4. “Süt” sözcüğü, aşağıdaki eklerden hangisi-
ni alırsa “süt koymaya yarayan kap” anla-
mını kazanır?

- A) -çü B) -lü C) -lük D) -süz

5. Bütün sevgileri atıp içimden
Varlığımı yalnız ona verdim ben.
Ahmet Kutsi Tecer

Aşağıdaki kelimelerden hangisi bu dizeler-
de, bir adın yerine kullanılmıştır?

- A) Sevgileri B) Varlığımı
C) Yalnız D) Ben

6. “Yaşlı denizci, göz kapaklarını kısarak ufka
baktı.”

Bu cümlede aşağıdaki sorulardan hangisi-
nin cevabı yoktur?

- A) Nasıl? B) Ne zaman?
C) Kim? D) Nereye?

7. Çiçek satan çiçekçi kız

Saçlarına papatyalar takmış

Şarkılar söylüyor bir yandan

Kederli şarkılar

Haydi çiçeklerim var

Behçet Aysan

Yukarıdaki dizelerde altı çizili eklerden
hangisi, varlığın kime ait olduğunu bildir-
mektedir?

- A) -çi B) -lar C) -li D) -m

8. Aşağıdaki sözcükler alfabetik sıraya göre
dizildiğinde en başta hangisi yer alır?

- A) Türkler B) Türkiye
C) Türkçe D) Türkü

9. “k, ı, l, ı, n, r, a, ç, g” harflerinin tümü kul-
lanılarak aşağıdaki kelimelerden hangisi
yazılır?

- A) Kırılğan B) Kırkağaç
C) Kırıntı D) Kırangıç

10. Aşağıdaki hayvanlar, türlerine göre grup-
landırıldığında hangisi bu grubun dışında
kalır?

- A) Geyik B) Güvercin
C) Leylek D) Serçe

11. Aşağıdaki altı çizili kelimelerden hangisi “destekleyici” ya da “açıklayıcı” bir ifade değildir?

- A) Çok şaşırdım, doğrusu bu kadarını beklemiyordum.
- B) Maçı kazanacağız hatta açık bir farkla kazanacağız.
- C) Sinemaya gidelim veya evde film izleyelim.
- D) Size yardımcı olamayacağım, açıkçası bu konuda herhangi bir bilgim yok.

12. “Gün” kelimesi aşağıdaki cümlelerin hangisinde “güneş” anlamında kullanılmıştır?

- A) Haydi gün iyice yükselmeden gidelim.
- B) Bütün gün kitap okudum.
- C) Dün doktordan gün aldım.
- D) Maaşı, günün ihtiyaçlarını karşılamaya yetmiyordu.

13. Aşağıdaki bilmecelerden hangisinin cevabı “karpuz”dur?

- A) Yerin altında kırmızı minare.
- B) Yeşil mantolu, kırmızı entarili, siyah düğmeli.
- C) Ağzı vardır, konuşmaz; yatağı vardır, hiç uyumaz.
- D) Uzaktan baktım bir kara taş, yanına gittim dört ayak bir baş.

14. 1- yağmur
2- su
3- her taraf
4- kaldı
5- yağınca
6- içinde

Numaralandırılmış sözcükler, anlamlı ve kurallı bir cümle oluşturmak için nasıl sıralanmalıdır?

- A) 1 - 2 - 4 - 3 - 6 - 5
- B) 1 - 5 - 3 - 2 - 6 - 4
- C) 2 - 3 - 6 - 1 - 4 - 5
- D) 2 - 4 - 5 - 6 - 1 - 3

15. Evet, geç saatlere kadar kütüphanedeyim ... çalışmayı çok seviyorum.

Yukarıda boş bırakılan yere aşağıdakilerden hangisi getirilirse, cümleler arasında sebep-sonuç ilişkisi kurulmuş olur?

- A) ama
- B) ancak
- C) fakat
- D) çünkü

16. Aşağıdaki “bağ” kelimelerinden hangisi diğer üçüyle sesteş (eş sesli)tir?

- A) Bağa bak, üzüm olsun, yemeye yüzün olsun.
- B) Bağın asmaları tek tek ilaçlandı.
- C) Manavdan iki bağ maydanoz aldım.
- D) Bu bağdan elde edilen üzümün tamamı sirke yapımında kullanıldı.

17. Aşağıdaki cümlelerin hangisinde karşılaştırma vardır?

- A) Bu yıl havalar geçen senekinden daha sıcak.
- B) Yarın bizde toplanıp bir güzel yemek yiyeceğiz.
- C) Yoksulluk, adamcağızın belini büktü.
- D) İstasyon önünde üç ağaç vardı.

18. Koca bir hallaç gibi,
Gökte bulutları atar.

Gittikçe bastırır tipi,
Dünya kar içinde yatar.

Yusuf Ziya Ortaç

Bu dördlükte hangi mevsimden bahsedilmektedir?

- A) Yaz
- B) İlkbahar
- C) Sonbahar
- D) Kış

19. Rengi üzümünden kara
Beli iğneden ince
Bu yükü çıkılır mı
Yokuşlardan karınca
Oktay Rifat

Bu dördlükte karıncayla ilgili olarak aşağıdakilerden hangisine değinilmemiştir?

- A) Siyah renkli olduğuna
B) İnce belli olduğuna
C) Hızlı yürüdüğüne
D) Aşırı yük taşıdığına

20. Bahar geldi, geliyor diyelim. Ama bu bayram şenliğini fark edebiliyor muyuz? Bahar kırlara sığındı, desem; o bile doğru değil. Kırlarımız neredeyse yaprak, ot, çimen, kuş barındırmıyor. Artık çöpler, dağların eteklerine kadar yayılmış.
- Bu parçadan aşağıdaki yargıların hangisine ulaşılır?

- A) Çevre kirliliği doğal zenginliklerimizi yok ediyor.
B) İnsan, yaşı ilerledikçe güzelliklerin daha çok farkına varıyor.
C) Günlük yaşamın koşuşturmacası içinde doğal güzelliklere dikkat edilmiyor.
D) Baharın gelişi, doğanın uyanışını temsil ediyor.

21. Hayatı boyunca, yaşadığı kasabanın dışına hiç çıkmamış bir ihtiyar vardı. Güzel bir hafta sonu, nasıl olduysa, şehri merak etmeye başladı ve "Acaba şehir nasıl bir yer? Gidip bir görsem hiç fena olmaz." dedi.

Bu hikâyedeki altı çizili ifade, hikâyenin hangi ögesidir?

- A) Ana karakter
B) Zaman
C) Yer
D) Olay

22. 1. Oradan Gökova'ya geçecektik.
2. Çünkü ilk kez gemiyle uzun bir geziye çıkıyordum.
3. Gemi ile İzmir'e gidiyorduk.
4. Yolculuk, özellikle benim için çok ilginç olacaktı.

Numaralandırılmış cümleler, anlamlı bir paragraf oluşturmak için nasıl sıralanmalıdır?

- A) 1 - 4 - 3 - 2
B) 2 - 4 - 1 - 3
C) 3 - 1 - 4 - 2
D) 4 - 1 - 2 - 3

23. Eğer kuvvetim yetse benim
Rıhtıma koşarım yalnayak.
Halatlarını bütün gemilerin
Bıçağımla keserim.
Gemiler açılır sallanarak,
Ben de artlarından bakarak
Gülerim.
Bütün kuvvetimle bağırarak
Azat olun gemilerim, azat olun gemilerim!
Cahit Külebi

Bu şiirin ana duygusu aşağıdakilerden hangisidir?

- A) Özgürlük
B) Endişe
C) Ümit
D) Yalnızlık

24. Kırlara gidiyorum
Elimde uçurtmam
Kuşlar bekliyor gökte
Çünkü uçurtmamda
Kuş resimleri var
Canlanacaklar
Ben uçurunca.
Cahit Zarifoğlu

Bu şiire göre aşağıdakilerden hangisi kesinlikle hayal ürünüdür?

- A) Kırlara gitmek
B) Uçurtma
C) Resimlerin canlanması
D) Kuşlar


25. Ali () amcanın geçen hafta aldığı hikâye kitabını okudun mu ()

Bu cümlede boş bırakılan yerlere hangi noktalama işaretleri konulmalıdır?

- A) (,) (.) B) (,) (?)
C) (.) (?) D) (-) (?)

TÜRKÇE TESTİ BİTTİ.
MATEMATİK TESTİNE GEÇİNİZ.

1.



Verilen onluk taban blokları ile aşağıdaki sayılardan hangisi modellenemez?

- A) 105 B) 245 C) 254 D) 330

2. Ayşe, yaz tatilinde gittiği tavuk çiftliğinde gün boyunca 75 yumurta topluyor. Topladığı bu yumurtaları 8'li paketlere yerleştiriyor. En son paketin tamamlanması için kaç yumurtaya daha ihtiyaç vardır?

- A) 2 B) 3 C) 5 D) 8

3. 27 33 39 ■ 51 57

Yukarıdaki sayı örüntüsünde ■ yerine hangi sayı yazılmalıdır?

- A) 45 B) 44 C) 43 D) 41

4. Bir sokaktaki 105 apartman 1'den başlanarak numaralandırılmıştır. Bu sokakta tek sayı ile numaralandırılmış apartmanların sayısı kaçtır?

- A) 51 B) 52 C) 53 D) 54

5. Aşağıdaki eşleştirmelerden hangisi yanlıştır?

- A) XII \longleftrightarrow 12 B) III \longleftrightarrow 3
C) V \longleftrightarrow 5 D) IV \longleftrightarrow 6

6. Aşağıdakilerden hangisi 960'tan çıkarıldığında fark 305'ten küçük olur?

- A) 650 B) 653 C) 655 D) 656

7. Berra, 1 haftada 956 sayfalık bir kitap okumuştur. Hafta içinde kitabın 328 sayfasını okuduğuna göre, hafta sonu kaç sayfa okumuştur?

- A) 518 B) 628 C) 638 D) 648

8. Aşağıdaki işlemlerden hangisinin sonucu 321'den büyüktür?

- A) 2×100 B) 3×100
C) 32×10 D) 34×10

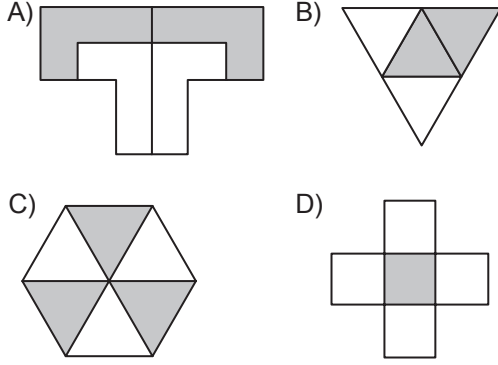
9. 1 saat koşulduğunda 490 kalori, 1 saat yürüyüş yapıldığında 290 kalori yakılıyor. Sabah sporunda Ali 2 saat koşarken, Canan 2 saat yürüyor. Ali, Canan'dan kaç kalori fazla yakmıştır?

- A) 200 B) 400 C) 600 D) 800

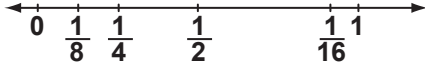
10. Bir sınıftaki 10 öğrenci aralarında sekizer lira toplayıp iki arkadaşlarına hediye almak istiyorlar. Alınacak hediyelerin fiyatları aynı olacağına göre, bu hediyelerden birinin fiyatı en fazla kaç TL olabilir?

- A) 20 B) 30 C) 40 D) 80

11. Aşağıda eş parçalara ayrılmış modellerden hangisindeki boyalı bölge, bir birim kesir belirtir?



12.



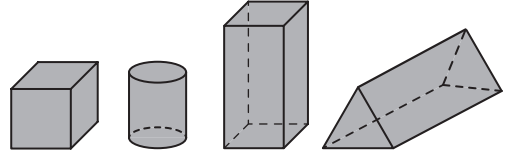
Verilen sayı doğrusunda hangi kesir yanlış yerdedir?

- A) $\frac{1}{16}$ B) $\frac{1}{8}$ C) $\frac{1}{4}$ D) $\frac{1}{2}$

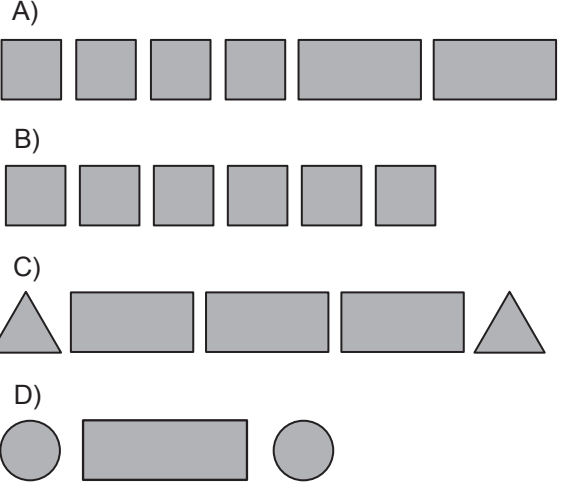
13. 40 kişinin katıldığı bir koşuda, koşucuların $\frac{1}{8}$ 'i kurallara uymadıkları için yarıştan çıkarılmıştır. Kalan koşucuların $\frac{4}{5}$ 'ü yarışı tamamladığına göre, bu yarışı tamamlayan kaç koşucu vardır?

- A) 26 B) 28 C) 30 D) 34

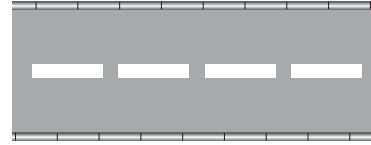
14.



Aşağıdakilerden hangisindeki dülemsel yüzeyler kullanılarak, yukarıda verilen geometrik cisimlerden biri oluşturulamaz?




15.



Verilen yoldaki beyaz şeritlerden her biri aşağıdakilerden hangisinin bir modelidir?

- A) Doğru B) Doğru parçası
C) Işın D) Nokta

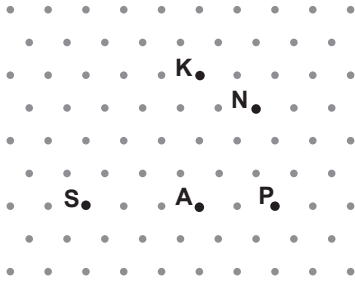
16.



Yukarıdaki yakıt göstergesindeki ok, depo dolu iken F harfini göstermektedir. Depo boşaldıkça E harfine doğru hareket eden ok, depo tamamen boşaldığında E harfini göstermektedir. Bu hareketi sırasında, ok ile kalın çizgi arasında sırasıyla hangi açılar oluşur?

- A) Doğru - geniş - dar
- B) Geniş - dik - dar
- C) Geniş - doğru - dik
- D) Doğru - dik - dar

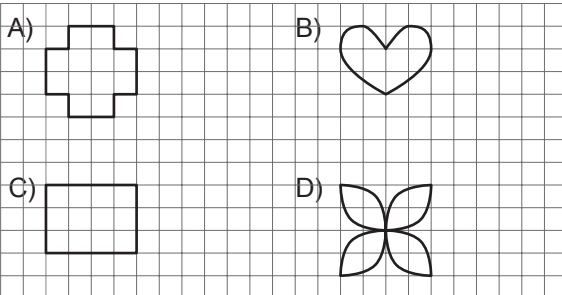
17.




Şekildeki izometrik kâğıt üzerinde bazı noktalar adlandırılmıştır. Aşağıdaki hangi iki noktadan geçen doğru çizilirse, eğik doğru modeli oluşur?

- A) A ve K
- B) A ve S
- C) A ve N
- D) A ve P

18. Aşağıdaki şekillerden hangisinin yalnız bir simetri doğrusu vardır?



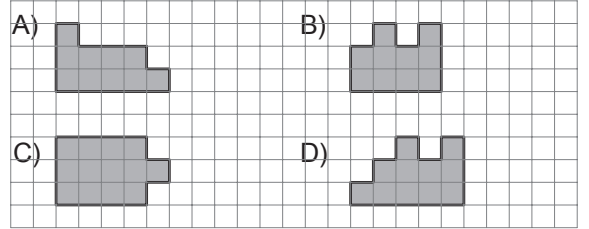
19.



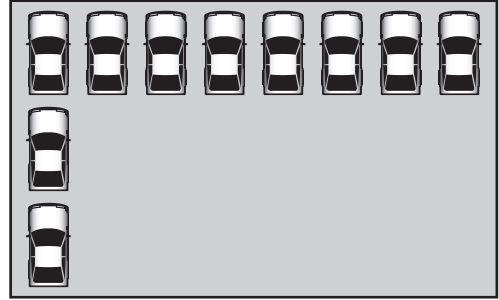
Yukarıdaki öğrenciler aralarında 2 m 20 cm mesafe olacak şekilde sıralanmıştır. Sıranın başındaki öğrenci ile sonundaki öğrenci arasındaki mesafe ne kadardır?

- A) 13 m 20 cm
- B) 12 m 20 cm
- C) 11 m
- D) 10 m

20. Aşağıdaki düzlemsel şekillerden hangisinin çevre uzunluğu en fazladır?



21.




Yukarıda bir otomobil fabrikasının ürettiği aynı model otomobillerin park edildiği alan görülmektedir. Bu alana en çok kaç otomobil park edilebilir?

- A) 24
- B) 27
- C) 28
- D) 30

22. Leyla'nın 5 TL'si vardır. Tanesi 40 Kr olan şekerlerden 5 tane, tanesi 55 Kr olan gofretlerden 4 tane alırsa, Leyla'nın geriye kaç kuruşu kalır?

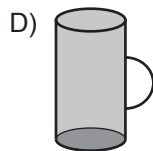
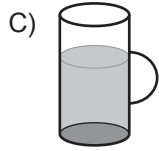
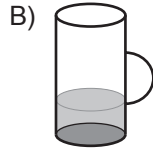
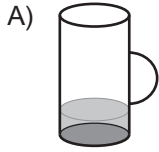
A) 20 B) 40 C) 60 D) 80

23. Duvar saati Aynur Hanım'ın keki fırına koyduğu zamanı göstermektedir. Yarım saatte pişen bu kek fırından saat kaçta çıkartılmalıdır?



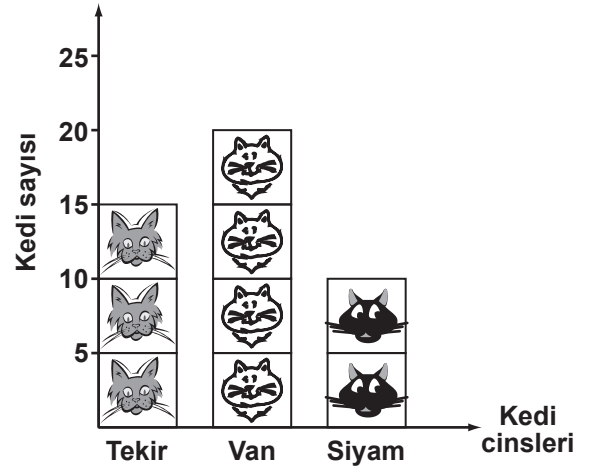
A) 9.05
B) 9.10
C) 9.15
D) 9.20

24. Aşağıdaki sürahilerden her biri 1 litre su almaktadır. Hangisinde yarım litreden fazla, 1 litreden az su vardır?



25.

Grafik: Kedi Çiftliğindeki Kedilerin Cinsleri ve Sayıları



Not: Her şekil 5 kediye göstermektedir.

Verilen şekil grafiğine göre, aşağıdakilerden hangisi doğrudur?

- A) Van kedilerinin sayısı, tekirlerin sayısından 5 fazladır.
B) Van kedilerinin sayısı, tekir ve siyamların toplam sayısı kadardır.
C) Toplam 40 tane kedi vardır.
D) Çiftlikte 4 cins kedi vardır.

MATEMATİK TESTİ BİTTİ.
HAYAT BİLGİSİ TESTİNE GEÇİNİZ.


1.

Arkadaşlar! Atatürk'ün kendisine doğum günü olarak seçtiği tarihi biliyor musunuz?



- A) 29 Ekim
C) 19 Mayıs
B) 23 Nisan
D) 30 Ağustos

2.



Emre "Ulusal Egemenlik ve Çocuk Bayramı" yazılı zarfa, o günle ilgili aşağıdaki bilgi kartlarından hangisini koymas gerektiğinden emin değil.

Ona, kart seçiminde yardımcı olmak ister misiniz?

- | | |
|--|---|
| A) Mustafa Kemal, Kurtuluş Savaşı'nı başlatmak için 19 Mayıs 1919'da Samsun'a çıktı. | B) Ne mutlu! Ankara'da Türkiye Büyük Millet Meclisi açıldı! |
| C) Mustafa Kemal cumhuriyeti ilan etti. Kutlu olsun! | D) Başkumandan Meydan Savaşı kazanıldı. |

3. Türk milletinin her ferdinin okur - yazar olmasını isteyen Atatürk, bunun için, aşağıdaki inkılaplardan hangisini yapmıştır?

- A) Harf inkılabını
B) Kılık kıyafet inkılabını
C) Kadın hakları inkılabını
D) Soyadı inkılabını

4.

Ona;
"Ordu yok!" dediler; "Kurulur!" dedi.
"Para yok!" dediler; "Bulunur!" dedi.
"Düşman çok!" dediler; "Yenilir!" dedi.
ve
bütün dedikleri gerçekleşti!

Yukarıdaki metinde, Atatürk'ün görülen kişilik özelliği, aşağıdaki cümlelerden hangisi ile ifade edilebilir?

- A) Alçak gönüllü ve hoşgörülüdür.
B) Zeki ve çalışkandır.
C) Bilim ve sanata önem verir.
D) Zorluklar karşısında yılmaz.

5. I- Cumhuriyet Bayramı

II- Zafer Bayramı

III- Ulusal Egemenlik ve Çocuk Bayramı

Yukarıda verilen millî bayramlarımızdan hangilerini eğitim - öğretim yılı içinde kutlarız?

- A) I - II
C) II - III
B) I - III
D) I - II - III

6.



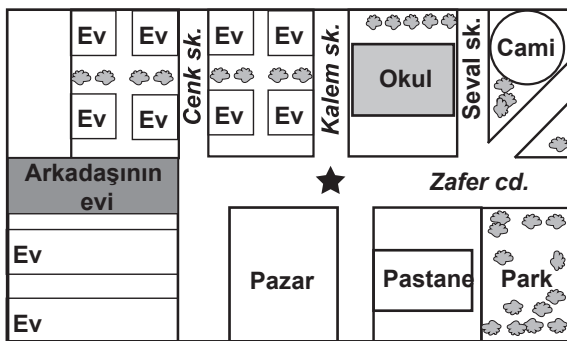
Haritada kaç numaralı yer Türkiye'yi göstermektedir?

- A) 1 B) 2 C) 3 D) 4

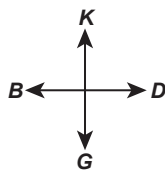
7. Şiddetli bir deprem sırasında aşağıdaki-
lerden hangisini yapmamız hayatta kalma
şansımızı artırır?

- A) Hızla merdivenlere koşup burada beklememiz
B) Salonun ortasında ayakta durmamız
C) Balkonda sarsıntının geçmesini beklememiz
D) Çamaşır makinesi gibi ağır bir eşyanın
dibine çökmemiz

8.



★ ile gösterilen yerde bulunan Birol, arkadaşının evine en kısa yoldan gitmek için hangi yönde hareket etmelidir?



- A) Kuzey
B) Güney
C) Doğu
D) Batı

9. Aşağıdaki özelliklerden hangisine sahip olmak insanların güvenini kazanmamızda etkili olur?

- A) Yanlı davranmak
B) Çabuk öfkelenmek
C) Dürüst olmak
D) Farklılıkları yadırgamak

10. Aşağıdakilerden hangisi karşılaştığımız sorunların çözümüne katkı sağlamaz?

- A) Sorunu tanımlamak.
B) Sorunu görmezden gelmek.
C) Uygulanabilir çözüm yolları üretmek.
D) Farklı görüşlerden yararlanmak.

11. Aşağıdakilerden hangisi öncelikle devlete karşı olan sorumluluklarımızdandır?

- A) İnsanlara saygılı davranmak.
B) Dengeli beslenmek.
C) Arkadaşlarımıza yardım etmek.
D) Yasalara uygun davranmak.

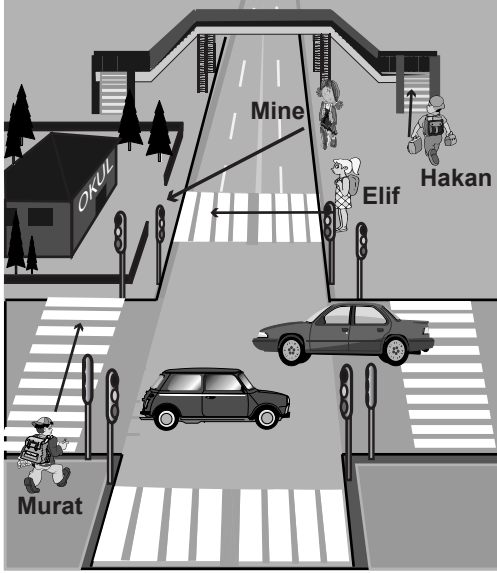
12. Cumhuriyet yönetiminde ülkeyi yönetecek kişiler aşağıdakilerin hangisi tarafından belirlenir?

- A) Halk
C) Belediyeler
- B) Mahkemeler
D) Eğitim kurumları

13. Aşağıdakilerden hangisi görgü kurallarına uygun bir davranış değildir?

- A) Otobüste yaşlılara yer vermek.
B) Misafirlere ikramda bulunmak.
C) İzinsiz eşya kullanmak.
D) Taşıma araçlarına sırayla binmek.

14.



Resimde Hakan, Mine, Elif ve Murat'ın okul-
larına giderken izledikleri yollar verilmiştir.

Hangisi trafik kurallarına aykırı davranmak-
tadır?

- A) Murat B) Elif
C) Mine D) Hakan

15. Banu, öğretmenin verdiği “Bulaşıcı has-
talıklar hangileridir?” konulu araştırma
ödevini uzmanından bilgi alarak hazırlamak
istiyor.

Banu konu uzmanı olarak hangisinden ken-
disine yardımcı olmasını istemelidir?

- A) Doktor B) Trafik polisi
C) Şoför D) Kapıcı

16. Ataberk evde elektrikten tasarruf etmek
istiyor.





Hangisi bu tasarrufa uygun bir davranış
olmaz?

- A) Gereksiz olan lambaları kapatmak
B) Televizyonu gereksiz yere açık tutmak
C) Ütü gerektirmeyen giysiler kullanmak
D) Müzik setini dinlemediği zamanda kapat-
mak






17. Evde kazalara sebep olmamak için hangisi
ile oynamalıyız?

- A) Saç kurutma makinesi
B) Makas
C) Bıçak
D) Oyuncak

18. Aşağıdakilerden hangisi sesli iletişim aracı-
mızdır?









- A)  Telefon
B)  Mektup
C)  Telgraf
D)  GAZETE

19.

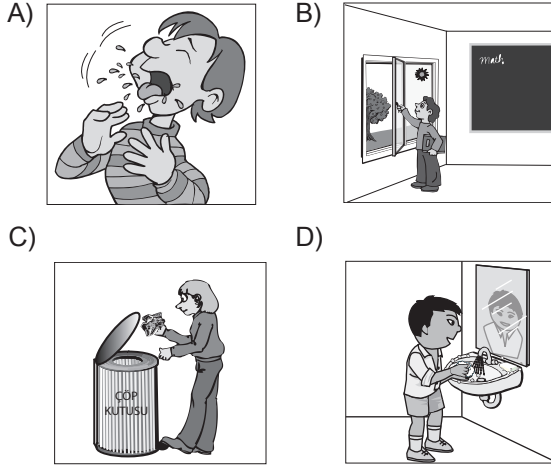
	1. gün	2. gün	3. gün	4. gün	5. gün	6. gün	7. gün
Gündüz	I			II			
	15°C	11°C		15°C	20°C	20°C	

Aslı bulunduğu yerin bir haftalık hava tah-
min çizelgesini tutarak yukarıdaki tabloyu
hazırlıyor. I ve II'yi ise boş bırakıyor. Hafta
başında havanın güneşli ve 17 °C olduđu-
nu hafta ortasında ise sağanak yağışlı ve
10 °C olduğunu söylüyor.

Boşluklar hangi seçenekteki gibi doldurdu-
ğunda tablo doğru tamamlanmış olur?

- A)  17°C  10°C
B)  17°C  10°C
C)  17°C  10°C
D)  17°C  10°C


20. Aşağıdakilerden hangisi, sağlıklı yaşam için yanlış bir davranıştır?



21. Serdar ve Selçuk okulda oyun oynarken, Selçuk yere düşünce kolu yaralanmıştır. Arkadaşları çevrelerine toplanmıştır. Serdar bu durumda öncelikle ne yapmalıdır?

- A) Selçuk'un kolundaki yarayı sarmalıdır.
- B) Selçuk'u hastaneye götürmelidir.
- C) Sakin olup, kalabalığı dağıtmalıdır.
- D) Yardım çağırmalıdır.


22.



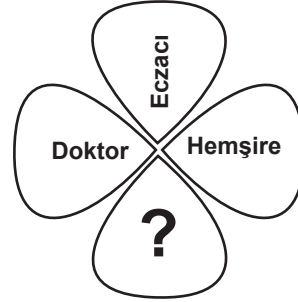
Resimdeki kişiler, işaretlerle anlaşıyorlar. Bunun sebebi aşağıdakilerden hangisi olabilir?

- A) Gözlerinin görmemesi
- B) İşitme engelli olmaları
- C) Koku alamamaları
- D) Dokunma duyusunun gelişmesi

23. Aşağıdaki resimde Ayşe'nin yüz ifadesi nasıl olmalıdır?




24.



Şekilde, bir hastanede çalışanlardan bazıları verilmiştir. Buna göre "?" yerine aşağıdakilerden hangisi yazılabilir?

- A) Hasta bakıcı
- B) Çiftçi
- C) Hakim
- D) Gazeteci

25.



Şekildeki canlılar ile ilgili olarak aşağıda verilen besinler eşleştirildiğinde hangi besinin eşi yoktur?

- A) Yumurta
C) Süt

- B) Mısır
D) Un

TEST BİTTİ.
CEVAPLARINIZI ONTROL EDİNİZ.

Soracağınız bir şey var mı? Varsa, şimdi sorunuz; sınav başladıktan sonra sorularınıza cevap verilmeyecektir. Hazır mısınız? Sınav, okulun bütün salonlarında aynı anda başlayacağı için başlama zilini beraberce bekleyelim. Hepinize başarılar dileriz.
(Salon başkanı başlama ve bitiş saatini tahtaya yazacaktır.)

Bu kitapçığın her hakkı saklıdır. Hangi amaçla olursa olsun, kitapçığın tamamının veya bir kısmının Millî Eğitim Bakanlığı Eğitim Teknolojileri Genel Müdürlüğünün yazılı izni olmadan kopya edilmesi, fotoğraflarının çekilmesi, bilgisayar ortamına alınması, herhangi bir yolla çoğaltılması, yayımlanması veya başka bir amaçla kullanılması yasaktır. Bu yasağa uymayanlar, doğabilecek cezai sorumluluğu ve kitapçığın hazırlanmasındaki mali külfeti peşinen kabullenmiş sayılır.

TÜRKÇE	MATEMATİK	HAYAT BİLGİSİ
1. C	1. C	1. C
2. B	2. C	2. B
3. A	3. A	3. A
4. C	4. C	4. D
5. D	5. D	5. B
6. B	6. D	6. C
7. D	7. B	7. D
8. C	8. D	8. D
9. D	9. B	9. C
10. A	10. C	10. B
11. C	11. D	11. D
12. A	12. A	12. A
13. B	13. B	13. C
14. B	14. A	14. C
15. D	15. B	15. A
16. C	16. B	16. B
17. A	17. C	17. D
18. D	18. B	18. A
19. C	19. C	19. C
20. A	20. D	20. A
21. B	21. A	21. C
22. C	22. D	22. B
23. A	23. A	23. C
24. C	24. C	24. A
25. B	25. A	25. B