



ÖZEL DENEME

TÜRKÇE TESTİ

- 1- "Eksik" sözcüğü aşağıdakilerin hangisinde "bir bölümü olmayan" anlamında kullanılmıştır?

A) Bu yemeğin tek eksiği, tuzunun az olması.
B) Okul eksiklerini gidermek için buradayız.
C) Burada kavgalar da hiç eksik olmuyor.
D) Bu kitap eksik, baş tarafı yok.

- 2- "Çevirmek" sözcüğü aşağıdakilerden hangisinde "yönetmek, idare etmek" anlamında kullanılmıştır?

A) Kitabın sayfalarını yavaş yavaş çeviriyor.
B) Haberleri dinlemek için radyonun düğmesini çevirdi.
C) Küçük yaşına rağmen şirketteki bütün işleri o çeviriyordu.
D) O, dilimize İngilizceden romanlar, öyküler çevirir.

3-



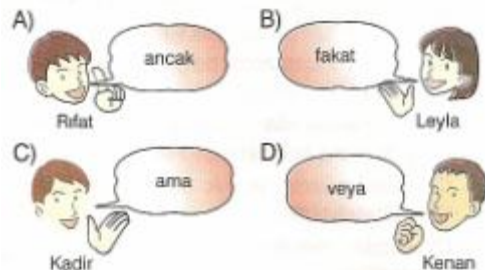
Yukarıda boş bırakılan yere aşağıdakilerden hangisi getirilirse özelden genele bir sıralama olur?

A) Varlık B) Bitki C) Armut D) Elma

4-

"Söyledim dinletemedim."

Dört arkadaş yukandaki cümleyi doğru tamamlama oyunu oynar. Yanlış yapan elenecektir. Buna göre hangisi elenmiştir?



5-

Aşağıdakilerin hangisinde edat kullanılmıştır?

- A) Ayın ortası gibi borcumu ödeyeceğim.
- B) Olayların yalnız kötü taraflarını görmeyin.
- C) Manavdan iri iri çilekler aldım.
- D) Ben gelene kadar evi güzelce temizle.

6-

Aşağıdaki cümlelerde altı çizili kelimelerden hangisinin yazımı yanlıştır?

- A) Tarihi mekânları gezmek için bir kılavuza ihtiyacımız var.
- B) Arabanın söförü bana hiç yabancı gelmiyordu.
- C) Sınavda kopya çeken öğrencilere öğretmen ceza verdi.
- D) Çocuklar, ağaçtaki meyveleri taşıyorlardı.

7-



Satranç oyununda en güçlü taş vezirdir. Vezir hem bir kale gibi ileri geri, sağa sola hareket edebilir hem de bir fil gibi çapraz olarak dört yöne gidebilir. Bu yönüyle vezir, birden fazla yeteneği olan insanları andırır.

Parçada aşağıdaki edebî sanatlardan hangisine başvurulmuştur?

- A) Kişileştirme
- B) Benzetme
- C) Konuşturma
- D) Abartma

8-

Aşağıdaki cümlelerin hangisinde virgül yanlış kullanılmıştır?

- A) O, en sevdiğim romandır.
- B) Bu, çok iyi bir kaleci.
- C) Şu, kalemleri sana aldım.
- D) Öteki, benim kıyafetime daha uygun.

9-

1911 yılında Giresun - Görele'de doğdum. Resim öğrenimine Güzel Sanatlar Akademisinde başladım. Mezun olmadan, 1931'de Fransa'ya gittim. Daha sonra benim gibi ressam olan eşimle evlendim. 1936'da Türkiye'ye döndüm. Çizdiğim resimlerle birçok başarıya imza attım.

Parçanın türü aşağıdakilerden hangisidir?

- A) Otobiyografi
- B) Biyografi
- C) Gezi yazısı
- D) Deneme

10-

Güzel yurdum, dağlarım

1

Uzaktan göresim gelir

2

Keskin esen yellerine

3

Kendimi veresim gelir.

4

Dörtlükte numaralanmış sözcüklerden hangisi zamirdir?

- A) 1
- B) 2
- C) 3
- D) 4

11-

Aşağıdaki cümlelerin hangisinde yazım yanlışı yapılmamıştır?

- A) 1 Nisan 1983'de dünyaya gelmiş.
- B) Benim ne demek istediğimi anlıyamamıştı.
- C) Özür dilememe rağmen beni af etmedi.
- D) TBMM'de bugün toplantı vardı.

12-

Yemek saatinde burada kimseyi bulamazsınız.

"Saat" sözcüğü aşağıdakilerin hangisinde bu cümledeki anlamıyla kullanılmıştır?

- A) Ödevlerimi iki saatte bitiririm.
- B) İstanbul - Ankara arası beş saattir.
- C) Ceketinin cebinde köstekli bir saat vardı.
- D) Tren, saati gelince hareket edecekmış.

13-

Aşağıdakilerin hangisinde altı çizili sözcük sıfat (ön ad) olarak kullanılmıştır?

- A) Keskin sirke kúpüne zarardır.
- B) Kör pazara varmasın, pazar körsüz kalmasın.
- C) Tok ne bilir aç hâlimden?
- D) Yaş yetmiş, iş bitmiş.

14- "Genç" sözcüğü aşağıdaki cümlelerin hangisinde isim olarak kullanılmıştır?

- A) O, genç yaşta edebiyat çevrelerinde tanındı.
- B) Filmin başrol oyuncusu genç ve uzun boyluydu.
- C) Müdür koltuğunda genç biri oturuyordu.
- D) Yaşına göre oldukça genç görünüyordu.

15- Bastığın yerleri "toprak!" diyerek geçme tanı
Düşün altındaki binlerce kefensiz yatani
Sen şehit oğlusun, incitme yazıktır atanı
Verme dünyaları alsan da bu cennet vatani.

Dörtlükteki altı çizili sözcüklerin türü aşağıdakilerin hangisinde sırasıyla verilmiştir?

- A) Fiil - Zamir - Zamir
- B) Fiil - Zamir - Zarf
- C) Fiil - Zarf - Zamir
- D) Fiil - Zamir - Sıfat

16- Aşağıdaki cümlelerin hangisinde sıfat tamlaması kullanılmamıştır?

- A) Tencere dibin kara sesinki benden kara.
- B) Kuduz köpek önce sahibini ısırır.
- C) Her horoz kendi çöplüğünde öter.
- D) Bir gemide iki kaptan olmaz.

17- "İçin" sözcüğü aşağıdakilerin hangisine farklı bir anlam katmıştır?

- A) Doğum gününe gelemediğim için üzgünüm.
- B) Öğretmenini sevdiği için ders çalışıyor.
- C) Annem geç kaldığım için telaşlanmış.
- D) Sınava yetişmek için koşmaya başladı.

18-

Kırk dokuz yıl bu yollarda
Ovada dağda çöllerde
Düşmüşüm gurbet ellerde
Gidiyorum gündüz gece

Dörtlükte geçen altı çizili sözcükle türce özdeş bir sözcük aşağıdakilerin hangisinde vardır?

- A) İçimde hâlâ orali duygular var.
- B) Sevgi, insan duygularının en güzeli.
- C) İnsanları sadece insan olduğu için sevmeliyiz.
- D) Dil kusurlu olursa sözcükler düşünceyi iyi anlatamaz.

19-

Hangi cümlede "boya" sözcüğü isim göreviyle kullanılmıştır?

- A) Şu ayakkabılarımı güzelce boya.
- B) Evin bütün odaları boya içinde kalmış.
- C) Önce evi boya, sonra paranı al.
- D) Boya ama renklerin uyumuna da dikkat et.

20-

Aşağıdakilerin hangisinde zamir, bir sıfat tarafından nitelenmiştir?

- A) Alt kata taşınan komşumuz çalışkan biridir.
- B) Sen, herkesi kendin gibi mi zannediyorsun?
- C) Bugünlerde hiç kimse beni anlamak istemiyor.
- D) Kimse onun dediklerine inanmasın.

21-

Aşağıdaki cümlelerin hangisinde ünlem yoktur?

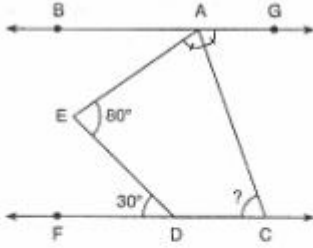
- A) Eyvah, bardak kırıldı
- B) Vay canına, arabaya bak
- C) Yaşamayı çok seviyordu
- D) Hey, kırmızı ışıktaki geçmesene

MATEMATİK TESTİ

- 1- $-\frac{3}{4}$ ün toplamaya göre tersi a dır. a nın çarpmaya göre tersi b ise, aşağıdakilerden hangisi yanlıştır?

- A) $a + b = 2\frac{1}{12}$ B) $a \cdot b = 1$
C) $a - b = -\frac{7}{12}$ D) $a : b = -\frac{9}{16}$

2-



Yukandaki şekilde; $BG \parallel FC$, $[AC]$ \widehat{EAG} nın açıortayı, $m(\widehat{AED}) = 80^\circ$ ve $m(\widehat{EDF}) = 30^\circ$ ise, $m(\widehat{ACD})$ kaç derecedir?

- A) 45 B) 55 C) 65 D) 75

- 3- Bir bilgi yarışmasında doğru cevaplar için 5 puan verilirken yanlış cevaplar için 3 puan düşürülmektedir.

Birinci olan grubun x tane doğrusu olmak üzere; yanlış sayısı doğru sayısının yarısından 4 eksik ise grubun puanını veren ifade aşağıdakilerden hangisidir?

- A) $x - 3(x - 4)$ B) $3\left(\frac{x}{2} - 4\right) - 5x$
C) $5x - 3\left(\frac{x - 4}{2}\right)$ D) $5x - 3\left(\frac{x}{2} - 4\right)$

4-

$$\frac{(-1)^0 - (-1)^{11} + (-1)^{10}}{101 - 102}$$

İşleminin sonucu kaçtır?

- A) 3 B) 1 C) -1 D) -3

5-

$$\begin{aligned} x \cdot y^4 &> 0 \\ y^3 \cdot z^2 &> 0 \\ x \cdot y^2 \cdot z^3 &< 0 \end{aligned}$$

olduğuna göre, aşağıdakilerden hangisi kesinlikle doğrudur?

- A) $x - z < 0$ B) $y + z > 0$
C) $x \cdot z < 0$ D) $x - y < 0$

6-

$$2 + \frac{5}{3 - \frac{8}{x}} = 7 \text{ ise, } x \text{ kaçtır?}$$

- A) 2 B) 4 C) 6 D) 8

7-

$$\frac{(1 - \frac{1}{2}) - (1 - \frac{1}{2} - \frac{1}{3})}{(7 - \frac{1}{8} - \frac{1}{9}) - (7 - \frac{1}{8})}$$

Yukarıdaki işlemin sonucu kaçtır?

- A) -9 B) -3 C) 3 D) 9

- 8- 8 kişilik bir sınıfta yapılan doğum günü kutlamasında, Kerem pastanın $\frac{1}{20}$ ini, Merve $\frac{1}{5}$ ini ve Esra $\frac{1}{4}$ ini yemiş, geri kalan kısmını ise diğer arkadaşlar eşit olarak paylaşmışlardır.

Diğerlerinden her biri 150 gram pasta yediğine göre, Esra Kerem'den kaç gram fazla pasta yemiştir?

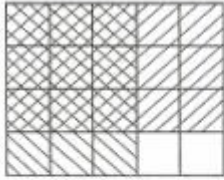
- A) 75 B) 150 C) 300 D) 375

- 9- Bir sınıfta öğrenciler sıralara 2 şer 2 şer otururlarsa 8 kişi ayakta kalmakta, 3 er 3 er otururlarsa 2 sıra boş kalmaktadır.

Buna göre, sıra sayısını veren denklem aşağıdakilerden hangisidir?

- A) $2x + 8 = 3 \cdot (x - 2)$ B) $\frac{x-8}{2} = \frac{x}{3} - 2$
C) $2x - 3x + 2 = 8$ D) $\frac{x}{2} + 8 = \frac{x-2}{3}$

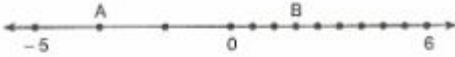
10-



Yanda modellenen çarpma işlemi aşağıdakilerden hangisidir?

- A) $\frac{3}{4} \cdot \frac{3}{5}$ B) $\frac{4}{3} \cdot \frac{3}{5}$
C) $\frac{9}{20} \cdot \frac{20}{12}$ D) $4 \cdot \frac{3}{5}$

11-

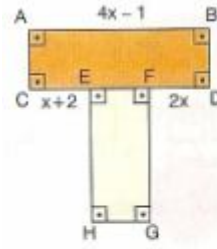


Yukarıda verilen sayı doğrusunda 0 ile -5 arası üç eş parçaya, 0 ile 6 arası dokuz eş parçaya ayrılmıştır.

Buna göre, $A - B$ işleminin sonucu aşağıdakilerden hangisidir?

- A) $-\frac{16}{3}$ B) $-\frac{8}{3}$ C) $-\frac{16}{9}$ D) $\frac{20}{9}$

12-



Şekildeki eş dikdörtgenlerden birinin alanını veren cebirsel ifade aşağıdakilerden hangisidir?

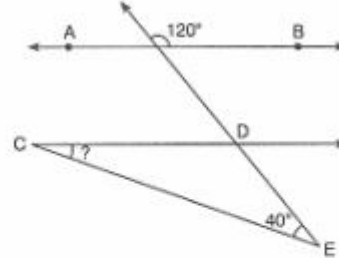
- A) $2x - 13x + 3$ B) $2x - 3x + 3$
C) $4x^2 - 3x - 3$ D) $4x^2 - 13x + 3$

13-

$1 - \frac{1}{4} + \square \cdot \frac{3}{4}$ işleminde \square yerine aşağıdakilerden hangisi gelirse işlemin sonucu bir tam sayı olmaz?

- A) 7 B) 3 C) -5 D) -6

14-



Yukarıdaki şekilde; $AB \parallel CD$ olduğuna göre, $m(\widehat{ECD})$ kaç derecedir?

- A) 10 B) 20 C) 30 D) 40

15-

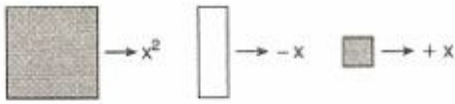


Yukarıda verilen sayı doğrusunda her harf bir tam sayıya karşılık gelmektedir.

Buna göre, aşağıdakilerden hangisi yanlıştır?

- A) $|A + C| < |A| + |C|$
B) $\frac{A}{B} = C$
C) $A \cdot B > C$
D) $|A \cdot C + B| = 10$

16-



olmak üzere;



şeklinde modellenen işlemin cebirsel ifadesi aşağıdakilerden hangisidir?

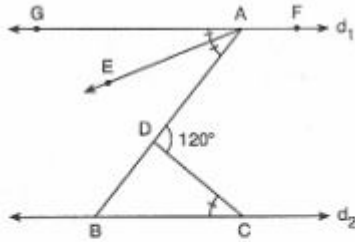
- A) $(2x + 1) \cdot (x + 2)$ B) $(2x - 2) \cdot (x - 1)$
 C) $(2x - 1) \cdot (x - 2)$ D) $(x + 2) \cdot (x - 1)$

17-

a, b ve c tam sayılar olmak üzere $a \cdot b = 24$
 $b \cdot c = 36$ ise, $a + b + c$ nin alabileceği en küçük değer kaçtır?

- A) 23 B) 16 C) -16 D) -61

18-



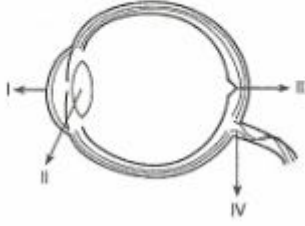
Yukarıdaki şekilde; $d_1 // d_2$ dir.

$m(\widehat{GAE}) = m(\widehat{EAB}) = m(\widehat{BCD})$ ise $m(\widehat{BAF})$ kaç derecedir?

- A) 60 B) 80 C) 100 D) 120

FEN BİLGİSİ TESTİ

- 1- Aşağıdaki şekilde gözde bulunan bazı bölümler numaralandırılmıştır.



Numaralandırılmış bölümlerde gerçekleşen olaylarla ilgili aşağıda verilenlerden hangisi yanlıştır?

Bölüm no	Gerçekleşen olay
A) I	Işığın kırılması
B) II	Almaçların uyarılması
C) III	Ters görüntü oluşumu
D) IV	Uyarı taşınımı

- 2- Aşağıda bazı bireylerin duyu organlarında gözlenen problemler verilmiştir.

Bu bireylerin çevreleriyle uyum sağlayabilmelerinde veya duyu organlarındaki algılamının güçlendirilmesinde etkili olan yöntemler, aşağıdakilerin hangisinde doğru olarak verilmiştir?

Birey ve problemi	Yöntem
A) Ayla Gözü yakını göremiyor.	Lens kullanımı
B) Mahmut Kulakları duymuyor.	Wireless teknolojinin kullanımı
C) Serpil Kulağı az duyuyor.	Braille alfabesinin kullanımı
D) Ali Gözleri görmüyor.	İşaret dili kullanımı

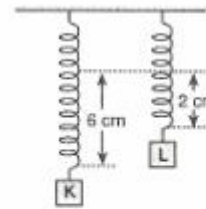
3-

- ▲ → Besinlerin dişler yardımıyla parçalanması
- → Yağların safra sıvısı ile parçalanması
- → Proteinli besinlerin mide öz suyu ile parçalanması
- * → Karbonhidratlı besinlerin tükürük sıvısı ile parçalanması
- ✱ → Bazı besinlerin pankreas öz suyu tarafından parçalanması

Yukarıda sembollerle gösterilen sindirim olaylarından hangileri mekanik, hangileri ise kimyasal sindirimdir?

Mekanik sindirim	Kimyasal sindirim
A) ▲, ●, *	■, ✱
B) *, ●	■, ▲, ✱
C) ▲, ■	●, *, ✱
D) ✱, ▲, ■	*, ●

4-

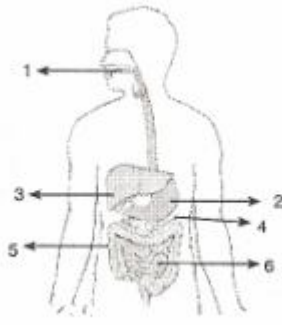


Özdeş yaylara asılan K ve L cisimleri yayları şekildeki gibi uzatıyor.

K ve L cisimleri aşağıdakilerden hangisindeki gibi asılırsa yere göre potansiyel enerjileri birbirine eşit olur?

A)	B)
C)	D)

5-




Yukarıdaki şekilde, sindirimde görev alan organlar numaralarla gösterilmiştir.

Buna göre aşağıdakilerden hangisi söylemez?

- A) 3 ve 4 sindirime yardımcı organlardır.
- B) 1, 2, ve 6'da kimyasal sindirim gerçekleşir.
- C) 3 ve 4 yağların sindiriminde etkilidir.
- D) 5 ve 6 sindirilen besinlerin kana emildiği kısımdır.

6-



Bir okulda yapılan göz muayenesi sonucunda öğrencilerin sağlık durumlarının grafikteki gibi olduğu görülmüştür.

Buna göre aşağıdakilerden hangisi söylemez?

- A) Öğrencilerin %1'inin hastalığı tedavi edilemez.
- B) Öğrencilerin %9'u cisimleri bulanık görür.
- C) Uzağı net göremeyenlerin oranı, yakını net göremeyenlerden azdır.
- D) Öğrencilerden %30'unda görüntü, san lekenin önünde oluşur.

7-

1. Almaç hücresi
2. Omurilik
3. Bacak siniri
4. Bacak kası

Ayağına iğne batınca bacağını hızlıca çeken bir bireyde yukarıda verilen yapılar hangi sıraya göre uyarılır?

- A) 3 - 2 - 1 - 4
- B) 1 - 4 - 3 - 2
- C) 1 - 3 - 2 - 4
- D) 4 - 1 - 3 - 2

8-

Bir öğrenci denetleyici ve düzenleyici sistemler konusunda öğrendiği bazı organların görevleriyle ilgili olarak aşağıdaki tabloyu hazırlıyor.

Görevleri	Organlar		
	X	Y	Z
Kan basıncını ve vücut sıcaklığını ayarlar.	✓		
Beyin ile omurilik arasındaki bağlantıyı sağlar.		✓	
Kol ve bacak kaslarının uyumlu çalışmasını sağlar.			✓
Yutma, hıçırma, kusma olaylarını kontrol eder.		✓	

Buna göre tabloda yer alan X, Y ve Z organları hangi seçenekte doğru olarak verilmiştir?

- | | X | Y | Z |
|--------------------|-----------------|-----------------|---|
| A) Beyin | Beyincik | Omurilik soğani | |
| B) Beyin | Omurilik soğani | Beyincik | |
| C) Omurilik soğani | Beyin | Beyincik | |
| D) Omurilik soğani | Beyincik | Beyin | |

9-

Sindirim sistemindeki bazı organların görevleriyle ilgili hazırlanan aşağıdaki şema, dört öğrenciye uygulanmıştır. Öğrencilerin şemadaki çıkış noktaları aşağıda verildiği gibidir.



Buna göre, en fazla yanlış yapan öğrenci aşağıdakilerden hangisidir? (D: doğru, Y: yanlış)

- A) Pelin
- B) Ali
- C) Lale
- D) Cemil

10-

- I. Terleme
- II. Soluk verme
- III. İdrar yapımı
- IV. Dışkılama

Yukarıda verilen olaylardan hangileri, atık maddelerin vücut dışına boşaltımında görev alabilir?

- A) I ve II
- B) III ve IV
- C) I, III ve IV
- D) I, II, III ve IV

11-

Aşağıdaki şemalar insan vücudundaki tepki organlarının uyarılma çeşitlerini (I ve II) göstermektedir.



Bu şemaları inceleyen Leyla, aşağıdaki yorumlardan hangisini yapamaz?

- A) Tepki organı I. çeşit uyarılda, II. çeşit uyarılmaya göre daha hızlı uyarılır.
- B) Yılan gördüğü için korkarak kaçan bir insanda adrenalin hormonunun salgılanması, II çeşit uyarılmaya örnektir.
- C) I. uyarılma çeşidinde sadece sinir sistemi, II. uyarılma çeşidinde ise sadece iç salgı sistemi görev almıştır.
- D) Tepki organlarında oluşan tepki süresi; II. uyarılda I. uyarılmaya göre daha uzun sürer.

12-

Beyin; vücudumuzdaki diğer organlardan gelen uyarıları değerlendirerek vücudun yönetimini sağlar. Yüzeyinin kıvrımlı bir yapıda olması daha fazla yönetim merkezi bulundurmasına imkan verir. İnsanlarda beyin gelişimi yaşa bağlı olarak tamamlanır.

Buna göre aşağıda verilen bireylerden hangisindeki problem, beyin kaynaklı olmayabilir?

- A) Ali 3 yaşında
Vücutu büyüyor fakat, kafatası büyümüyor. Bu yüzden bedensel faaliyetleri yaşlılar kadar gelişmiyor.
- B) Ufuk 10 yaşında
Beyin ameliyatı geçiriyor. Ameliyattan sonra bir gözü kör oluyor.
- C) Narek 20 yaşında
Trafik kazası geçiriyor. Bu kazadan sonra ayağına batan cisimleri hissedemiyor.
- D) Aydın 9 yaşında
Annesi hamilelik döneminde bilinçsiz ilaç kullandığı için beyin kıvrımları yeterince gelişmiyor.

13-

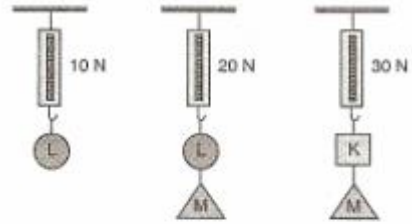
Dört farklı bireyin kendi gözlerinde bulunan kusurlarla ilgili söyledikleri bilgiler, aşağıda verildiği gibidir.



Buna göre hangi bireylerdeki göz kusurları mercek kullanılarak düzeltilemez?

- A) Mehtap B) İnci ve Mehtap
C) Murat ve İnci D) Mehtap ve Lütfü

14-



Dinametreler ile yukarıdaki ölçümleri yapan öğrenci, aşağıdaki sonuçlardan hangisine ulaşabilir?

- A) L ve M cisimlerinin ağırlıkları eşittir.
- B) K ve M cisimlerinin ağırlıkları toplamı 20 N'dur.
- C) M cisminin ağırlığı, K cisminin ağırlığından büyüktür.
- D) En ağır cisim M'dir.

15-

Aşağıda merkezi sinir sistemi organlarından biriyle ilgili bazı bilgiler verilmiştir.

- Çarpma ve yaralanmalarla zedelenmesi ölüme yol açabilir.
- Sindirim sistemine ait organların çalışmasını kontrol eder.

Bu organ ve görevleriyle ilgili aşağıdakilerden hangisi söylenemez?

- A) Dolaşım, solunum, boşaltım gibi hayatsal faaliyetleri kontrol eder.
- B) Acil durumlarda uyarıyı beyinden daha önce değerlendirerek refleks oluşturur.
- C) Hapşırma ve kusma olaylarının kontrolünü sağlar.
- D) Bu organ omurilik soğanıdır.

16-

Bir grup öğrenci duyu organlarıyla ilgili aşağıdaki deneyi yapıyor.

Ali	Ayşe	Zeynep	Ömer
Burun ve göz kapatılıyor.	Göz kapatılıyor.	Göz kapatılıyor.	Göz kapatılıyor.
↓	↓	↓	↓
Besinin tadını iyi derecede	Besinin tadını algılıyor.	Besinin kokusunu algılıyor.	Dokunduğu cismin şeklini algılıyor.

Öğrenciler deney sonunda;

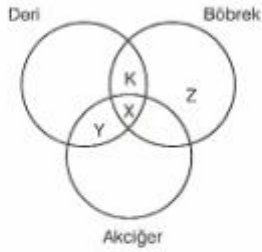
1. Göz, tat ve koku almada etkili midir?
2. Tat almada göz mü, burun mu daha etkilidir?
3. Göz kapalı iken dokunma duysu çalışır mı?

sorularından hangilerine cevap verebilir?

- A) Yalnız 1
B) Yalnız 3
C) 2 ve 3
D) 1, 2 ve 3

17-

Bir insanda vücuttan uzaklaştırılan atık maddeler ve bu atıkların atılmasını sağlayan organlar aşağıda küme yöntemiyle gösterilmiştir.



Buna göre X, Y, Z ve K ile gösterilen maddelerle ilgili aşağıda verilenlerden hangisi doğrudur?

- A) X, su olabilir.
B) Y, üre olabilir.
C) Z, karbondioksit olabilir.
D) K, safra olabilir.

18-

Pelin, böbrek hakkında aşağıda verilen bilgilere ulaşmıştır.

- Böbrekte nefron denilen kanı süzmekle görevli yapı birimleri bulunur.
- Böbrek kılcal damarlarından nefronlara aktarılan kanın sıvı kısmındaki atık maddeler, idran meydana getirir.
- Bir insanın nefronlarına bir gün boyunca 180 lt kan sıvısı aktarılır ve bu insanın nefronlarında 1,5 lt idrar oluşturulur.
- İdrarda üre, su, mineral vb. atık maddeler bulunur.

Bu bilgileri değerlendiren Pelin, aşağıdaki hangi yorumu yapamaz?

- A) Nefrona sadece, idrarla atılacak olan atık maddeler geçebilir.
B) Nefronlara geçen kan sıvısının çoğu nefronlardan vücuda geri emilir.
C) Üre, su ve mineral maddeler vücudumuzdan dışarı atılması gereken atık maddelerdir.
D) Böbrek yetmezliği yaşayan bireyler vücutlarındaki atık maddeleri dış ortama yeterli ölçüde atamazlar.

SOSYAL BİLGİLER TESTİ

1-

Aile içi iletişim kişi ve toplum hayatında çok önemli olduğu halde, yeterince üzerinde durulmayan bir konudur. Birçok sorunun temelinde aile içi iletişimdeki olumsuzluklar yatmaktadır.

Aşağıdakilerden hangisi aile içindeki iletişimsizliğin çözüm yollarından biri olarak gösterilemez?

- A) Aile bireyleri arasında saygı ve sevgiyi yerleştirmek
- B) Bireylerin birbirine karşı hoşgörülü olmasını sağlamak
- C) Anlayışlı, şefkatli ve ilkel bir aile yapısı oluşturmak
- D) Aile bireyleri arasında kıyaslama yapmak

2-

Ülkemizde TV ve radyo yayınlarını düzenlemek ve denetlemekle görevli Radyo Televizyon Üst Kurulu (RTÜK), zaman zaman yayınlar konusunda toplumun görüşlerini, anketler ve araştırmalar yaparak tespit etmektedir.

Bu bilgilere göre aşağıdakilerden hangisinin Radyo Televizyon Üst Kurulu'nun (RTÜK) görevleri ile ilgili olduğu söylenemez?

- A) Televizyon izleyicilerini ödüllendirmek
- B) Halkın programlarla ilgili şikayetlerini tespit etmek
- C) Zararlı yayınlar yapılmasını engellemek
- D) Radyo ve televizyon yayınlarını denetlemek

3-

- Herkesle dost olmaya çalış.
- Cahil olsalar bile insanları dinle.
- Gürültü - patirtinin ortasında sükunetle dolaş.
- Kısa ve açık konuş, başkalarına da kulak ver.

Bu tavsiyeleri benimseyen bir insanın aşağıdaki davranışlardan hangisini yapması doğru olmaz?

- A) Karşısındaki insanı dinlemesi
- B) Konuşurken akıcı ve anlaşılır bir dil kullanması
- C) Hoşgörülü ve ön yargısız olması
- D) Kendi fikirlerinin benimsenmesinde ısrarcı olması

4-

1927 - 2007 yılları arasında geçen 80 yılda Türkiye'nin nüfusu yaklaşık olarak 60 milyon artmıştır.

Ülkemizde nüfusun hızla artmasında aşağıdakilerden hangisinin etkili olduğu söylenemez?

- A) Doğum oranının artmasının
- B) Dış ülkelere göçlerin
- C) Eğitim seviyesinin yükselmesinin
- D) Sağlık hizmetlerinin gelişmesinin

5-

Sultan II. Mahmut, yolda gördüğü bir çocuğu sevindirmek için ona altın vermek istemiş. Ancak çocuk bu altını almamış. Niçin almadığı kendisine sorulunca,

Çocuk:

– “Eve gittiğimde annem - babam sen bunu nereden çaldın” derler demiş.

Bunun üzerine Sultan II. Mahmut:

– “Bunu bana padişah verdi dersin” deyince ,

Çocuk:

– “O zaman hiç inanmazlar. Padişah verseydi bu kadar az vermezdi.” derler, demiş. Bu söz padişahın çok hoşuna gitmiş ve çocuğa bir kese daha altın vermiş.

Bu parçada iletişimin hangi yönüne özellikle vurgu yapılmıştır?

- A) Beden dilinin önemine
- B) Jest ve mimik kullanımına
- C) Etkili konuşmanın önemine
- D) Empati kurmanın gerekliliğine

6-

Bazı bölgelerimizde yeryüzü şekillerinin engebeli olması, tarımda makine kullanımını zorlaştırmaktadır.

Ülkemizin yeryüzü şekilleri göz önüne alındığında, aşağıdaki bölgelerimizden hangisinde tarımda makine kullanımının daha zor olduğu söylenebilir?

- A) Doğu Anadolu
- B) Ege
- C) Marmara
- D) Güneydoğu Anadolu

7-

Aşağıdaki tabloda ülkemizdeki bazı şehirlerin 1950, 1990 ve 2000 yıllarındaki nüfusları verilmiştir.

İller	1950	1990	2000
İstanbul	1.166.477	7.309.180	10.618.735
Ankara	819.693	3.236.378	4.007.860
İzmir	768.411	2.694.770	3.370.866
Adana	505.818	1.934.907	1.849.478

Tabloda verilen bilgilerden hareketle aşağıdakilerden hangisine kesinlikle ulaşamaz?

- A) Nüfusu en fazla artan il İstanbul'dur.
 B) Adana'nın 2000 yılındaki nüfusu 1990 yılındaki nüfusundan azdır.
 C) İzmir'in nüfusunun artmasında en fazla dış güçler etkili olmuştur.
 D) Ankara'nın nüfusu 50 yılda yaklaşık 5 kat artmıştır.

8-



Yukarıda verilen resimlerden hangisi doğru bir iletişime örnek gösterilemez?

- A) I B) II C) III D) IV

9-

İletişim tarihi, insanlık tarihi kadar eskidir. İnsanın var olması ile ortaya çıkan iletişimin temelinde insanın duygu, düşünce ve isteklerini karşısındakine aktarma isteği vardır.

Buna göre iletişim kavramının ortaya çıkmasında aşağıdakilerden hangisinin etkili olduğu söylenebilir?

- A) İlk devletlerin kurulmasının
 B) Paylaşma ihtiyacının
 C) Ticari faaliyetlerin başlamasının
 D) Mağara duvarlarına resimlerin yapılmasının

10-

Bir bahar sabahı, uyandığında bir sinekle karşılaşan ormanlar kralı aslan, sineğe:

- Çekil git! Miskin yaratık, pis ufaklık, demiş. Sinek aslanın söylediklerine bir hayli sinirlenerek:
 – Sana ormanlar kralı dediler diye senden korkacak mıyım? Öküzden daha güçlü değilsin ya, demiş.

Aslan öfkeden deliye dönmüş ve bütün gücüyle kükreymiş, herkes korkudan oraya buraya kaçışmış.

Yukarıdaki hikayede iletişimi olumsuz etkileyen faktörlerden hangisine değinilmiştir?

- A) Cinsiyet B) Fiziksel görünüm
 C) Eğitim D) Yaş

11-

İller	Erkek	Kadın
İstanbul	5,088,000	4,930,000
İzmir	1,699,000	1,672,000
Kocaeli	625,000	581,000
Kastamonu	182,000	194,000
Kırşehir	125,000	129,000
Sinop	110,000	114,000

Yukarıdaki tabloda 1997 genel nüfus sayımına göre bazı illerimizdeki erkek ve kadın nüfusları verilmiştir.

Tabloda verilen bilgilere göre, aşağıdakilerden hangisine ulaşılabilir?

- A) Her ilde erkek nüfusu kadın nüfusundan daha fazladır.
 B) Kastamonu, Kırşehir ve Sinop'un toplam nüfusu Kocaeli'nin nüfusundan fazladır.
 C) Kastamonu ve Kırşehir'de kadın nüfusu erkek nüfusundan fazladır.
 D) Kadın - erkek nüfusu arasındaki farkın en fazla olduğu il İzmir'dir.


12-

Atatürk'ün kurulmasına öncelik ettiği "İrade-i Milliye" gazetesinin çıkarılmasına Sivas Kongresi'nde karar verilmiştir. Atatürk, Milli Mücadele'nin yayın organı olan bu gazeteye "Benim gazetem" demiştir.

Atatürk'ün bu gazetenin çıkarılmasıyla ilgili çalışmaları için aşağıdakilerden hangisi söylenemez?

- A) Basına önem verdiğini göstermiştir.
 B) Halkı bilinçlendirmek istemiştir.
 C) Basın yoluyla Milli Mücadele'yi anlatmak istemiştir.
 D) Gazete çıkararak Milli Mücadele'ye ekonomik olarak katkıda bulunmak istemiştir.

13-



Yukarıdaki grafiklerde dört bölgeye ait doğum ve nüfus artış oranları gösterilmiştir.

Verilen grafiklere göre, göç alan ve göç veren bölgeler hangi seçenekte doğru eşleştirilmiştir?

	Göç Alan	Göç Veren
A)	1 - 2	3 - 4
B)	1 - 4	2 - 3
C)	2 - 3	1 - 4
D)	2 - 4	1 - 3

14-

Ayşe'nin arkadaşından aldığı mektupları annesinin izin almadan açıp okuması Ayşe'nin hangi hakkının ihlâl edildiğine örnektir?

- A) Doğru haber alma hakkı
- B) Özel hayatın gizliliği
- C) Haberleşme hakkı
- D) Düşünceleri ifade etme hakkı

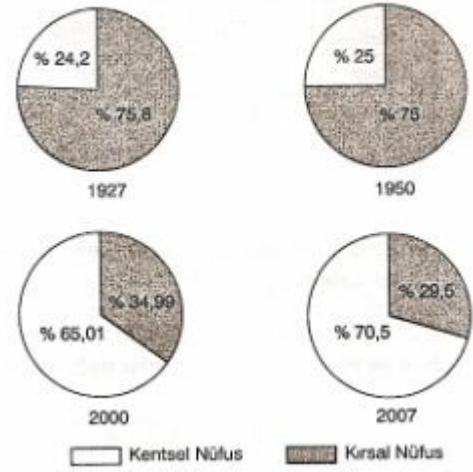
15-

Bir ülkede nüfusun artmasında doğumların ölümlerden fazla olması önemli rol oynar. Ancak bunun dışında değişik faktörler de nüfus artışında etkili olmaktadır.

Aşağıdakilerden hangisi nüfus artışında etkili olan faktörlerden biri değildir?

- A) Sağlık hizmetlerindeki gelişmeler
- B) Bebek ölümlerinin azalması
- C) Ülke içindeki göç hareketleri
- D) Beslenme şartlarının iyileşmesi

16-



Yukarıdaki grafiklerde Türkiye'nin bazı yıllara göre kentsel ve kırsal nüfus oranları gösterilmiştir.

Verilen grafiklere göre aşağıdakilerden hangisi söylenemez?

- A) Kentsel nüfus oranı sürekli artmıştır.
- B) 2000 ve 2007 yıllarındaki kentsel nüfus oranı 1950 yılından daha azdır.
- C) Kentsel nüfus oranında en büyük artış 1950 ile 2000 yılları arasında olmuştur.
- D) Kentsel ve kırsal nüfusun birbirine en yakın olduğu yıl 2000 yılıdır.

17-

Ankara'nın nüfusu 1920 yılında 28.000 iken 2005 yılında 4 milyonu aşmıştır. Yani Ankara'da nüfus 85 yılda yaklaşık 154 kat artmıştır.

Aşağıdakilerden hangisi Ankara'daki hızlı nüfus artışının sebeplerinden biri değildir?

- A) Hizmet sektörünün Ankara'da oldukça gelişmiş olması
- B) Ankara'nın Türkiye'nin başkenti olması
- C) Ankara'nın İç Anadolu Bölgesi'nde yer alması
- D) Ankara'nın ulaşım ve ticaret yolları üzerinde bulunması

18-

"Ne kadar matematik dersine çalışırsan çalış, sen yine matematikten geçer not almazsın"

Yukarıdaki olumsuz iletişim örneğinin olumlu hâli, aşağıdakilerden hangisi olabilir?

- A) Matematik dersinden senin gibiler anlamaz.
- B) Boşuna matematik dersine zaman ayırma başaramazsın.
- C) Sen istersen matematik dersinde çok başarılı olabilirsin.
- D) Herkes matematik dersindeki bu konuyu anladı, bir tek sen anlamadın.

İNGİLİZCE TESTİ

1-

Dear Bill,

Hi, I'm in Durkham now. I'm staying with my friend Nichola. Last week, we I at the Durham University. We attended a few conferences about teaching. They II very useful for me. I III happy to attend those conferences.

Love, Jenny

Mektupta boş bırakılan yerlere uygun gelen ifadeler sırasıyla hangi seçenekte verilmiştir?

I II III

- A) were was were
B) were were was
C) was were were
D) was were was

2-

Aşağıda verilen ifadeye göre, boş bırakılan yerlere uygun gelen seçeneği işaretleyiniz.

"Alice _____ at the seaside yesterday.
She _____ at the cinema."

- A) is / isn't B) wasn't / was
C) was / was D) isn't / was

3-

Diyalogda boş bırakılan yerlere uygun gelen ifadeler sırasıyla hangi seçenekte verilmiştir?

Shop assistant : How _____ I help you?

Customer : I want to buy a MP4.

Shop assistant : _____ this one?

Customer : Hmm. This is _____ .

- A) does / Think of / horrible
B) did / Will be / terrible
C) can / What about / nice
D) has / Let's / boring

4-

Farklı olan seçeneği işaretleyiniz.

- A) Yesterday B) Last week
C) Last Monday D) Next Monday

5-

Mina : _____ can I help you, sir?

Roberto : I want a ticket for the flight to Spain.

Mina : _____ would you like to?

Roberto : Tomorrow night.

- A) What / Why
B) How often / When
C) How / When
D) How / Which

6-

Mathew: _____ were you yesterday?

Mehmet: I _____ to the police station.

Mathew: _____ did yo go to police station?

Mehmet: Because, somebody _____ my car the previous night.

- A) Where / go / When / steal
B) Why / went / Went / stole
C) Why / go / Why / steal
D) Where / went / Why / stole

7-


Verilen resme göre, boş bırakılan yere en uygun ifade aşağıdakilerden hangisidir?



"I was poor two years ago. I _____ a job and worked hard. Now I'm _____."

- A) find / rich B) finded / poor
C) found / rich D) finds / poor

8-



- A) What would you like
B) Would you like
C) Do you know
D) I would like

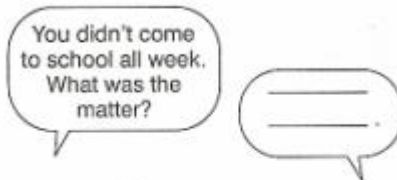
- 9- Verilen resme göre cümlede boş bırakılan yerlere uygun gelen ifadeler hangi seçenekte verilmiştir?



Ayşe _____ got a high temperature, so she _____ go to school.

- B) has / doesn't have to A) has / can
D) hasn't / has to C) hasn't / will

- 10- Verilen resme göre aşağıdaki konuşma balonunda boş bırakılan yere uygun gelen ifade hangi seçenekte verilmiştir?



- A) I had a toothache.
B) I broke my arm.
C) I cut my finger.
D) I had an accident.

- 11- We _____ happy with the hotel. Our room _____ very small and not very clean.

- A) wasn't / were B) weren't / was
C) weren't / wasn't D) were / were

- 12- _____ books _____ there under your desk?
There _____ one.

- A) How much / are / is
B) How many / is / is
C) What / are / is
D) How many / are / is

- 13- Verilen resme göre aşağıdaki ifadelerden hangisi doğrudur?



- A) He was in the stadium last Sunday.
B) She was in hospital yesterday.
C) They were on picnic at the weekend.
D) We were on the beach last month.

- 14- Aşağıdaki diyalogda boş bırakılan yerlere uygun gelen ifadeler hangi seçenekte verilmiştir?

- A: Did _____ hear that noise?
B: Yes. I think there is _____ outside.
A: Go and look.
B: I can't. I _____ scared.

- A) me / nothing / can
B) you / somebody / am
C) she / somewhere / will
D) you / anything / is

- 15- _____ were you at 11 o'clock last Friday morning?
At the gym.

- A) How B) Why
C) Where D) What