


2. ÜNİTE


**ÜÇ BASAMAKLI DOĞAL SAYILARLA
ELDESİZ TOPLAMA İŞLEMİ**

31. GÜN



Adı: Soyadı:
Sınıfı: Nu.: Tarih: .../.../.....

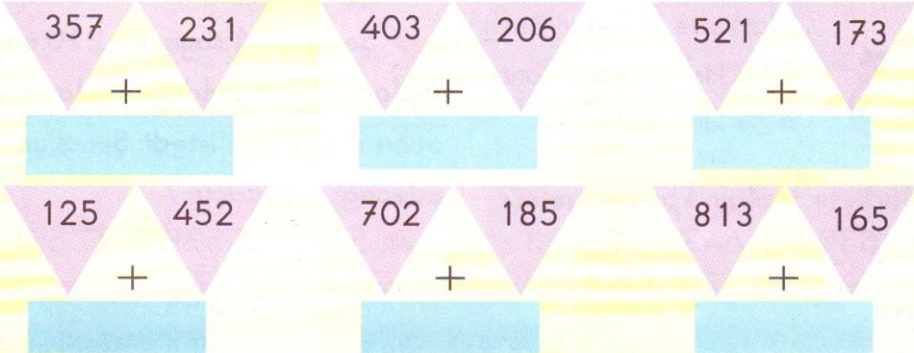
1. Aşağıdaki işlemleri yapıp kitapların sayfa sayısını bulunuz.



2. Tablodaki verilmeyenleri bulup kutulara yazınız.

	Toplanan	Toplanan	Toplam	Toplanan	Toplanan	Toplam
Toplanan	145	234		351	205	
Toplanan	352	415		428	361	
Toplam						

3. Aşağıdaki sayıları toplayıp toplamaları kutulara yazınız.



2. ÜNİTE ÜÇ BASAMAKLI DOĞAL SAYILARLA ELDESİZ TOPLAMA İŞLEMİ 31. GÜN

1.



Haftalık gelirim
212 TL'dir.

Haftalık gelirim
185 TL'dir.



Bu ailenen haftalık geliri kaç liradır?

A. 397 B. 399 C. 401

2. 261 sayısının 324 fazlası kaçtır?

A. 565 B. 575 C. 585

3. Bir toplama işleminde birinci toplanan 254, ikinci toplanan 703'tür. Toplam kaçtır?

A. 907 B. 957 C. 977

4. Okulumuzdaki kız öğrencilerin sayısı 352'dir. Erkek öğrenciler, kız öğrencilerden 143 fazladır. Erkek öğrencilerin sayısı kaçtır?

A. 495 B. 485 C. 475

5.



Markette öğleden önce
215 kişi, öğleden sonra
424 kişi geldi.


Markete toplam kaç kişi geldi?

A. 639 B. 643 C. 653

6. Bir uçakta 326 bayan, 432 erkek yolcu vardır. Uçaktaki yolcuların sayısı kaçtır?

A. 756 B. 758 C. 759

7.



312 TL

Buzdolabı
televizyondan
140 TL pahalı

Hem televizyon hem buzdolabı alan aile kaç lira öder?

A. 752 B. 756 C. 764

8. Ayşe bu hafta 241 sayfa kitap okudu. Ablası, Ayşe'den 104 sayfa fazla okudu. Ayşe ve ablasının bu hafta okudukları sayfaların toplamı kaçtır?

A. 566 B. 576 C. 586

9. Şenol 124 sayısı ile 210 sayısını topladı. Babası bulduğu toplama 245 daha eklemesini istedi. Şenol'un elde edeceği sayı kaçtır?

A. 577 B. 578 C. 579



ÜÇ BASAMAKLI DOĞAL SAYILARLA ELDELİ TOPLAMA İŞLEMİ

Adı: Soyadı:
Sınıfı: Nu.: Tarih: .../.../...

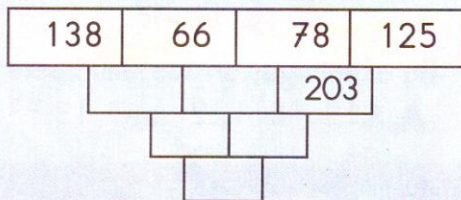
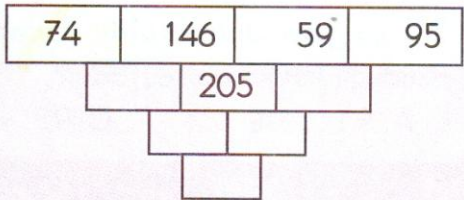
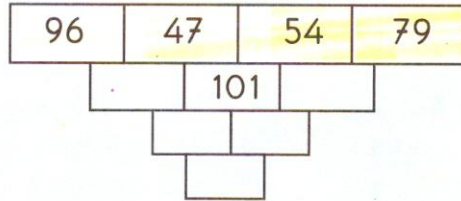
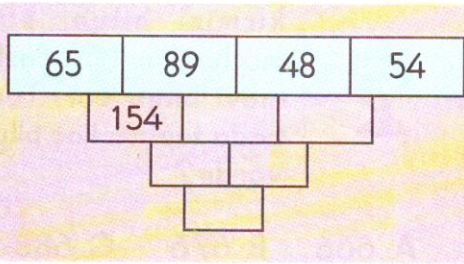


1. Aşağıdaki toplama işlemlerini yaparak son işlemlerdeki toplamlara ulaşınız.

$$\begin{array}{r} 136 \\ + 97 \\ \hline \end{array} \quad \begin{array}{r} 216 \\ + 195 \\ \hline \end{array} \quad \begin{array}{r} 127 \\ + 184 \\ \hline \end{array}$$

$$\begin{array}{r} 35 \\ + 18 \\ \hline \end{array} \quad \begin{array}{r} 159 \\ + 176 \\ \hline \end{array} \quad \begin{array}{r} 124 \\ + 87 \\ \hline \end{array} \quad \begin{array}{r} 189 \\ + 143 \\ \hline \end{array} \quad \begin{array}{r} 68 \\ + 174 \\ \hline \end{array}$$

2. Aşağıdaki kutuları örnekteki gibi toplama işlemi yaparak doldurunuz.



2. ÜNİTE ÜÇ BASAMAKLI DOĞAL SAYILARLA ELDELİ TOPLAMA İŞLEMİ 32. GÜN

1.



Okul gezisine 146 kız, 194 erkek öğrenci katıldı.

Bu geziye toplam kaç öğrenci katılmıştır?

A. 380 B. 360 C. 340

2.



Dün 138, bugün ise 262 simit sattım.

Simitçi iki günde toplam kaç simit satmıştır?

A. 390 B. 400 C. 410

3.

44 yaşındayım.

22 yaşındayım.

46 yaşındayım.



Bu ailenin yaşları toplamı kaçtır?

A. 112 B. 122 C. 132

4.

Müze birinci gün 128, ikinci gün 314, üçüncü gün 228 ziyaretçi geldi. Üç günde müzeye toplam kaç ziyaretçi gelmiştir?

A. 690 B. 680 C. 670

5.

$$\begin{array}{r} 342 \\ + 405 \\ \hline \end{array}$$

Yukarıdaki toplama işleminde birinci ve ikinci toplananda bulunan bütün rakamları 1 arttırsak yeni toplam kaç olur?

A. 747 B. 858 C. 969

6.



Bir torbada 256 kırmızı bilye, kırmızılardan 164 fazla mavi bilye var. Torbada toplam kaç bilye vardır?

A. 666 B. 676 C. 686

7.

Ercan kitabın 30 sayfasını dün, 26 sayfasını bugün okudu. Okuyacağı 37 sayfası daha kaldı. Ercan'ın okuduğu kitap kaç sayfadır?

A. 91 B. 92 C. 93