

**HAYAT BİLGİSİ**

1. “En kalıcı öğrenme tekniği .....  
öğrenilendir.” cümlesini en iyi tamamlayan seçenek hangisidir?

- A) dinleyerek  
B) okuyarak  
C) yaparak ve yaşayarak

2. 1- Haklarını korumasını bilir.	2- Reklamlarda gördüğü her ürünü alır.	3- Kaliteli olmasına bakar.
4- Son kullanma tarihine dikkat eder.	5- En pahalı ve markalı ürünleri seçer.	6- Garanti belgesini mutlaka alır.

Bilinçli bir tüketici yukarıdakilerden hangilerine dikkat eder?

- A) 2 - 5  
B) 1 – 3 – 4 – 6  
C) 1 – 2 – 5

3. Mustafa Kemal Atatürk, küçük yaşta babasının ölümü üzerine ne yaptı?

- A) Samsun’a amcasının yanına geldi.  
B) Köyde dayısının çiftliğine yerleşti.  
C) Erzurum’a halasının yanına taşındı.

4. Dengeli beslenme ne demektir?

- A)  Her gün etli yemekler yemektir.
- B)  Her çeşit besinden yeteri kadar yemek ve içmektir.
- C)  Günde 4-5 kez bolca yemek yemektir.

5. I) Cips IV) Meyve  
II) Kola V) Sebze  
III) Pizza VI) Süt ve süt ürünleri

Sağlığımız için yukarıdakilerden hangileri gereksizdir?

- A) I – II – III  
B) IV – V – VI  
C) I – III – VI

6.



Okul toplu yaşadığımız bir yerdir. Toplu yaşanan yerlerde karşılıklı saygı, sevgi ve ..... çok önemlidir.

Öğrencinin cümlesini hangi kelime doğru tamamlar?

- A) tartışma B) konuşma C) hoşgörü

7. Aşağıdaki ifadelerden hangisi **yanlıştır**?

- A) Sınıfımızdaki öğrencilerin benzerlikleri ve farklılıkları vardır.  
B) Güzel öğrencilerin daha çok arkadaşı olur  
C) Sınıf eşyalarını özenli kullanmalıyız.

8. Mustafa Kemal Atatürk, aşağıdaki şehirlerden hangisinde toplantı **yapmamıştır**?

- A) Erzurum B) Sivas C) Konya

**TÜRKÇE**

“Ertesi gün dedem erkenden kalktı. Kadife örtüsünden bayrağı çıkardı. Evin balkonuna astı. O her bayram böyle yapar. “Bayrak bir ülkenin bağımsızlığını gösterir. Bayrağa saygı göstermeliyiz.” der.

Okulda **tören** yaptık. Ben şiir okudum. Dedem de konuşmasını yaptı. Bayramı neşe içinde kutladık.”

9, 10 ve 11. soruları yukarıdaki parçaya göre cevaplayınız.

9. Dedesi bayrağı neden balkona asmış olabilir?

- A) Kurban Bayramı olduğu için  
B) Ramazan Bayramı olduğu için  
C) Cumhuriyet Bayramı olduğu için

10. Parçadaki altı çizili sözcüğün yerine hangisi yazılırsa cümlemin anlamı değişmez?

- A) eğlence B) parti C) merasim

11. Parçaya göre aşağıdakilerden hangisi **yanlıştır**?

- A) Dedesi bayrağa gerekli saygıyı göstermiyor  
B) Bayramı sevinç içinde kutlamışlar.  
C) Her bağımsız ülkenin bayrağı vardır.

12. “iri – kocaman” kelimeleri arasındaki ilişki hangi seçenekteki kelimeler arasında vardır?

- A) taze – bayat B) kirli – pis C) esir – hür

13.



Mehmet, biraz sonra eve gelecek.

Mehmet'in annesinin söylediğine göre aşağıdakilerden hangisi **doğrudur**?

- A) Mehmet eve henüz gelmemiştir.  
B) Mehmet eve geleli çok olmuştur.  
C) Mehmet eve biraz önce gelmiştir.

14.

I - işini

II - bugünün

III - bırakma

IV - yarına

Yukarıdaki kelimelerin anlamlı sıralanışı hangi seçenektir?

- A) II - I - III - IV  
B) IV - III - II - I  
C) II - I - IV - III

15. Aşağıdaki cümlelerde altı çizili kelimelerden hangisinde ek **yanlış** kullanılmıştır?

- A) Kedi balkonda atladı.  
B) Kardesime balon aldım.  
C) Yeni yılda görüşürüz.

16. "Çok zayıflamak" anlamına gelen deyim aşağıdakilerden hangisidir?

- A) Çöpe dönmek  
B) Can çekişmek  
C) Nefesi kesilmek

## MATEMATİK

17. "1 - 2 - 4 - 8 - ? - 32 - 64 - ? - 256"

Yukarıdaki örüntüde soru işareti olan yerlere sırasıyla hangi sayılar yazılmalıdır?

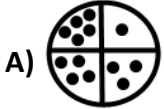
- A) 16 - 128      B) 10 - 100      C) 15 - 130

18.

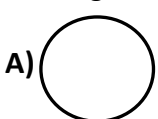


?

Örüntüye göre soru işareti olan yere hangi şekil gelmelidir?



19. Aşağıdaki şekillerden hangisine sadece iki tane simetri doğrusu **çizilebilir**?



20. I.) 256 doğal sayısının rakamlarının sayı değerleri toplamı 13'tür.

II.) 605 doğal sayısı "**altı yüz beş**" diye okunur.

III.) Üç basamaklı en büyük doğal sayı 100'dür.

IV.) 789 doğal sayısının onlar basamağında 7 rakamı vardır.

V.) 9 onluğa 1 onluk daha eklenirse 100 olur.

Yukarıdaki bilgilerden hangileri **yanlıştır**?

- A) III - IV      B) I - V      C) II - V

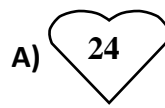
21. "8 onluk, 6 birlik, 4 yüzlük" ten oluşan sayı hangisidir?

- A) 864      B) 468      C) 486

22. "123" sayısına göre hangisi **doğrudur**?

- A) basamak değeri en büyük olan "3" tür.  
B) sayı değeri en küçük olan "1" dir.  
C) birler basamağında "1" rakamı vardır.

23. "2 yüzlük ve 4 birlik"ten oluşan sayı hangisidir?



24.  $\star$  5 yüzlük + 5 onluk = 550  
 $\Rightarrow$  7 yüzlük + 9 birlik = 790  
 $\odot$  8 yüzlük + 3 onluk + 4 birlik = 834

Yukarıdaki bilgilerden hangileri **doğrudur**?

- A)  $\star \odot$       B)  $\Rightarrow \odot$       C)  $\star \Rightarrow \odot$

25. Aşağıdakilerden hangisi **yanlıştır**?

A)  $\begin{array}{r} 6 \ 3 \ 4 \\ \downarrow \quad \downarrow \quad \downarrow \\ \text{birler basamağı} = 4 \times 1 \\ \text{onlar basamağı} = 3 \times 10 \\ \text{yüzler basamağı} = 6 \times 100 \end{array}$

B)  $\begin{array}{r} 9 \ 1 \ 9 \\ \downarrow \quad \downarrow \quad \downarrow \\ \text{birler basamağı} = 9 \times 1 \\ \text{onlar basamağı} = 1 \times 10 \\ \text{yüzler basamağı} = 9 \times 100 \end{array}$

C)  $\begin{array}{r} 5 \ 0 \ 7 \\ \downarrow \quad \downarrow \quad \downarrow \\ \text{yüzler basamağı} = 7 \times 100 \\ \text{onlar basamağı} = 0 \times 10 \\ \text{birler basamağı} = 5 \times 1 \end{array}$

Sınav süresi 35 dakikadır.

Her soru 4 (dört) puandır.



Bafra Gazi  
İlköğretim Okulu  
3. Sınıflar  
**Genel**  
**Değerlendirme**  
Sınavı - ...

Adı: .....  
Soyadı: .....

- 1 ☐ A ☐ B ☐ C
- 2 ☐ A ☐ B ☐ C
- 3 ☐ A ☐ B ☐ C
- 4 ☐ A ☐ B ☐ C
- 5 ☐ A ☐ B ☐ C
- 6 ☐ A ☐ B ☐ C
- 7 ☐ A ☐ B ☐ C
- 8 ☐ A ☐ B ☐ C
- 9 ☐ A ☐ B ☐ C
- 10 ☐ A ☐ B ☐ C
- 11 ☐ A ☐ B ☐ C
- 12 ☐ A ☐ B ☐ C
- 13 ☐ A ☐ B ☐ C
- 14 ☐ A ☐ B ☐ C
- 15 ☐ A ☐ B ☐ C
- 16 ☐ A ☐ B ☐ C
- 17 ☐ A ☐ B ☐ C
- 18 ☐ A ☐ B ☐ C
- 19 ☐ A ☐ B ☐ C
- 20 ☐ A ☐ B ☐ C
- 21 ☐ A ☐ B ☐ C
- 22 ☐ A ☐ B ☐ C
- 23 ☐ A ☐ B ☐ C
- 24 ☐ A ☐ B ☐ C
- 25 ☐ A ☐ B ☐ C

Doğru:

Yanlış:

PUAN:

Bafra Gazi  
İlköğretim Okulu  
3. Sınıflar  
**Genel**  
**Değerlendirme**  
Sınavı - ...

Adı: .....  
Soyadı: .....

- 1 ☐ A ☐ B ☐ C
- 2 ☐ A ☐ B ☐ C
- 3 ☐ A ☐ B ☐ C
- 4 ☐ A ☐ B ☐ C
- 5 ☐ A ☐ B ☐ C
- 6 ☐ A ☐ B ☐ C
- 7 ☐ A ☐ B ☐ C
- 8 ☐ A ☐ B ☐ C
- 9 ☐ A ☐ B ☐ C
- 10 ☐ A ☐ B ☐ C
- 11 ☐ A ☐ B ☐ C
- 12 ☐ A ☐ B ☐ C
- 13 ☐ A ☐ B ☐ C
- 14 ☐ A ☐ B ☐ C
- 15 ☐ A ☐ B ☐ C
- 16 ☐ A ☐ B ☐ C
- 17 ☐ A ☐ B ☐ C
- 18 ☐ A ☐ B ☐ C
- 19 ☐ A ☐ B ☐ C
- 20 ☐ A ☐ B ☐ C
- 21 ☐ A ☐ B ☐ C
- 22 ☐ A ☐ B ☐ C
- 23 ☐ A ☐ B ☐ C
- 24 ☐ A ☐ B ☐ C
- 25 ☐ A ☐ B ☐ C

Doğru:

Yanlış:

PUAN:

Bafra Gazi  
İlköğretim Okulu  
3. Sınıflar  
**Genel**  
**Değerlendirme**  
Sınavı - ...

Adı: .....  
Soyadı: .....

- 1 ☐ A ☐ B ☐ C
- 2 ☐ A ☐ B ☐ C
- 3 ☐ A ☐ B ☐ C
- 4 ☐ A ☐ B ☐ C
- 5 ☐ A ☐ B ☐ C
- 6 ☐ A ☐ B ☐ C
- 7 ☐ A ☐ B ☐ C
- 8 ☐ A ☐ B ☐ C
- 9 ☐ A ☐ B ☐ C
- 10 ☐ A ☐ B ☐ C
- 11 ☐ A ☐ B ☐ C
- 12 ☐ A ☐ B ☐ C
- 13 ☐ A ☐ B ☐ C
- 14 ☐ A ☐ B ☐ C
- 15 ☐ A ☐ B ☐ C
- 16 ☐ A ☐ B ☐ C
- 17 ☐ A ☐ B ☐ C
- 18 ☐ A ☐ B ☐ C
- 19 ☐ A ☐ B ☐ C
- 20 ☐ A ☐ B ☐ C
- 21 ☐ A ☐ B ☐ C
- 22 ☐ A ☐ B ☐ C
- 23 ☐ A ☐ B ☐ C
- 24 ☐ A ☐ B ☐ C
- 25 ☐ A ☐ B ☐ C

Doğru:

Yanlış:

PUAN:

Bafra Gazi  
İlköğretim Okulu  
3. Sınıflar  
**Genel**  
**Değerlendirme**  
Sınavı - ...

Adı: .....  
Soyadı: .....

- 1 ☐ A ☐ B ☐ C
- 2 ☐ A ☐ B ☐ C
- 3 ☐ A ☐ B ☐ C
- 4 ☐ A ☐ B ☐ C
- 5 ☐ A ☐ B ☐ C
- 6 ☐ A ☐ B ☐ C
- 7 ☐ A ☐ B ☐ C
- 8 ☐ A ☐ B ☐ C
- 9 ☐ A ☐ B ☐ C
- 10 ☐ A ☐ B ☐ C
- 11 ☐ A ☐ B ☐ C
- 12 ☐ A ☐ B ☐ C
- 13 ☐ A ☐ B ☐ C
- 14 ☐ A ☐ B ☐ C
- 15 ☐ A ☐ B ☐ C
- 16 ☐ A ☐ B ☐ C
- 17 ☐ A ☐ B ☐ C
- 18 ☐ A ☐ B ☐ C
- 19 ☐ A ☐ B ☐ C
- 20 ☐ A ☐ B ☐ C
- 21 ☐ A ☐ B ☐ C
- 22 ☐ A ☐ B ☐ C
- 23 ☐ A ☐ B ☐ C
- 24 ☐ A ☐ B ☐ C
- 25 ☐ A ☐ B ☐ C

Doğru:

Yanlış:

PUAN: