

**HAYAT BİLGİSİ**

1. Atatürk'e "Kemal" adını kim vermiştir?

- A) teyzesi B) dayısı
C) matematik öğretmeni

2.	1 Mahalle Mektebi	2 Selanik Askerî Rüştiyesi	3 Ankara Harp Akademisi
	4 Manastır Askerî Lisesi	5 Şemsi Efendi İlkokulu	6 İstanbul Üniversitesi


Mustafa Kemal, yukarıdaki okullardan hangilerine gitmemiştir?

- A) 1 - 2 B) 3 - 6 C) 4 - 5

3. Mustafa Kemal, okul hayatında çok başarılıydı. Okuyarak hangi mesleği seçmek istiyordu?

- A) Matematik öğretmenliği
B) Subay C) Pilot

4. Hangi öğrencinin söylediği doğrudur?

- A)  Cumhuriyet, 29 Ekim 1923 tarihinde ilan edilmiştir.
- B)  Atatürk, 1881 yılında İstanbul'da doğmuştur.
- C)  30 Ağustos Zafer Bayramı, önemli dinî bayramlarımızdan biridir.

5. I) Ellerimizi sabunla sık sık yıkamalıyız.
II) Hastalandığımızda evimizde dinlenmeliyiz.
III) Hapşırırken, öksürürken ağzımızı mendille kapatmalıyız

Sağlığımız için yukarıdakilerden hangilerini uygulamalıyız?

- A) I - II B) II - III C) I - II - III

6. "Zamanında ve doğru yapılan hayat kurtarır." cümlesini aşağıdakilerden hangisi tamamlar?

- A) problem
B) ustalık
C) ilk yardım

7. "Okul uymadığımızda çeşitli yaşarız. Okulda sorunlar yaşamamak için okul kurallarına uymalıyız." Cümlesinde boş bırakılan yere sırasıyla hangi kelimeler yazılmalıdır?

- A) kurallarına – sorunlar
B) bilgilerine – anılar
C) saatine – dostluklar

8. "Oyunun sonunda Ece'nin grubu üzgün biraz da kızgındı. Ece'ye niçin daha hızlı koşmadın diye bağırıldılar." Böyle bir durumda öğretmen öğrencilere neler söylemelidir?

- A) Evet Ece, çok hızlı koşmalıydın.
B) Oyunda kaybetmek de var kazanmak da.
C) Artık size oyunu yasaklıyorum.

TÜRKÇE

"Atatürk planlı ve disiplinli çalışırdı. Bir işi yapmaya karar verince önce o konuyu arkadaşları ile tartışır, fikirlerini alırdı. Sonunda bu fikirlerden en iyi ve en etkili olanını seçer ve uygulardı. Hiçbir zaman boş sözler söylemez ve söyletmezdi. Gerçekçiydi, hayallerden hoşlanmazdı."

9, 10 ve 11. soruları yukarıdaki parçaya göre cevaplayınız.

9. Atatürk'ün çalışma hayatı nasılmış?

- A) çok düzensiz
B) oldukça düzenli
C) ara sıra çalışıyormuş

10. Parçadaki altı çizili sözcüğün yerine hangisi yazılırsa cümlemin anlamı değişmez?

- A) yazılarını B) sorularını C) düşüncelerini

11. Parçaya göre aşağıdakilerden hangisi **yanlıştır**?

- A) Atatürk sık sık hayal kurardı.
B) Atatürk boş söz söylemekten hoşlanmazdı.
C) Bir konuyu önce arkadaşları ile tartışırdı.

12.	devamlı	ozan	yalnız	sürekli
	hâl	çağrı	durum	şair
				davet

Yukarıdaki eş anlamlı sözcükleri eşleştirdiğimizde hangisi dışarıda kalır?

- A) yalnız B) şair C) hâl

13. “Çocukluk ne güzel şey () Çocuklar ne sevimli () ne tatlı varlıklar değil mi () En çok hoşuma giden davranışları nedir bilir misin () Yalancılık bilmemeleri ()”

Yukarıdaki cümlelerde () içine yazılması gereken noktalama işaretleri sırasıyla hangileridir?

- A) ? ! , . . B) . , ? ? . C) ! ! . , .


14. “Atatürk planlı çalışırdı çünkü” cümlesini hangi seçenek uygun şekilde tamamlamaz?

- A) planlı çalışarak başarıya ulaşılacağını bilirdi.
B) başarı için bu gerekliydi.
C) durmadan gezmeyi severdi.

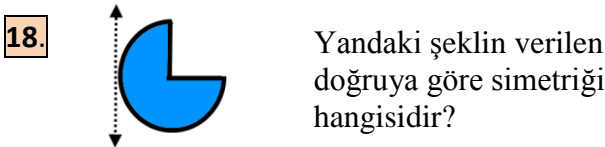
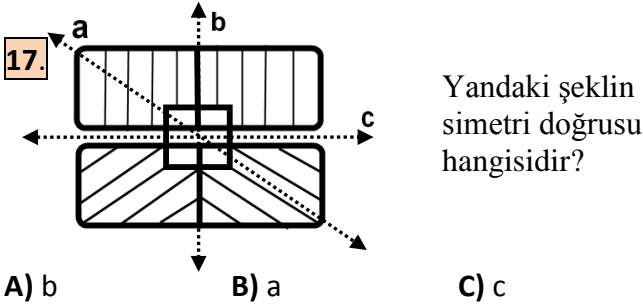
15. Aşağıdaki cümlelerin hangisinde sebep-sonuç ilişkisi yoktur?

- A) Gripten korunmak için aşı oldum.
B) Domuz gribi olmamak için temizliğe dikkat etti.
C) Sağlık memuru yarın okula gelecekmiş.

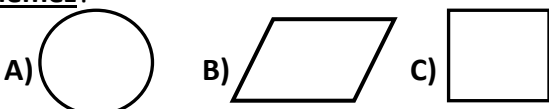
16. Aşağıdaki meyvelerden hangisinin adı sözlükte en son gelir?



MATEMATİK

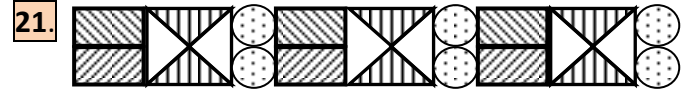


19. Aşağıdaki şekillerden hangisine simetri doğrusu çizilemez?



20. Kare için verilen bilgilerden hangisi yanlıştır?

- A) Dört kenarının uzunlukları birbirine eşittir.
B) Dört köşesinin açıları da diktir.
C) Kareye simetri doğrusu çizilemez.



Yukarıdaki örüntü hangi şekiller kullanılarak oluşturulmuştur?

- A) dikdörtgen, daire, kare
B) daire, üçgen, beşgen
C) dikdörtgen, daire, üçgen

22. **ABBCCC DDDDDDEEEEEEE**

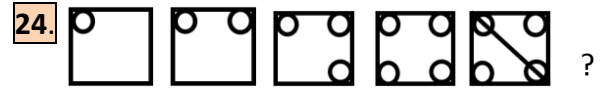
Yukarıdaki örüntüde eksik olan yere hangisi yazılmalıdır?

- A) ÇÇÇÇ B) DDDD C) ÇÇDD

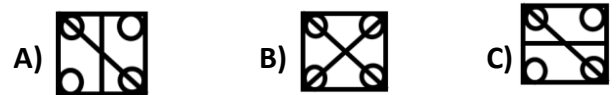
23. “2 – 7 – 12 – ? – 22 – ? – 32 – 37 – 42 – 47”

Yukarıdaki örüntüde soru işareti olan yerlere sırasıyla hangi sayılar yazılmalıdır?

- A) 13 – 23 B) 17 – 27 C) 17 – 31



Yukarıdaki örüntüye göre sıradaki şekil hangisi olmalıdır?



25. I. “A” harfinde paralel doğru yoktur.
II. “E” harfinde dik kesişen doğrular vardır.
III. “K” harfinde yatay ve dikey doğrular vardır.
IV. “M” harfinde eğik ve paralel doğrular vardır.

Yukarıdaki ifadelerden hangileri yanlıştır?

- A) III B) I ve IV C) I ve II

BAŞARILAR

Sınav süresi 35 dakikadır.

Her soru 4 (dört) puandır.

Bafra Gazi
İlköğretim Okulu
3. Sınıflar
Genel
Değerlendirme
Sınavı - ...

Bafra Gazi
İlköğretim Okulu
3. Sınıflar
Genel
Değerlendirme
Sınavı - ...

Bafra Gazi
İlköğretim Okulu
3. Sınıflar
Genel
Değerlendirme
Sınavı - ...

Bafra Gazi
İlköğretim Okulu
3. Sınıflar
Genel
Değerlendirme
Sınavı - ...

Adı:
Soyadı:

Adı:
Soyadı:

Adı:
Soyadı:

Adı:
Soyadı:

- 1 ☐ A ☐ B ☐ C
- 2 ☐ A ☐ B ☐ C
- 3 ☐ A ☐ B ☐ C
- 4 ☐ A ☐ B ☐ C
- 5 ☐ A ☐ B ☐ C
- 6 ☐ A ☐ B ☐ C
- 7 ☐ A ☐ B ☐ C
- 8 ☐ A ☐ B ☐ C
- 9 ☐ A ☐ B ☐ C
- 10 ☐ A ☐ B ☐ C
- 11 ☐ A ☐ B ☐ C
- 12 ☐ A ☐ B ☐ C
- 13 ☐ A ☐ B ☐ C
- 14 ☐ A ☐ B ☐ C
- 15 ☐ A ☐ B ☐ C
- 16 ☐ A ☐ B ☐ C
- 17 ☐ A ☐ B ☐ C
- 18 ☐ A ☐ B ☐ C
- 19 ☐ A ☐ B ☐ C
- 20 ☐ A ☐ B ☐ C
- 21 ☐ A ☐ B ☐ C
- 22 ☐ A ☐ B ☐ C
- 23 ☐ A ☐ B ☐ C
- 24 ☐ A ☐ B ☐ C
- 25 ☐ A ☐ B ☐ C

- 1 ☐ A ☐ B ☐ C
- 2 ☐ A ☐ B ☐ C
- 3 ☐ A ☐ B ☐ C
- 4 ☐ A ☐ B ☐ C
- 5 ☐ A ☐ B ☐ C
- 6 ☐ A ☐ B ☐ C
- 7 ☐ A ☐ B ☐ C
- 8 ☐ A ☐ B ☐ C
- 9 ☐ A ☐ B ☐ C
- 10 ☐ A ☐ B ☐ C
- 11 ☐ A ☐ B ☐ C
- 12 ☐ A ☐ B ☐ C
- 13 ☐ A ☐ B ☐ C
- 14 ☐ A ☐ B ☐ C
- 15 ☐ A ☐ B ☐ C
- 16 ☐ A ☐ B ☐ C
- 17 ☐ A ☐ B ☐ C
- 18 ☐ A ☐ B ☐ C
- 19 ☐ A ☐ B ☐ C
- 20 ☐ A ☐ B ☐ C
- 21 ☐ A ☐ B ☐ C
- 22 ☐ A ☐ B ☐ C
- 23 ☐ A ☐ B ☐ C
- 24 ☐ A ☐ B ☐ C
- 25 ☐ A ☐ B ☐ C

ocak5567

- 1 ☐ A ☐ B ☐ C
- 2 ☐ A ☐ B ☐ C
- 3 ☐ A ☐ B ☐ C
- 4 ☐ A ☐ B ☐ C
- 5 ☐ A ☐ B ☐ C
- 6 ☐ A ☐ B ☐ C
- 7 ☐ A ☐ B ☐ C
- 8 ☐ A ☐ B ☐ C
- 9 ☐ A ☐ B ☐ C
- 10 ☐ A ☐ B ☐ C
- 11 ☐ A ☐ B ☐ C
- 12 ☐ A ☐ B ☐ C
- 13 ☐ A ☐ B ☐ C
- 14 ☐ A ☐ B ☐ C
- 15 ☐ A ☐ B ☐ C
- 16 ☐ A ☐ B ☐ C
- 17 ☐ A ☐ B ☐ C
- 18 ☐ A ☐ B ☐ C
- 19 ☐ A ☐ B ☐ C
- 20 ☐ A ☐ B ☐ C
- 21 ☐ A ☐ B ☐ C
- 22 ☐ A ☐ B ☐ C
- 23 ☐ A ☐ B ☐ C
- 24 ☐ A ☐ B ☐ C
- 25 ☐ A ☐ B ☐ C

- 1 ☐ A ☐ B ☐ C
- 2 ☐ A ☐ B ☐ C
- 3 ☐ A ☐ B ☐ C
- 4 ☐ A ☐ B ☐ C
- 5 ☐ A ☐ B ☐ C
- 6 ☐ A ☐ B ☐ C
- 7 ☐ A ☐ B ☐ C
- 8 ☐ A ☐ B ☐ C
- 9 ☐ A ☐ B ☐ C
- 10 ☐ A ☐ B ☐ C
- 11 ☐ A ☐ B ☐ C
- 12 ☐ A ☐ B ☐ C
- 13 ☐ A ☐ B ☐ C
- 14 ☐ A ☐ B ☐ C
- 15 ☐ A ☐ B ☐ C
- 16 ☐ A ☐ B ☐ C
- 17 ☐ A ☐ B ☐ C
- 18 ☐ A ☐ B ☐ C
- 19 ☐ A ☐ B ☐ C
- 20 ☐ A ☐ B ☐ C
- 21 ☐ A ☐ B ☐ C
- 22 ☐ A ☐ B ☐ C
- 23 ☐ A ☐ B ☐ C
- 24 ☐ A ☐ B ☐ C
- 25 ☐ A ☐ B ☐ C

Doğru:

Doğru:

Doğru:

Doğru:

Yanlış:

Yanlış:

Yanlış:

Yanlış:

PUAN:

PUAN:

PUAN:

PUAN: