

**HAYAT BİLGİSİ**

1. Aşağıdaki ifadelerden hangisi **yanlıştır**?

- A) Her öğrencinin benzer ve farklı özelliklerinin olması doğaldır.  
 B) Farklılıklar insanı özel ve eşsiz yapar.  
 C) Sınıfça izlenen bir filmde herkes mutlaka aynı zevki alır.

2. Aşağıdaki seçeneklerden hangisinde verilen özelliklere sahip olan kişileri arkadaş olarak **seçmeyiz**?

- A) Uyumlu, paylaşımcı, hoşgörülü  
 B) Alay eden, bencil, somurtkan  
 C) Saygılı, güvenilir, sorumluluk sahibi

3. Bir yarışmayı rakip takım kazanırsa aşağıdakilerden hangisini yapmalıyız?

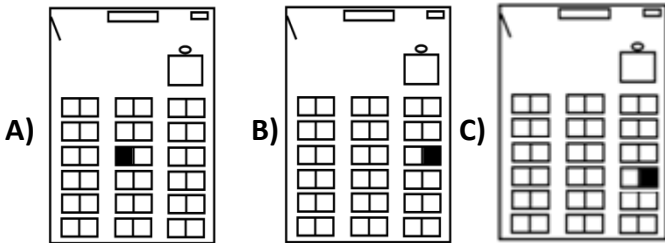
- A) Takım arkadaşlarımıza kızmalıyız.  
 B) Kazanan takımı kutlamalıyız.  
 C) Yarışma alanını terk etmeliyiz.

4. **I. Kendine güvenmesi**  
**II. Çalışkanlığı**  
**III. Güçlükler karşısında yılmaması**  
**IV. Okuma sevgisi**

Mustafa Kemal'in, başarılı olmasında etkili olan özellikler aşağıdaki hangi seçenekte verilmiştir?

- A) I – II – III – IV    B) I – II – IV    C) II – IV

5. Sınıfta, öğretmen masasının karşısında, 4. sıranın sağında oturduğunuz söyleyen bir öğrencinin kendi yeri, çizdiği krokide hangi taralı bölgededir?



6. **I. Okula zamanında gitmeliyiz.**  
**II. Çöpleri yerlere atmamız.**  
**III. Bulduğumuz eşyaları görevlilere vermeliyiz.**  
**IV. Merdivenlerin sağından çıkıp sağından inmeliyiz.**

Yukarıdakilerin hangileri okulda uymamız gereken kurallardandır?

- A) I – II – III    B) I – II – IV    C) I – III – IV

7. “Arkadaşlarınız arasında yaşanan bir problemde sizden hakem olmanız isteniyor.” Bu durumda aşağıdakilerden hangisini yaparak tarafsız davranmış olursunuz?

- A) İki tarafı da dinleyip haklı olanı belirleyerek  
 B) Size daha yakın olan arkadaşınızın haklı olduğunu söyleyerek  
 C) Kimin haklı olduğunu bulmak için kura çekerek

8. **I. Birbirimizin sözünü kesmeden dinlemeliyiz.**  
**II. Fikirlerimizi mutlaka kabul ettirmeliyiz.**  
**III. Karşımızdakinin düşüncelerine hoşgörülü ve saygılı olmalıyız.**

Kişilerle iletişim kurarken yukarıdakilerden hangilerine dikkat etmeliyiz?

- A) I – II – III    B) I – III    C) I – II

**TÜRKÇE**

9. “Bu hareketinden dolayı herkes ona gülüyor.” cümlesinde aşağıdaki hangi soruya cevap **alamayız**?

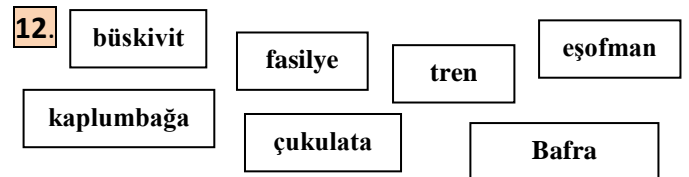
- A) Kim?    B) Nasıl?    C) Niçin?

10. “Sonbaharda ağaçlar yapraklarını döker.” cümlesinde altı çizili sözcüğün **eş anlamlısı** hangi seçenekte verilmiştir?

- A) Okullar eylül ayında açılır.  
 B) Yaz tatilinde çok eğlendim.  
 C) Güz mevsimini çok severim.

11. Aşağıdaki cümlelerin hangisinde **yazım yanlışı** vardır?

- A) Samsundan kalkan uçak Trabzon’a doğru gidiyor.  
 B) Bursalı bir arkadaşım var.  
 C) Fatmalar bizim eve yakın oturuyorlar.



Yukarıdaki kelimelerden kaç tanesi **doğru** yazılmıştır?

- A) 4 tanesi    B) 5 tanesi    C) 6 tanesi

13. “Şu kalemler .....” cümlesinde noktalı yere aşağıdakilerden hangisi getirilirse anlam **bozulur**?

- A) bana gerekli.    B) bana ver.    C) kimin?

14.



Merdivenleri çok  
vavaş çıkıyordu.

Kürşat'ın söylediği cümlede altı çizili sözcüğün zıt anlamlısı hangi seçenekte verilmiştir?

- A) Başını hafif yana doğru çevirdi.  
B) Yürürken arada bir duruyordu.  
C) Servise yetişmek için hızlı yürüyordu.

15. "bütün – yaptım – için – yiyecekleri – bu – bana – senin" kelimelerinden anlamlı bir cümle oluşturduğumuzda hangi sözcüğe gerek yoktur?

- A) için B) bütün C) bana

16.

1 – Herkese karşı kırıci davranıyorsun.

2 – Fırtına, ağacın dallarını kırdı.

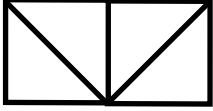
3 – Sözlerinle beni çok kırdın.

Yukarıdaki cümlelere göre "kır" kelimesi hangi seçenekteki cümlede farklı anlamda kullanılmıştır?

- A) 1 B) 2 C) 3

### MATEMATİK

17.



Yandaki şekilde kaç tane üçgen, kaç tane kare, kaç tane dikdörtgen vardır?

- A) 2 kare, 5 üçgen, 1 dikdörtgen  
B) 3 kare, 4 üçgen, 2 dikdörtgen  
C) 1 dikdörtgen, 4 üçgen, 4 kare

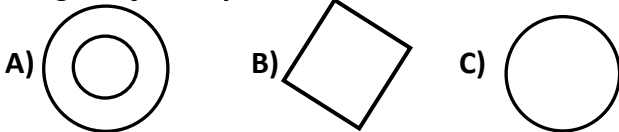
18.

E

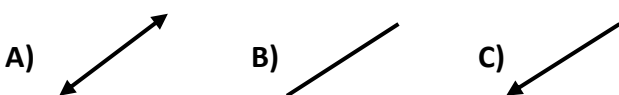
harfini oluşturan doğru parçalarıyla ilgili olarak aşağıdakilerden hangisi doğrudur?

- A) 3 yatay, 1 dikey doğru parçasından oluşmuştur.  
B) 2 eğik, 2 yatay doğru parçasından oluşmuştur.  
C) 1 dikey, 3 eğik doğru parçasından oluşmuştur.

19. Pergelimizi kullanarak aşağıdaki şekillerden hangisini çizemeyiz?



20. Aşağıdaki şekillerden hangisi ışına örnektir?



21. Aşağıdaki bilgilerden kaç tanesi doğrudur?

I. Karenin tüm kenarları birbirine eşittir.

II. Dikdörtgenin karşılıklı kenarları birbirine eşittir.

III. Çemberin açısı ve köşesi yoktur.

IV. Üçgenin üç kenarı ve üç köşesi vardır.

- A) 2 tanesi B) 3 tanesi C) 4 tanesi

22.

Üçgen prizma

Kare prizma

küp

silindir

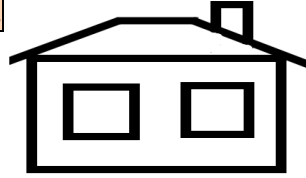
koni

Dikdörtgenler prizması

Dikdörtgen çizebilmek için yukarıdaki geometrik cisimlerin kaç tanesinden yararlanabiliriz?

- A) 3 tane B) 4 tane C) 5 tane

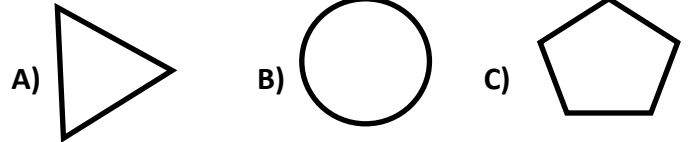
23.



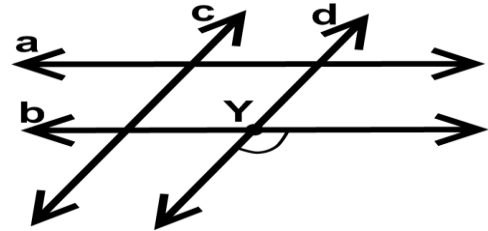
Yandaki şekilde kaç tane dik açı vardır?

- A) 12 tane B) 14 tane C) 15 tane

24. "Benim hiç köşem yok. Ayrıca hiç de açım yok." diyerek kendini tanıtan geometrik cisim hangisi olabilir?



25.



Yukarıdaki şekle göre hangisi yanlıştır

- A) Y açısı dar açıdır.  
B) c ve d doğrusu paraleldir  
C) a ve b doğrusu paraleldir.

BAŞARILAR

Sınav süresi 35 dakikadır.

Her soru 4 (dört) puandır.

Bafra Gazi  
İlköğretim Okulu  
3. Sınıflar  
Genel  
Değerlendirme  
Sınavı - ...

Adı: .....  
Soyadı: .....

- 1 ☐ A ☐ B ☐ C
- 2 ☐ A ☐ B ☐ C
- 3 ☐ A ☐ B ☐ C
- 4 ☐ A ☐ B ☐ C
- 5 ☐ A ☐ B ☐ C
- 6 ☐ A ☐ B ☐ C
- 7 ☐ A ☐ B ☐ C
- 8 ☐ A ☐ B ☐ C
- 9 ☐ A ☐ B ☐ C
- 10 ☐ A ☐ B ☐ C
- 11 ☐ A ☐ B ☐ C
- 12 ☐ A ☐ B ☐ C
- 13 ☐ A ☐ B ☐ C
- 14 ☐ A ☐ B ☐ C
- 15 ☐ A ☐ B ☐ C
- 16 ☐ A ☐ B ☐ C
- 17 ☐ A ☐ B ☐ C
- 18 ☐ A ☐ B ☐ C
- 19 ☐ A ☐ B ☐ C
- 20 ☐ A ☐ B ☐ C
- 21 ☐ A ☐ B ☐ C
- 22 ☐ A ☐ B ☐ C
- 23 ☐ A ☐ B ☐ C
- 24 ☐ A ☐ B ☐ C
- 25 ☐ A ☐ B ☐ C

Doğru:

Yanlış:

PUAN:

Bafra Gazi  
İlköğretim Okulu  
3. Sınıflar  
Genel  
Değerlendirme  
Sınavı - ...

Adı: .....  
Soyadı: .....

- 1 ☐ A ☐ B ☐ C
- 2 ☐ A ☐ B ☐ C
- 3 ☐ A ☐ B ☐ C
- 4 ☐ A ☐ B ☐ C
- 5 ☐ A ☐ B ☐ C
- 6 ☐ A ☐ B ☐ C
- 7 ☐ A ☐ B ☐ C
- 8 ☐ A ☐ B ☐ C
- 9 ☐ A ☐ B ☐ C
- 10 ☐ A ☐ B ☐ C
- 11 ☐ A ☐ B ☐ C
- 12 ☐ A ☐ B ☐ C
- 13 ☐ A ☐ B ☐ C
- 14 ☐ A ☐ B ☐ C
- 15 ☐ A ☐ B ☐ C
- 16 ☐ A ☐ B ☐ C
- 17 ☐ A ☐ B ☐ C
- 18 ☐ A ☐ B ☐ C
- 19 ☐ A ☐ B ☐ C
- 20 ☐ A ☐ B ☐ C
- 21 ☐ A ☐ B ☐ C
- 22 ☐ A ☐ B ☐ C
- 23 ☐ A ☐ B ☐ C
- 24 ☐ A ☐ B ☐ C
- 25 ☐ A ☐ B ☐ C

Doğru:

Yanlış:

PUAN:

Bafra Gazi  
İlköğretim Okulu  
3. Sınıflar  
Genel  
Değerlendirme  
Sınavı - ...

Adı: .....  
Soyadı: .....

- 1 ☐ A ☐ B ☐ C
- 2 ☐ A ☐ B ☐ C
- 3 ☐ A ☐ B ☐ C
- 4 ☐ A ☐ B ☐ C
- 5 ☐ A ☐ B ☐ C
- 6 ☐ A ☐ B ☐ C
- 7 ☐ A ☐ B ☐ C
- 8 ☐ A ☐ B ☐ C
- 9 ☐ A ☐ B ☐ C
- 10 ☐ A ☐ B ☐ C
- 11 ☐ A ☐ B ☐ C
- 12 ☐ A ☐ B ☐ C
- 13 ☐ A ☐ B ☐ C
- 14 ☐ A ☐ B ☐ C
- 15 ☐ A ☐ B ☐ C
- 16 ☐ A ☐ B ☐ C
- 17 ☐ A ☐ B ☐ C
- 18 ☐ A ☐ B ☐ C
- 19 ☐ A ☐ B ☐ C
- 20 ☐ A ☐ B ☐ C
- 21 ☐ A ☐ B ☐ C
- 22 ☐ A ☐ B ☐ C
- 23 ☐ A ☐ B ☐ C
- 24 ☐ A ☐ B ☐ C
- 25 ☐ A ☐ B ☐ C

Doğru:

Yanlış:

PUAN:

Bafra Gazi  
İlköğretim Okulu  
3. Sınıflar  
Genel  
Değerlendirme  
Sınavı - ...

Adı: .....  
Soyadı: .....

- 1 ☐ A ☐ B ☐ C
- 2 ☐ A ☐ B ☐ C
- 3 ☐ A ☐ B ☐ C
- 4 ☐ A ☐ B ☐ C
- 5 ☐ A ☐ B ☐ C
- 6 ☐ A ☐ B ☐ C
- 7 ☐ A ☐ B ☐ C
- 8 ☐ A ☐ B ☐ C
- 9 ☐ A ☐ B ☐ C
- 10 ☐ A ☐ B ☐ C
- 11 ☐ A ☐ B ☐ C
- 12 ☐ A ☐ B ☐ C
- 13 ☐ A ☐ B ☐ C
- 14 ☐ A ☐ B ☐ C
- 15 ☐ A ☐ B ☐ C
- 16 ☐ A ☐ B ☐ C
- 17 ☐ A ☐ B ☐ C
- 18 ☐ A ☐ B ☐ C
- 19 ☐ A ☐ B ☐ C
- 20 ☐ A ☐ B ☐ C
- 21 ☐ A ☐ B ☐ C
- 22 ☐ A ☐ B ☐ C
- 23 ☐ A ☐ B ☐ C
- 24 ☐ A ☐ B ☐ C
- 25 ☐ A ☐ B ☐ C

Doğru:

Yanlış:

PUAN: