

**HAYAT BİLGİSİ**

1. Arkadaş seçerken dikkat etmemiz gereken durumlar vardır. Aşağıdakilerden hangisi arkadaş seçiminde dikkat edilmesi gereken önemli özelliktir?

- A) Ayşe'nin yüzünün çilli olması
B) Ahmet'in başarılı öğrenci olması
C) Beyza'nın güvenilir birisi olması

2.

1. Bağıarak rahatlmasını

2. Farklı şeyler düşünmeye çalışmasını

3. Derin nefes almasını

Mehmet çok öfkeli. Bu sırada Mehmet'e yukarıdakilerden hangisini önermezsiniz?

- A) 3 B) 2 C) 1

3. "Kemal, okulunu değiştirmek zorunda kalmıştı. Eski arkadaşlarını özliyordu. Yeni okulunda çok az arkadaş vardı. Oyunlara katılamıyor, arkadaşları oyuna çağırıyordu. Öğretmenine de durumu anlatmaya çekiniyordu."

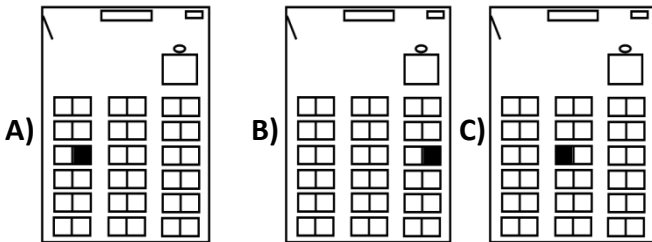
Yukarıdaki duruma göre Kemal'in asıl sorunu nedir?

- A) Okulunu değiştirmek
B) Yeni arkadaşlarıyla iletişim kuramamak
C) Eski arkadaşlarını özlemek

4. "İhtiyaç ve isteklerimizi ifade ederken başkalarına karşı..... olmalıyız." Cümlesinde boş bırakılan yerlere aşağıdakilerden hangisi yazılmalıdır?

- A) saygılı B) sabırsız C) dedikoducu

5. Sınıfta yazı tahtasının karşısında, 3. sıranın solunda oturduğunuz söyleyen bir öğrencinin kendi yeri, çizdiği krokide hangi taralı bölgededir?



6. "Arkadaşlarımızla ilişkilerimizde davranışlardan kaçınmalıyız." cümlesini en uygun tamamlayan hangisidir?

- A) örnek B) güzel C) yanlış

7. Bir yerin kuş bakışı görünüşünün kâğıt üzerine çizilmesine ne denir?

- A) kroki B) harita C) plan

8. Okulun tarihçesi ile ilgili araştırma yapan bir öğrenci, aşağıdakilerden hangisine ulaşamaz?

- A) Okulumuzdan mezun olan ünlü sanatçı ve politikacı vardır.
B) Milli Eğitim Bakanı okulumuza gelecektir.
C) Okulumuz iki kez onarım geçirmiştir.

TÜRKÇE

9. "Bir elin nesi var, iki elin sesi var." atasözünün anlamı hangisiyle ilgilidir?

- A) tutumlu olma ile
B) birlikte çalışma ile
C) verdiği sözü tutma ile

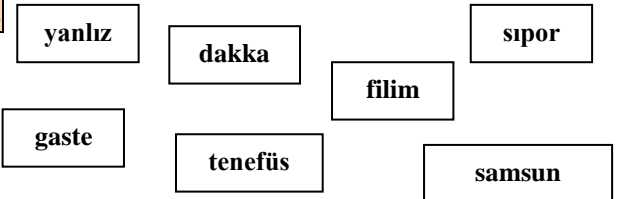
10. "Benim dişlerim bembeyaz dişlerimi fırçalıyorum." cümlesinde boş bırakılan yere hangisi yazılmalıdır?

- A) bazen B) yarın C) çünkü

11. "Kardeşimin okula kaydını dün yaptırdık." cümlesine göre aşağıdaki soruların hangisinin cevabı yoktur?

- A) nasıl B) ne zaman C) neyi


12.



Yukarıdaki kelimelerden kaç tanesi yanlış yazılmıştır?

- A) 7 tanesi B) 6 tanesi C) 5 tanesi

13.



Akşam yakındı () Hava yavaş yavaş kararıyordu.

Gökhan'ın söylediği cümlede parantezle belirtilen yere hangi noktalama işareti yazılmalıdır?

- A) soru işareti B) nokta C) virgül

14. Aşağıdakilerin hangisinde **zıt anlamlı** sözcükler bir arada kullanılmıştır?

- A) Akıl yaşta değil, baştadır.
B) Ayağını yorganına göre uzat.
C) Allah gümüş kapıyı kapatırsa, altın kapıyı açar.

15. Aşağıdaki cümlelerin hangisinde **sebep-sonuç ilişkisi** vardır?

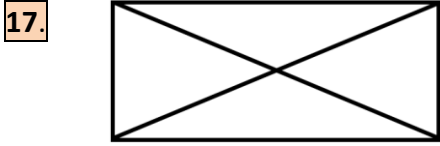
- A) Dedem her akşam bana masal okur.
B) O, bu okuldaki en temiz çocuktü.
C) Cetvel kullanmadığı için şekilleri güzel çizemedi.

16. 1 – aklına 2 – tilkinin 3 – yaşlı
4 – kurnazlık 5 – gelmiş

Yukarıdaki kelimelerinden anlamlı ve düzgün bir cümle oluştursak sıralama nasıl olur?

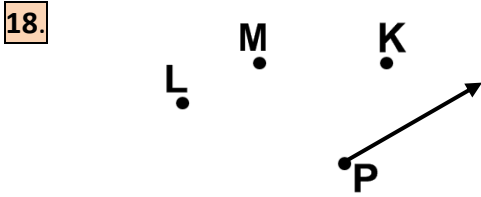
- A) 2 – 3 – 5 – 4 – 1
B) 3 – 2 – 1 – 4 – 5
C) 4 – 5 – 3 – 2 – 1

MATEMATİK



Yukarıdaki şekilde kaç tane **geniş açı** vardır?

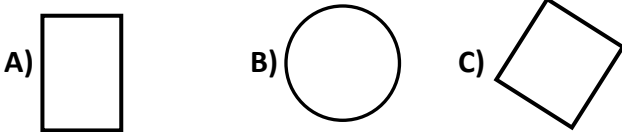
- A) 2 tane B) 4 tane C) 6 tane



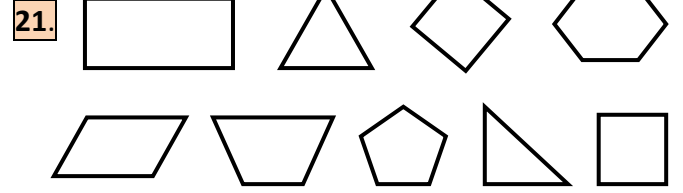
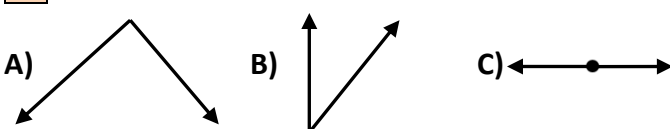
Yukarıdaki “P” noktasını hangi noktayla birleştirirsek geniş açı elde ederiz?

- A) L B) M C) K

19. Gönyemizi kullanarak aşağıdaki şekillerden hangisini çizemeyiz?



20. Aşağıdakilerden hangisi **doğru açı**dır?



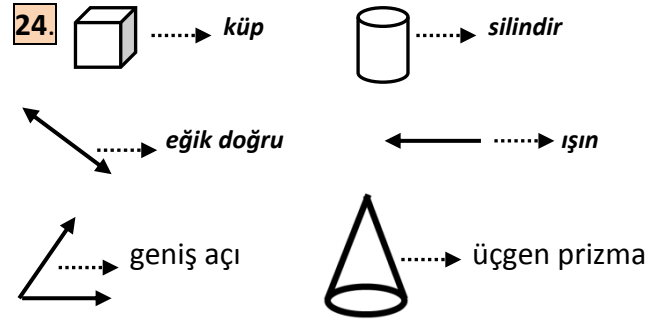
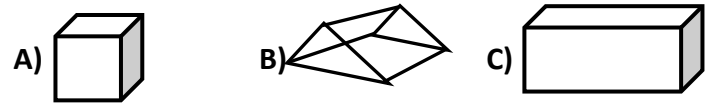
Yukarıdaki şekillerden kaç tanesinin tüm açıları **dik açı**dır?

- A) 5 tane B) 4 tane C) 3 tane

22. Aşağıdaki şekillerden hangisi **düzlemsel bölgeye** örnektir?

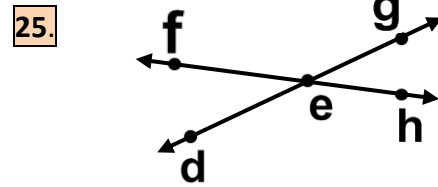


23. Aşağıdaki şekillerden hangisinin yüzey sayısı **en az**dır?



Yukarıdaki eşleştirmelerden kaç tanesi **doğrudur**?

- A) 3 tanesi B) 4 tanesi C) 2 tanesi



Yukarıdaki iki doğrunun kesiştiği nokta hangisidir?

- A) e B) d C) g

BAŞARILAR

Sınav süresi 35 dakikadır.

Her soru 4 (dört) puandır.

Bafra Gazi
İlköğretim Okulu
3. Sınıflar
Genel
Değerlendirme
Sınavı - ...

Adı:
Soyadı:

- 1 ☐ A ☐ B ☐ C
- 2 ☐ A ☐ B ☐ C
- 3 ☐ A ☐ B ☐ C
- 4 ☐ A ☐ B ☐ C
- 5 ☐ A ☐ B ☐ C
- 6 ☐ A ☐ B ☐ C
- 7 ☐ A ☐ B ☐ C
- 8 ☐ A ☐ B ☐ C
- 9 ☐ A ☐ B ☐ C
- 10 ☐ A ☐ B ☐ C
- 11 ☐ A ☐ B ☐ C
- 12 ☐ A ☐ B ☐ C
- 13 ☐ A ☐ B ☐ C
- 14 ☐ A ☐ B ☐ C
- 15 ☐ A ☐ B ☐ C
- 16 ☐ A ☐ B ☐ C
- 17 ☐ A ☐ B ☐ C
- 18 ☐ A ☐ B ☐ C
- 19 ☐ A ☐ B ☐ C
- 20 ☐ A ☐ B ☐ C
- 21 ☐ A ☐ B ☐ C
- 22 ☐ A ☐ B ☐ C
- 23 ☐ A ☐ B ☐ C
- 24 ☐ A ☐ B ☐ C
- 25 ☐ A ☐ B ☐ C

Doğru:

Yanlış:

PUAN:

Bafra Gazi
İlköğretim Okulu
3. Sınıflar
Genel
Değerlendirme
Sınavı - ...

Adı:
Soyadı:

- 1 ☐ A ☐ B ☐ C
- 2 ☐ A ☐ B ☐ C
- 3 ☐ A ☐ B ☐ C
- 4 ☐ A ☐ B ☐ C
- 5 ☐ A ☐ B ☐ C
- 6 ☐ A ☐ B ☐ C
- 7 ☐ A ☐ B ☐ C
- 8 ☐ A ☐ B ☐ C
- 9 ☐ A ☐ B ☐ C
- 10 ☐ A ☐ B ☐ C
- 11 ☐ A ☐ B ☐ C
- 12 ☐ A ☐ B ☐ C
- 13 ☐ A ☐ B ☐ C
- 14 ☐ A ☐ B ☐ C
- 15 ☐ A ☐ B ☐ C
- 16 ☐ A ☐ B ☐ C
- 17 ☐ A ☐ B ☐ C
- 18 ☐ A ☐ B ☐ C
- 19 ☐ A ☐ B ☐ C
- 20 ☐ A ☐ B ☐ C
- 21 ☐ A ☐ B ☐ C
- 22 ☐ A ☐ B ☐ C
- 23 ☐ A ☐ B ☐ C
- 24 ☐ A ☐ B ☐ C
- 25 ☐ A ☐ B ☐ C

Doğru:

Yanlış:

PUAN:

Bafra Gazi
İlköğretim Okulu
3. Sınıflar
Genel
Değerlendirme
Sınavı - ...

Adı:
Soyadı:

- 1 ☐ A ☐ B ☐ C
- 2 ☐ A ☐ B ☐ C
- 3 ☐ A ☐ B ☐ C
- 4 ☐ A ☐ B ☐ C
- 5 ☐ A ☐ B ☐ C
- 6 ☐ A ☐ B ☐ C
- 7 ☐ A ☐ B ☐ C
- 8 ☐ A ☐ B ☐ C
- 9 ☐ A ☐ B ☐ C
- 10 ☐ A ☐ B ☐ C
- 11 ☐ A ☐ B ☐ C
- 12 ☐ A ☐ B ☐ C
- 13 ☐ A ☐ B ☐ C
- 14 ☐ A ☐ B ☐ C
- 15 ☐ A ☐ B ☐ C
- 16 ☐ A ☐ B ☐ C
- 17 ☐ A ☐ B ☐ C
- 18 ☐ A ☐ B ☐ C
- 19 ☐ A ☐ B ☐ C
- 20 ☐ A ☐ B ☐ C
- 21 ☐ A ☐ B ☐ C
- 22 ☐ A ☐ B ☐ C
- 23 ☐ A ☐ B ☐ C
- 24 ☐ A ☐ B ☐ C
- 25 ☐ A ☐ B ☐ C

Doğru:

Yanlış:

PUAN:

Bafra Gazi
İlköğretim Okulu
3. Sınıflar
Genel
Değerlendirme
Sınavı - ...

Adı:
Soyadı:

- 1 ☐ A ☐ B ☐ C
- 2 ☐ A ☐ B ☐ C
- 3 ☐ A ☐ B ☐ C
- 4 ☐ A ☐ B ☐ C
- 5 ☐ A ☐ B ☐ C
- 6 ☐ A ☐ B ☐ C
- 7 ☐ A ☐ B ☐ C
- 8 ☐ A ☐ B ☐ C
- 9 ☐ A ☐ B ☐ C
- 10 ☐ A ☐ B ☐ C
- 11 ☐ A ☐ B ☐ C
- 12 ☐ A ☐ B ☐ C
- 13 ☐ A ☐ B ☐ C
- 14 ☐ A ☐ B ☐ C
- 15 ☐ A ☐ B ☐ C
- 16 ☐ A ☐ B ☐ C
- 17 ☐ A ☐ B ☐ C
- 18 ☐ A ☐ B ☐ C
- 19 ☐ A ☐ B ☐ C
- 20 ☐ A ☐ B ☐ C
- 21 ☐ A ☐ B ☐ C
- 22 ☐ A ☐ B ☐ C
- 23 ☐ A ☐ B ☐ C
- 24 ☐ A ☐ B ☐ C
- 25 ☐ A ☐ B ☐ C

Doğru:

Yanlış:

PUAN: