

**HAYAT BİLGİSİ**

1. I) Arkadaşımdan ihtiyacım olan ilgiyi izin isteyerek alırım.

II) Kantinden ihtiyacımı alırken sıraya girerim.

III) Beni kızdıran arkadaşşıma duygularımı öfkelenmeden söylerim.

IV) Derste tartışma yaparken düşündüklerimi karşımdakine bağırarak söylerim.

Yukarıdakilerden hangileri **doğrudur**?

A) I, II, IV B) I, II, III C) II, III, IV

Yumruğumu sıkırım.	İçimden 10'a kadar sayarım.	Kötü sözler söylerim.
Çok bağırırım.	Oradan uzaklaşıyorum.	Sakinleşmeye çalışırım.

Öfke ile baş edebilmek için yukarıdakilerden kaç tanesini **yapmamalıyız**?

A) 1 B) 2 C) 3

3. I) Önce söylemek istediğimi düşünürüm.

II) Dinleyenin yüzüne bakarım.

III) Ses tonumu ayarlar, gerektiğinde vurguya özen gösteririm.

IV) Konuşmalarımnda nezaket ifadelerini kullanırım.

V) Söylediklerime inanarak, kendime güvenerek konuşurum.

İyi bir konuşmacı yukarıdakilerden hangilerini uygulamalıdır?

A) I, II, III, IV, V B) I, III, V C) II, IV, V

4. "Arkadaş seçerken ..... değerleri gözetmeliyiz. Bununla birlikte farklılıklara karşı da ..... olmalıyız." Cümlesinde boş bırakılan yerlere aşağıdakilerden hangileri yazılmalıdır?

A) zengin – dikkatli  
B) kişisel – sabırsız  
C) olumlu – hoşgörülü

Güvenilir	Nazik	Yardımsız
Sır tutan	Kavgacı	Saygısız

Arkadaşlarınızda yukarıdaki özelliklerinden kaç tanesinin olmasını istersiniz?

A) 5 B) 4 C) 3

6. "Arkadaşlarımdan arasında çıkan bir anlaşmazlıkta ..... " cümlesini aşağıdakilerden hangisi tamamlar?

A) En sevdiğim arkadaşşımdan yana olurum.  
B) Hiçbir şeye karışmam, kavgayı seyredirim.  
C) Herkese eşit davranırım.

7. Sınıf başkanını ve sosyal kulüplerde görev alan öğrencileri kim seçer?

A) Öğrenciler  
B) Öğretmenler  
C) Müdür yardımcısı

8. İyi bir öğrenci aşağıdakilerden hangisini **yapmaz**?

A) Derste parmak kaldırarak söz ister.  
B) İsteddiği araç gereçlerle okula gider.  
C) Oyun oynarken kurallara uyar.

**TÜRKÇE**

sonra	büyük	çok	tatlı
önce	acı	az	

Yukarıdaki zıt anlamlı sözcükleri eşleştirdiğimizde hangisi dışarıda kalır?

A) büyük B) sonra C) tatlı

10. "Minnoş'un kısa zamanda iyileşeceğini öğrenince çok sevindik." cümlesinde altı çizili sözcüğün yerine hangisini kullanırsak anlam bozulmaz?

A) günde B) haftada C) sürede

11. "yat" sözcüğü hangi cümlede diğerlerinden farklı anlamda kullanılmıştır?

A) Mavi renkli olan, bu limandaki en güzel yattı.  
B) Kardeşim, bu akşam erkenden yattı.  
C) Mehmet, eve gelir gelmez yattı.

samimi	vakit	kelime	içten
sözcük	zaman	bağışlamak	

Yukarıdaki eş anlamlı sözcükleri eşleştirdiğimizde hangisi dışarıda kalır?

A) vakit B) bağışlamak C) içten

13.



Satır sonuna sığmayan kelimeleri .....ile ayırıyorum.

Metehan'ın söylediği cümlede boş bırakılan yere ne yazılmalıdır?

- A) kısa çizgi B) konuşma çizgisi C) virgül

14. "Uğraş ve ağabeyi, dün gece yatak odasındaki ranza için tartışmaya başladılar." cümlesine göre hangi sorunun cevabı yoktur?

- A) kim B) ne zaman C) nasıl

15. Aşağıdaki cümlelerin hangisinde sebep-sonuç ilişkisi vardır?

- A) Çiftçi gün boyunca tarlayı sürdü.  
B) Doktor, hasta çocuk için ilaç yazıyordu.  
C) İşçi kadınlar tezgâha daha da yaklaştılar.

16.

1 – çok

2 – gelişmesi

3 – Türkçenin

4 – bağlıdır

5 – okumaya

Yukarıdaki kelimelerinden anlamlı ve düzgün bir cümle oluşturursak sıralama nasıl olur?

- A) 3 – 2 – 5 – 4 – 1  
B) 3 – 5 – 2 – 1 – 4  
C) 3 – 2 – 1 – 5 – 4

## MATEMATİK

17. I) Bütün açıları dik.


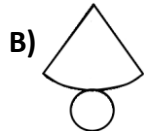
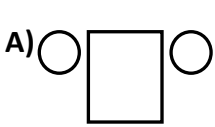
II) Dört köşem vardır.

III) Kenar uzunlukları eşittir.

Açıklamaları verilen geometrik şekil hangisidir?

- A) kare B) dikdörtgen C) küp

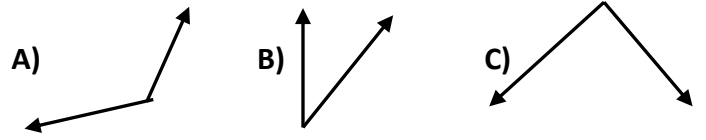
18. Koni modelinin düzlemsel şekillere açılmış hali hangisidir?



19. "Benim beş yüzeyim vardır. İki yüzeyim üçgensel bölgeden, üç yüzeyim ise dikdörtgensel bölgeden oluşmuştur. Buna göre ben hangi geometrik şekilim?

- A) üçgen prizma B) koni C) silindir

20. Aşağıdakilerden hangisi dik açıdır?



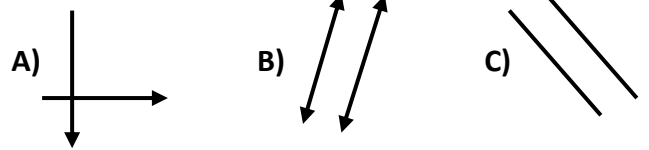
21.

N L V T H E M F

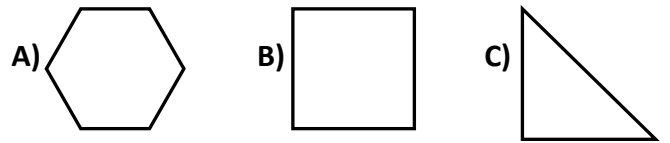
Yukarıdaki harflerden kaç tanesinde dar açı vardır?

- A) 4 tane B) 3 tane C) 2 tane

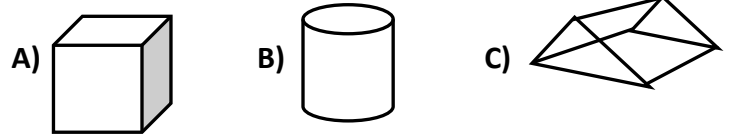
22. Aşağıdakilerden hangisi paralel doğru parçalarına örnektir?



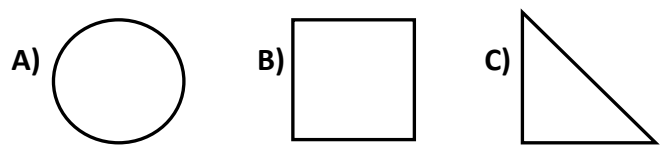
23. Aşağıdaki şekillerden hangisinin tüm açıları geniş açıdır?



24. Aşağıdaki geometrik cisimlerden hangisinin köşesi ve açısı yoktur?



25. Aşağıdaki geometrik şekillerden hangisinin kenarı eğik doğru parçası modeline örnektir?



BAŞARILAR

*Sınav süresi 35 dakikadır.*

*Her soru 4 (dört) puandır.*

Bafra Gazi  
İlköğretim Okulu  
3. Sınıflar  
**Genel**  
**Değerlendirme**  
Sınavı - ...

Adı: .....  
Soyadı: .....

- 1 ☐ A ☐ B ☐ C
- 2 ☐ A ☐ B ☐ C
- 3 ☐ A ☐ B ☐ C
- 4 ☐ A ☐ B ☐ C
- 5 ☐ A ☐ B ☐ C
- 6 ☐ A ☐ B ☐ C
- 7 ☐ A ☐ B ☐ C
- 8 ☐ A ☐ B ☐ C
- 9 ☐ A ☐ B ☐ C
- 10 ☐ A ☐ B ☐ C
- 11 ☐ A ☐ B ☐ C
- 12 ☐ A ☐ B ☐ C
- 13 ☐ A ☐ B ☐ C
- 14 ☐ A ☐ B ☐ C
- 15 ☐ A ☐ B ☐ C
- 16 ☐ A ☐ B ☐ C
- 17 ☐ A ☐ B ☐ C
- 18 ☐ A ☐ B ☐ C
- 19 ☐ A ☐ B ☐ C
- 20 ☐ A ☐ B ☐ C
- 21 ☐ A ☐ B ☐ C
- 22 ☐ A ☐ B ☐ C
- 23 ☐ A ☐ B ☐ C
- 24 ☐ A ☐ B ☐ C
- 25 ☐ A ☐ B ☐ C

Doğru:

Yanlış:

PUAN:

Bafra Gazi  
İlköğretim Okulu  
3. Sınıflar  
**Genel**  
**Değerlendirme**  
Sınavı - ...

Adı: .....  
Soyadı: .....

- 1 ☐ A ☐ B ☐ C
- 2 ☐ A ☐ B ☐ C
- 3 ☐ A ☐ B ☐ C
- 4 ☐ A ☐ B ☐ C
- 5 ☐ A ☐ B ☐ C
- 6 ☐ A ☐ B ☐ C
- 7 ☐ A ☐ B ☐ C
- 8 ☐ A ☐ B ☐ C
- 9 ☐ A ☐ B ☐ C
- 10 ☐ A ☐ B ☐ C
- 11 ☐ A ☐ B ☐ C
- 12 ☐ A ☐ B ☐ C
- 13 ☐ A ☐ B ☐ C
- 14 ☐ A ☐ B ☐ C
- 15 ☐ A ☐ B ☐ C
- 16 ☐ A ☐ B ☐ C
- 17 ☐ A ☐ B ☐ C
- 18 ☐ A ☐ B ☐ C
- 19 ☐ A ☐ B ☐ C
- 20 ☐ A ☐ B ☐ C
- 21 ☐ A ☐ B ☐ C
- 22 ☐ A ☐ B ☐ C
- 23 ☐ A ☐ B ☐ C
- 24 ☐ A ☐ B ☐ C
- 25 ☐ A ☐ B ☐ C

Doğru:

Yanlış:

PUAN:

Bafra Gazi  
İlköğretim Okulu  
3. Sınıflar  
**Genel**  
**Değerlendirme**  
Sınavı - ...

Adı: .....  
Soyadı: .....

- 1 ☐ A ☐ B ☐ C
- 2 ☐ A ☐ B ☐ C
- 3 ☐ A ☐ B ☐ C
- 4 ☐ A ☐ B ☐ C
- 5 ☐ A ☐ B ☐ C
- 6 ☐ A ☐ B ☐ C
- 7 ☐ A ☐ B ☐ C
- 8 ☐ A ☐ B ☐ C
- 9 ☐ A ☐ B ☐ C
- 10 ☐ A ☐ B ☐ C
- 11 ☐ A ☐ B ☐ C
- 12 ☐ A ☐ B ☐ C
- 13 ☐ A ☐ B ☐ C
- 14 ☐ A ☐ B ☐ C
- 15 ☐ A ☐ B ☐ C
- 16 ☐ A ☐ B ☐ C
- 17 ☐ A ☐ B ☐ C
- 18 ☐ A ☐ B ☐ C
- 19 ☐ A ☐ B ☐ C
- 20 ☐ A ☐ B ☐ C
- 21 ☐ A ☐ B ☐ C
- 22 ☐ A ☐ B ☐ C
- 23 ☐ A ☐ B ☐ C
- 24 ☐ A ☐ B ☐ C
- 25 ☐ A ☐ B ☐ C

Doğru:

Yanlış:

PUAN:

Bafra Gazi  
İlköğretim Okulu  
3. Sınıflar  
**Genel**  
**Değerlendirme**  
Sınavı - ...

Adı: .....  
Soyadı: .....

- 1 ☐ A ☐ B ☐ C
- 2 ☐ A ☐ B ☐ C
- 3 ☐ A ☐ B ☐ C
- 4 ☐ A ☐ B ☐ C
- 5 ☐ A ☐ B ☐ C
- 6 ☐ A ☐ B ☐ C
- 7 ☐ A ☐ B ☐ C
- 8 ☐ A ☐ B ☐ C
- 9 ☐ A ☐ B ☐ C
- 10 ☐ A ☐ B ☐ C
- 11 ☐ A ☐ B ☐ C
- 12 ☐ A ☐ B ☐ C
- 13 ☐ A ☐ B ☐ C
- 14 ☐ A ☐ B ☐ C
- 15 ☐ A ☐ B ☐ C
- 16 ☐ A ☐ B ☐ C
- 17 ☐ A ☐ B ☐ C
- 18 ☐ A ☐ B ☐ C
- 19 ☐ A ☐ B ☐ C
- 20 ☐ A ☐ B ☐ C
- 21 ☐ A ☐ B ☐ C
- 22 ☐ A ☐ B ☐ C
- 23 ☐ A ☐ B ☐ C
- 24 ☐ A ☐ B ☐ C
- 25 ☐ A ☐ B ☐ C

Doğru:

Yanlış:

PUAN: