

ÖDEV- 2

ADI SOYADI:.....

HAYAT BİLGİSİ

NİÇİN ZAMANI PLANLAMALIYIZ?



Hepimizin birey olarak sorumlulukları vardır. Evde görevlerimiz, okulla ilgili yapmamız gerekenler bellidir. Bütün bunları yaparken düzenli olmak bizleri başarıya götürür.

İlk olarak, yapılacak işleri önceliklerine



göre sıralamalıyız. Her iş için belli bir zaman ayırmalı, yaptığımız plana uymalıyız.



Okulla ilgili işlerimizi sıraya koymalıyız. Böylece okulda başarılı

oluruz. Oyun oynamaya ve dinlenmeye zamanımız kalır.

Okulda hangi gün hangi derslerin olacağı ders programı ile belirlenmiştir. Ders programına göre ders araç gereçlerini hazırlamalıyız. Okulla ilgili hazırlık yapmaya özen göstermeliyiz.

Dünyadaki bütün liderler planlı ve disiplinli çalışmışlardır. Bu özellikleri onları başarılı yapmıştır. Planlı ve düzenli çalışan liderlerden biri de Atatürk'tür.



Aşağıdaki ifadelerin noktalı yerlerini verilen kelimelerin uygun olanlarıyla tamamlayınız.

başarımızı - plana - başarılı - zamanında - öncelik - planlı, düzenli

1. Okulla ilgili işlerimizi sırasına koymalıyız.
2. Planlı ve düzenli olmak olmamızı sağlar.
3. Görevlerimizi yapmaya özen göstermeliyiz.
4. Yaptığımız uymamak başarısızlığa neden olur.
5. Atatürk'ün bir lider olmasının nedeni ve olmasıdır.
6. Okulla ilgili işlerimizi zamanda yapmak etkiler.

Seçeneklerden doğru cevabı bulup işaretleyelim.

1. Aşağıdakilerden hangisi okulla ilgili yapılan hazırlıklardandır?

- A. Kişisel bakıma özen göstermek
- B. Her gün yarım saat kitap okumak
- C. Ders araç ve gereçlerini çantaya yerleştirmek
- a. Ödev yapmak
- b. Öğrendiklerini tekrarlamak
- c. Okul kıyafetlerini hazırlamak

2. Yukarıdaki okulla ilgili günlük işler hangi seçenekte öncelik sırasına göre dizilmiştir?

- A. a, b, c B. a, c, b C. b, a, c

3. Okulla ilgili işleri zamanında yapmak aşağıdakilerden hangisini etkiler?

- A. duygularımızı B. başarımızı C. düşüncelerimizi

1. Şiire göre en iyi arkadaş kimdir?
A. Bilgisayar
B. Kitap
C. Televizyon
2. Kitap, anlattıklarının sonunda çocuğa ne diyor?
A. "Akşamları erken yat." diyor.
B. "Sabahları kahvaltı et." diyor.
C. "Çalış, iyi, doğru ol!" diyor.
3. Çocuk, kitabını ne kadar güzel buluyor?
A. Okulu kadar güzel buluyor.
B. Evleri kadar güzel buluyor.
C. Oyuncakları kadar güzel buluyor.
4. Şiirin birinci dizesinde kaç hece vardır?
A. 7 B. 4 C. 8
5. Şiirin son dizesinde kaç sözcük vardır?
A. 4 B. 8 C. 6

Bu gün "isim oyunu" oynayalım. Her doğru cevap 10 puandır

	İnsan adı	Hayvan Adı	Bitki Adı	İl-İlçe Adı	Eşya Adı	Puan
A	Ayşe	Aslan	Ayva	Ankara	Atkı	50
B						
K						
M						
E						
İ						
R						
Toplam puan:						

ÖYKÜ TAMAMLAMA

(Sevgili çocuklar, aşağıda yarım bırakılmış öyküyü dilediğiniz gibi tamamlayınız. Harika bir öykü yazacağınızdan eminim. Sayfa yetmezse defterinize devam ediniz)

Eski bir evde anne, baba ve çocuklarıyla birlikte bir aile yaşırmış. Bu ailenin yakacak kömürleri, odunları olmadığı için çok üşüyorlarmış. Paraları olmadığı için de alamıyorlarmış. Bir gün.....

.....

.....

.....

.....

.....

.....

ÖDEV- 2

ADI SOYADI:.....

MATEMATİK


Verilen nesne gruplarını inceleyiniz noktalı yerlere aşağıdaki sözcüklerden uygun olanı koyunuz.

deste




Bintop.

düzine



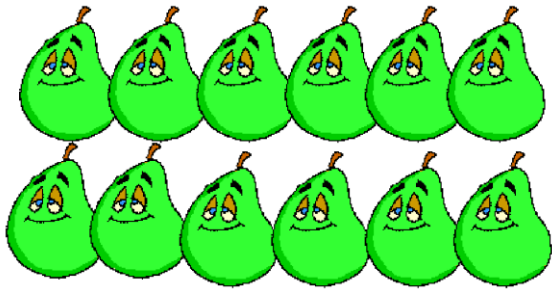
Bin.....elma.



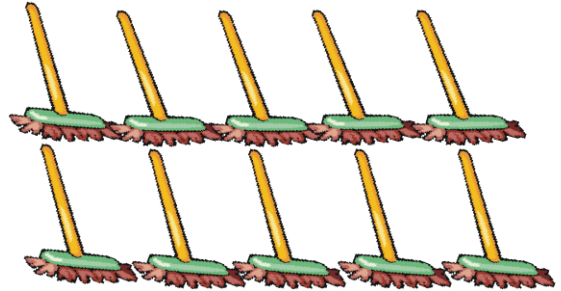
Bin civ civ.




Bin balon.



Binarmut.



Bin fırça.

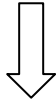


Bin uęun b6ceęi. Bin k6pek.


Yüzlük tablodan yararlanalım.

Komşu sayılar

1	2	3	4	5	6	7	8	9	10
11	12	13	14	15	16	17	18	19	20
21	22	23	24	25	26	27	28	29	30
31	32	33	34	35	36	37	38	39	40
41	42	43	44	45	46	47	48	49	50
51	52	53	54	55	56	57	58	59	60
61	62	63	64	65	66	67	68	69	70
71	72	73	74	75	76	77	78	79	80
81	82	83	84	85	86	87	88	89	90
91	92	93	94	95	96	97	98	99	100



	92	
--	----	--



91	92	93
----	----	----

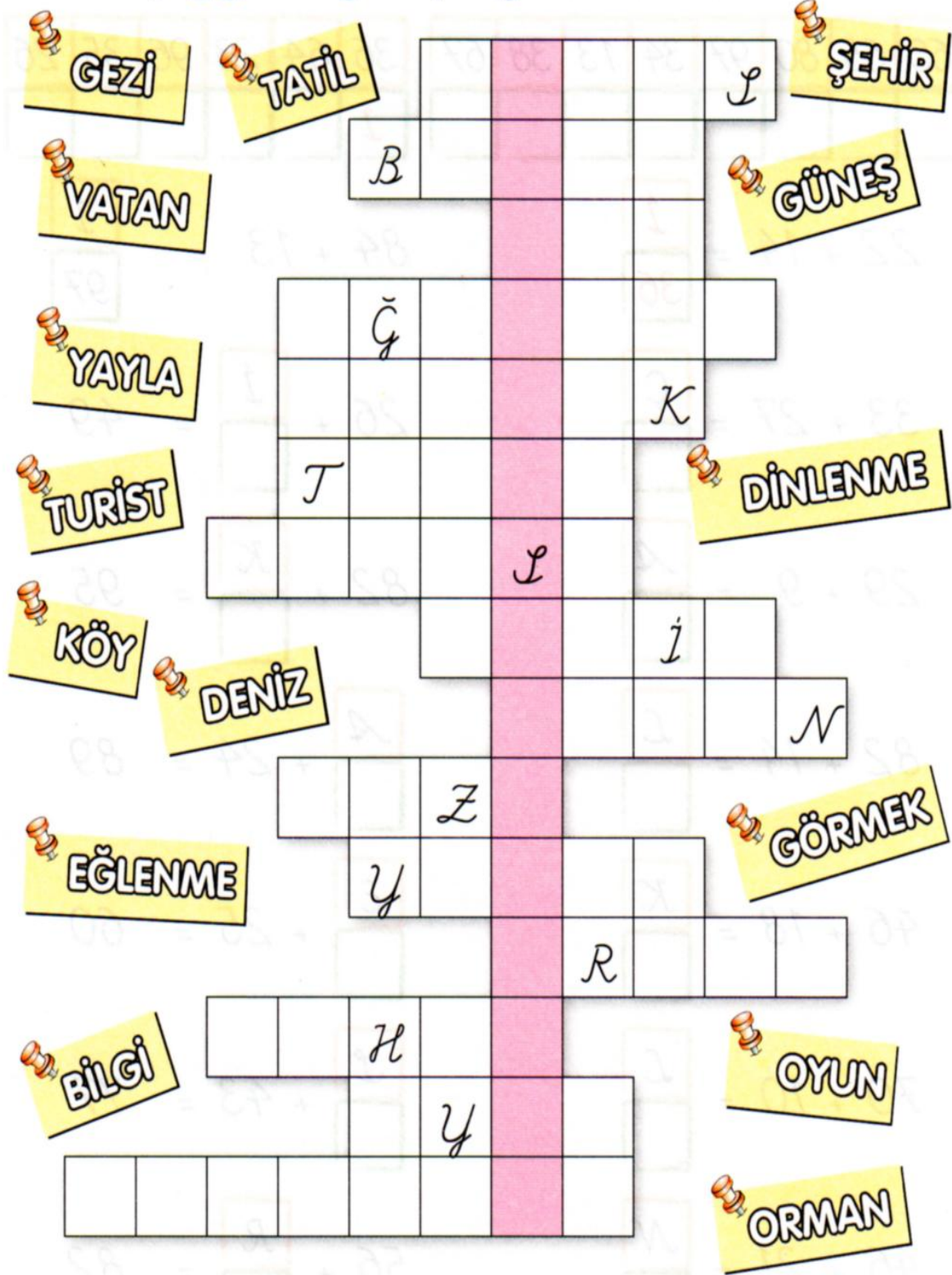
Aşğıdaki sayıların komşularını yazınız. Yukarıdaki tablodaki yerini boyayınız.

	22	
	19	
	99	
	86	
	13	
	27	
	51	

	57	
	45	
	62	
	7	
	28	
	64	
	5	

	38	
	43	
	50	
	65	
	72	
	89	
	91	

Tatil ile ilgili sözcükleri bulmacadaki ipuçlarından yararlanarak yerlerine yazın. Pembe kareleri yukarıdan aşağıya okuyun. Şifreyi bulun.



Aşağıdaki sosyal etkinliklerin ve spor dallarının adlarını bulmacada işaretleyin.



RESİM MÜZİK SEYAHAT KAYAK BASKETBOL
TİYATRO FUTBOL BALE YÜZME
VOLEYBOL SINEMA FOLKLOR

Aşağıdaki toplama işlemlerinde verilmeyen sayıları bulun. Sayılara karşılık gelen harfleri üstteki karelere yerleştirin ve şifreyi çözün.

60	65	80	97	34	13	38	67	36	64	23	96	35	26
								İ					

$$22 + 14 = \begin{matrix} \boxed{İ} \\ \boxed{36} \end{matrix}$$

$$84 + 13 = \begin{matrix} \boxed{İ} \\ \boxed{97} \end{matrix}$$

$$33 + 27 = \begin{matrix} \boxed{Ç} \\ \boxed{} \end{matrix}$$

$$26 + \begin{matrix} \boxed{İ} \\ \boxed{} \end{matrix} = 49$$

$$29 + 9 = \begin{matrix} \boxed{A} \\ \boxed{} \end{matrix}$$

$$82 + \begin{matrix} \boxed{K} \\ \boxed{} \end{matrix} = 95$$

$$82 + 14 = \begin{matrix} \boxed{L} \\ \boxed{} \end{matrix}$$

$$\begin{matrix} \boxed{A} \\ \boxed{} \end{matrix} + 24 = 89$$

$$46 + 18 = \begin{matrix} \boxed{K} \\ \boxed{} \end{matrix}$$

$$\begin{matrix} \boxed{E} \\ \boxed{} \end{matrix} + 25 = 60$$

$$70 + 10 = \begin{matrix} \boxed{L} \\ \boxed{} \end{matrix}$$

$$\begin{matrix} \boxed{İ} \\ \boxed{} \end{matrix} + 43 = 77$$

$$46 + 21 = \begin{matrix} \boxed{N} \\ \boxed{} \end{matrix}$$

$$56 + \begin{matrix} \boxed{R} \\ \boxed{} \end{matrix} = 82$$

Bu sayı labirentinde sağı, sola, aşağı ya da yukarı hareket edebilirsin. Labirentin sol üst köşesindeki kutudan başlayarak sağ köşesindeki kutuya rakamlarının toplamı 17 ve 14 olan sayılar üstünde ilerleyerek ulaşın.

Toplam: 17

Örnek: $485 = 4+8+5=17$

458	890	321	673	214	831	671
899	755	409	296	467	881	435
682	818	638	449	964	962	867
747	402	672	721	725	476	439
825	631	506	892	436	557	476

Toplam: 14

482	789	815	662	437	809	435
671	306	905	809	635	748	621
374	923	653	442	833	790	343
724	336	243	633	725	554	644
829	700	687	704	821	667	509