

➤ Cümlelerin bilgi yönünden doğru olması için noktalı yerlere yazılacak sözcükleri seçiniz.

• altı • onlar • altmış üçtür • 3 • basamak • yüz
• mezura • altı karesel • santimetre • sekiz, on iki
• metre, santimetre • on iki • ayırt • daire, düz • 86'dır
• beş, dokuz • eğri • dört, sekiz • 1 metre 50 santimetre • karesel

1. 6 birlik, 8 onluktan oluşan sayı
2. 5 onluk, 7 birlikten oluşan sayının 6 onluğa eşit olması için birler basamağındaki rakama birlik eklenmelidir.
3. Bir düzine, aynı tür varlıktan oluşur.
4. Ege'nin 2 düzine, Uygur'un 3 deste kalemi var. Uygur'un kalemleri, Ege'ninkinden fazladır.
5. 48 doğal sayısı, onluk, birlikten oluşmuştur.
6. 25 doğal sayısında 2 rakamının bulunduğu basamak, basamağıdır.
7. Bir sayıdaki rakamların bulunduğu basamağa göre aldığı değer, değeridir.
8. 77 sayısındaki 7 rakamlarının basamak değerleri farkı
9. Kare prizma modelinin köşesi, ayırtı ve altı yüzü vardır.
10. Küpün 12 ayırtı, birbirine eş bölgeden oluşan yüzü vardır.
11. Üçgen prizma modelinin yüzü, ayırtı vardır.

12. Bir cismin dış bölümü, olarak adlandırılır.
13., prizmalarda iki yüzün ara kesitine denir.
14. Küreye benzeyen portakalın kabuğu yüzdür.
15. Silindire benzeyen davulun derileri, şeklinde yüzdür.
16. Varlıkların uzunluklarını kesin ve doğru olarak ölçebilmek için ve ölçü birimleri kullanılır.
17., metrenin yüz eş parçasından her birinin uzunluğudur.
18. İnsanların bel bölgesi ve ağaçların gövdesi gibi uzunlukları denilen standart ölçü aracı ile ölçeriz.
19. 3 metre kumaşın yarısı satıldığında geriye kumaş kalır.
20. Kare prizmanın tabanı, iki tane eş bölgeden oluşur.

Verilen anlatımlar doğru ise yay ayaç içine D, yanlış ise Y yazınız.



1. () 46 sayısında, dört onluk vardır.
2. () Bir deste, aynı tür on varlıktan oluşur.
3. () 4 düzine kalemi belirten sayı, 40'tır.
4. () 12 sayısı, iki basamaklı bir doğal sayıdır.
5. () 35 sayısında 5 rakamının bulunduğu basamak, birler basamağıdır.
6. () 44 sayısındaki 4 rakamlarının basamak değerleri farkı sıfırdır.
7. () 32 sayısındaki 2 rakamının basamak değeri, 2'dir.

MATEMATİKDOĞRU - YANLIŞ, İLİŞKİLENDİRME, BOŞLUK DOLDURMA,
EŞLEŞTİRME TESTLERİ

8. () Kare prizmanın, birbirine eş dikdörtgensel dört yan yüzü vardır.
9. () Küp modelinin karesel bölge olan 6 yüzü, birbirine eştir.
10. () Dikdörtgenler prizmasının tüm yüzleri birbirine eştir.
11. () Dikdörtgenler prizmasının ayrıt, yüz ve köşe sayısı, kare prizmanınkinden daha azdır.
12. () Silindirin tabanı bir kağıt üzerine konulup etrafı çiziliyor. Bu şeklin içi boyandığında oluşan şekil, dairedir.
13. () Kare prizmanın dikdörtgen şeklinde yüzü yoktur.
14. () Adım, karış, kulaç gibi standart olmayan ölçü birimleri ile varlıkların uzunlukları kesin ve doğru ölçülebilir.
15. () Silgi, ataş gibi cisimlerin uzunlukları, santimetre ile ölçülür.
16. () Boyumuzun uzunluğunu ölçerken metre ve santimetre birimlerini birlikte kullanırız.
17. () Adım, ayak, parmak gibi ölçü birimleri, her insanda aynıdır.
18. () Defterimize 10 santimetre uzunluğunda bir çizgi çizmek için cetveli kullanırız.
19. () Odanın enini ve boyunu ölçmek için metreyi kullanırız.
20. () 1 metre 75 santimetrelilik uzunluk, 2 metrelik uzunluktan daha fazladır.
21. () Kare prizmasının sekiz köşesi vardır.
22. () Dikdörtgenler prizmasının herhangi bir yüzü, kâğıt üzerine konulup etrafı çizilip kesildiğinde dikdörtgensel bölge oluşur.
23. () Üçgen prizmanın sekiz yüzü vardır.
24. () 5 onluktan oluşan doğal sayı, ellidir.
25. () 6 birlik 8 onluktan oluşan sayı, 86'dır.

MATEMATİKDOĞRU - YANLIŞ, İLİŞKİLENDİRME, BOŞLUK DOLDURMA,
EŞLEŞTİRME TESTLERİ

⇒ Aşağıdaki trafik işaret ve levhalarının hangi geometrik şekle benzediğini yazınız.



1. Nazlı, Ebru'nun teyzesinin kızıdır. Selim ile Ebru kardeşlerdir. **Buna göre aşağıdakilerden hangisi doğrudur?**

- A. Nazlı'nın annesi, Ebru'nun halasıdır.
B. Selim'in annesi, Nazlı'nın teyzesidir.
C. Ebru ile Nazlı, kardeşlerdir.

2. Aşağıdaki sözcüklerden hangisi, bir yönüyle diğerlerinden farklıdır?

- A. Kedi B. Ahmet C. Elif

3. 2B - 4Ç - 6E örüntüsünde bir kural vardır. **Bu kurala göre örüntü, aşağıdakilerden hangisiyle devam etmelidir?**

- A. 7G B. 8H C. 8G

4. Altışar tekerleği bulunan üç kamyonca, toplam kaç tekerlek vardır?

- A. 18 B. 15 C. 12

5. Aşağıdaki sayılardan hangisi 35'ten büyük, 38'den küçüktür?

- A. 34 B. 37 C. 39

6. Aşağıdaki cümlelerin hangisinde, noktalı yere okul sözcüğü yazılırsa cümle anlamı olur?

- A. Biz, uzun zamandır bu oturuyoruz.
B. Ablam, İstanbul Üniversitesi Hukuk bitirdi.
C., bilgi yuvasıdır.

7. silgi, çakmak, alet, zil, makas sözcüklerini, sözlükteki sırasına göre sıralayalım. **Buna göre baştan ikinci sözcük hangisi olur?**

- A. çakmak B. alet C. makas

8. Ahmet'in 24, kardeşinin 16 cevizi var. **İkisinin cevizlerinin eşit olması için Ahmet, kardeşine kaç ceviz vermelidir?**

- A. 8 B. 6 C. 4

9. □ △ □ ○ □ △ örüntüsünde bir kural vardır. **Bu kurala göre örüntüyü, aşağıdakilerden hangisi izlemelidir?**

- A. □ ○ B. □ ○ C. □ △

10. görevlidir - caddeleri - tutmak - temiz - hepimizin

1 2 3 4 5

Yukarıdakilerle anlamlı ve kurallı bir cümle oluşturabilmek için sözcük sıralaması nasıl yapılmalıdır?

- A. 2 - 4 - 3 - 5 - 1 B. 2 - 4 - 1 - 3 - 5 C. 5 - 1 - 2 - 4 - 3

11. Elif:

-

Hasan:

- Evet, yarın tatile çıkacağız

Elif, Hasan'a aşağıdakilerden hangisini sorarsa Hasan'ın verdiği yanıt anlamlı olur?

- A. Tatilinizi nerede geçireceksiniz?
 B. Tatile ne zaman çıkacaksınız?
 C. Yarın tatile mi çıkacaksınız?




12. Hasan Beyler, bu apartmanın dördüncü katına oturuyorlar. **cümlesinin anlamlı olabilmesi için aşağıdakilerden hangisi yapılmalıdır?**

- A. "Oturuyorlar" sözcüğü yerine, "taşındılar" sözcüğü yazılmalıdır.
 B. "Apartmanın" sözcüğü yerine, "binanın" sözcüğü yazılmalıdır.
 C. "Dördüncü" sözcüğü yerine, "ikinci" sözcüğü yazılmalıdır.

13. Aşağıdaki sözcük ikililerinden hangisi, bir yönüyle diğerlerinden farklıdır?

- A. ıslak - kuru B. yaş - kuru C. yaş - ıslak

14. Aşağıdaki eşleştirmelerden hangisi yanlıştır?

- A.  → 4 tane köşesi vardır.
 B.  → 2 tane köşesi vardır.
 C.  → 3 tane köşesi vardır.

15. 8 onluk 3 birlikten oluşan sayıdan 2 birlik 5 onluktan oluşan sayı çıkarıldığında hangi sayı elde edilir?

- A. 58 B. 45 C. 31

16. 5 koyun ile 4 tavuğun ayakları toplamı kaçtır? (Problemi, ileriye ritmik saymadan yararlanarak çözün.)

- A. 36 B. 28 C. 18

17. Bir sayının onlar ve birler basamağındaki rakamların yerleri değiştiriliyor. Oluşan yeni sayı, ilk sayıyla toplanıyor. **İki sayının toplamı 88 olduğuna göre aşağıdakilerden hangisi bu sayılardan biri olamaz?**

- A. 62 B. 44 C. 38




18. Aşağıdakilerden hangisinin uzunluğunu ölçmek için standart ölçme araçlarından metre kullanılmalıdır?

- A. bahçenin eni
 B. kitabın boyu
 C. ağaç gövdesinin kalınlığı

19. Aşağıdaki eşleştirmelerden hangisi yanlıştır?

- A. uzun - kısa sözcükleri → Karşıt anlamlı
 B. sevimli - sevimsiz sözcükleri → Karşıt anlamlı
 C. cevap - yanıt sözcükleri → Aynı anlamlı

20. Aşağıdakilerden hangisinin 8 köşesi, 12 ayrıtı ve 6 yüzü vardır?

- A.  B.  C. 

TÜRKÇE

Oğuz ve Cemal, aralarında çöp toplama yarışı düzenlediler. Oktay, yarışmada kimin kaç torba çöp topladığını yazacaktı. Her çöp dolu poşet için yarışmacıların adlarının karşısına bir çarpı işareti koyacaktı.

Deniz kenarına doğru ilerleyen Oğuz, dalgaların kıyıya yüklü miktarda çöp getireceğini düşünüyordu. Gerçekten de öyleydi. Kısa süre içinde, elindeki torbaların hepsini çöple doldurdu. Oktay, cep defterini çıkardı. Oğuz'un adı karşısına beş tane çarpı işareti koydu.

Ahmet Uysal
(Uyarlanmıştır)

1, 2 ve 3. soruları, metne göre yanıtlayınız.

1. Metne göre aşağıdakilerden hangisi söylenemez?

- A. Yarışmaya iki kişi katılmıştır.
- B. Oktay, yarışmacılardan biridir.
- C. Oğuz, deniz kenarından beş poşet çöp toplamıştır.

2. Metin için en uygun başlık, aşağıdakilerden hangisidir?

- A. Çöp Toplama Yarışı
- B. Çöpler
- C. Kirli Çevre

3. Metne göre aşağıdakilerden hangilerine ulaşılabilir?

- 1. Denizde çöpler vardır.
 - 2. Dalgalar, denizdeki çöpleri kıyıya taşır.
 - 3. Oktay, kimin kaç poşet çöp getirdiğini defterine yazar.
- A. 2 ve 3 B. 1 ve 3 C. 1, 2 ve 3

4. Yarışmaya 5() sınıf öğrencileri de katılmış() cümlesinde, yay araçların bulunduğu yerlere sırasıyla hangileri konulmalıdır?

- A. (.) (.) B. (,) (.) C. (.) (?)

5. bindiler - Ceren - hafta - ve - bisiklete - Hakan - sonu

1 2 3 4 5 6 7

Yukarıdakilerle anlamlı ve kurallı bir cümle oluşturmak için sözcükler nasıl sıralanmalıdır?

- A. 2 - 4 - 6 - 1 - 5 - 3 - 7
- B. 2 - 4 - 6 - 3 - 7 - 5 - 1
- C. 2 - 4 - 6 - 3 - 7 - 1 - 5

6. Aşağıdaki cümlelerin hangisinde, karşıt anlamlı sözcükler bir arada kullanılmıştır?

- A. Burak, yazdığım şiiri okumamış.
- B. Emel, Aylin'den uzun boyludur.
- C. Çantalardan biri ağır, diğeri hafifti.

MATEMATİK

7. Boyumun uzunluğu 1 metre 20 santimetredir. Babamın boyu, benimkinden 55 santimetre uzundur. Babamın boyunun uzunluğu, hangisinde doğru gösterilmiştir?

- A. 1 metre 75 santimetre
- B. 1 metre 70 santimetre
- C. 1 metre 55 santimetre

8. 2 metre 80 santimetrelilik kumaşın 1 metre 20 santimetresinden pantolon dikildi. Geriye ne kadar kumaş kaldı?

- A. 1 metre 30 santimetre
- B. 2 metre 60 santimetre
- C. 1 metre 60 santimetre

9. Aşağıdaki varlıklardan hangisi, geometrik cisimlerden biri olan küp modelidir?

A.



B.



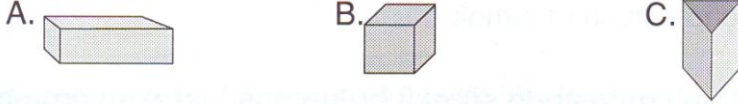
C.



10. 6 yüzü, 12 ayrıtı, 8 köşesi vardır.

- Yan yüzleri birbirine eş, dikdörtgensel bölgedir.
- Alt ve üst yüzleri birbirine eş, karesel bölgedir.

Yukarıda özellikleri verilen geometrik cisim hangisidir?

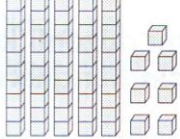


11. 3 düzinenin ve 3 destenin oluşturduğu sayıların toplamı sonucunda yeni bir sayı elde ediliyor. **Bu sayı için aşağıdakilerden hangisi söylenemez?**

- A. Onlar ve birler basamağındaki rakam aynıdır.
- B. Onlar basamağındaki rakamın basamak değeri 60'tır.
- C. 6 birlik, 3 onluktan oluşmuştur.

12. 3 birlik, 5 onluktan oluşan sayı ile 4 onluk, 6 birlikten oluşan sayıları toplayalım. **Oluşan yeni sayıda kaç onluk vardır?**

- A. 8
- B. 9
- C. 10

13.  **Yanda, sayı blokları ile gösterilen doğal sayı hangisidir?**

- A. 75
- B. 60
- C. 57

14. 66 sayısındaki 6 rakamlarının basamak değerleri farkı aşağıdakilerden hangisidir?

- A. 54
- B. 6
- C. 0

HAYAT BİLGİSİ

15. Aşağıdaki besin gruplarından hangisini tüketen kişi için Dengeli ve düzenli besleniyor. **diyebiliriz?**



16. Aşağıdakilerden hangisi, okulda uyulması gereken bir kural **değildir?**

- A. Derse, öğretmenden sonra girmek
- B. Sınıfta top oynamamak
- C. Çöpleri, çöp kutusuna atmak

17. Bir öğrencinin çantasında sürekli bulunması gereken araç-ge-reç, aşağıdakilerden hangisidir?

- A. matematik kitabı
- B. sulu boya
- C. silgi, kalem

18. Ela; uzun boylu, zayıf, siyah saçlı ve yeşil gözlü bir kızdır. Yasemin ise uzun boylu, zayıf, sarı saçlı ve mavi gözlü bir kızdır. **Buna göre Ela ve Yasemin'in özellikleri ile ilgili eşleştirmelerden hangisi yanlıştır?**

- A. Gözlerinin rengi → Benzer özellikleridir.
- B. Uzun boylu ve zayıf olmaları → Benzer özellikleridir.
- C. Saçlarının rengi → Farklı özellikleridir.

19. Haftada en az iki kez banyo yapan, tırnaklarını düzenli kesen, yemeklerden sonra dişlerini fırçalayan biri için hangileri söy-lenebilir?

- 1. Kişisel bakımına önem verir.
- 2. Sağlığına dikkat eder.
- 3. Kişisel bakımına özen göstermez.
- A. 1 ve 3
- B. 1 ve 2
- C. 1, 2 ve 3

20. Aşağıdaki bilgilerden hangisi doğrudur?

- A. Dengeli ve düzenli beslenmek, büyüme ve gelişmeyi olumsuz yönde etkiler.
- B. Okul kurallarına uymayan öğrenciler, herhangi bir kazayla karşılaşmazlar.
- C. Bazı kişisel bakımlarımızı yaparken büyüklerimizden yardım alabiliriz.

➤ Aşağıdaki cümleleri, bilgi yönünden doğru olması için noktalı yerlere yazılacak sözcükleri seçiniz.

düzenli - huzuru okulda Mehmet Akif Ersoy
dengeli beslenmiş ders programı tırnaklarımızı kesmek
dengeli - düzenli yetenekleri - ilgi alanları duygularımız
özenli öncelik benzer - farklı

1., bir hafta boyunca okulda hangi derslerin işleneceğini gösteren çizelgedir.
2., kişisel bakımdır.
3. Okul kuralları, okulda ve sağlamak için konulmuştur.
4. İstiklâl Marşı'mızın yazarı,'dur.
5. Sınıfta ve koridorda koşturmak, uyulması gereken kurallardan biridir.
6. Her çeşit besinden yeteri kadar yersek oluruz.
7. Sağlığımızı korumak için ve beslenmeliyiz.
8. İnsanların ve farklı olabilir.
9., davranışlarımızı etkiler.
10. Okulda uymamız gereken kurallardan biri de okul ve sınıf eşyalarını kullanmaktır.
11. İşlerimizi, sırasına koyarak yapmalıyız.
12. İnsanların ve yönleri vardır.

➤ Resimlerdeki davranışları niçin yapmamız gerekir? Kutucuklara, uygun nedenin başındaki harfi yazarak gösteriniz.



Tırnakları kesmek



Banyo yapmak



Elleri yıkamak



Dişleri fırçalamak

Davranışların yapılma nedenleri:

- a. Gün içinde elimize yapışan zararlı maddeleri temizlemek
- b. Uzayan tırnakların arasına mikropların yerleşmesini engellemek
- c. Dişlerimizin temiz ve sağlıklı olmasını sağlamak
- d. Deri ve saçlarımızın pis kokmasını engellemek ve vücudumuzu temizlemek

➤ Aşağıdaki anlatımları, bilgi yönünden doğru olacak şekilde örnekteki gibi eşleştiriniz.

- | | | |
|--|---------------------------------------|---|
| 1. Dengeli ve düzenli beslenen kişiler | <input checked="" type="checkbox"/> c | a. okula ders araç gereçlerini eksiksiz götürürler. |
| 2. Ders araç gereçlerini günlük ders programına göre hazırlayan öğrenciler | <input type="checkbox"/> | b. okul kurallarına aykırı bir davranıştır. |
| 3. Sınıfta oyun oynamak | <input type="checkbox"/> | c. sağlıklı olurlar. |
| 4. Dengeli ve düzenli beslenmek | <input type="checkbox"/> | ç. büyüme ve gelişmemizi olumlu etkiler. |
| 5. Başarılı olmak için | <input type="checkbox"/> | d. bağımsız bir ulus olduğumuzu gösterir. |
| 6. İstiklâl Marşı'mız ve bayrağımızın olması | <input type="checkbox"/> | e. planlı ve disiplinli çalışmak gerekir. |

➤ Aşağıdaki anlatımları okuyunuz. Doğru ise D, yanlış ise Y sütunundaki harfi, soru numarasına göre kutucuklara yazınız. Bulmacayı çözünüz.

D Y

O K

1. Okul araç gereçlerini, çantamıza ders programına göre yerleştirmeliyiz.

U K

2. Sözlük, yalnızca matematik dersinde ihtiyaç duyduğumuz ders araç gereçlerinden biridir.

U S

3. Kişisel bakımımızı yaparken bazen büyüklerimizden yardım isteyebiliriz.

L E

4. Bayrağımız, bağımsızlık sembollerimizden biridir.

Y B

5. Sınıfın ve okulun temizliğini sağlamak, öğrencilerin görevlerinden biri değildir.

M İ

6. Okul kuralları, öğretmenler ve okul görevlileri için konulmuştur.

G E

7. Dengeli ve düzenli beslenmek, her çeşit besinden yeterli kadar yiyerek olur.

Y Ş

8. Aynı yaştaki iki çocukta birinin boyunun uzun, diğeri- nin kısa olması, aralarındaki farklılığa örnektir.

V İ

9. Aynı yaştaki çocukların farklı özelliklerinin olması doğaldır.

Ö A

10. Yaşadığımız duygular ile davranışlarımız arasında bir ilişki yoktur.

S B

11. Okul kütüphanesindeki kitapları, özenli kullanmalıyız.

I L

12. Okula zamanında gitmek, okul kurallarından biridir.

N D

13. İstiklâl Marşı, yalnızca bayram törenlerinde söylenir.

R E

14. Bayrağımıza ve İstiklâl Marşı'mıza saygı göstermeliyiz.

1 2 3 4 5 6 4 7 6 8 3 9 10 11 12 13 12 14

--	--	--	--	--	--	--	--	--	--	--	--	--	--	--	--	--	--

➤ Aşağıdaki tabloyu inceleyiniz. Anlatımlar doğru ise yay ayaç içine D, yanlış ise Y yazınız.

Kişiler	Ezgi	Deniz	Umut
Fiziksel özellikleri	Sarı ve düz saçlı, mavi gözlü, zayıf	Siyah ve düz saçlı, mavi gözlü, zayıf	Siyah ve kıvrık saçlı, mavi gözlü, zayıf
Kişisel özellikleri	Hoşgörülü, çalışkan, inatçı, yardımsever, alçakgönüllü	Çalışkan, neşeli, dürüst, yardımsever, açık sözlü	Hoşgörülü, dürüst, çalışkan, mücadeleci
İlgi alanları ve yetenekleri	Resim yapmak, dans etmek, gezmek, müzik dinlemek	Dans etmek, kitap okumak, fotoğraf çekmek	Fotoğraf çekmek, resim yapmak, kitap okumak

- () Ezgi, Deniz ve Umut'un göz renkleri, fiziksel benzerliklerine örnektir.
- () Deniz ile Umut'un ilgi alanları ve yetenekleri arasında benzerlikler vardır.
- () Ezgi'nin inatçı, Deniz'in açık sözlü olması, aralarındaki bireysel farklılıklara örnektir.
- () Çalışkan olmaları, Ezgi, Deniz ve Umut'un benzer özellikleridir.
- () Resim yapmak, Deniz ile Umut'un benzer özelliğidir.
- () Ezgi, Deniz ve Umut'un benzer ve farklı özellikleri vardır.
- () Hoşgörülü olmaları, Umut ve Deniz'in benzer yönleridir.

➤ Aşağıdaki anlatımlar doğru ise yay ayaç içine D, yanlış ise Y yazınız.

- () Okula zamanında gidip gelmek, bir kuraldır.
- () İnsanlar arasındaki bireysel farklılıklar, yaşamı zenginleştirir.
- () Yaşanan duygular, insan sağlığını olumsuz yönde etkilemez.
- () Her insanın iyi yapabildiği bir davranış vardır.
- () Olaylar karşısında yaşanan duygular, davranışlarımıza ve yüzümüze yansır.
- () Okul eşyalarını ve kaynakları bilinçli kullanmak gerekir.