

14. Projeler çizip, köprüler, yollar, binalar yapan birinin mesleği aşağıda verilenden hangisi olabilir?

A)



Öğretmen

B)



Doktor

C)



Mühendis

15. - Suları boşa akıtmaz.
- Gereksiz yere harcamaz.
- Dişlerini fırçalar.
- Gereksiz yanan lambaları söndürür.
- Eşyalarını çabuk eskitmez.
- Çok uyur.

Bilinçli tüketicide yukarıdaki özelliklerden kaç tanesi olmalıdır?

- A) 4
B) 3
C) 5

SINAV BİTTİ.

CEVAPLARINIZI KONTROL EDİNİZ.

TÜRKÇE TESTİ

DİKKAT: BU BÖLÜMDE CEVAPLAYACAĞINIZ SORU SAYISI 15'TİR.
Bu bölüm için önerilen cevaplama süresi 20 dakikadır.
Cevaplamaya istediğiniz sorudan başlayabilirsiniz.
Cevaplarınızı cevap kağıdının "Türkçe Testi" için ayrılan kısmına işaretleyiniz.



Ülkenin birinde padişah kendine vezir seçecekmiş. Birgün vezir adaylarını çağırarak onlara birer kitap dağıtmış. Bu kitapları okuyup üç ay sonra getirmelerini istemiş. Üç ay sonra aldığı kitabı anlayarak okuyup, yıpratmadan tertemiz geri getireni vezir yapmış.

(1., 2. ve 3. soruları metne göre cevaplayınız.)

1. Padişah kendine ne seçecekmiş?

- A) Komutan
B) Aşçı
C) Vezir

2. Padişah vezir adaylarından ne yapmalarını istemiş?

- A) Verdiği kitabı okuyup geri getirmelerini istemiş.
B) Üç ay sonra gelmelerini istemiş.
C) Kitaplarının parasını istemiş.


3. Padişah vezir adaylarından hangisini seçmiş?

- A) En hızlı kitap okuyanı
- B) Kitabı okumadan getireni
- C) Kitabı anlayarak okuyup yırtmadan tertemiz getireni

4. Aşağıdakilerden hangisi tam ve kurallı bir tümcedir?

- A) Selin kitap okuyan
- B) Sena okula gitti.
- C) Söylüyor Nida şarkı.

5.




Öğretmenimiz ders anlatırken; Ayşe kalemını açıyor, Ali sessizce öğretmeni anlamaya çalışıyor, Ahmet ise sürekli parmak kaldırıp bir şey söylemek istiyor.

Buna göre, adı geçen öğrencilerden hangisi iyi bir dinleyicidir?

- A) Ayşe
- B) Ali
- C) Ahmet

12.



Ali gözleri bağlı olarak hangi tabakta ne olduğunu hangi duyu organıyla anlayabilir?

- A) Dokunma
duyusu → Deri
- B) Koku alma
duyusu → Burun
- C) Görme
duyusu → Göz

13. 1. Çalışkan olmak
2. Yardımsever olmak
3. Oyunbozan olmak
4. Temiz ve düzenli olmak
5. Kavgacı olmak

İyi bir öğrencide olması gereken olumlu davranışlar hangi seçenekte tam olarak verilmiştir?

- A) 1, 2, 4
- B) 3, 5
- C) 1, 2, 3, 4, 5

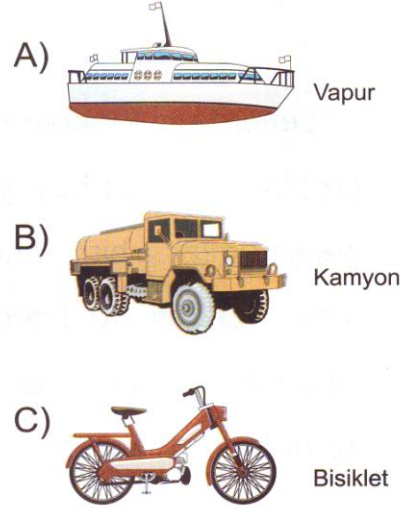
9.



Yukarıda yapılan eşleştirmelerden hangisi doğrudur?

- A) 1.
- B) 2.
- C) 3.

10. Aşağıdakilerden hangisi bir karayolu taşıtı değildir?



11. Sağlıklı olmak için aşağıda verilenlerden hangisini yapmalıyız?

- A) Çok televizyon izlemeliyiz.
- B) Aşı yaptırmalı, temiz olmalı ve dengeli beslenmeliyiz.
- C) Çok yemek yemeli, az uyumalıyız.

6.



Yukarıdaki resme göre Eren ne yapmak istiyor olabilir?

- A) Arkadaşına telefon etmeye gidiyor.
- B) Gördüğü yangını it-faiyeye haber vermek istiyor.
- C) Yangından kaçıyor.

7. Aşağıdaki tümcelerin hangisinde bir yazım yanlışı vardır?

- A) ben iyi bir öğrenciyim.
- B) Okulumu çok severim.
- C) Trafik kurallarına uyalım.

8. I. olmak

II. beslenmeliyiz

III. sağlıklı

IV. için

V. dengeli

Yukarıdaki sözcüklerin anlamlı sıralanışı aşağıdakilerden hangisidir?

- A) I, V, II, III, IV
- B) IV, V, III, II, I
- C) III, I, IV, V, II

9. "Cumhuriyet ne zaman ilan edildi" tümcesinin sonuna hangi noktalama işareti konmalıdır?

- A) (.) nokta
- B) (?) soru işareti
- C) (!) ünlem

10. Hangi seçenekte alfabemizdeki sesli harfler doğru verilmiştir?

- A) a, e, ı, i, o, ö, u, ü
- B) a, b, c, ç, d, e, f, g
- C) p, ç, t, k, f, ş, h, v

11. I. Kuş-la-rı-mız
II. Ar-ka-da-ş-la-rım
III. Top-rak-la-rı-mız
IV. Bil-gi-sa-yar

Yukarıda verilen sözcüklerden hangisi hecelerine **yanlış** ayrılmıştır?

- A) II
- B) IV
- C) I ve III

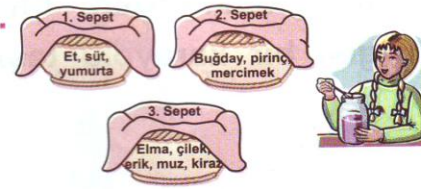
12. Aşağıda verilen tümcelerinde farklı bir düşünceye geçerken kullandığımız sözcüklerden biri vardır?

- A) Kulak, işitme duyu organımızdır.
- B) Göz, görme duyu organımızdır.
- C) Dil, tat alma duyu organımızdır; ama konuşmamızı da sağlar.

13. Hangi tümcede “rüya” sözcüğünün eş anlam-lısı kullanılmıştır?

- A) Ali koşarken düştü.
- B) Babam bana çok düşkün.
- C) Düşümde uçuyordum.

6.



Sepetlerde bulunan besin gruplarından biri büyüüp gelişmemizi, biri enerji almamızı biri de içerdiği vitaminlerle hastalıklardan korunmamızı sağlar.

Ayşe hastalıklardan korunmak için hangi sepeti seçmelidir?

- A) 1. sepet
- B) 2. sepet
- C) 3. sepet

7. Hangi cümlede **yanlış** bir ifade kullanılmıştır?

- A) İnsanlar farklı özelliklere sahiptir.
- B) Benim de başarılı olduğum yönlerim var.
- C) Herkes çok iyi resim yapabilir.

8.

- — özenli
- ▲ — eşyalarımızı
- — kullanmalıyız

Sözcükleri ifade eden simgeler nasıl dizilirse **anlamli** bir cümle oluşturur?

- A) ● ■ ▲
- B) ■ ● ▲
- C) ▲ ■ ●

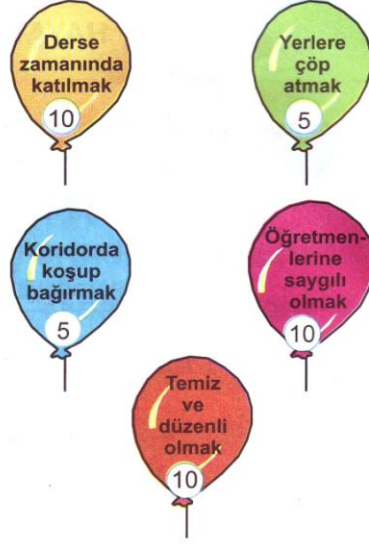
4.



Şanlı bayrağımız neyi temsil eder?

- A) Türkiye Cumhuriyeti'ni ve bağımsızlığımızı
- B) Atalarımızı ve kahramanlıklarını
- C) Okulumuzu ve öğrencilerini

5.



Balonların bazıları uyulması gereken doğru kuralları, bazıları da yanlış davranışları taşımaktadır.

Kaan, doğru kuralları taşıyan balonları topladığında kaç puan alır?

- A) 15 puan
- B) 30 puan
- C) 20 puan

14. Aşağıdaki tümcelerinde hangisinde “yüz” sözcüğü sayı anlamında kullanılmıştır?

- A) Kardeşim iyi yüzer.
- B) Sepette yüz misket var.
- C) Yüzüm kızardı.

15.



Atatürk'ün kardeşinin adı nedir?

- A) Makbule
- B) Zübeyde
- C) Ali Rıza

TÜRKÇE TESTİ BİTTİ.
MATEMATİK TESTİNE GEÇİNİZ.

MATEMATİK TESTİ

DİKKAT: BU BÖLÜMDE CEVAPLAYACAĞINIZ SORU SAYISI 15'TİR.
Bu bölüm için **önerilen** cevaplama süresi 20 dakikadır.
Cevaplamaya istediğiniz sorudan başlayabilirsiniz.
Cevaplarınızı cevap kağıdının "Matematik Testi" için ayrılan kısmına işaretleyiniz.

1.



Verilen şeklin ifade ettiği doğal sayı aşağıdakilerden hangisidir?

- A) 73
- B) 37
- C) 30

2. İki basamaklı **en büyük** doğal sayıda kaç onluk kaç birlik vardır?

- A) 9 onluk + 9 birlik
- B) 1 onluk + 0 birlik
- C) 3 onluk + 9 birlik

3. "Ali'nin 2 deste, Ayşe'nin de 1 düzine kalemi var."
Ali ve Ayşe'nin toplam kaç kalemi vardır?

- A) 21
- B) 32
- C) 23

HAYAT BİLGİSİ TESTİ

DİKKAT: BU BÖLÜMDE CEVAPLAYACAĞINIZ SORU SAYISI 15'TİR.
Bu bölüm için **önerilen** cevaplama süresi 20 dakikadır.
Cevaplamaya istediğiniz sorudan başlayabilirsiniz.
Cevaplarınızı cevap kağıdının "Hayat Bilgisi Testi" için ayrılan kısmına işaretleyiniz.

1. I. Öğle yemeği



II. Okul zamanı



III. Kahvaltı



IV. Oyun saati



V. Uyku saati



VI. Akşam yemeği



VII. Ders çalışma saati



Yukarıda verilenlerle bir günümüzü planlarsak doğru sıralama nasıl olur?

A)

B)

C)

2. Aşağıda verilen işlerden hangisini ancak yardım alarak yapabiliriz?

- A) Dişlerimizi fırçalamak.
- B) Saçlarımızı kesmek.
- C) Odamızı toplamak.

3. "Benim sınıfta oturduğum sıra"

Verilen cümlede boş bırakılan yere aşağıdaki sözcük gruplarından hangisi **yazılamaz**?

- A) duvar kenarındadır.
- B) müdür odasıdır.
- C) pencere kenarındadır.

12.
$$\begin{array}{r} 35 \\ 16 \\ 22 \\ + 8 \\ \hline \end{array}$$

işleminin sonucu nedir?

- A) 61
B) 71
C) 81

13. Aşağıda verilen eşleştirmelerden hangisi doğrudur?

- A) 25 — Çıkan
- 5 — Eksilen
20 — Fark
- B) 25 — Fark
- 5 — Çıkan
20 — Eksilen
- C) 25 — Eksilen
- 5 — Çıkan
20 — Fark

14.



İçlerinde 4'er pasta olan
7 tabakta toplam kaç
pasta vardır?

- A) 28
B) 16
C) 32

15. "Okul ile evimiz arası
93 adım" diyen çocuk,
hangi ölçme aracını
kullanmıştır?

- A) Metre
B) Cetvel
C) Adım

MATEMATİK TESTİ BİTTİ.

HAYAT BİLGİSİ TESTİNE GEÇİNİZ.

4.

$$\begin{array}{r} 24 \\ + 14 \\ \hline \end{array}$$

$$\begin{array}{r} 53 \\ + 26 \\ \hline \end{array}$$

$$\begin{array}{r} 60 \\ + 20 \\ \hline \end{array}$$

$$\begin{array}{r} 86 \\ + 10 \\ \hline \end{array}$$

$$\begin{array}{r} 74 \\ + 23 \\ \hline \end{array}$$

Yukarıda verilen toplama işlemlerinin sonuçları hangi şıkta doğru olarak verilmiştir?

- A) 38, 79, 80, 96, 97
B) 35, 67, 70, 95, 100
C) 83, 97, 60, 69, 79

5.

Sarı

$$\begin{array}{r} 18 \\ - 6 \\ \hline 12 \end{array}$$

Mavi

$$\begin{array}{r} 27 \\ - 15 \\ \hline 12 \end{array}$$

Yeşil

$$\begin{array}{r} 22 \\ - 6 \\ \hline 12 \end{array}$$

Pembe

$$\begin{array}{r} 38 \\ - 26 \\ \hline 12 \end{array}$$

Hangi renk balonda yapılan çıkarma işlemi yanlıştır?

- A) Sarı
B) Yeşil
C) Mavi

6. $2 + 2 + 2 + 2 + 2 + 2 + 2 = 14$
Yukarıdaki toplama işleminin çarpma işlemiyle ifadesi aşağıdakilerden hangisidir?

- A) $2 \times 5 = 10$
B) $2 \times 6 = 12$
C) $2 \times 7 = 14$



Gökhan marketten 8 YTL'ye bir top, 6 YTL'ye çikolata, 1 YTL'ye de kalem aldı ve kasiyere 20 YTL verdi.

Gökhan'ın ne kadar para üstü alması gerekir?


- A) 10 YTL
B) 5 YTL
C) 1 YTL



Ayça'nın 50 YTL si var.
25 YTL'ye ayakkabı, 10 YTL'ye gömlek, 20 YTL'ye de etek alabilmesi için parası yeterli mi?

Yetersizse ne kadar daha paraya ihtiyacı var?

- A) Yetersiz, 5 YTL'ye ihtiyacı var.
B) Yeterli, ihtiyacı yok.
C) 5 YTL fazlası var.



Şekildeki sincap her sıçramada 2 basamak çıkıyor ya da iniyor.

(9. ve 10. soruları yukarıda verilenlere göre yanıtlayınız.)

9. Yerdeki sincap kaçınıcı sıçramada daldaki ceviz'e uzanabilir?

- A) 8 sıçramada
B) 9 sıçramada
C) 10 sıçramada

10. Bulunduğu yerden geri inmek isteyen sincap 5. sıçramasında kaç numaralı basamağa gelir?

- A) 10. basamak
B) 9. basamak
C) 8. basamak

11. 24 28 36 44 48

Yukarıda boş bırakılan yerlere hangi sayılar yazılmalıdır?

- A) 32, 40
B) 30, 38
C) 29, 37