
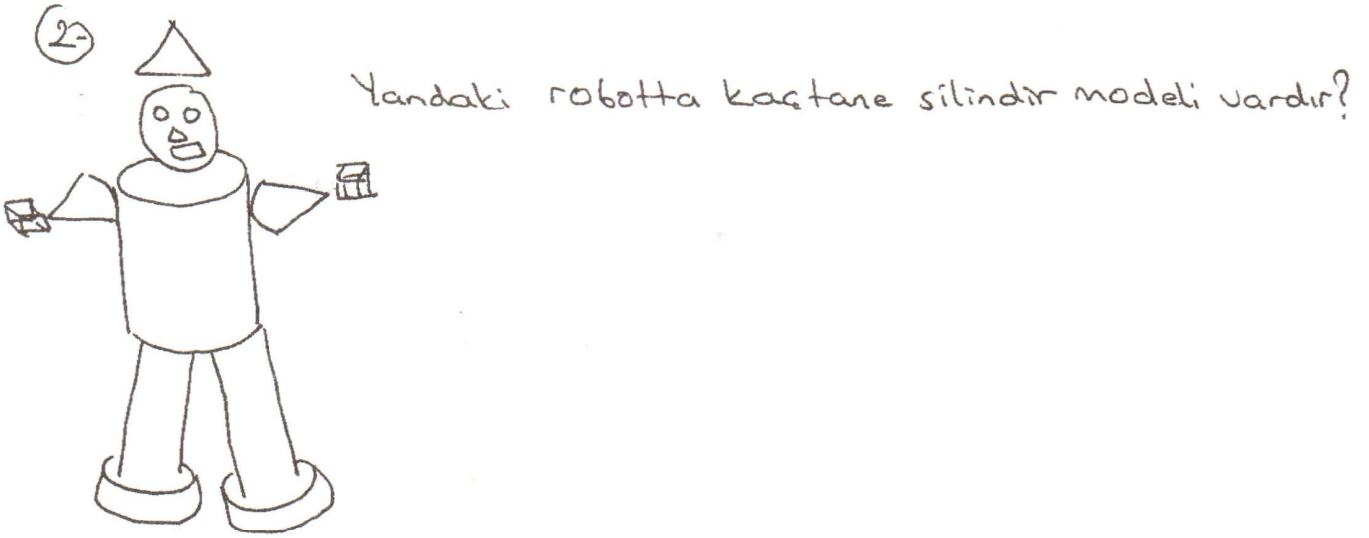



- 1-  Markete gelen altmışar kg'lık 3 cüvel pirinçten 62 kg'ı satıldı?
A. Kalan pirinç beşer kg'lık kaç poşete konabilir?
B. Poşetlenmeyen kaç kg pirinç kalır?




- 3- Babam 48 yaşındadır. Benim yaşıma, babamın yaşının $\frac{1}{6}$ 'inden 2 fazladır. Ben kaç yaşındayım?

- 4- Bir bölme işleminde; bölen $\rightarrow 6$, bölünen 8, kalan $\rightarrow 4$ 'tür?
Bölünen sayı kaçtır?

- 5-  Ali şekillerle bir örüntü oluşturdu.
Aşağıdaki harf örüntülerin ile aynı özelliğe sahiptir?

A - ABCCD B - KLMNO C - DDEFFG

- 6-  ? işaretinin yerine gelecek sayıların farkı kaçtır?

7-



Bir kova 7 Sürahi su alıyor. Bir sürahi ise 6 bardak su alıyor?

A- Bir kova kaç bardak su alır?

B- 3 kova, 2 sürahi su, kaç bardak gelir?

C- 36 bardak su kaç sürahi doldurur?

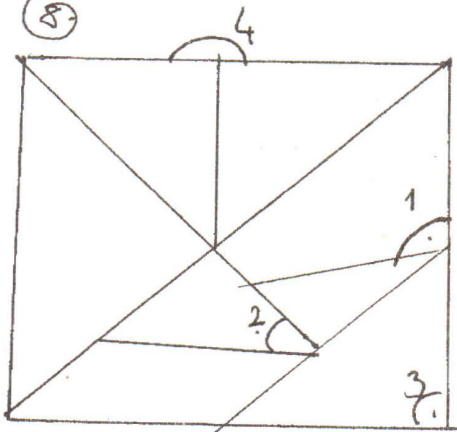
D- Kaç bardak su kovayı taşırır?

a- 36

b- 42

c- 48


8-



Numaralandırılmış açılarn adlarını yazınız?

çiçek sayısı.

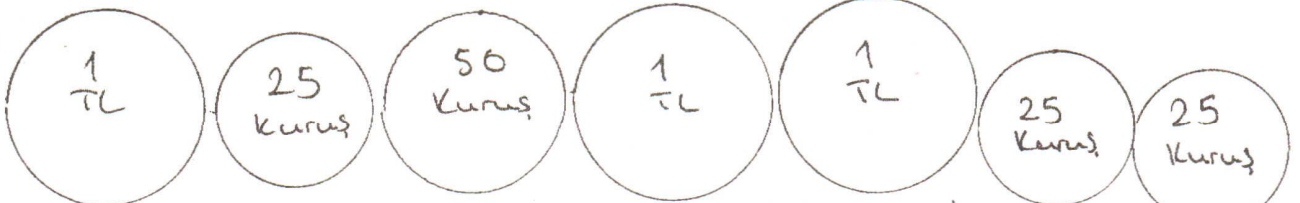
9-



gül sayısı 30'dur. A- karanfil sayısı kaçtır?

B- Toplam çiçek sayısını bulunuz?

10-



Ömer 20 TL'ye top alabilmesi için kaç lira daha biriktirmesi gerekiyor?