



## OKUL HEYECANIM

- Aşağıdaki araç gereçlerden hangisi okul çantamızda bulunur?  
A. pantolon B. kalem C. ayakkabı
- Aşağıdakilerden hangisi okulun bölümlerinden biri **olamaz**?  
A. sınıf B. lokanta C. kantin
- Aşağıdakilerden hangisi **yanlış** bir davranıştır?  
A. Oyun oynarken arkadaşımızı itmek  
B. Oyun oynarken sıramızın gelmesini beklemek  
C. Oyun oynarken düşen arkadaşımıza yardım etmek
- Aşağıdakilerden hangisi okulda bütün öğrencilerin ortak kullandığı eşyalardan biridir?  
A. kitap B. defter C. sıra
- Aşağıdakilerden hangisi bütün öğrenciler için **ortaktır**?  
A. İstiklal Marşı'nda hazırola geçmek  
B. Aynı okula gitmek  
C. Resim dersinden başarılı olmak
- Okan aşağıdakilerden hangisini söylerse doğru olur?  
A. Gözlüklü arkadaşlarımla alay ederim.  
B. Şişman arkadaşlarımla alay edenleri allelerine şikayet ederim.  
C. Farklılıkları doğal karşılarım.
- Bir arkadaşınızla sorun yaşadığınızda kendinizi nasıl hissedersiniz?  
A. mutlu B. umutlu C. üzgün
- Aşağıdakilerden hangisi sorumlu bir öğrencinin davranışı **değildir**?  
A. Ödevlerini zamanında yapmamak  
B. Ders araç gereçlerini korumak  
C. Ders programına göre çantasını hazırlamak

- Aşağıdakilerden hangisi saygılı bir öğrencinin davranışı **değildir**?  
A. Öğretmeni dinlemek  
B. Arkadaşlarını azarlamak  
C. Büyüklerine saygı göstermek
- Aşağıdakilerden hangisi etik bir davranış **değildir**?  
A. Birine yardım ettiğimizde karşılık beklememek gerekir.  
B. İnsanlar çok üzgünken onlara teselli edici sözler söylemeliyiz.  
C. Arkadaşlarımızla anlaşamadığımızda onları şikayet etmeliyiz.
- Eşyalarımızı izinsiz kullanan arkadaşımıza aşağıdakilerden hangisini söylersek **daha doğru** olur?  
A. Lütfen eşyalarımı izinsiz kullanma!  
B. Ben de senin eşyalarını izinsiz kullanacağım.  
C. Bir daha yaparsan seni öğretmene söylerim.
- Aşağıdakilerden hangisi doğrudur?  
A. Okul kurallarına bazen uymalıyız.  
B. Grup çalışmalarında iş bölümü yapmalıyız.  
C. Grup çalışmalarında bazıları çalışsa yeterli olur.
- Aşağıdakilerden hangileri iyi bir konuşmacının özelliklerindendir?  
A. Dinleyicilerin yüzüne bakmalıdır.  
B. Çok hızlı konuşmalıdır.  
C. Çok kısık ses tonuyla konuşmalıdır.
- Aşağıdakilerden hangisi iyi bir dinleyicinin özelliği **olamaz**?  
A. Konuşanın sözünü kesmeden onu dinler.  
B. Konuşanın yüzüne bakar.  
C. Konuşanı ve konuşulanları önemsemez.
- "Arkadaşlarımızı üzünce onlardan ....." tümcesini aşağıdakilerden hangisi ile tamamlarsak doğru olur?  
A. bize ceza vermelerini istemeliyiz.  
B. herkese olanları anlatmalarını istemeliyiz.  
C. özür dilemeliyiz.
- Aşağıdakilerden hangisi okul kütüphanesinde **bulunmaz**?  
A. sandalye B. kitap C. beslenme çantası





## OKUL HEYECANIM

1. Aşağıdakilerden hangisi bir kroki örneği **olamaz**?



2. Kroki çizerken aşağıdakilerin hangisine **dikkat edilmez**?

- A. tam ölçülere
- B. tahmini ölçülere
- C. kuş bakışı görünüşüne

3. Aşağıdakilerin hangisini ararken krokiden yararlanırsınız?

- A. oyuncak
- B. kitap
- C. adres

4. Bir araştırma yaparken gerekli kaynakları bulmak için gideceğimiz **ilk yer** nedir?

- A. sinema
- B. kütüphane
- C. havaalanı

5. Okulumuzun tarihini araştırırken aşağıdakilerin hangisinden  **faydalanmayız**?

- A. okul müdürü
- B. eski okul yıllıkları
- C. ders kitapları

6. Aşağıdakilerin hangisinin sınıfımızda bulunması zorunludur?

- A. İstiklâl Marşı
- B. Atatürk büstü
- C. allemiz

7. Aşağıdakilerden hangisi olumlu kişisel özelliklerden biri **değildir**?

- A. hoşgörü
- B. barış
- C. kıskançlık

8. Aşağıdaki bilgilerden hangisi **yanlıştır**?

- A. Her insanın farklı yetenek ve ilgileri vardır.
- B. Yaşamda benzerlik ve farklılıkların olması doğru değildir.
- C. Fiziksel görünüşlerimizin farklı olması arkadaş olmamızı engellemez.

9. Aşağıdakilerden hangisini okulda **yapmayız**?

- A. kitap okumak
- B. ütü yapmak
- C. yazı yazmak

10. Kişisel bakımımızı yaparken aşağıdakilerden hangisini **kullanmayız**?

- A. su
- B. sabun
- C. kömür

11. Aşağıdakilerden hangisi günlük kişisel bakımımızdan **değildir**?

- A. banyo yapmak
- B. el yüz yıkamak
- C. saç taramak

12. Aşağıdakilerden hangisi bir tasarruf önlemi **olamaz**?

- A. çalar saati kapatmak
- B. gereksiz yanan ışıkları kapatmak
- C. yeteri kadar su kullanmak

13. Aşağıdakilerin hangisi kişisel bakımla ilgili **değildir**?

- A. el ve ayak yıkamak
- B. saç taramak
- C. dengeli beslenmek

14. Aşağıdakilerden hangisi sağlığımız için faydalı bir gıda **değildir**?

- A. cips
- B. havuç
- C. ıspanak

15. Dengeli ve düzenli beslenme aşağıdakilerden hangisini **etkilemez**?

- A. güzel yazı yazmamızı
- B. büyümemizi
- C. sağlığımızı

16. Aşağıdakilerden hangisi hayvansal besinlerden **değildir**?

- A. balık
- B. ekmek
- C. tavuk

17. Aşağıdakilerden hangisi bitkisel besinlerdendir?

- A. yumurta
- B. marul
- C. süt

18. Aşağıdakilerden hangisi okulda sağlığımızı korumak için aldığımız önlemlerden biri **olamaz**?

- A. Sınıfımızı sık sık havalandırmak
- B. Beslenmeden sonra ellerimizi yıkamak
- C. Sınıf içinde koşmak

19. Aşağıdakilerden hangisi okulda meydana gelebilecek bir kazada yapılacaklardan biri **olamaz**?

- A. Sakin olmak
- B. İlk yardımı yapan yetişkinlere yardımcı olmak
- C. İlaçla tedavi etmek




20. Aşağıdakilerden hangisi ilk yardım malzemesi **olamaz**?




- A. pamuk
- B. sargı bezi
- C. tırnak makası





## OKUL HEYECANIM

- Aşağıdakilerden hangisi iyi bir dinleyicinin yapacaklarından biri **değildir**?  
A. Konuşanın yüzüne bakmak  
B. Konuşurken nezaket ifadeleri kullanmak  
C. Konuşanın sözünü kesmek
- Aşağıdaki bilgilerden hangisi **yanlıştır**?  
A. Uzun cümleler kurarak ve bağırarak konuşmalıyız.  
B. Hatalı davrandığımızda özür dilemeliyiz.  
C. Karşımızdakilerin düşüncelerini dinlemeliyiz.
- Arkadaşınız size hak etmediğiniz kötü bir söz söylediğinde aşağıdakilerden hangisini **yapmamalısınız**?  
A. Derin derin nefes almalısınız.  
B. Ona karşı kırıcı konuşursunuz.  
C. Oradan uzaklaşırsınız.
- Aşağıdakilerden hangisi üzgün bir çocuğun ifadesidir?  
A.  B.  C. 
- Aşağıdakilerden hangisi doğrudur?  
A. Her insanın duygu ve düşünceleri aynı değildir.  
B. Olaylar karşısında insanların tepkileri değişmez.  
C. İnsanların düşünceleri farklı olamaz.
- Aşağıdaki bilgilerden hangisi doğrudur?  
A. Aile bireyleri evde işleri yardımlaşarak yapar.  
B. Aile içinde yardımlaşmak yanlış olur.  
C. Evde işlerin çoğunu anneler yapmalıdır.







- Aşağıdaki bilgilerden hangisi **yanlıştır**?  
A. Arkadaşlarımız hayatımızda önemli bir yer tutar.  
B. Arkadaş seçerken olumlu değerleri gözetiriz.  
C. Farklılıklara karşı hoşgörülü olmak yersizdir.
- Cumhuriyet ne zaman ilan edilmiştir?  
A. 29 Ekim 1920 B. 29 Ekim 1923 C. 23 Nisan 1921
- Aşağıdakilerden hangisi cumhuriyetten sonra yapılan yeniliklerden biri **değildir**?  
A. Soyadı Kanunu  
B. bilgisayar kullanımı  
C. Seçme Seçilme Hakkı
- Aşağıdaki davranışlardan hangisi etik **değildir**?  
A. düşen arkadaşımıza yardım etmek  
B. sınıf kapısını tekmeleyerek içeri girmek  
C. sıraların üstünü yazan arkadaşlarımızı uyarmak
- Emel ve Özgür kitaplık kulübünün üyeleridir. Sınıfta kitap dağıtırken Aysun'a iki kitap verdiler fakat Özcan'a bir kitap verdiler. Bu durumda Emel ve Özgür nasıl davranmış olurlar?  
A. yanlı B. tarafsız C. dürüst
- Yandaki trafik işareti neyi gösterir?  
A. yaya geçidi  
B. trafik ışıkları  
C. taşıt yolu
- Aşağıdakilerden hangisi uymamız gereken trafik kurallarından biri **değildir**?  
A. Karşıdan karşıya geçerken yaya geçidi, üst geçit vb. kullanmalıyız.  
B. Trafik lambalarında kırmızı yanınca durmalıyız.  
C. Yağmurlu havalarda şemsiye kullanmalıyız.
- Aşağıdakilerden hangisi bir trafik işareti **olamaz**?  
A.  B.  C. 





## BENİM EŞSİZ YUVAM

- Aşağıdakilerden hangisi bir bilgi kaynağı **olamaz**?  
A. konunun uzmanları B. internet C. hastane
- Aşağıdakilerden hangisi okulda kullandığımız bir alet **olamaz**?  
A. tepegöz B. televizyon C. tüp
- "Özel üniforması vardır. İnsanlara mektup, paket vb. getirir."  
Yukarıda tarif edilen kişinin mesleği ne olabilir?  
A. postacı B. garson C. madenci
- Aşağıdaki bilgilerden hangisi doğrudur?  
A. Meslekler hayatımızı zorlaştırmak için vardır.  
B. Çalışma yerleri, kıyafetleri, yaptıkları işler bakımından her mesleğin farklı özellikleri vardır.  
C. Bir mesleği yapmak için önce eğitim almak son derece gereksizdir.
- Aşağıdaki bilgilerden hangisi **yanlıştır**?  
A. Grup içinde aldığımız görevleri yerine getirmeliyiz.  
B. Birlikte çalışarak zor işleri başarabiliriz.  
C. Grup içinde bireysel çalışmalıyız.
- Aşağıdaki sloganlardan hangisi "**çevre temizliği**" ile ilgili **değildir**?  
A. Sağlam kafa, sağlam vücutta bulunur.  
B. Nasıl bulmak istiyorsan öyle bırak.  
C. Temiz çevre, temiz toplum!
- Aşağıdaki bilgilerden hangisi doğrudur?  
A. Her insanın temiz bir çevrede yaşama hakkı vardır.  
B. Arkadaşlarımıza karşı dürüst olmamalıyız.  
C. Başkalarının duygu ve düşüncelerine saygılı olmamalıyız.
- Aşağıdakilerin hangisini söyleyen bir öğrenci etik davranmış olur?  
A. Çöpleri çöp kutusuna atmam.  
B. Muslukları açık bırakırım.  
C. Çevreyi kirlütenleri uyarırım.

- Aşağıdaki bilgilerden hangisi **yanlıştır**?  
A. Okul eşyalarımızı dikkatli ve özenli kullanmalıyız.  
B. Trafik kurallarına uymamalıyız.  
C. Kişisel bakımımızı yaparken suyu ve elektriği yeteri kadar kullanmalıyız.
- Aşağıdaki resimlerden hangisi insanların yaşadığı yerlerden birisi **değildir**?  
A.  B.  C. 
- Aşağıdaki bilgilerden hangisi doğru **değildir**?  
A. Her bireyin kendine özgü özellikleri vardır.  
B. Her birey akrabalarına benzer.  
C. Her bireyin arabası vardır.
- Aşağıdakilerden hangisi yandaki resimde verilen çocuğun yetiştirilme resmi olabilir?  
A.  B.  C. 
- "**Alle**" denilince aşağıdaki sözcüklerden hangisi aklımıza **gelmez**?  
A. kardeş B. komşu C. baba
- Emel bir proje çalışması için çeşitli sloganlar hazırlamıştır. Aşağıda verilen bu sloganlardan hangisi **yanlıştır**?  
A. Hepimiz dünyada bir taneyiz!  
B. Hepimizin farklı yetenekleri vardır.  
C. Hepimiz aynı fiziksel özelliklere sahibiz.
- Gökhan aşağıdakilerden hangisi ile annesine seslenirse **yanlış** olur?  
A. Anneciğim! B. Hey kadın! C. Anne!





## BENİM EŞSİZ YUVAM

1. Leyla ailesine yardım etmek istiyor. Sizce aşağıdakilerden hangisini yaparak ailesine yardımcı **olamaz**?  
A. Annesi sofrayı hazırlarken çatal ve kaşıkları getirerek  
B. Bozuk olan muslukları tamir ederek  
C. Odasını toplayarak
2. Aşağıdakilerden hangisi başarılı olmamızı **olumsuz** etkiler?  
A. plansız yaşam B. düzenli uyku C. düzenli beslenme
3. Aşağıdaki bilgilerden hangisi **yanlıştır**?  
A. Para ihtiyaçlarımızı karşılamak için kullandığımız bir araçtır.  
B. Büyüklerimizi bize harçlık vermeleri için zorlamalıyız.  
C. Paramızı harcarken tutumlu olmalıyız.
4. Aşağıdakilerden hangisini söyleyen bir çocuk tutumlu **olamaz**?  
A. Işıkları gereksiz yere açık bırakmam.  
B. Telefonu sohbet etmek için kullanırım.  
C. Tabağımda yemek bırakmam.
5. 1. para 2. elektrik 3. su 4. zaman  
Yukarıda verilenlerden hangilerini harcarken dikkatli olmalıyız?  
A. 1 - 2 - 3 - 4 B. 1 - 2 - 3 C. 1 - 3 - 4
6. Aşağıdaki bilgilerden hangisi doğrudur?  
A. Reklamlarda gördüğümüz her ürünü almalıyız.  
B. Reklamı yapılan malın ambalajına, rengine dikkat etmek gerekmez.  
C. Reklam, bir malı tanıtmak, beğendirmek ve satışını arttırmak için yapılır.
7. Aşağıdakilerden hangisi **yanlıştır**?  
A. İnsanların görünüşüne değil, yaptıklarına bakmak gerekir.  
B. İnsanların dış görünüşlerine bakarak varılan yargılar yanlış olabilir.  
C. Bir insanla tanışmadan önce onun giyimine bakmak gerekir.
8. Özcan aile büyüklerine nasıl davranırsa **yanlış** olur?  
A. saygılı olursa B. kaba davranırsa C. onları severse




9. Aşağıdakilerden hangisini yapan bir kişi her zaman sevilir?  
A. İnsanlara güler yüz gösteren bir kişi  
B. İnsanlara sürekli kızan bir kişi  
C. İnsanlara sürekli sorunlarını anlatan bir kişi
10. Aşağıdakilerden hangisi bir sevgi türü **olamaz**?  
A. hayvan sevgisi B. kitap sevgisi C. çöp sevgisi
11. Rasim aşağıdaki sloganlardan hangisinin doğru olduğunu söylerse **yanlış** yapmış olur?  
A. Gerektiğinde özür dile!  
B. İhtiyacı olanlara yardım et!  
C. Arkadaşının eşyalarını izinsiz kullan!
12. Aşağıdakilerden hangisini söyleyen bir kişi **yanlış** davranmış olur?  
A. Kendimize bir amaç belirlemeliyiz.  
B. Amacımıza ulaşmak için çok çalışmalıyız.  
C. Amacımıza ulaşmak için gerekirse arkadaşlarımızı kullanmalıyız.
13. Aşağıdaki atasözlerinden hangisi "**çalışmak**" ile ilgili **değildir**?  
A. Çalışan dağlar aşar, çalışmayan yol şaşar.  
B. Kör ölür badem gözlü olur.  
C. Çalışmayınca kazan kaynamaz.
14. Aşağıdakilerden hangisi Kurtuluş Savaşı içerisinde yaptığımız savaşlardan biri **değildir**?  
A. I. Dünya Savaşı B. Sakarya Savaşı C. İnönü Savaşları
15. Aşağıda verilenlerden hangisi bir liderin özelliği **olamaz**?  
A. Çaresizdir. B. Etkili konuşur. C. Bilgilidir.
16. Aşağıdakilerden hangisi bir yöndür?  
A. sağ B. kuzey C. yukarı
17. Aşağıdakilerden hangisi yönümüzü bulmamıza yardımcı olan aletin adıdır?  
A. pusula B. saat C. telefon
18. Aşağıdakilerden hangisi Dünya üzerinde **bulunmaz**?  
A. karalar B. sular C. yıldızlar





## DÜN-BUGÜN-YARIN

- Aşağıdakilerden hangisi depremle ilgili bir terim **değildir**?  
A. fay hattı B. doğal afet C. erozyon
- Anne ve babamızın hayatını kimlerden **öğrenemeyiz**?  
A. arkadaşlarımızdan  
B. akrabalarımızdan  
C. anneanne ve babaannemizden
- Aşağıda Atatürk ile ilgili söylenenlerden hangisi **yanlıştır**?  
A. İyi düşünür, acele karar verirdi.  
B. Bilim ve sanata önem verirdi.  
C. Herkese eşit davranırdı.
- "Atatürk hiçbir zaman ..... **kapılmadı**." tümcesini aşağıda verilenlerden hangisi ile tamamlayabiliriz?  
A. cesarete B. umutsuzluğa C. sabıra
- İstiklâl Marşı'mız ile ilgili verilen bilgilerden hangileri doğrudur?  
1. İstiklâl Marşı'mızı Mehmet Akif Ersoy yazmıştır.  
2. İstiklâl Marşı'mızı Atatürk bestelemiştir.  
3. İstiklal Marşı'mız 12 Mart 1921'de kabul edilmiştir.  
A. 3 B. 2 - 3 C. 1 - 3
- Aşağıdakilerden hangisi Atatürk'ün sözlerinden biri **değildir**?  
A. Türk, öğün, çalış, güven!  
B. İstikbâl göklerde dir.  
C. Ak akçe kara gün içindir.

- Bir yarışma öncesi aşağıdaki duygulardan hangisini **hissetmemeliyiz**?  
A. umutsuzluk B. heyecan C. mutluluk
- Aşağıdakilerden hangisini okula başladıktan sonra yapmayı başardınız?  
A. yemek yemek B. kitap okumak C. konuşmak
- Bir arkadaşımız yeni bir kıyafet aldığında ona ne deriz?  
A. Güle güle kullan!  
B. Sağlık olsun!  
C. Teşekkür ederim.
- Aşağıdakilerden hangisinin kullanımı diğerlerine göre daha eskidir?  
A. hızlı tren B. uçak C. at arabası
- Aşağıdakilerden hangisi en gelişmiş ulaşım araçlarından biri **değildir**?  
A.  B.  C. 
- Aşağıda verilenlerin kaç tanesinde bilgisayar kullanılabilir?  
1. haberleşmede 2. yemek yemede  
3. proje hazırlamada 4. bilgi edinmede  
A. 2 B. 3 C. 4
- Aşağıda verilenlerden hangileri günümüzde kullanılan iletişim araçlarından-  
dır?  
1. ateş 2. gazete 3. posta güvercinleri  
4. mektup 5. telefon 6. davul sesleri  
A. 1 - 3 - 6 B. 2 - 4 - 5 C. 1 - 3 - 4
- Aşağıdaki bilgilerden hangisi **yanlıştır**?  
A. Çiçeklerin büyümesi için sadece su yeter.  
B. Bitkilerin yaprak, kök veya meyvelerinden besinler elde edebiliriz.  
C. Ağaçların kök veya gövdelerini yakacak olarak kullanabiliriz.




## DÜN-BUGÜN-YARIN

1. Aşağıda verilen bilgilerden hangisi **yanlıştır**?

- A. Yaşama hakkı, temel hak ve hürriyetlerin başında gelir.
- B. Cumhuriyet yönetimiyle birlikte kadınlara seçme ve seçilme hakkı verilmiştir.
- C. Türkiye Cumhuriyeti vatandaşı olan ve on yaşını dolduran her erkek askerlik yapar.

2. Yandaki şekilde telefon tellerinin yaz aylarında bu şekilde olmasının sebebi ne olabilir?

- A. Direklerin birbirine uzak olması
- B. Havanın çok sıcak olması
- C. Yanlış bağlanmış olması



3. Bir yılda kaç ay vardır?

- A. 12
- B. 52
- C. 30

4. Saatin üzerindeki kısa ve uzun çubuklara ne ad verilir?

- A. akrep - yelkovan
- B. yelkovan - saniye
- C. yengeç - akrep

5. Aşağıda söylenenlerden hangisi canlılar için geçerli **değildir**?

- A. Doğarlar.
- B. Büyürler.
- C. Eskirler.

6. Aşağıdaki resimlerden hangisi ilkbahar mevsimine aittir?



7. Aşağıdakilerden hangisi insanların zamanı öğrenmek için kullandıkları araçlardan biri **değildir**?

- A. saat
- B. takvim
- C. metre

8. Aşağıdakilerden hangisi yeniden kullanılabilir bir atık **olamaz**?

- A. kullanılmış sargı bezi
- B. kağıt
- C. cam şişe

9. Cumhuriyet yönetimi ile aşağıdakilerden hangisine son verilmiştir?

- A. Yeni Türk alfabesinin kullanılmasına
- B. Yönetimin babadan oğula geçmesine
- C. Kadınların seçme ve seçilme hakkına

10. Mevsim değişikliği canlılarda aşağıda verilenlerden hangilerini etkiler?

- 1. barınma
- 2. beslenme
- 3. korunma
- 4. kanunlara uyma
- A. 1 - 2 - 3
- B. 2 - 3 - 4
- C. 1 - 2 - 3

11. I. Dünya Savaşı ne zaman başlamıştır?

- A. 1914
- B. 1918
- C. 1919

12. Aşağıda verilen bilgilerden hangisi **doğru değildir**?

- A. Her canlının gelişim aşamaları farklıdır.
- B. Ülkemizde dört mevsim görülmez.
- C. Zamanımızı etkili ve verimli kullanmalıyız.

13. Atatürk kaç yıl Cumhurbaşkanlığı yapmıştır?

- A. 13
- B. 12
- C. 15

14. Aşağıdaki ürünlerin hangisinden yağ elde ederiz?

- A. zeytin
- B. buğday
- C. pırasa

15. Aşağıda verilenlerin kaç tanesini hayvanlardan elde edebiliriz?

- 1. et
- 2. süt
- 3. güç
- 4. deri
- A. 2
- B. 3
- C. 4

16. Aşağıdaki hayvanlardan hangisinin gücünden faydalanırız?

- A. koyun
- B. eşek
- C. tavuk