

1- I. Sorumluluklarımızı biliriz.

II. Başarımız artar.

III. Öğretmenimizin ve arkadaşlarımızın güvenini kazanırız.

Yukarıdakilerden hangisi ya da hangileri okula hazırlıklı gitenin bize kazandırdıklarından-dır?

A) I ve III B) II ve III C) I, II ve III

2- Ülkemizde okullar her yıl eylül ayında açılır. Okulların açıldığı haftayı ne haftası olarak kutlarız?

A) Kitap Haftası
B) İlköğretim Haftası
C) Eğitim Haftası

3- "Her birimizin birbirimize benzer ve birbirimizden farklı yanlarımız vardır. Farklılıklarımız bizi eşsiz ve özel kılar. Farklılıklar yaşamın en güzel leridir." ifadesinde noktalı yere aşağıdakilerden hangisini yazmak uygun olur?

A) benzerlik
B) zenginlik
C) güzellik

4- Aşağıdaki anlatımlardan hangisi yanlıştır?

A) Arkadaşlarımıza yanlı davranmalıyız.

B) Arkadaşlarımızın sevinç ve üzüntülerini paylaşmalıyız.

C) Arkadaşlıklarımızı sevgi, saygı, hoşgörü, dayanışma ve paylaşım üzerine kurmalıyız.

5- I. Sabah okula gelince öğretmenimiz ve arkadaşlarımıza gü-naydın demeliyiz.

II. Bir şey isterken lütfen sözcü-ğünü kullanmalıyız.

III. Öğretmenimizi sessizce din-lemeliyiz.

Yukarıdakilerden hangileri öğretmenimiz ve arkadaşları-mızla iletişim kurarken dikkat et-memiz gereken davranışlardan-dır?

A) I ve II
B) II ve III
C) I, II ve III

6- "Bir yerin kuşbakışı görünüşünün küçültülerek kaba taslak çizimine denir." tümcesini hangi sözcük tamamlar?

A) kroki
B) plan
C) harita

7- Oyun sonucunda kazanmanın ve kaybetmenin doğal olduğunu bi-len ve oyunu kaybeden Özgür' ün grubu aşağıdakilerden hangisini yaparsa doğru davranmış olur?

A) Kazanan arkadaşlarıyla tartışır-sa
B) Kazanan arkadaşlarına küserse
C) Kazanan arkadaşlarını kutlarsa

8- Aşağıdaki davranışlardan hangisi olumlu bir davranış de-ğildir?

A) dürüstlük
B) oyun bozanlık
C) yardımseverlik

9- Okulumuzun tarihçesini araş-tırırken aşağıdakilerden hangisini sormayız?

A) Eğitim öğretime açıldığı tarihi
B) Kim tarafından yaptırıldığını
C) Yapımında hangi malzemelerin kullanıldığını

10- Okulumuz ve sınıfımızdaki araç gereçler konuları daha iyi ve daha kolay kavramamıza yardım eder.

Aşağıdakilerden hangisi sınıfı-mızda bulunan ortaklaşa kullandığımız araçlardan değildir?

A) çanta
B) yazı tahtası
C) küre

11- Okulumuzun kuruluşunu, öz geçmişini anlatan yazılara oku-lumuzun denir." tümcesin-de noktalı yere hangi sözcük yazıl-malıdır?

A) geleceği
B) tarihçesi
C) geçmişi

12- Burcu oyun oynayan arka-daşlarının oyununa katılmak istiy-or. Aşağıdakilerden hangisini yapmalıdır?

A) Oyuna izinsiz katılmalıdır.
B) Oyunu bozmalıdır.
C) Oyuna katılmak için izin almalı-dır.

13- I. Uzun boylu olmamız.

II. Sarı saçlı olmamız.

III. Güzel resim yapmamız.

Yukarıdakilerden hangileri fi-ziksel özelliklerimizdendir?

A) I ve II B) II ve III C) I, II ve III

14- "İletişimlerimizde nezaket ifade-lerini kullanmalı ve olma-malıyız." tümcesini aşağıdaki söz-cük grubundan hangisi tamamlar?

A) kaba - saygılı
B) kaba - kırıcı
C) kırıcı - nazik

15- Aşağıdakilerden hangisi hoş-görülü olmanın bize kazandırdık-larından değildir?

A) Öfke ve kızgınlıklarımızı kontrol ederiz.

B) Karşımızdakilerden saygı görü-rüz.

C) Kaba ve kırıcı oluruz.

CEVAP ANAHTARI

Adı-Soyadı: _____														Puan: _____	
Sınıf : ____ / ____							Numarası: _____								
1	2	3	4	5	6	7	8	9	10	11	12	13	14	15	
A	A	A	A	A	A	A	A	A	A	A	A	A	A	A	
B	B	B	B	B	B	B	B	B	B	B	B	B	B	B	
C	C	C	C	C	C	C	C	C	C	C	C	C	C	C	

1- Okuldaki işlerin düzenli yürütmesi ve sorunlar çıkmaması için birtakım kurallar konulmuştur.

Aşağıdakilerden hangisi okulda uymamız gereken kurallardan değildir?

- A) Okula zamanında gelmek.
- B) Koridordarda koşmak.
- C) Okul eşyalarını temiz ve düzenli kullanmak.

2- "Okul yaşamımızda bazı zorluklarla karşılaşabiliriz. Bu zorluklarla mücadelede örnek almalıyız." tümcesini aşağıdakilerden hangisi ile tamamlamak daha doğru olur?

- A) arkadaşlarımızı
- B) Atatürk'ü
- C) öğretmenimizi

3- Aşağıdakilerden hangisi kişisel bakımın tanımıdır?

- A) Kişinin kendisi ile ilgili her türlü bakımı yapmasıdır.
- B) Kişinin dişini fırçalamasıdır.
- C) Kişinin saçını taramasıdır.

4-I. Aile bütçemizi olumsuz etkiler.
II. Paramız boşa gider.

III.Devlet bütçesine zarar verir.

Yukarıdakilerden hangileri kişisel bakımımızı yaparken tutumlu olmadığımızda ortaya çıkacak olumsuzluklardandır?

- A) I ve III
- B) II ve III
- C) I, II ve III

5- Aşağıdaki ifadelerden hangisi yanlıştır?

- A) Besinler elde edildikleri kaynaklara göre beş gruba ayrılır.
- B) Vücudumuzun büyüüp gelişmesi için gerekli olan maddelere besin denir.
- C) Gerekli besinlerin vücut tarafından alınmasına beslenme denir.

6- Okulda ve evde bir kaza olduğunda aşağıdaki acil telefonlardan hangisini aramalıyız?

- A) 118
- B) 112
- C) 156

7- "Kazaya uğrayanlara yapılan ilk müdahaleye denir." tanımlamasını hangi söz grubu tamamlar?

- A) İlk yardım
- B) İlk bakım
- C) İlk sorgu

8- Aşağıdakilerden hangisi dengeli ve düzenli beslenmenin tanımıdır?

- A) Bol bol sebze meyve yemek.
- B) Proteince zengin besinlerle beslenmek.
- C) Her çeşit besinden yeterince yemek.

9- doğum günleri - düğünler - sünnetler - bayramlar - mezuniyet törenleri - asker uğurlamaları

Yukarıdakilerden kaç tanesi paylaştığımız özel gündereindir?

- A) 5
- B) 4
- C) 6

10- Millî bayramlarımız milletçe coşkuyla kutladığımız özel gündereindir. Geçmişte milletçe yaşadığımız önemli olayların, başarıların ve zaferlerin anlam ve önemini kavramak için bu günleri millî bayram olarak kutlarız. Aşağıdakilerden hangisi 23 Nisan'da kutladığımız bayramın tarihsel gerekçesidir?

- A) Türkiye Büyük Millet Meclisi açılmıştır.
- B) Cumhuriyet ilân edilmiştir.
- C) Yurdumuz düşmanlardan temizlenmiştir.

- 11- 1. Tepegöz
- 2. Bilgisayar
- 3. Belge geçer
- 4. Televizyon

Yukarıdakilerden hangileri okulda kullandığımız bilgi teknolojilerindereindir?

- A) 1,2 ve 4
- B) 1,3 ve 4
- C) 1,2,3 ve 4

12- Bilinçli bir tüketici aşağıdakilerden hangisini yapmaz?

- A) Her gördüğü ürünü alır.
- B) Alışverişini yetkili yerlerden yapar.
- C) Zorunlu ihtiyaçlarına öncelik verir.

13- 1. beslenme 2. seyahat 3. barınma 4. sinemaya gitme 5. giyinme 6. oyun

Yukarıdakilerden hangileri zorunlu ve temel gereksinimlerimizdir?

- A) 1, 2, 4
- B) 2, 3, 6
- C) 1, 3, 5

14- Aşağıdakilerden hangisi daha iyi öğrenmemizi sağlayacak davranışlardan olamaz?

- A) Kendimize uygun öğrenme tekniklerini kullanmak.
- B) Farklı kaynaklardan yararlanmak.
- C) Devamlı ders çalışmak.

15- Atatürk'ün hayatı ile ilgili tarihler ve olaylar eşleştirilmiştir. Eşleştirmelerden hangisi yanlıştır?

- A) 29 Ekim 1923 - Cumhuriyeti kurdu.
- B) 23 Nisan 1920 - Samsun'a çıktı.
- C) 30 Ağustos 1922 - Yurdumuzu düşmanlardan temizledi.

CEVAP ANAHTARI

Adı-Soyadı: _____

Sınıfı : ____ / ____ Numarası: _____

Puan: _____

1	2	3	4	5	6	7	8	9	10	11	12	13	14	15
A	A	A	A	A	A	A	A	A	A	A	A	A	A	A
B	B	B	B	B	B	B	B	B	B	B	B	B	B	B
C	C	C	C	C	C	C	C	C	C	C	C	C	C	C

1-Trafik kuralları bizim can ve mal güvenliğini sağlamak amacıyla konulmuştur. Aşağıdakilerden hangisi yayaların uyması gereken trafik kurallarından biri değildir?

- A) İçkili ve yorgun araç kullanmamak.
B) Karşıdan karşıya alt ve üst geçitlerinden geçmek.
C) Yaya kaldırımından yürümek.

2-Trafik işaretleri ile anlamları eşleştirilmiştir. Eşleştirmelerden hangisi yanlıştır?



3-"Başkalarının yapmak istemediğimiz, kabul edilmez önerilerine demeyi bilmeliyiz." tümcesini hangi sözcükle tamamlamak doğru olur?

- A) evet B) olur C) hayır

4- Atatürk'ün öğrenim hayatı ile ilgili tarihler ve okuduğu okullar eşleştirilmiştir. Eşleştirmelerden hangisi yanlıştır?

- A) 1895 - Manastır Askerî Lisesi'ne başladı.
B) 1899 - Harp Akademisi'ne başladı.
C) 1905 - Hava Harp Okuluna girdi.

5-Aşağıdaki atasözlerinden hangisi kulüp çalışmalarının önemini açıklamaktadır?

- A) El elden üstündür.
B) Birlikten kuvvet doğar..
C) İki el bir başı içindir

6-I.Sorumluluk duygusu ediniz.

- II.Grupla çalışma alışkanlığı kazanırız.
III.Kendimize güvenimiz artar.

Yukarıdakilerden hangileri eğitici kulüplerin bize kazandırdıklarındandır?

- A) I, II ve III B) I ve II C) II ve III

7- "Atatürk 10 Kasım de İstanbul'da Dolmabahçe Sarayı'nda ölmüştür." tümcesini hangi seçenek tamamlar?

- A) 1919 B) 1938 C) 1923

8-Aşağıdaki anlatımlardan hangisi yanlıştır?

- A)Eğitici kulüp görevlileri sınıftaki öğrenciler tarafından seçilir.
B)Eğitici kulüpte görev almak bilze planlı, disiplinli ve düzenli çalışma alışkanlığı kazandırır.
C)Eğitici kulüp görevlileri rehber öğretmenlerden bağımsız çalışırlar.

9-"İyi bir lider arkadaşlarına davranmaz, davranır." tümcesini hangi sözcük çifti tamamlar?

- A) eşit - farklı
B) yanlı - adil
C) farklı - yanlı

10- I. Arkadaşlarını bir fikir etrafında birleştirir.

II. İş bölümü yapar.

III. Arkadaşlarına dürüst ve adil davranır.

Yukarıdakilerden hangileri iyi bir liderin özelliklerindendir?

- A) I, II ve III B) I ve III C) II ve III

11-Okulumuzun ve çevrenin temiz olması sağlamlarımızı olumlu yönde etkiler. Aşağıdakilerden hangisi okul ve çevresinin temizliği ile ilgili doğru bir davranış değildir?

- A)Çöpleri çöp kutusuna atmak.
B)Okul bahçesini temiz tutmak.
C)Kağıt, pet şişe ve yiyecek ambalajlarını okul bahçesinin dışına atmak.

12-Demokratik yaşamın temelleri ailede atılır, okullarda geliştirilir. Demokratik yaşamın okuldaki en iyi göstergesi aşağıdakilerden hangisidir?

- A) Koridordaki yüksek sesle konuşmak.
B) Çalışkan öğrenci olmak.
C)Eğitici kulüp görevlilerini seçmek.

13-Aşağıdaki anlatımlardan hangisi yanlıştır?

- A)Çevre temizliğine yalnızca temizlik işçileri önem vermelidir.
B) Çevre temizliği uygarlığın göstergesidir.
C)İnsanlar temiz çevrede daha sağlıklı ve verimli olurlar.

14-"Ben sınıfımızda yapılan seçim sonunda kitaplık kulübünde görev aldım." diyen Selin'in görevleri arasında aşağıdakilerden hangisi yoktur?

- A) Sınıf kitaplığını zenginleştirmek.
B) Kitaplık defteri tutmak.
C)Sınıfı havalandırmak.

15-Sınıftaki ve okulundaki öğrencileri mutlu edecek, öğretmelerini etkileyecek fikirler üretmek isteyen Olcay aşağıdaki konuların hangisi ile ilgili fikirler üretmelidir?

- A) evdeki iş bölümü
B) özel gün kutlamaları
C)kişisel bakımı

CEVAP ANAHTARI

Adı-Soyadı:		Puan:	
Sınıfı :	/	Numarası:	
1	2	3	4
5	6	7	8
9	10	11	12
13	14	15	
A	A	A	A
B	B	B	B
C	C	C	C

1- "Okula zamanında ve hazırlıklı gitmemiz okuldaki olumlu yönde etkiler." tümcesini aşağıdaki sözcüklerden hangisi en doğru ve anlamlı olarak tamamlar?

- A) ilişkilerimizi
- B) başarılarımızı
- C) sağlığını

2- Ali sarı saçlı, yeşil gözlüdür. Ayşe uzun boylu, siyah saçlıdır. Oya yeşil gözlü, kısa boyludur.

Yukarıdaki öğrencilerden hangileri arasında bir benzerlik olduğu söylenebilir?

- A) Ayşe ve Oya arasında
- B) Ali ve Ayşe arasında
- C) Ali ve Oya arasında

3- Bir yerin kuşbakışı görünüşünün kaba taslak çizimine kroki denir. Aşağıdakilerden hangisi kuşbakışı görünüşün tanımıdır?

- A) Bir yerin soldan görünüşüdür.
- B) Bir yerin arkadan görünüşüdür.
- C) Bir yerin yukarıdan görünüşüdür.

4- Hangisi dengeli ve düzenli beslenmemizin okul yaşamımıza ve başarıma yaptığı olumlu etkilerden değildir?

- A) Boyumuz ve kilomuz artar.
- B) Derslerdeki başarılarımız artar.
- C) Konuları daha iyi anlar ve kavrarız.

5- Aşağıdakilerden hangisi sınıfımızdaki eğitici kulüplerde görev almanın bize kazandırdıklarından değildir?

- A) Bencillik ve kıskançlık duyguları ediniriz.
- B) Öz güven ve öz saygı kazanırız.
- C) İş birliği yapma, dayanışma ve paylaşım alışkanlığı ediniriz.

6- "İyi bir lider açık olmalı, herkesin saygı göstermelidir." tümcesini hangi sözcüklerle tamamlamak doğru olur?

- A) arkadaşlarına - oyunlarına
- B) yeniliklere - fikirlerine
- C) öğretmenine - kutlanır.

7- Barış, acil durumlarda aramız, gereken telefon numaraları ile ait oldukları kurumları eşleştirmiştir. Eşleştirmelerden hangisi yanlıştır?

- A) 110 - İtfaiye
- B) 155 - Polis İmdat
- C) 118 - Hızır Acil Servis

8-I. 29 Ekim'de kutlanır.

II. En büyük millî bayramımızdır.

III. Atatürk'ün "En büyük eserimdir." diyerek Türk gençliğine emanet ettiği bayramdır.

- Yukarıda anlatılan millî bayramımız hangisidir?
- A) Cumhuriyet Bayramı
- B) Atatürk'ü Anma ve Gençlik ve Spor Bayramı
- C) Zafer bayramı

9- "Sabah erkenden kalktık, kurbanımızı kestik. Büyüklerimizi ziyaret ederek ellerini öptük." diyen Dilan hangi bayramdan söz etmektedir?

- A) dinî bayramlardan
- B) millî bayramlardan
- C) özel günlerden

10- "İnsanlarla ilişkilerimizde ve iletişimimizde olmalıyız." tümcesinde boş bırakılan yere aşağıdaki sözcüklerden hangisini yazmamız doğru değildir?

- A) saygılı
- B) hoşgörülü
- C) kırıcı

11- Bilinçli bir tüketici aldığı ürün hatalı çıktığında aşağıdakilerden hangisini yapmalıdır?

- A) Komşularından yardım istemelidir.
- B) Hatayı önemsemeyen kullanmalıdır.
- C) Aldığı yere götürüp yenisini almalıdır.

12- Toplumu oluşturan bireylerin benzer duyguları hissetmesi ve benzer düşünceler etrafında toplanması toplumsal paylaşımları oluşturur. Aşağıdakilerden hangisi toplumsal paylaşımlar açısından önemli günlerdir?

- A) millî ve dinî bayramlar
- B) okulların açılması
- C) tatil günleri

13- Bilgiyi öğrenme şekline ve yönüne öğrenme tekniği denir. Aşağıdakilerden hangisi en iyi öğrenme tekniğidir?

- A) görsel öğrenme
- B) yaparak yaşayarak öğrenme
- C) işitsel öğrenme

14- "Karşıdan karşıya geçmem gerekiyor. Alt ve üst geçit yok. Trafik ışıkları da çalışmıyor. Şimdi ne yapmalıyım?" diyen Simga aşağıdakilerden hangisini yapmalıdır?

- A) Koşarak karşıya geçmelidir.
- B) Trafik polisinin işaretlerine uymalıdır.
- C) Yolun herhangi bir yerinden geçmelidir.

15- Tufan okuldan eve dönerken yanına yaklaşan bir bey Tufan'a babasının arkadaşı olduğunu söyledi ve Tufan'ı yemeğe götürmek istedi. Bu durumda Tufan'ın ne yapması doğru olur?

- A) Teklifi kabul edip yemeğe gitmesi.
- B) Arkadaşlarını çağırarak yemeğe birlikte gitmeleri.
- C) Tanımadığı kişilerin teklifini hiçbir zaman kabul etmemesi.

CEVAP ANAHTARI

Adı-Soyadı:	Puanı:													
Sınıfı: / /	Numarası:													
1	2	3	4	5	6	7	8	9	10	11	12	13	14	15
A	A	A	A	A	A	A	A	A	A	A	A	A	A	A
B	B	B	B	B	B	B	B	B	B	B	B	B	B	B
C	C	C	C	C	C	C	C	C	C	C	C	C	C	C

1- I. Başarımız yükselir.

II. Sorumluluk sahibi oluruz.

III. Öz güven ediniriz.

Yukarıdakilerden hangisi ya da hangileri okula hazırlıklı gitmenin bize kazandırdıklarından biridir?

- A) I ve III
B) I, II ve III
C) II ve III

2- "Özlem okul bahçesinde arkadaşlarını gözlemliyordu. Ayşe'nin uzun boyuna, Kadir'in yeşil gözlerine, Sevda'nın sarı saçlarına hayranlıkla baktı."

Yukarıdaki paragrafta Özlem arkadaşlarının hangi özelliklerinden söz etmektedir?

- A) zihinsel
B) duygusal
C) fiziksel

3- "Her insan bir dir ve farklı özelliklere sahiptir." tümcesini hangi sözcük çifti tamamlar?

- A) adam - duygusal
B) kişi - yapısal
C) birey - bireysel

4- Ozan, arkadaşlarına adil davranır. Emre, arkadaşlarının sevinç ve üzüntülerini paylaşır. Tolga, arkadaşlarını kıskanır.

Yukarıdaki çocuklardan hangilerinin davranışları iyi bir arkadaş olduklarını gösterir?

- A) Ozan - Tolga
B) Ozan - Emre
C) Emre - Tolga

5- Aşağıdaki ifadelerden hangisi yanlıştır?

A) Su ve elektriği kullanırken tutumlu olmamız gerekmez.

B) Vücudumuzun temizliği kadar giysilerimizin temizliğine de dikkat etmeliyiz.

C) Kişisel bakımımızı yaparken kaynakları tutumlu kullanmalıyız.

6- "Zamanında ve doğru yapılan ilk hayat kurtar." ifadesinde noktalı yere hangi sözcük gelmelidir?

- A) yardım B) sağlık C) kaza

7- I. Kendimize ve başkalarına zarar vermemizi önler.

II. Çevremizdeki insanlar tarafından seviliriz.

III. Arkadaşlarımızın kalbini kırarız.

Yukarıdaki davranışlardan hangileri öfke ve kırgınlıklarımızı kontrol etmenin bize kazandırdıklarından biridir?

- A) I ve II B) Yalnız III C) I ve III

8- Aşağıdaki davranışlardan hangisi bilinçli bir tüketicinin sergilemesi gereken davranışlardan değildir?

A) Aldığı malın kalitesini ve fiyatını araştırmak.

B) Reklamlarda gördüğü her malı almak.

C) Alışverişe çıkmadan önce ihtiyacı listesi yapmak.

9- "Sude, Tolga ve Umut okula farklı yollardan geliyorlar. Sude yaya kaldırımdan yürüyor. Tolga karşıya geçmek için yeşil ışığın yanmasını bekliyor. Umut önünde giden kamyonetin kasasına asılarak okula gitmeye çalışıyor."

Yukarıdaki çocuklardan hangileri trafik kurallarına uyuyor?

- A) Sude - Umut
B) Umut - Tolga
C) Tolga - Sude

10- 1. kitaplar 2. eğitim programları 3. dergiler 4. Internet 5. ansiklopediler 6. konunun uzmanları

Yukarıdakilerden kaç tanesi bilgi kaynağıdır?

- A) 4 B) 6 C) 5

11- Banu, Berke ve Seda'ya öğretmenleri aşının yararlarını araştırmalarını ödev olarak verdi. Banu, Berke ve Seda'nın araştırmalarında yararlanacakları kişi hangisidir?

- A) mimar B) polis C) doktor

12- "Tamer özel üniformam ve şapka var, insanlara mektup telgraf, ve paket getiririm, postanede çalışırım." diyor. Tamer'in mesleği aşağıdakilerden hangisidir?

- A) subay B) pilot C) postacı

13- Aşağıdaki atasözlerinden hangisi birlikte çalışmanın önemini anlatmaz?

- A) Birlikten kuvvet doğar.
B) İki el bir baş içindir.
C) Bir elin nesi, iki elin sesi var.

14- Sevcan, her çeşit besinden yeterince tüketiyor.

Kerem, her zaman aynı besinleri tüketiyor.

Nihat, doğal ve temiz gıdaları düzenli olarak tüketiyor.

Yukarıdaki çocuklardan hangisi dengeli beslenmemektedir?

- A) Kerem B) Sevcan C) Nihat

15- 1. Ulusça coşkuyla kutlarız.

2. Şiirler okur, konuşmalar yaparız.

3. Cadde ve sokaklara bayraklar asarız.

Yukarıdaki ifadeler hangi bayramlarımıza aittir?

- A) millî bayramlarımıza
B) dinî bayramlarımıza
C) mahallî bayramlarımıza

CEVAP ANAHTARI

Adı-Soyadı: _____

Puan: _____

Sınıf: ____ / ____ Numarası: _____

1	2	3	4	5	6	7	8	9	10	11	12	13	14	15
A	A	A	A	A	A	A	A	A	A	A	A	A	A	A
B	B	B	B	B	B	B	B	B	B	B	B	B	B	B
C	C	C	C	C	C	C	C	C	C	C	C	C	C	C

1- I. Gereksinimlerimizi karşılar-
ken temel gereksinimlerimize ön-
celik vermeliyiz.

II. Gereksinimlerimizi aile büt-
çemize göre ayarlamalı, planla-
malıyız.

III. Hastalık ve acil durumlar
için para biriktirmeliyiz.

Yukarıdaki anlatımlardan han-
gileri doğrudur?

- A) I ve III
B) II ve III
C) I, II, ve III

2- Canlıların barındıkları yer-
lere barınak veya yuva denir. Her
canlının yuvasının ayrı adı vardır.
Canlılarla yuvalarının adı eşleşti-
rilmiştir. Eşleştirmelerden hangisi
yanlıştır?

- A) tavşan - tilki - kurt — ağıl
B) inek - öküz - at — ahır
C) tavuk - hindi - kaz — kümes

3- "Doğadaki varlıklar var-
lıklar ve varlıklar olmak üzere
ikiye ayrılır." ifadesinde noktalı
yerlere sıra ile hangi sözcükler
yazılmalıdır?

- A) evcil - yabancı
B) canlı - cansız
C) büyük - küçük

4- "kedi - bülbül - köpek - kurt-
kanarya - güvercin - yılan - kirpi"
Yukarıdaki hayvanlardan kaç
tanesi evde beslenir?

- A) 4 B) 6 C) 5

5- Aşağıdaki bilgilerden hangisi
yanlıştır?

- A) Adresimizi yazarken bulundu-
ğumuz şehri yazmamız yeterlidir.
B) Bir kimsenin arandığında bulu-
nabileceği yere adres denir.
C) Posta ile göndereceğimiz mek-
tuplara posta kodunu yazmalıyız.

6- Güneş'in doğduğu yöne do-
ğu, battığı yöne batı denir. Buna
göre yüzünü doğuya dönerek kol-
larını açan Görkem'in sol kolu
hangi yönü gösterir?

- A) batıyı
B) güneyi
C) kuzeyi

7- I. Yön bulma aracıdır.

II. Üzerindeki ibrenin koyu renk-
li ucu daima kuzeyi gösterir.

III. Saate benzer.
Özellikleri belirtilen araç han-
gisidir?

- A) barometre
B) pusula
C) termometre

8- Anne baba ve evlenmemiş ço-
cuklardan oluşan ailelere nasıl ai-
leler denir?

- A) büyük aile
B) çekirdek aile
C) geniş aile

9- I. Vücut yapımız II. boyumuz III.
kilomuz IV. göz ve saç rengimiz V.
duyu organlarımızın yapısı

Yukarıdakilerden hangileri fı-
ziksel özelliklerimizdendir?

- A) II, III, IV, V
B) hepsi
C) I, III, IV, V

10- Duyu organlarımız dış dünya
ile bağlantımızı sağlarlar. Beş du-
yu organımız vardır. Aşağıdakiler-
den hangisi duyu organlarımızdan
birisidir?

- A) baş
B) kulak
C) göz

11- "Bir kimsenin para kazanmak
için yaptığı sürekli işe denir."
ifadesini tamamlayan sözcük
aşağıdakilerden hangisidir?

- A) meslek B) uğraş C) iş

12- Çocukların meslek seçmesi
ile ilgili verilen bilgilerden hangisi
doğrudur?

A) Çocuklar öğretmenlerinin ken-
dilerine uygun gördükleri meslekleri
seçmelidir.

B) Çocuklar ailelerinin istediği
mesleği seçmelidir.

C) Çocuklar kendi ilgi ve yetenek-
lerine uygun olarak istedikleri mes-
leği seçmelidir.

13- Bütün gereksinimlerimizi kendi
başımıza karşılayamayız. Toplum
hayatında yaşamamızı kolaylaştı-
racak değişik meslekler vardır.
Toplumda değişik meslekler oluş-
masının nedeni nedir?

- A) Değişik iş mekanları oluşturmak.
B) Toplumda iş bölümünü sağla-
mak.
C) Çok para kazanmak.

14- Hakkımızı savunmayı, kendi
haklarımıza sahip çıkmayı ve baş-
kalarının haklarına saygılı olmayı
öğrendiğimiz öncelikli ve ilk ku-
rum hangisidir?

- A) okul
B) aile
C) toplum yaşamı

15- Evdeki kaynakları kullanma bi-
çimimizle ilgili verilen bilgilerden
hangisi yanlıştır?

- A) Gelir ve giderimiz hakkında ba-
bamızın bilgi sahibi olması yeterlidir.
B) Planlı yaşayarak tutumlu olma-
lıyız.
C) Evdeki kaynakları bilinçli tüket-
meli, israf etmemeliyiz.

CEVAP ANAHTARI

Adı-Boyadı: _____

Puan: _____

Sınıf : ____ / ____ Numarası: _____

1	2	3	4	5	6	7	8	9	10	11	12	13	14	15
A	A	A	A	A	A	A	A	A	A	A	A	A	A	A
B	B	B	B	B	B	B	B	B	B	B	B	B	B	B
C	C	C	C	C	C	C	C	C	C	C	C	C	C	C

1- "İnsan toplu halde yaşayan toplumsal bir varlıktır ve her insan yaşadığı toplumun bir üyesidir. Toplumun üyesi olmak ve toplumsallık, farklılıklar içinde- oluşturmayı bilmeyi gerektirir." ifadesini hangi söz grubu tamamlar?

- A) ortak buluşlar
B) ortak yaşayışlar
C) ortak görüşler

2- "Burcu benim ailemde kararlar ortaklaşa alınır, herkes fikirlerini açıkça söyler, fikirler hoşgörü ile karşılanır." diyor. Burcu'nun ailesi için aşağıdakilerden hangisini söyleyebiliriz?

- A) Burcu'nun ailesi zengin bir ailedir.
B) Burcu'nun ailesi demokratik bir ailedir.
C) Burcu'nun ailesi geniş bir ailedir.

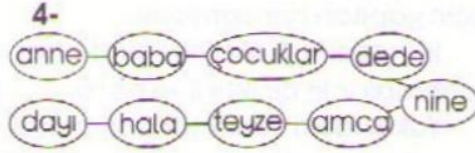
3- I. Alle içi dayanışmayı güçlendirir.

II. İşler çabuk ve sorunsuz biter.

III. Ailenin mutluluğu ve düzeni korunur.

Yukarıdakilerden hangileri ailede iş bölümünün sağladığı yararlardandır?

- A) I, II ve III
B) II ve III
C) I ve III



Yukarıda verilen kavram haritası aşağıdakilerden hangisi ile ilgilidir?

- A) çekirdek aile
B) geniş aile
C) normal aile

5- "Başkalarına duygu ve düşüncelerimizi anlatmak için kullandığımız en önemli iletişim yolu iletişimidir." ifadesinde noktalı yere aşağıdakilerden hangisi yazılmalıdır?

- A) yazılı B) hareketli C) sözlü

6- "mektup - televizyon - telefon - bilgisayar - telgraf - radyo - faks - gazete - cep telefonu"

Yukarıdaki iletişim araçlarından kaç tanesi kişisel iletişim aracıdır?

- A) 5 B) 7 C) 8

7- Aşağıdakilerden hangisi geliri gidere eşit olan bütçeye verilen addır?

- A) denk bütçe
B) aile bütçesi
C) açık bütçe

8- I. gelir: Anne ve babanın kazancı, kazandığı para.

II. gider: Çeşitli gereksinimler için yapılan harcamalar.

III. tasarruf: Gerektiğinde harcamak için biriktirilen para.

Yukarıdaki tanımlardan hangileri doğrudur?

- A) I ve III
B) II ve III
C) I, II ve III

9- Bir gün boyunca yapmam gereken işe zaman ayırmak ve işlerimi aksatmadan düzenli yapmak için yaparım." diyor Eda'nın ifadesini hangi sözcüklerle tamamlamamız doğru olur?

- A) günlük plan
B) günlük iş
C) günlük dizi

10- Canan tutumlu bir öğrenci olduğunu söylüyor. Aşağıdakilerden hangisi Canan'ın davranışıyla uygun düşmez?

- A) Kaynakları bilinçli kullanmalı, israftan kaçınmalıdır.
B) Her istediğini, canının istediği zaman almalıdır.
C) Harçlığının bir kısmını acil durumlar için biriktirmelidir.

11- Aşağıdaki atasözlerinden hangisi tasarrufla ilgili değildir?

- A) Damlaya damlaya göl olur.
B) Elde bulunan beyde bulunmaz.
C) Sakla samanı gelir zamanı.

12- Toplum hayatımızda bir takım hakları kullanırız. Kullandığımız bu haklar toplum hayatımızı düzenleyen yazılı ve yazısız kurallardır. Aşağıdakilerden hangisi yazılı kurallardan birisi değildir?

- A) yasalar
B) yönetmelikler
C) gelenek, görenekler

13- I. hak: Yasaların sağladığı olanaklar.

II. hürriyet: İnsanların yasaların tanıdığı hakları uygun olarak kullanması.

III. gelenek: Bir toplumda kuşaktan kuşağa iletilen kültürel kalıntılar, anane.

Yukarıdaki tanımlardan hangileri doğrudur?

- A) II ve III B) I ve II C) I, II, ve III

14- Atatürk insan hak ve hürriyetlerine çok önem verirdi. Aşağıdakilerden hangisi Atatürk'ün cumhuriyetin ilânından sonra kadınlara verdiği hak ve hürriyetlerdendir?

- A) Askerlik yapmak.
B) Seçme ve seçilme hakkını kullanmak.
C) Vergi vermek.

15- Bir ürünü tanıtmak, beğendirmek ve satışını artırmak için yapılan çalışmalara ne ad verilir?

- A) reklam B) yazı C) resim

CEVAP ANAHTARI

Adı-Soyadı: _____ Puan: _____

Sınıf: ____ / ____ Numarası: _____

1	2	3	4	5	6	7	8	9	10	11	12	13	14	15
A	A	A	A	A	A	A	A	A	A	A	A	A	A	A
B	B	B	B	B	B	B	B	B	B	B	B	B	B	B
C	C	C	C	C	C	C	C	C	C	C	C	C	C	C

1- "Allemizle ve yakınlarımızla ilişkilerimizde davranışlarda bulunmalıyız." tümcesini hangi sözcükle tamamlamak doğru olur?

A) olumsuz B)olumlu C) yanlış

2-Toplu halde yaşayan insanlar birbirlerinin yardımına ihtiyaç duyar ve yardımlaşırlar. Bu yardımlaşmaya dayanışma denir. Türk ulusu dayanışmanın en güzel örneğini aşağıdakilerden hangisinde vermiştir?

A) I. Dünya Savaşı
B) II. Dünya Savaşı
C) Kurtuluş Savaşı

3- Aşağıdakilerden hangisi amaç ve amaç belirtmeyle ilgili değildir?

A) Amaçlarımızın gerçekleşmesi için çok çalışmalıyız,

B) Her insanın yaşamında kendisi için belirttiği hedef ve amaçlar vardır.

C) Amaçlarımız kendiliğinden gerçekleşir.

4-Bir deprem anında yapmamız gereken ilk iş hangisidir?

A)Güvenli bir yer bulup korunmak.
B)Balkona çıkmak.
C)Arkadaşlarımızı aramak.

5-Aşağıdakilerden hangisi liderlerin en büyük özelliklerinden birisidir?

A) Herkesi etraflarında toplama-
ları
B) Konulan kurallara uymaları
C) Yalnız kendilerini düşünmeleri

6- I. Aile bağlarını kuvvetlendirir.
II. İnsan ilişkilerini geliştirir.
III. Paylaşım ve mutluluğu artırır.

Yukarıdakilerden hangileri ailece eğlenmenin ailemize kazandırdıklarındandır?

A) I ve III
B) I, II ve III
C) I ve II

7- Aşağıdaki anlatımlardan hangisi yanlıştır?

A) Mizah, gülmece demektir.
B) Mizah aile yaşamını olumsuz etkiler.
C) Türk mizahının en iyi örnekleri Nasreddin Hoca fıkralarıdır.

8- Doğanın ve doğa olaylarının neden olduğu yıkımlara doğal afetler denir. Aşağıdakilerden hangisi doğal afet değildir?

A) sel baskınları
B) deprem
C) elektrik çarpması

9-Atatürk işgal altındaki yurdu-muzu kurtarmayı amaçlamış, tüm güçlükleri yenip amacını gerçek-leştirerek cumhuriyeti kurmuş, ulu-sumuzun lideri olmuştur. Atatürk' ün bu özelliği hangisi ile bağdaş-maz?

A) Amacına ulaşmak için çok çalışması
B) Zorluklardan yılması
C) Güçlülerle mücadele etmesi

10- "Yeryüzünün tamamının veya bir bölümünün belirli ölçülerde küçültülerek kâğıt üzerine çizilmesine denir." ifadesinde noktalı yere aşağıdaki sözcüklerden hangisi gelir?

A) kroki **B)** atlas **C)** harita

11- Ülkemiz yer şekilleri, iklimi, bitki örtüsü, nüfusu, geçim kaynakları ve ekonomik özellikleri göz önünde bulundurularak yedi coğrafi bölgeye ayrılmıştır. Aşağıdakilerden hangisi yurdumuzdaki bölgelerden birisi değildir?

A) Anadolu Bölgesi
B) Güneydoğu Anadolu Bölgesi
C) Doğu Anadolu Bölgesi

12-Haritaları ve küreyi incelediğimizde karalar ve suların farklı renklerde olduğunu görürüz. Harita ve kürede deniz ve göller hangi renkte gösterilir?

A) mavi
B) kahverengi
C) sarı

13-I. Toprak genişliği en az bölge-
dir.

II.Nüfusu en kalabalık bölge-
mizdir.

III. Sanayisi en gelişmiş bölgedir.
Yukarıda anlatılan bölgemiz
aşağıdakilerden hangisidir?

A) Ege Bölgesi
B) Akdeniz Bölgesi
C) Marmara Bölgesi

14-İnsan olarak hak ve hürriyetlerimiz olduğu gibi görev ve sorumluluklarımız da vardır. Aşağıdakilerden hangisi devletimize karşı olan görev ve sorumluluklarımızdan birisi değildir?

A) Seyahat etmek.
B) Yasalara uymak.
C) Askerlik yapmak.

15-Üzerinde yaşadığımız dünya bir gezegendir. Hepimiz aynı gezegeni paylaşıyor bir arada yaşıyoruz. Aşağıdakilerden hangisi gezegenimize karşı görevlerimizden değildir?

A) Kaynakları bilinçli kullanmak.
B) Seçimlere katılmak.
C) Çevre kirliliğini önlemek.

1- "Ben de herkes gibi tatil yapmak, gezmek, sinemaya gitmek, eğlenmek istiyorum." diyen Esra hangi ihtiyaçlarını gerçekleştirmek istemektedir?

- A) temel
- B) kişisel
- C) sosyal

2- Derya'nın babası akşam evde gelirini, giderini ve tasarruf edebilecekleri parayı gösteren bir liste hazırlamıştır. Derya'nın babasının yaptığı listenin adı nedir?

- A) aile bütçesi
- B) aile yaşamı
- C) aile planlaması

3- Canlılar özellikleri ve yaşam biçimleri göz önünde bulundurularak sınıflandırılıp incelenmektedir. Aşağıdakilerden hangisi bu sınıflamada yer almaz?

- A) dağlar B) bitkiler C) insanlar

4- Aşağıdaki anlatımlardan hangisi yanlıştır?

- A) Kutup Yıldızı daima kuzeyi gösterir.
- B) Pusula ibresinin koyu renkli ucu güneyi gösterir.
- C) Doğu, batı güney ve kuzey ana yönlerdir.

5- Aralarında kan bağı olan kişiler akraba denir. Aşağıdakilerden hangisi ile kan bağıımız yoktur?

- A) dayı
- B) hala
- C) enişte

6- "İnsanlar arasında farklılıklar olabilir. Önemli olan bu farklılıklara duyarak birlikte yaşayabilmektir." ifadesinde boş bırakılan yere hangi sözcüğü yazmak doğru olur?

- A) saygı
- B) öfke
- C) sorumluluk

7- Haritalarda yeryüzü şekilleri farklı renklerle gösterilir. Aşağıda haritalardaki renklerle ilgili verilen eşleştirmelerden hangisi yanlıştır?

- A) mavi - sular
- B) sarı - göller
- C) kahverengi - karalar

8- Yeryüzü şekilleri hakkında bilgi edinmek isteyen Günay aşağıdakilerin hangisinden yararlanabilir?

- A) takvimlerden
- B) resimlerden
- C) fiziki haritalardan

9- Çevremizde gördüğümüz her meslekten insanlar hayatımızı kolaylaştırmak için çalışır. Her meslek önemli ve özeldir. Aşağıda meslekler ve o mesleği yapanların yaptıkları işler eşleştirilmiştir. Eşleştirmelerden hangisi yanlıştır?

- A) Mimar - Plan çizer.
- B) Pilot - Araba sürer.
- C) Jandarma - Güvenliği sağlar.

10- I. Bütün vücudumuzu kaplar.

II. Cisimlerin sert, yumuşak, sıcak, soğuk olduğunu anlamamızı sağlar.

III. Üzerindeki gözeneklerden vücudumuzdaki fazla su, tuz ve zehirli maddeleri ter yoluyla dışarı atar.

IV. Vücudumuzun hava almasını sağlar.

Yukarıda derimizin görevleri ile ilgili verilen bilgilerden hangileri doğudur?

- A) I, III ve IV
- B) I, II, III ve IV
- C) II, III ve IV

11- İnsanlar niçin tasarruf yaparlar?

- A) Gerektiğinde kullanmak için
- B) Başkalarına vermek için
- C) Cimri oldukları için

12- Hak ve özgürlüklerimizle ilgili verilen bilgilerden hangisi yanlıştır?

- A) Her insanın düşüncelerini açıklama özgürlüğü vardır.
- B) Başkalarının hak ve özgürlüklerine zarar verebiliriz.
- C) Birbirimizin yaşama hakkına saygı duymalıyız.

13- 1. mektup 2. telefon 3. kitap 4. televizyon 5. dergi 6. bilgisayar 7. gazete 8. radyo

Yukarıdakilerden hangileri yazılı iletişim araçlarıdır?

- A) 2, 3, 4, 8
- B) 4, 5, 6, 8
- C) 1, 3, 5, 7

14- Seda, defterini karalayıp yırtıyor. Eda, çantasını yerlere atıyor. Hande, giysilerini temiz ve düzenli kullanıyor.

Yukarıdaki öğrencilerden hangisi için tutumludur diyebiliriz?

- A) Eda
- B) Seda
- C) Hande

15- "Benim bölgemde Pamukkale' de güneşin batışını izler, en kaliteli üzümleri yer, Efes Harabelerini gezebilirsiniz." diyen Eylem hangi bölgede yaşamaktadır?

- A) Ege Bölgesi
- B) Karadeniz Bölgesi
- C) Akdeniz Bölgesi

CEVAP ANAHTARI

Adı-Soyadı: _____

Puan: _____

Sınıf : ____ / ____

Numarası: _____

1	2	3	4	5	6	7	8	9	10	11	12	13	14	15
A	A	A	A	A	A	A	A	A	A	A	A	A	A	A
B	B	B	B	B	B	B	B	B	B	B	B	B	B	B
C	C	C	C	C	C	C	C	C	C	C	C	C	C	C

1- "Her gün bir saat kitap okur, haftada bir gün sinemaya giderim." diyen Ata hangi gereksinimlerini karşılamaktadır?

- A) sosyal gereksinimlerini
B) temel gereksinimlerini
C) kişisel gereksinimlerini

2- Aralarında kan bağı olan kişilere akraba denir. Akrabalık terimleri ile yakınlık dereceleri eşleştirilmiştir. Eşleştirmelerden hangisi yanlıştır?

- A) amca- babamızın erkek kardeşi
B) abla- bizden büyük kızkardeşimiz
C) hala- annemizin kız kardeşi

3- "Bir kımsenin arandığında bulunabileceği yere denir." ifadesinde noktalı yere hangi sözcük yazılmalıdır?

- A) apartman
B) ev
C) adres

4- "Dün arkadaşlarımla pikniğe gittik. Bir yandan kuş cıvıltıları, bir yandan radyodaki müzik beni adeta büyüledi." diyen Eylem hangi duyu organıyla bu güzellikleri yaşamıştır?

- A) göz
B) kulak
C) deri

5-Çevremizde olup bitenleri duyu organlarımızla anlarız. Duyu organlarımızla görevleri eşleştirilmiştir. Eşleştirmelerden hangisi yanlıştır?

- A) dil - tat alma
B) burun - işitme
C) deri - dokunma

- 6- I. İşler paylaşılarak yapılır.
- II. Kararlar ortaklaşa alınır.
- III. Herkesin fikirlere önem verilir.

Yukarıdakilerden hangileri demokratik bir ailenin özelliklerindendir?

- A) hepsi
B) I ve III
C) II ve III

7- Annenizle odanızı topluyorsunuz. Babanız uyuduğu için gürültü yapmamanız ve sözsüz iletişimle anlaşmanız gerekiyor. Annenizle anlaşmak için aşağıdakilerden hangisini kullanırsınız?

- A) beden dilinizi
B) yazı dilinizi
C) konuşma dilinizi

8- "Yemek, uyku, ders çalışma ve oyun saatlerine uymak kişisel olumlu etkiler." ifadesinde boş bırakılan yere hangi sözcük yazılmalıdır?

- A) gelişimimizi
B) yaşantımızı
C) başarıımızı

9- 1. göz 2. kulak 3. burun 2. baş
5. dil 6. kol 7. deri 8. bacak
Yukarıdaki organlardan hangileri beş duyu organımızdır?

- A) 1,3,6,7,8
B) 2,4,5,6,8
C) 1,2,3,5,7

10- "Bir ailenin aylık ya da yıllık gelir ve gider çizelgesine- denir." tümcesini hangi seçenek tamamlar?

- A) aile geliri
B) aile bütçesi
C) aile gideri

11- Toplum hayatımızda kullandığımız haklar toplum hayatımızı düzenleyen yazılı ve yazısız kurallardır. Aşağıdakilerden hangisi toplum hayatımızı düzenleyen yazılı kurallardan biri değildir?

- A) gelenekler
B) yasalar
C) yönetmelikler

12- Türk ulusu cumhuriyetin ilânı ile Atatürk'ün önderliğinde bir takım hak ve hürriyetlere kavuşmuştur. Aşağıdakilerden hangisi bu hak ve hürriyetlerden değildir?

- A) seyahat
B) yasalara uyma
C) yerleşme

13- Cemre, evdeki ve okuldaki eşyalarını temiz ve düzenli kullanır.

Cemil, elektrik ve suyu boş yere harcamaz.

Ceyda, ortak kullanılan mal-lara zarar vermez.

Yukarıdaki çocukların hangilerinin davranışı aile ve devlet bütçesine katkı sağlar?

- A) Cemre - Ceyda
B) Ceyda - Cemil
C) hepsi

14- "Benim bölgemde karalaha-
na ve hamsinin her türlü yemeği
yapılır. Düğünlerde kemençe eş-
liğinde horon oynanır." diyen Işıl
hangi bölgede yaşamaktadır?

- A) Akdeniz Bölgesi
B) Marmara Bölgesi
C) Karadeniz Bölgesi

15- Vatandaş olarak devletimize karşı görevlerimiz vardır. Hangisi bu görevlerden biri değildir?

- A) vergi vermek
B) seyahat etmek
C) askerlik yapmak

CEVAP ANAHTARI

Adı-Soyadı:

Surah :

Nutrition:

[illegible]

1- "Boyumuzun uzamasına ve kllomuzun artmasına denir." tümcesini hangi sözcük doğru tamamlar?

- A) büyüme
- B) değişme
- C) gelişme

2- I. Öğretmenimiz bize güzel şeyler söyler iltifat ederse
II. Birisi bize kötü sözler söylediğinde
III. Çok sevdiğimiz bir arkadaşımızdan ayrılınca

Yukarıdaki duygularımızı anlatan tümcelerin sonuna sıra ile hangi duygu sözcükleri gelir?

- A) seviniriz - öfkeleniriz - üzülürüz
- B) güleriz - ağlarız - kızarız
- C) üzülürüz - kızarız - ağlarız

3- Oya sınıfımıza yeni geldiği için hepimiz onu merak ediyorduk. Öğretmenimiz, Oya'dan kendi geçmişiyile ilgili bilgi vermesini istedi. Oya'nın kendi geçmiş hayatıyla ilgili verdiği bilgilere ne ad verilir?

- A) son cumhurbaşkanımız
- B) ilk cumhurbaşkanımız
- C) ilk başbakanımız

4- İnsanların birbirlerine olan ihtiyaçları meslekleri doğurmuştur. Aşağıdakilerden hangisi eskiden geçerli olup günümüzde geçerliliğini yitirmiş mesleklerden-dir?

- A) mühendislik
- B) nalbantlık
- C) avukatlık

5- Millî ve dinî bayramlarımız kültürel değerlerimizdir. Aşağıdakilerden hangisi millî bayramlarımızdan birisi değildir?

- A) Cumhuriyet Bayramı
- B) Zafer bayramı
- C) Ramazan Bayramı

6- "Atatürk, bizlm-dır." tümcesinde boş bırakılan yere aşağıdakilerden hangisi yazılmalıdır?

- A) son cumhurbaşkanımız
- B) ilk cumhurbaşkanımız
- C) ilk başbakanımız

7- Atatürk'ün Samsun'a çıkarak Kurtuluş Savaşı'nı başlattığı 19 Mayıs gününü her yıl hangi bayram olarak kutlamaktayız?

- A) Zafer Bayramı
- B) Ulusal Egemenlik ve Çocuk Bayramı
- C) Atatürk'ü Anma ve Gençlik ve Spor bayramı

8- "Sınıfımızda yapılan bayram hazırlıklarına seveerek katılırim. Bayram hazırlıkları beni çok heyecandırır." diyen Ufuk hangi hazırlık çalışmasını yapmaz?

- A) Caddelere tabela asar.
- B) Atatürk köşesi hazırlar.
- C) Sınıfını süsler.

9- "Atatürk Cumhuriyeti kurmuş, "Sonsuza kadar yaşayacaktır." demiş ve emanet etmiştir." tümcesinde noktalı yere hangisi gelmelidir?

- A) Türk çocuklarına
- B) Türk kadınlara
- C) Türk gençlerine

10- Ülkelerin bağımsızlıklarını temsil eden millî sembolleri vardır. Aşağıdakilerden hangisi millî sembollerden biri değildir?

- A) bayrak
- B) millî marş
- C) gazete

11- I. Günümüzün en önemli teknolojik ürünüdür.

II. Hem görsel hem işitsel olarak yararlanır.

III. İnternet bağlantısı kurularak istenilen bilgiye en kısa sürede ulaşılır.

Yukarıda anlatılan teknolojik ürün aşağıdakilerden hangisidir?

- A) televizyon
- B) belge geçer
- C) bilgisayar

12- "Mektupla haberleşmenin yerini günümüzde elektronik postalar, dumanla, güvercinle haberleşmenin yerini cep telefonları aldı." yukarıdaki paragrafta bahsedilen durum hangisidir?

- A) İnsanların istekleri değişmiştir.
- B) Teknoloji gelişmektedir.
- C) İletişim sürekli gerilemiştir.

13- Ulaşımın gelişmesinde dönüm noktası kabul edilen ve ulaşımın gelişmesini sağlayan en önemli buluş hangisidir?

- A) elektriğin bulunması
- B) tekerleğin bulunması
- C) buharlı motorlar

14- "Tarihî ve sanatsal değeri olan eserlerin korunup saklandığı ve kültürel değerlerimizin sergilen-diği yerlere denir." tümcesini hangi sözcük tamamlar?

- A) fuar
- B) panayır
- C) müze

15- Günümüzde insanlar uzaya gönderilen uydulardan haberleşmede yararlanıyorlar. Ülkemizin haberleşme amaçlı uzaydaki uydusunun adı nedir?

- A) Türksat
- B) Roket
- C) Füze

CEVAP ANAHTARI

Adı-Soyadı: _____

Puan: _____

Sınıf : ____ / ____ / ____

Numarası: _____

1	2	3	4	5	6	7	8	9	10	11	12	13	14	15
A	A	A	A	A	A	A	A	A	A	A	A	A	A	A
B	B	B	B	B	B	B	B	B	B	B	B	B	B	B
C	C	C	C	C	C	C	C	C	C	C	C	C	C	C

1- Atatürk cumhuriyetin ilânından sonra ülkesini çağdaşlaştırmak için birçok yenilik yaptı. Bu yeniliklere Atatürk İnkılapları denir. Aşağıdakilerden hangisi Atatürk İnkılaplarından birisi değildir?

- A) Yeni Türk Alfabesinin kabulü
- B) Devletçilik
- C) Soyadı Kanunu

2- Mustafa Kemal'e "Atatürk" soyadını hangi kurum vermiştir?

- A) Türk Dil Kurumu
- B) Türkiye Büyük Millet Meclisi
- C) Türk Tarih Kurumu

3- 1. doğurtur 2. büyütür 3. solunum yaparlar 4. beslenirler 5. hareket ederler 6. ölürler

Yukarıdakilerden hangileri canlıların ortak özelliklerindendir?

- A) 1, 2, 4, 6
- B) 2, 3, 5, 6
- C) hepsi

4- Aşağıdaki anlatımlardan hangisi doğrudur?

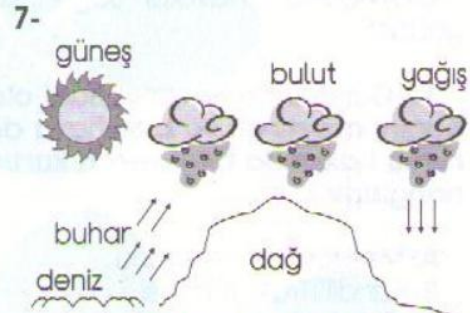
- A) Dünya, Ay'dan büyüktür.
- B) Güneş, Ay'dan küçüktür.
- C) Dünya, Güneş'ten büyüktür.

5- "Canlılar arasındaki besin alışverişine besin zinciri denir. Her besin zinciri ile başlar, birçok besin zincirinin son halkasıdır." ifadesinde noktalı yerlere sıra ile hangi canlılar gelmelidir?

- A) hayvan - insan
- B) bitki - insan
- C) bitki - hayvan

6- Aşağıdakilerden hangisi toplumsal yardımlaşma kurumlarından biri değildir?

- A) Sosyal Hizmetler ve Çocuk Esirgeme kurumu
- B) Sosyal Yardımlaşma ve Dayanışma Vakfı
- C) Anadolu Yardımlaşma Kurumu



Yukarıdaki resimde anlatılan olay aşağıdakilerden hangisidir?

- A) doğadaki su döngüsü
- B) denizlerin buharlaşması
- C) dağların yüksek olması

8- Aşağıdakilerden hangisi ısının maddeler üzerindeki etkilerinden değildir?

- A) Isı, katıları sıvılaştırır.
- B) Isı, maddenin şeklini değiştirir.
- C) Isı, maddeyi yok eder.

9- Dünya'nın iki türlü hareketi vardır. Kendi eksenli etrafında ve Güneşin etrafında döner. Dünya kendi eksenli etrafında dönüşünü kaç saatte tamamlar ve neyi meydana getirir?

- A) 24 saatte - mevsimleri
- B) 24 saatte - ayları
- C) 24 saatte - gece ve gündüzü

10- Aşağıda mevsimler ve özellikleri eşleştirilmiştir. Eşleştirmelerden hangisi yanlıştır?

- A) Yaz: Gündüzler uzar, geceler kısalmır.
- B) İlkbahar: Hava ısınmaya başlar, ağaçlar yeşerir.
- C) Sonbahar: Hava soğur, kar yağar.

11- Gün içinde havanın nasıl olduğunu araştıran ve bize hava durumu hakkında bilgi veren kurum hangisidir?


- A) Meteoroloji İstasyonu
- B) Kandilli Rasathanesi
- C) Kız kulesi

12- Maddenin, ve olmak üzere üç hâli vardır. tümcesinde noktalı yerlere sıra ile hangi sözcükler yazılmalıdır?

- A) su - buhar - gaz
- B) katı - sıvı - gaz
- C) buhar - sıvı - kar

13- Demet çevre dostu olduğunu, çevreyi koruduğunu, korumayanları uyardığını söylüyor. Aşağıdakilerden hangisi Demet'in davranışlarından olamaz?

- A) Atık kağıtları dönüşüm kutusuna atmak.
- B) Çöplerini kâğıt, plastik, cam, metal olarak ayırmak.
- C) Ağaçların dallarını kırmak çiçekleri koparmak.



Yukarıdaki canlılar arasındaki ilişki aşağıdakilerden hangisi ile anlatılmaktadır?

- A) canlı ve cansız varlıklar
- B) besin zinciri
- C) hayvanlar

15- Görkem'e öğretmeni zamanı gösteren bir araç tasarlayarak yapmasını ödev olarak vermiş. Görkem'in aşağıdakilerden hangisini tasarlayıp yapması doğru olmaz?

- A) takvim
- B) termometre
- C) saat

CEVAP ANAHTARI

Adı-Soyadı: _____										Puan: _____				
Sınıfı: ____/____					Numarası: _____									
1	2	3	4	5	6	7	8	9	10	11	12	13	14	15
A	A	A	A	A	A	A	A	A	A	A	A	A	A	A
B	B	B	B	B	B	B	B	B	B	B	B	B	B	B
C	C	C	C	C	C	C	C	C	C	C	C	C	C	C

1- Atatürk, Türk toplumunu bilinçlendirerek onlara yol gösterdi, aynı amaç etrafında birleştirdi. Bunun sonucunda Kurtuluş Savaşı'nı kazandı.

Yukarıdaki paragrafta Atatürk'ün hangi özelliğinden bahsedilmiştir?

- A) yardımseverlik
- B) liderlik
- C) cesaret

2- " bulunmasıyla kitap, gazete, dergi gibi yazılı iletişim araçları gelişmiş ve yaygınlaşmıştır." tümcesinde noktalı yere hangi sözcük yazılmalıdır?

- A) Matbaanın
- B) Bilgisayarın
- C) Belgegeçerin

3- I. En büyük ısı ve ışık kaynağıdır.
II. Gökyüzündeki büyük yıldızlardan birisidir.

III. Canlıların yaşam kaynağıdır.
Yukarıda anlatılan gök cismi aşağıdakilerden hangisidir?

- A) Dünya
- B) Gezegen
- C) Güneş

4- "Isıtılan katı maddeler, soğutulan sıvı maddeler" tümcesini sıra ile hangi sözcük çifti tamamlar?

- A) katılaşır - sıvılaşır
- B) donar - erir
- C) erir - donar

5- Atatürk'ün hayatı ile ilgili tarihler ve olaylar eşleştirilmiştir. Eşleştirmelerden hangisi doğrudur?

- A) 19 Mayıs 1919 - Samsun'a çıktı.
- B) 23 Nisan 1920 - Cumhuriyeti kurdu.
- C) 30 Ağustos 1922 - Türkiye Büyük Millet Meclisi'ni açtı.

6- "Din ve devlet işleri ayrı tutulmalı, din ve mezhep hiçbir zaman politika aracı olarak kullanılmamalıdır."

Yukarıdaki söz Atatürk'ün hangi ilkesi ile ilgilidir?

- A) Halkçılık
- B) Devletçilik
- C) Lâiklik

7- Aşağıdaki ifadelerden hangisi yanlıştır?

- A) Bilgisayarda yalnızca oyun oynarız.
- B) En hızlı haberleşme internet yoluyla olur.

8- Aydan sınıfının Hava Gözlem Kulübü'nde görev yapmaktadır. Her gün hava sıcaklığını ölçerek hava grafiğine işlemesi gerekiyor. Aydan hava sıcaklığını aşağıdaki araçların hangisi ile ölçmelidir?

- A) barometre
- B) termometre
- C) anemometre

9- Aşağıdakilerden hangisi Atatürk'ün yaptığı inkılaplardan birisi değildir?

- A) Kılık kıyafette yenilik.
- B) Saltanatta yenilik.
- C) Saat, takvim ve ölçülerde yenilik.

10- "Dağların yüksek bir noktadan koparak yuvarlandıkça büyüyen kar kütlelerine denir." tanımlamasını hangi sözcük tamamlar?

- A) erozyon
- B) çığ
- C) heyelan

11- I. Rengi kırmızıdır.

II. Dikdörtgen şeklindedir.

III. Bağımsızlığımızı temsil eder.

IV. Üzerinde beyaz ay ve yıldız vardır.

Yukarıdakilerden hangileri bayrağımızın özelliklerindendir?

- A) I, III, ve IV
- B) II, III ve IV
- C) I, II, III ve IV

12- Aşağıdakilerden hangisi doğal çevreye ve doğaya zarar vermez?

- A) Fabrika bacalarından çıkan dumanlar.
- B) Sıcak ülkelere göç eden göçmen kuşlar.
- C) Fabrikaların sulara karıştırdığı fabrika atıkları.

13- Aşağıdakilerden hangisi ulusal egemenliğin tanımıdır?

- A) Bir milletin kendi kendini yönetmesi
- B) Vatanın ve milletin çok sevilmesi
- C) Basının özgür olması

14- "Hava küre içindeki sıcaklık değişimlerini, rüzgâr, dolu, kar, yıldırım gibi hava olaylarını inceleyen bilim dalı dir." tümcesinde noktalı yere hangisi yazılmalıdır?

- A) meteoroloji
- B) termometre
- C) sismograf

15- 1. Ankara'da Türkiye Büyük Millet Meclisi'nin açılması

2. Ülkenin düşmanlardan temizlenmesi

3. Atatürk'ün Samsun'a çıkması

4. Cumhuriyetin ilân edilmesi

Yukarıdaki olayların oluş tarihlerine göre sıralanışı hangisidir?

- A) 1, 3, 2, 4
- B) 3, 1, 2, 4
- C) 2, 1, 4, 3

CEVAP ANAHTARI

Adı-Soyadı: _____

Puan: _____

Sınıf: ____ / ____

Numarası: _____

1	2	3	4	5	6	7	8	9	10	11	12	13	14	15
A	A	A	A	A	A	A	A	A	A	A	A	A	A	A
B	B	B	B	B	B	B	B	B	B	B	B	B	B	B
C	C	C	C	C	C	C	C	C	C	C	C	C	C	C

1- "Meral'in annesi 1961 yılında Samsun'da doğmuş. Cumhuriyet İlköğretim Okulu'nda okumuş. Ankara Üniversitesi Tıp Fakültesi'ni bitirmiş. Doktora yapıyor."

Yukarıdaki paragrafta Meral'in annesinin hangi özelliğinden söz edilmektedir?

- A) öz yaşamından
- B) öz geçmişinden
- C) geleceğinden

2- Aşağıda Atatürk'ün yaşamı ile ilgili tarihler ve olaylar eşleştirilmiştir. Eşleştirmelerden hangisi yanlıştır?

- A) 1920 - Cumhuriyeti kurdu.
- B) 1938 - İstanbul'da öldü.
- C) 1881 - Selânik'te doğdu.

3- "Bayramlarda, özel günlerde ve hafta sonlarında bayrağımız göndere çekilirken mız okunur." tümcesini hangi seçenek tamamlar?

- A) İstiklâl Marşı
- B) Eskişehir Marşı
- C) Onuncu Yıl Marşı

4- I. Kazılar sonrası çıkarılan tarihî eserlerin saklandığı yerlerdir.

II. Sanatsal değeri olan eserlerin sergilendiği yerlerdir.

III. Tarihi değer taşırlar.

Yukarıdaki bilgilerden hangileri müzelerimize aittir?

- A) I ve III
- B) I, II ve III
- C) II ve III

5- Farklı hava koşullarının en çok etkilediği ulaşım şekli aşağıdakilerden hangileridir?

- A) Demir yolu ulaşımı
- B) Kara ulaşımı
- C) Hava ve deniz ulaşımı

6- "Çevremizdeki canlılar; insanlar, hayvanlar ve olmak üzere üç grupta incelenir." tümcesinde boş bırakılan yere hangi sözcük yazılmalıdır?

- A) ağaçlar
- B) meyveler
- C) bitkiler

7- "doğma - büyüme - beslenme - hareket etme - solunum yapma - üreme - ölme"

Yukarıdakilerden kaç tanesi canlıların ortak özelliklerindendir?

- A) 5
- B) 7
- C) 6

8- Aşağıdaki ifadelerden hangisi yanlıştır?

- A) Bitkiler tohumlarıyla çoğalır.
- B) Kümes hayvanları yavrularını doğurarak çoğaltır.
- C) Maddenin katı, sıvı ve gaz olmak üzere üç hali vardır.

9- 1. kağıt 2. cam 3. porselen
4. metal 5. plastik 6. iplik
7. alüminyum
Geri dönüşümü olan atıklar hangi seçenekte verilmiştir?

- A) 1 - 2 - 4 - 5 - 7
- B) 1 - 3 - 5 - 6 - 7
- C) 2 - 3 - 4 - 6 - 7

10- Olumsuz hava koşulları sürücüler ve trafikli etkiler. Aşağıdakilerden hangisi olumsuz hava koşullarının trafiğe etkilerindendir?

- A) Sürüş emniyeti sağlanır.
- B) Görüş mesafesi artar.
- C) Yerler kayganlaşır.

11- Ayşe'ye öğretmeni zamanı gösteren araçlarla ilgili araştırma ödevi verdi. Ayşe ödevinde aşağıdaki araçların hangisine yer vermez?

- A) takvim
- B) saat
- C) telefon

12- Dünya hem kendi çevresinde hem de Güneş'in çevresinde döner. Dünya Güneş çevresindeki dönüşünü ne kadar sürede tamamlar?

- A) 30 günde
- B) 365 günde
- C) 365 gün 6 saatte

13- I. Geceler kısa gündüzler uzun olur.

II. Havaalar iyice ısınır.

III. Meyveler olgunlaşır.

Yukarıdaki anlatımlar hangi mevsime aittir?

- A) ilkbahar
- B) yaz
- C) sonbahar

14- Katı maddelerin ısının etkisiyle sıvı hale geçmesine ne ad verilir?

- A) kaynama
- B) erime
- C) buharlaşma

15- Aşağıdaki anlatımlardan hangisi yanlıştır?

A) Bilgisayar sadece iletişim teknolojisinde kullanılır.

B) Telgrafın bulunuşu haberleşmede bir dönüm noktasıdır.

C) Ulaşım araçlarının gelişimi tekerleğin icat edilmesiyle başlamıştır.

CEVAP ANAHTARI

Adı-Soyadı: _____

Sınıf: ____ / ____

Numerası: _____

Puan: _____

1	2	3	4	5	6	7	8	9	10	11	12	13	14	15
A	A	A	A	A	A	A	A	A	A	A	A	A	A	A
B	B	B	B	B	B	B	B	B	B	B	B	B	B	B
C	C	C	C	C	C	C	C	C	C	C	C	C	C	C

1- Kemal, koridorlarda koşmaz. Vedat, söz hakkı alarak konuşur. Leyla, teneffüste sınıfta top oynar. Seda, çöpleri yerlere atar.

Yukarıdaki öğrencilerden hangileri okul kurallarına uymaktadır?

- A) Vedat - Leyla
B) Kemal - Vedat
C) Kemal - Seda

2- Ayça öğrenciler arasındaki benzer ve farklılıklarla ilgili bir sunum hazırladı. Ayça sunumda aşağıdakilerden hangisine yer vermez?

- A) Her öğrencinin fiziksel görünüşü aynıdır.
B) Farklılıkları hoşgörü ve saygı ile karşılamalıyız.
C) Öğrenciler arasında benzer ve farklılıkların olması doğaldır.

3- Atatürk'ün İstanbul Harp Akademisi'ni bitirerek orduya katıldığı yıl ve rütbe hangi seçenekte verilmiştir?

- A) 1905 - kurmay yüzbaşı
B) 1905 - kurmay binbaşı
C) 1905 - kurmay albay

4- Kişisel bakım nedir?

- A) Kişinin arkadaşlarına uyguladığı bakım.
B) Kişinin ailesine uyguladığı bakım.
C) Kişinin kendine uyguladığı bakım.

5- "Selin sorularına yanıt bulmak için kaynak kitaplardan, kaynak kişilerden, internetten, CD'lerden yararlanıyor. Böylece bilgiye kendi ulaşmanın mutluluğunu yaşıyor." ifadesinde noktalı yere aşağıdakilerden hangisini yazamayız?

- A) çabalarıyla
B) uğraşlarıyla
C) kaynaklarıyla

6- "Etkili iletişim iyi bir ve iyi bir olmayı gerektirir." tümcesinde boş bırakılan yerlere sıra ile hangi sözcükler yazılmalıdır?

- A) okuyucu - yazıcı
B) konuşmacı - dinleyici
C) sorgulayıcı - dinleyici

7- Canlılar arasındaki beslenme ilişkisi bir zincirin halkalarına benzer. Aşağıdakilerden hangisi "Besin zincirinin" tanımıdır?

- A) Canlılar arasındaki besin alışverişidir.
B) Yeşil bitkilerin solunum yapmasıdır.
C) Canlıların beslenme şeklidir.

8- Ay hakkında verilen bilgilerden hangisi doğrudur?

- A) Ay, kendi çevresinde dönüşünü 30 günde tamamlar.
B) Ay, Dünya'mızdan büyüktür.
C) Ay'da hava ve su olmadığı için hayat yoktur.


9- 1. sel 2. trafik kazası 3. deprem 4. heyelan 5. boğulma 6. çığ 7. güneş çarpması 8. erozyon
Yukarıdakilerden hangileri doğal afetlerdendir?

- A) 2, 3, 5, 7, 8
B) 1, 3, 4, 6, 8
C) 1, 3, 5, 6, 7

10- Herhangi bir afet sonrası için seçtiğimiz "buluşma yeri" nasıl olmalıdır?

- A) çok uzak bir yer
B) güvenli ve hatırlanması kolay bir yer
C) bulunması güç bir yer

11- Ezgi sınıfının Hava Gözlem Kulübü'nde görev yapıyor. Her gün hava durumunu gözlemleyerek hava grafiğine işliyor. Bugün hava parçalı bulutlu olduğuna göre, Ezgi hava grafiğine aşağıdaki işaretlerden hangisini yapmalıdır?



12- I. Sorunlara karşı her zaman bir çözümü vardır.
II. Nerede, ne zaman, nasıl davranacağını bilir.
III. Güçlükler karşısında yılmaz.

Yukarıdakilerden hangileri iyi bir liderin özelliklerindendir?

- A) II ve III B) I, II ve III C) I ve III

13- "Bahçemizdeki gülleri saatlerce seyrettim. Mıs gibi kokularını içime çektim. Dokunmak, kopardırmak isteyince dikenli elime battı." diyen Duygu sırası ile hangi duyu organlarını kullanmıştır?

- A) göz - burun - deri
B) göz - kulak - burun
C) burun - kulak - deri

14- Aşağıda görevliler ve görevleri eşleştirilmiştir. Eşleştirmelerden hangisi yanlıştır?

- A) Postacı - Mektuplarımızı getirir.
B) Temizlik İşçisi - Belediyedeki resmî yazışmaları yapar.
C) Polis - Güvenliğimizi sağlar.

15- Aşağıdaki bilgilerden hangisi yanlıştır?

- A) Atatürk 10 Kasım 1938'de 67 yaşında öldü.
B) Atatürk'ün yapmış olduğu yeniliklere İnkılâp adı verilir.
C) Mustafa Kemal'e Atatürk soyadını Türkiye Büyük Millet Meclisi verdi.

CEVAP ANAHTARI

Adı-Soyadı:		Puanı:												
Sınıfı: / /		Numarası:												
1	2	3	4	5	6	7	8	9	10	11	12	13	14	15
A	A	A	A	A	A	A	A	A	A	A	A	A	A	A
B	B	B	B	B	B	B	B	B	B	B	B	B	B	B
C	C	C	C	C	C	C	C	C	C	C	C	C	C	C

1. Aile içi dayanışmayı güçlendirir.

2. İşlerin sorunsuz ve çabuk bitmesini sağlar.

3. Ailenin mutluluğu ve düzeni korunur.

Yukarıdakilerden hangileri ailede iş bölümünün aileye kazandırdıklarındandır?

- A) 1 ve 3
B) 1, 2 ve 3
C) Yalnız 2

2- "mektup - televizyon - telefon - telgraf - bilgisayar - radyo - belge-geçer - dergi - gazete - cep telefonu - kitap" Yukarıdakilerden kaç tanesi kişisel iletişim aracıdır?

- A) 11 B) 7 C) 5

3- Aşağıdaki atasözlerinden hangisi öfke ve kızgınlıklarımızı kontrol etmediğimizde bize vereceği zararı anlatmaktadır?

- A) Öfkeyle kalkan zararlar oturur.
B) Öfke baldan tatlıdır.
C) Ölümle ölçülmez.

4- Okulda doğal afetlerden korunmak için okul afet eylem planı hazırlayan bir sınıf aşağıdakilerden hangisine yer vermez?

- A) Sınıf afet çantası hazırlanmalıdır.
B) Herhangi bir sarsıntı anında sıra veya masa gibi eşyaların altına girmeli "çok kapan" tekniği uygulanmalıdır.
C) Merdivenlerden koşarak inilmelidir.

5- Dilek, yaptığı araştırmaların sonuçlarını sunum yaparak arkadaşlarıyla paylaşıyor. Öğrendiklerini ailesi ve akrabalarına anlatıyor. Dilek bu yaptıkları ile aşağıdakilerden hangisini gerçekleştirebilir?

- A) Arkadaşlarından öğrenir.
B) Öğrenirken öğretir.
C) Ailesinden öğrenir.

6- "Zamanı, parayı, besinleri ve enerjileri tutumlu kullanalım. Böylelikle aile bütçesine ve yurt katkı sağlayalım." tümcesini aşağıdakilerden hangisi tamamlar?

- A) gerilemesine
B) ekonomisine
C) savunmasına

7- Atatürk'ün öldüğü tarih ve yer hangi seçenekte verilmiştir?

- A) 10 Kasım 1938 - Dolmabahçe Sarayı
B) 24 Kasım 1938 - İstanbul
C) 10 Kasım 1938 - Ankara

1- "Bilim ve sanatla ilgili olarak yapılan yöntemli çalışmalara araştırma, araştırma yapanlara da denir." tümcesini hangi sözcük tamamlar?

- A) deneyci
B) araştırmacı
C) incelemeci

2- Hava küre içindeki sıcaklık değişimlerini; rüzgâr, dolu, kar, fırtına, yıldırım, yağmur gibi hava olaylarını inceleyen bilim dalı aşağıdakilerden hangisidir?

- A) meteoroloji
B) astroloji
C) biyoloji

3- İllerindeki taşıtlar ve trafik sorunları hakkında araştırma yapan öğrenciler aşağıdaki kuruluşların hangisinden yeterli bilgileri alabilirler?

- A) Emniyet Müdürlüğü
B) Halk Eğitimi Müdürlüğü
C) Milli Eğitim Müdürlüğü

4- Eğitici kulüp çalışmaları aşağıdaki davranışlardan hangisini kazandırmaz?

- A) planlı çalışmayı
B) ortak kararlar almayı
C) düzensiz çalışmayı

5- Hayatımızı anlamlı kılan, davranışlarımıza yön veren ve lerimizdir." ifadesinde noktalı yerlere sıra ile hangi sözcükler gelmelidir?

- A) ifade - beceri
B) tavır - davranış
C) duygu - düşünce

6- Oya, arkadaşlarının oyununu bozarak oyuna katılıyor.

Seda, oyunlarda mızıkçılık yapıyor.

Bariş, izin alarak arkadaşlarının oyununa katılıyor.

Birlikte oynamak ve oyuna katılmak için hangi arkadaşımızın yaptığı davranış doğrudur?

- A) Oya'nın
B) Bariş'in
C) Seda'nın

7- Aşağıdakilerden hangisi krokinin özelliklerinden değildir?

- A) Kabataslak çizimdir.
B) Belli bir ölçek dahilinde yapılan çizimdir.
C) Ölçüsüz çizimdir.

8- Yolda karşıdan karşıya geçmek için hangi ışığın yanmasını beklemeliyiz?

- A) sarı
B) kırmızı
C) yeşil

9- "Ben büyüyünce güzel projeler çizip, görkemli ve sağlam binalar yapmak istiyorum." diyen Olcay büyüyünce hangi mesleği yapmayı düşünüyor?

- A) mimarlık
- B) subaylık
- C) mühendislik

10- "Tüm vücudumuzu kaplar. Dokunduğumuz cisimlerin sert yumuşak, sıcak, soğuk olduğunu anlamamızı sağlar. Üzerindeki gözenekler sayesinde vücudumuzdaki zararlı maddeleri ter yoluyla dışarı atar. Vücudumuzun hava almasını sağlar." Yukarıdaki paragrafta anlatılan duyu organımız hangisidir?

- A) dil
- B) deri
- C) burun

11- Ali ile Ayşe sınıf dergisi çıkarmak için bir proje hazırlıyorlar. Projelerini gerçekleştirmek için öncelikle neler yapmaları gerektiğini listeliyorlar. Hangisine proje gerçekleştirme listelerinde yer veremezler?

- A) Çalışırken çıkabilecek sorunları konuşarak ortak çözümler buluyoruz.
- B) Kimin, nasıl, ne zaman, ne yapacağını planlıyoruz.
- C) Birbirimizden bağımsız çalışıyoruz.

12-Tuna'dan öğretmeni bir işte başarılı olmak için neler yapılması gerektiğini araştırarak listelemesini istedi. Tuna listesinde aşağıdakilerden hangisine yer vermez?

- A) Kaybetmekten korkmadan yenilikleri denemeliyiz.
- B) Her şeye rağmen başaracağımıza inanarak kendimize güvenmeliyiz.
- C) Başaramayacağımızı anladığımızda işi bırakmalıyız.

13-1. gelir: Anne ve babanın kazancı, kazandığı para.

2.gider: Çeşitli gereksinimler için yapılan harcamalar.

3.tasarruf: Gerektiğinde harcanmak için biriktirilen para.

Yukarıdaki tanımlardan hangileri doğrudur?

- A) 1 ve 3
- B) 1, 2, ve 3
- C) 2 ve 3

14- Mizah, gülmece demektir. Aşağıdakilerden hangisi ülkemizin yetiştirdiği mizah ustalarındandır?

- A) Nasrettin Hoca
- B) Yunus Emre
- C) Aşık Veysel

15- Bir Türkiye haritası çizerek üzerinde yalnız karaları göstermek isteyen Selin hangi rengi kullanmalıdır?

- A) mavi
- B) siyah
- C) kahverengi

CEVAP ANAHTARI															
Adı-Soyadı: _____															Puan:
Sınıfı : ____ / ____															Numerası: ____
1	2	3	4	5	6	7	8	9	10	11	12	13	14	15	
A	A	A	A	A	A	A	A	A	A	A	A	A	A	A	
B	B	B	B	B	B	B	B	B	B	B	B	B	B	B	
C	C	C	C	C	C	C	C	C	C	C	C	C	C	C	

8- Eğitici kulüp çalışmaları ile ilgili verilen bilgilerden hangisi doğrudur?

- A) Kulüpteki herkes çalışmalara katılmalı ve fikir üretmelidir.
- B) Çalışmaları grup başkanı yapmalıdır.
- C) Çalışmaları sadece öğretmen yapmalıdır.

9- "Saç, göz, ten rengi ile boy ve kilo farklılıklarına özellikler denir." tümcesinde noktalı yere hangi sözcük yazılmalıdır?

- A) zihinsel
- B) duygusal
- C) fiziksel

10- Gizem'in altesinde annesi, babası, ablası ve ağabeyi vardır. Gizem'in ailesi aşağıdaki aile tiplerinden hangisidir?

- A) geniş aile
- B) çekirdek aile
- C) büyük aile

11- Ailece aile bütçesi hazırladık ve bütçenin denk bütçe olmasına dikkat ettik. Hazırladığımız bütçenin denk bütçe olabilmesi için nasıl olması gerekir?

- A) gelirin giderine eşit olması
- B) gelirin giderinden fazla olması
- C) gelirin giderinden az olması

12-"Doğu, batı, güney, ve kuzey yönlerdir." tümcesini hangi sözcük tamamlar?

- A) taraf
- B) ara
- C) ana

13- Aşağıdakilerden hangisi Atatürk'ün kişisel özelliklerinden değildir?

- A) İyi bir konuşmacı iyi bir asker, güçlü bir komutandır.
- B) Yeniliklere kapalıdır, acele karar verir.
- C) Zorluklar karşısında yılmaz, sabırlı ve disiplinlidir.

14- İstiklâl Marşı'mızı Mehmet Akif Ersoy yazmış, Zeki Üngör bestelemiştir. İstiklâl Marşı'mız hangi tarihte millî marşımız olarak kabul edilmiştir?

- A) 12 Mart 1920
- B) 12 Mart 1921
- C) 12 Mart 1923

15- I. Maddelerin şeklini değiştirir.
II. Maddeleri dondurur.
III. Maddeleri eritir.

Yukarıdakilerden hangileri ısının maddeye etkilerindendir?

- A) I, II ve III
- B) II ve III
- C) I ve II

CEVAP ANAHTARI															
Adı-Soyadı: _____															Puan:
Sınıfı : ____ / ____															Numerası: ____
1	2	3	4	5	6	7	8	9	10	11	12	13	14	15	
A	A	A	A	A	A	A	A	A	A	A	A	A	A	A	
B	B	B	B	B	B	B	B	B	B	B	B	B	B	B	
C	C	C	C	C	C	C	C	C	C	C	C	C	C	C	