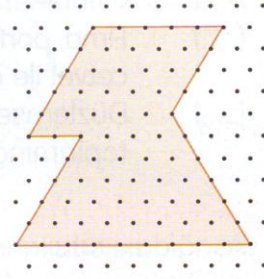


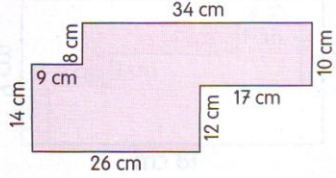
1. Yandaki düzlemsel şeklin çevre uzunluğu birim olarak aşağıdakilerden hangisidir?

A) 34
B) 35
C) 36



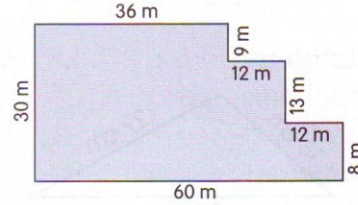
2. Yandaki düzlemsel şeklin çevre uzunluğu hangi seçenekte verilmiştir?

A) 129 cm
B) 130 cm
C) 131 cm




3. Yandaki düzlemsel şeklin çevre uzunluğu aşağıdakilerden hangisidir?

A) 180 m
B) 170 m
C) 160 m



4. Düzlemsel şekillerinin çevre uzunluğu ile ilgili bir problem kurunuz.



KENDİMİ DEĞERLENDİRİYORUM

Kendinizi değerlendirmek için kazanımların karşısındaki yüzlerden size uygun olanı boyayınız.

1. Düzlemsel şekillerin çevre uzunlukları ile ilgili problemleri çözebiliyorum.



Evet



Kısmen



Henüz değil

2. Düzlemsel şekillerin çevre uzunlukları ile ilgili problemleri kurabiliyorum.



Boyadığınız yüzlerden 😊 ve 😞 varsa konuya tekrar çalışınız.

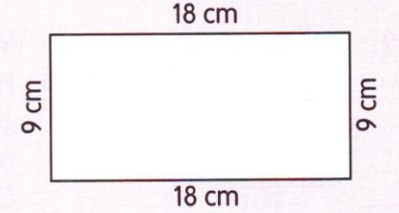
- A. Aşağıdaki ifadelerin doğru olanlarına D, yanlış olanlarına Y yazınız.

- (.....) 1. Elma, portakal, patates, soğan vb. nesnelerin çevre uzunluklarını cetvel ile ölçebiliriz.
(.....) 2. Düzlemsel şekillerin çevre uzunlukları, kenar uzunluklarının toplamına eşittir.

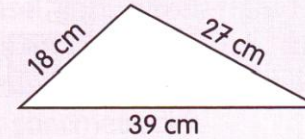
- B. Aşağıdaki sayıların doğru seçeneklerini işaretleyiniz.

1. Yandaki düzlemsel şeklin çevre uzunluğu, aşağıdakilerden hangisidir?

A) 52 cm
B) 53 cm
C) 54 cm



- 2.

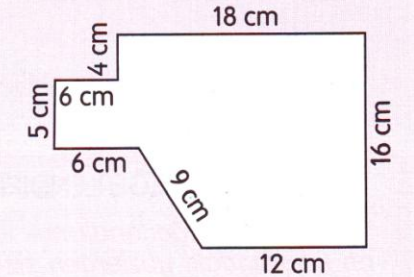


Yandaki düzlemsel şeklin çevre uzunluğu, hangi seçenekte verilmiştir?

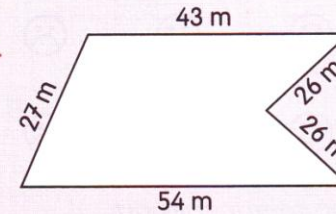
A) 84 cm
B) 85 cm
C) 86 cm

3. Yandaki düzlemsel şeklin çevre uzunluğu, aşağıdakilerden hangisidir?

A) 75 cm
B) 76 cm
C) 77 cm



- 4.

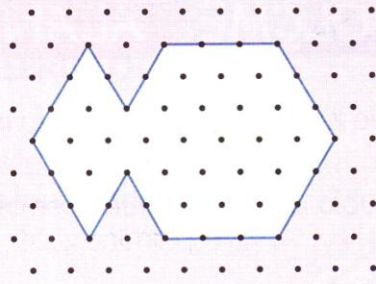


Yandaki düzlemsel şeklin çevresi, hangi seçenekte verilmiştir?

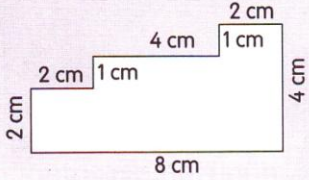
A) 174 m
B) 175 m
C) 176 m

5. Yandaki düzlemsel şeklin çevre uzunluğunun kaç birim olduğu, hangi seçenekte verilmiştir?

A) 22
B) 24
C) 26



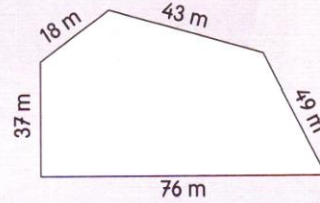
6. Yandaki düzlemsel şeklin çevre uzunluğu aşağıdakilerden hangisidir?



A) 24 cm
B) 25 cm
C) 26 cm

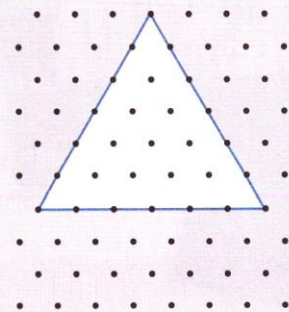
7. Yandaki gibi düzlemsel bölge olan arsanın çevresine 4 sıra dikenli tel çekilmiştir. Kullanılan tel miktarı aşağıdakilerden hangisidir?

A) 890 m
B) 892 m
C) 894 m




8. Aşağıdaki düzlemsel şekillerden çevresi en uzun olanı hangisidir?

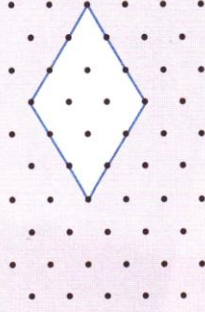
A)




B)




C)




- Aşağıdaki karelerin çevre uzunluklarını hesaplayınız.



Çevre =cm




Çevre =cm




Çevre =cm

- Aşağıdaki dikdörtgenlerin çevre uzunluklarını hesaplayınız.



Çevre =cm

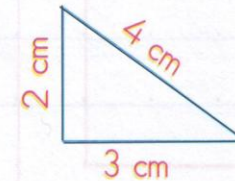


Çevre =cm

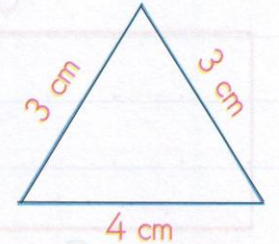
- Aşağıdaki üçgenlerin çevre uzunluklarını hesaplayınız.



Çevre =cm



Çevre =cm



Çevre =cm