

Minik ayının arkadaşı hastaydı. Yataktan çıkamadığı için yiyeceği de kalmamıştı. Ona meyve toplayıp götürmek gerekiyordu. Minik ayı, çilek topladı. Ancak çilekleri ayının evine nasıl götürecekti? Sorunu çözmek için düşünürken yanına kirpi yaklaştı. Ayı, sorununu kirpiye anlattı. Kirpi: "Çilekleri dikenlerime sapla. Arkadaşının evine gidelim. Orada hepsini tek tek çıkarırsın." dedi.

1, 2 ve 3. soruları yukarıdaki metne göre yanıtlayınız.


1. Minik ayı hangisi için çilek topladı?

- A. kirpi B. kardeşi C. hasta arkadaşı

2. Minik ayı için hangisi söylenebilir?

- A. Yardımseverdir. B. Bencildir. C. Korkaktır.

3. Minik ayıya sorununu çözmesi için hangisi yardımcı oldu?



4. Buket yeni elbisesini giydi çünkü _____. Okuduğunuz söz dizisi aşağıdakilerden hangisiyle tamamlanırsa anlamlı bir ifade olur?

- A. gezmeye gidecek B. çok üzgün C. erken yatacak

5. Ablası eve gelmiş mi bilmiyorum() cümlesinin sonuna hangi noktalama işareti konulmalıdır?

- A. ünlem işareti B. soru işareti C. nokta

6. 2'nin 6 katından başlayıp dörder saydık. Beşinci saymada aşağıdaki sayılardan hangisini söyledik?

- A. 25 B. 28 C. 31

7. $12 - 14 - 16 - \square - 20 - 22 - \triangle$ Yandaki sayı örüntüsünde \square ve \triangle yerine yazılacak sayıların toplamı kaçtır?

- A. 48 B. 42 C. 36

8. $43 + 25 + 8$ Yandaki toplama işleminde toplam aşağıdakilerden hangisi olur?

- A. 66 B. 69 C. 76

9. 3 deste ve 2 düzineden oluşan kalemelerin sayısı hangi seçenekte verilmiştir?

- A. 5 onluk 4 birlik B. 5 onluk 6 birlik C. 6 onluk 4 birlik

10. 87 doğal sayısının onlar basamağındaki rakamının basamak değeri kaçtır?

- A. 8 B. 70 C. 80

11. "Okula gittiğimde kendimi _____ içinde hissediyorum." cümlesinde boş bırakılan yere hangisini yazan kişinin duygusu diğerlerinden farklı olur?

- A. huzursuzluk B. güven C. mutluluk

12. Aşağıdakilerden hangisinin kişisel bakımımız olduğunu söyleyemeyiz?

- A. banyo yapmak B. ödev yapmak C. saçımızı taramak

13. Bugün okulda aşı olduk. Aşı olacağımızı bilen Gülçin, bugün okula gelmedi. Gülçin için hangisi söylenebilir?

- A. Sağlığına dikkat etmemektedir. B. Planlı çalışmamaktadır. C. Başarısız bir öğrencidir.

14. "Sınıfta yazı tahtası _____ bulunur." Okuduğunuz ifadede boş bırakılan yere hangisi yazılmalıdır?

- A. arkamızda B. önümüzde C. sağımızda

15. Atatürk'ün anıt mezarının bulunduğu yer hangisidir?

- A. İstanbul B. Sivas C. Ankara

O gün matematik dersinden sınav vardı. Sibel hiç ders çalışmamıştı. Bu nedenle okula gitmek istemiyordu. Sabah kendisini uyandıran annesine başının çok ağrıdığını söyledi. Annesi de onu okula göndermedi. Ancak kızının yalan söylediğini anladı. O gün Serpil'in yataktan kalkmasına hiç izin vermedi. Serpil'in çok canı sıkıldı. Yalan söylediği için çok pişman oldu.

1, 2 ve 3. soruları yukarıdaki metne göre yanıtlayınız.

1. Serpil'in okula gitmek istememesinin nedeni hangisidir?

- A. başının ağrması
- B. sınava hazırlanmamış olması
- C. annesiyle olmak istemesi

2. Serpil'in annesi için hangisi **söylenemez**?

- A. Kızını cezalandırmakla hata yapmıştır.
- B. Kızına inanmıştır.
- C. Serpil'e iyi bir ders vermiştir.

3. Serpil için aşağıdakilerden hangisi **söylenemez**?

- A. Cezayı hak etmemiştir.
- B. Annesine doğruyu söylemiştir.
- C. Dürüst davranmamıştır.

4. Aşağıdaki sözcüklerin hangisinde kesme işareti **yanlış** kullanılmıştır?

- A. Arda'ya
- B. Onurlar
- C. Aylin'ler

5. **Genç** sözcüğünün zıt anlamlısı aşağıdaki cümlelerin hangisinde kullanılmıştır?

- A. Sağlığımızı korumalıyız.
- B. Yaşlı adama yardım ettiler.
- C. Son bisküviyi o yedi.

6. 74 sayısının en yakın onluğa yuvarlanmış şekli hangisidir?

- A. 70
- B. 75
- C. 80

7. 87 doğal sayısının birler basamağındaki rakamın basamak değeri kaçtır?

- A. 80
- B. 70
- C. 7

8. Okulumuz 5 katlıdır. Her katında 8 sınıf vardır. Okulumuzda kaç sınıf vardır?

- A. 40
- B. 45
- C. 48




9. Emrelerin sınıfında 14 kız öğrenci, kızlardan 4 fazla da erkek öğrenci vardır. Emrelerin sınıfında kaç öğrenci vardır?

- A. 36
- B. 32
- C. 30

10. Bir  fiyatı 2 TL'dir. 18 TL'ye kaç tane dondurma alınır?

- A. 9
- B. 7
- C. 6

11. Aşağıdakilerden hangisi kemiklerimizin gelişimi için daha önemlidir?

- A. 
- B. 
- C. 

12. Aşağıdakilerden hangisinin yaşam alanı diğerlerinden farklıdır?

- A. 
- B. 
- C. 

13. Spor yapan bir öğrenci için aşağıdakilerden hangisini söylemek **yanlıştır**?

- A. Sağlıklı olur.
- B. Derslerine çalışamaz.
- C. İç organları düzenli çalışır.

14. Aşağıdakilerden hangisi için cömerttir **diyemeyiz**?

- A. Gülten, simidini Barış'la paylaştı.
- B. Yankı, yediği şekerden Aslı'ya da ikram etti.
- C. Metin, yediği çikolatadan kimseye vermedi.

15. Aşağıdaki duygulardan hangisi arkadaşlarınızla aranızda sorunların çıkmasına neden olur?

- A. bencillik
- B. saygı
- C. hoşgörü

Bugün çok mutluyum. Mutlu olduğum kadar da heyecanlıyım. Neden mi? Çünkü bu akşam doğum günümü kutlayacağız.

Annem iki gündür mutfaktan çıkamıyor. Nasıl çıksın! Ailemiz o kadar kalabalık ki... Pişirdiği keklerin, böreklerin, poğaçaların yetmeyeceğinden korkuyor.

1 ve 2. soruları yukarıdaki metne göre yanıtlayınız.

1. Olayın kahramanı aşağıdakilerden hangisidir?

- A. doğum günü kutlanacak olan çocuk
- B. çocuğun annesi
- C. çocuğun öğretmeni

2. Çocuğun heyecanlanmasının nedeni hangisi **değildir**?

- A. doğum gününün kutlanacak olması
- B. gelecek olan hediyeleri düşünmesi
- C. yiyeceklerin yetmeyecek olması

3. **Piknik sepetime sandviç meyve ve su koydum.** Okuduğunuz cümlede hangi sözcükten sonra virgül işareti konulmalıdır?

- A. sepetime
- B. sandviç
- C. su

4. **Barış'lar tatilde Samsun'a gidecekler mi?** Okuduğunuz cümlede hangi sözcük **yanlış** yazılmıştır?

- A. Samsun'a
- B. tatilde
- C. Barış'lar

5. **Kedisinin adı Sarman kuşunun adı Şirin'di.** Okuduğunuz cümlede hangi sözcükten sonra virgül işareti konulmalıdır?

- A. Sarman
- B. kuşunun
- C. adı

6. Ayten elindeki çikolatanın çeyreğini arkadaşı Ayşegül'e verdi. Ayten'in arkadaşına verdiği çikolata hangi şekilde gösterilmiştir?

- A. 
- B. 
- C. 

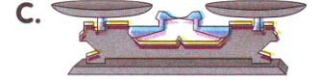
7. Aşağıdaki işlemlerden hangisi **yanlış** yapılmıştır?

- A. $2 \times 0 = 2$
- B. $3 \times 10 = 30$
- C. $4 \times 6 = 24$

8. Derya'nın çekmecesinde 38 tane boya kalemi vardı. Kalemlerinin 2 düzinesini kalem kutusuna koydu. Derya'nın çekmecesinde kaç tane boya kalemi kaldı?

- A. 16
- B. 15
- C. 14

9. Aşağıdakilerden hangisi ile uzunluk ölçülür?



10. Ahmetler tatilde 3 hafta İzmir'de kaldılar. Ahmetler İzmir'de bir aydan kaç gün eksik kalmışlardır?

- A. 21
- B. 12
- C. 9

11. Ahmet'e ailesi spor ayakkabısı aldı. Ahmet arkadaşlarıyla maç yaptı. Maçın sonunda spor ayakkabısının tabanının açıldığını gördü. Ahmet'in bu durumda aşağıdakilerden hangisini yapması gerekir?

- A. ailesinden yeni bir spor ayakkabısı istemesi
- B. spor ayakkabısını aldıkları yere iade etmesi
- C. spor ayakkabısını çöpe atması

12. Eğitici çalışmalarla ilgili seçilen projede her bireyin aşağıdakilerden hangisini yapması **yanlıştır**?

- A. görevden kaçması
- B. iş birliği yapması
- C. grup çalışması yapması

13. Aşağıdakilerden hangisi Mustafa Kemal Atatürk'ün kişilik özelliklerinden **değildir**?

- A. sabırlı olması
- B. disiplinli olması
- C. plansız olması

14. Aşağıdaki ders araç ve gereçlerinden hangisinin her gün çantamızda olması gerekir?

- A. resim defteri – boyalar
- B. kurşun kalem – silgi
- C. müzik defteri ve kitabı

15. "Kızdığımız zaman _____ kontrol etmeye çalışmalıyız." ifadesinde boş bırakılan yere hangisi yazılmalıdır?

- A. duygularımızı
- B. eşyalarımızı
- C. çevremizi

Aslan yavrusu Parıltı, oynamakta olduğu topu komşusunun bahçesine kaçırdı. Orada kirpi ailesi oturuyordu. Parıltı, kirpi ailesi hakkında korkunç öyküler duymuştu. Topunu isteyemeden eve dönerken bir ses duydu. Biri: "Bu top senin mi? Gel birlikte oynayalım. Benim adım Dikenli." diyordu. O günden sonra Parıltı ile kirpi yavrusu Dikenli dost oldular. Birlikte oynayıp eğlendiler.

1 ve 2. soruları yukarıdaki metne göre yanıtlayınız.

1. Parıltı topunu neden isteyemedi?

- A. oynamak istemediği için
B. annesi çağırdığı için
C. kirpilerden korktuğu için

2. Dikenli ne zaman Parıltı ile konuştu?

- A. Parıltı top oynarken
B. Parıltı evine dönerken
C. Parıltı sokağa çıktığında

3. Yarın törene gelmeyecek misin? Okuduğunuz cümlede **tören** sözcüğünün yerine hangisi yazılırsa cümlelerin anlamı **bozulmaz**?

- A. merasime
B. sınava
C. toplantıya

4. Aşağıdaki cümlelerden hangisinin sonuna doğru noktalama işareti konulmuştur?

- A. Kimi arıyorsunuz!
B. Hangisini beğendiniz?
C. Ne güzel elbise?

5. Aşağıdaki cümlelerden hangisinin sonuna nokta konur?

- A. Kimi aradığınızı söyleyiniz
B. Nereden aldınız bunu
C. Pamukkale'yi gördünüz mü

6. Bir portakal çeyrek kilogram gelmektedir. 8 portakal kaç kilogramdır?

- A. 4
B. 3
C. 2

7. Okulumuzda 3 tane 2. sınıf vardır. 2 A sınıfından 27, 2 B sınıfından 18 kişi tiyatroya gitmiştir. Tiyatroya gidenler 85 kişidir. 2 C sınıfından kaç kişi tiyatroya gitmiştir?

- A. 40
B. 45
C. 46

8. $95 - 85 - 80 - 70 - 65 - \square$ Yandaki sayı örüntüsünde sayılar bir kurala göre sıralanmıştır. Bu kurala göre \square yerine aşağıdakilerden hangisi yazılmalıdır?

- A. 60
B. 55
C. 50

9. Kardeşimin boyunun uzunluğu 90 santimetredir. Kardeşim kaç santimetre daha uzarsa boyunun uzunluğu 1 metre olur?

- A. 20
B. 30
C. 10

10. Aşağıdaki sayı ikililerinden hangisi 90'dan bir önce ve bir sonra gelen sayılardır?

- A. 89 - 91
B. 91 - 92
C. 79 - 89

11. Aşağıdakilerden hangisi kalbin görevidir?

- A. kanı temizlemek
B. besinleri öğütmek
C. kanı pompalamak

12. Alper üç tane yumurta alıyor. Yumurtaların birini içinde sirke, birini süt, diğerini su olan bardaklara bırakıyor. Bir hafta sonra hangi bardaktaki yumurtanın kabukunun yumuşadığını gözlemler?

- A. süt olan
B. sirke olan
C. su olan

13. Doktor, dedemin kalbinin atış sayısını ölçtü. Önce dedemi bir yatağa yatırdı. Sonra jimnastik hareketleri yaptırdı. Sonra da koşu bandına çıkardı. Dedemin kalbinin atış sayısı hangisinde yüksek olmuştur?

- A. koşu bandındayken
B. yatakta yatarken
C. jimnastik hareketleri yaparken

14. Sağlıklı büyümek için hangisini **yapmamak** gerekir?

- A. dengeli beslenmek
B. az uyumak
C. spor yapmak

15. Aşağıdakilerden hangisini yapmak aile bütçesine katkıda bulunmamızı sağlar?

- A. muslukları açık bırakmak
B. harçlığınızın artırılmasını istemek
C. oturmadığınız alanların ışığını kapatmak

YAĞ YAĞMUR YAĞ

Eren, pencereden dışarı bakıyordu. Oyun oynamaya çıkacaktı. Hava kararmaya başladı. Göküzü kara bulutlarla kaplanmıştı. Birden şimşek çaktı, gök gürledi. Camlar titriyordu. Biraz sonra yağmur yağmaya başladı.

1 ve 2. soruyu yukardaki metne göre yanıtlayınız.

1. Olayın yaşandığı yer neresidir?

- A. okul B. ev C. market

2. Hangi olay diğerlerinden sonra olmuştur?

- A. Gök gürledi. B. Şimşek çaktı. C. Camlar titredi.

3. **Eşyalarını dikkatlice topladı, valizine yerleştirdi.** Okuduğunuz cümledeki sözcüklerden hangisi sözlükte en sonda yer alır?

- A. yerleştirdi B. topladı C. dikkatlice

4. **Hafta sonu nereye gideceksiniz()** cümlesinin sonuna hangi noktalama işareti konulmalıdır?

- A. ünlem işareti B. nokta C. soru işareti

5. **Öğretmenim proje ödevimi çok beğendi.** Okuduğunuz cümlede eylem bildiren sözcükten bir önce gelen sözcük hangisidir?

- A. çok B. öğretmenim C. proje



6. Yandaki saat öğleden sonra kaç göstermektedir?

- A. 9.00 B. 21.00 C. 12.00

7. Ali 40'tan başlayıp geriye doğru dörder ritmik saymaktadır. Ali kaçınıcı saymada 24 doğal sayısını söyler?

- A. beşinci B. altıncı C. yedinci

8. Sınıfımızda 17 sıra vardır. 13 sırada üçer kişi, diğerlerinde ikişer kişi oturmaktadır. Sınıfımızda kaç kişi vardır?

- A. 32 B. 47 C. 51



9. Yandaki para ile aşağıdakilerden hangisinin değeri aynıdır?

- A. 2×20 TL B. 3×25 TL C. 5×10 TL

10. Hangisi okula gittiğimiz günlerden biri **değildir**?

- A. cuma B. pazar C. perşembe

11. Aşağıdakilerden hangisi yayaların trafikteki doğru davranışlarındanıdır?

- A. yaya geçidinden karşıya geçmek
B. kırmızı ışıkta karşıya geçmek
C. koşar adımlarla karşıya geçmek

12. Aşağıdakilerden hangisinin yeniden değerlendirilmesiyle yağış düzenine de yardım etmiş oluruz?

- A. pet şişelerin B. cam atıkların C. kâğıt atıkların

13. Trafikte aşağıdaki davranışlardan hangisi **yanlıştır**?

- A. yaya kaldırımından yürümek
B. kırmızı ışık yanarken karşıya geçmek
C. yaya geçitlerinden karşıya geçmek

14. Aşağıda bazı atık maddeler verilmiştir. Bu atık maddelerden hangisi yeniden **değerlendirilemez**?

- teneke kutu karton kutu yemek artıkları cam şişe

- A. yemek artıkları B. karton kutu C. cam şişe

15. Okulda öğretmen, okul müdürü, hizmetli, memur gibi görevliler vardır. Okul görevlilerini gördüğümüzde hangi duygular içinde oluruz?

- A. Korkarız. B. Öfkeleniriz. C. Mutlu oluruz.

Kırık sandalye çok üzgündü. Onu eski eşyaların konulduğu karanlık bir odaya atmışlardı. İçerde birkaç eski eşya daha vardı. Bir koltuk, bir halı, bir soba, birkaç şapka... Onlarla tanışırken hepsinin üzüntülü olduklarını gördü:

— Yıllarca insanlara hizmet ettik. Onların işlerini gördük. Şimdi bizi bu küçük ve havasız odaya kapattılar, dedi.

Koltuk:

— Beni misafir odalarının baş köşesine koymuşlardı. Çünkü çok rahat bir koltuktum, oysa şimdi...

A. Baki Koşar

1, 2, 3, 4 ve 5. soruları yukarıdaki metne göre yanıtlayınız.

1. Okuduğunuz metne en uygun başlık aşağıdakilerden hangisi olabilir?

A. Eski Eşyaların İstekleri B. Eski Eşyaların Sevinci C. Eski Eşyaların Üzüntüsü

2. Eski eşyaların bulunduğu yerin özelliği aşağıdakilerden hangisidir?

A. aydınlık olması B. havasız olması C. büyük olması

3. "Beni misafir odalarının baş köşesine koymuşlardı." diyen eşya aşağıdakilerden hangisidir?



4. Aşağıdaki sözcüklerden hangisi eski eşyaların duygularını ifade etmektedir?

A. sevinç B. üzüntü C. korku


5. Eski eşyaların bulunduğu odaya en son konulan eşyanın özelliği nedir?

A. kırık olması B. bozuk olması C. boyasız olması

6. Tanesi 2 TL olan defterlerden 3 tane aldım. Satıcıya 10 TL verdim. Satıcı geriye kaç tane 50 Kr vermiştir?

A. 10 B. 9 C. 8

7. Aşağıdaki cisimlerden hangisinin yüzeyi diğerlerinden daha farklıdır?



8. Çeyrek kilogram fıstık 3 TL'dir. Bir kilogram fıstık için satıcıya kaç TL öderiz?

A. 6 B. 9 C. 12

9. 52'den bir sonra gelen sayıdan hangi sayı çıkarılırsa kalan 27 olur?

A. 26 B. 27 C. 28

10. Sınıfımızda 23 sıra var. Her sırada 2 kişi oturuyor. Öğretmenimizle birlikte sınıfımızda kaç kişi vardır?

A. 46 B. 47 C. 48

11. Okulda sağlığımızı korumak için aşağıdakilerden hangisini yaparız?

A. Açıkta satılan yiyeceklerden alırsak.
B. Oynarken terleyip soğuk su içeriz.
C. Tuvaletten önce ve sonra ellerimizi yıkarız.

12. Aşağıdaki davranışlardan hangisi doğrudur?

A. ödül alan arkadaşımızı kutlamak B. oyunda mızıkçılık yapmak
C. arkadaşlarımızın giysisini kıskanmak

13. Öğretmenlerinle ya da arkadaşlarımızla sabah karşılaştınız. Onlara ne dersiniz?

A. İyi akşamlar. B. Hoşça kalın. C. Günaydın.

14. Gülay saçlarını kestirmişti. Sınıf arkadaşlarından çoğu Gülay'la alay etti. Gülay ağlamaya başladı. Gülay'ın sıra arkadaşı onu teselli etmek istiyordu. Gülay'ın arkadaşına söylediklerinden hangisi doğrudur?

A. Git başımdan! B. Çok anlayışlısın! C. Seninle konuşmuyorum!

15. Aşağıdaki davranışlardan hangisi doğrudur?

A. okul ders araç gereçlerini özenle kullanmak
B. okul tuvaletlerinde muslukları açık bırakmak
C. yazı tahtasına tebeşirle gereksiz yazılar yazmak