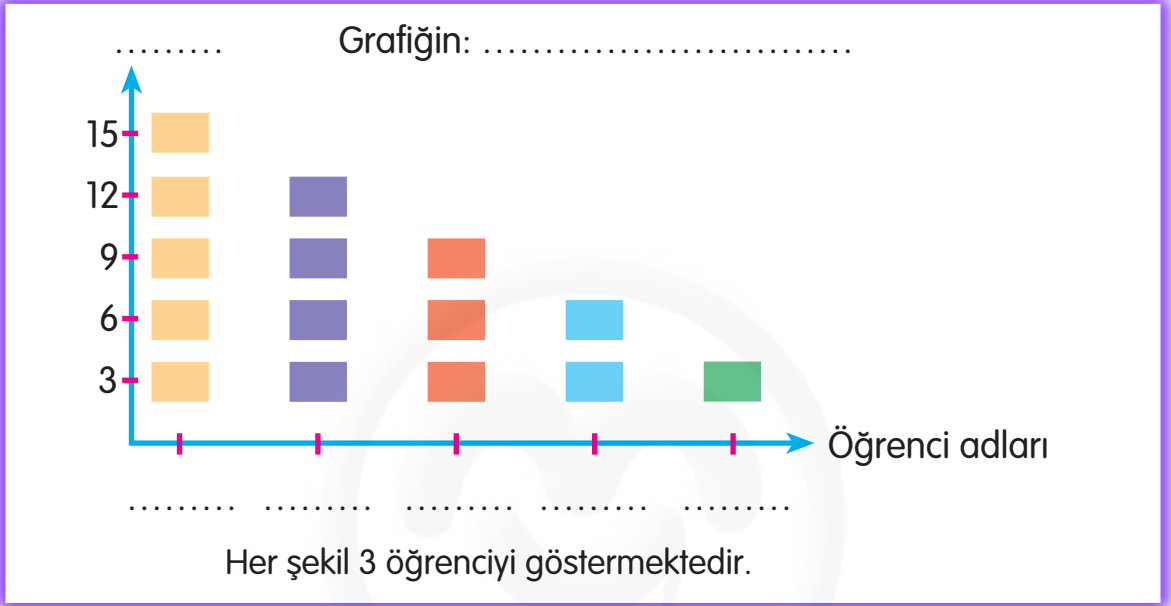


V E R I



2 A sınıf başkanlığı seçimine 5 öğrenci aday olmuştur. Bu seçimlerde en fazla oyu Ceren, en az oyu Metin almıştır. Emir, Doğuştan daha az, Esen'den daha çok oy almıştır.

Yukarıdaki bilgilere göre nesne grafiğini tamamlayınız. Grafiğe bir ad vermeyi unutmayınız.



Grafiğe göre aşağıdaki soruları cevaplayınız.

1. Ceren, Metin'den kaç fazla oy almıştır?


2. Esen kaç oy almıştır?

3. Doğuştan Esen'den kaç fazla oy almıştır?

4. Emir ve Esen toplam kaç oy almıştır?

5. Ceren ve Metin'in aldıkları oy toplamı, Doğuştan ve Emir'in aldıkları oy toplamından kaç fazladır?

6. Bu sınıfta her öğrenci oy kullandığına göre sınıf mevcudu kaçtır?



3 aylık bir sürede 2 B sınıfı öğrencilerinin okuduğu kitapların sayılarını ve türlerini gösteren nesne grafiğinin neler anlattığını, soruları cevaplayarak öğreniniz. (Her şekil 8 kitabı gösterir.)

1. En çok okunan kitapların türü hangisidir? Sayısı kaçtır?

2. En az okunan kitaplar kaç tanedir ve türü nedir?

3. Kaç tane tiyatro kitabı okunmuş?

4. En az ve en çok okunan kitap sayıları farkı kaçtır?

5. Öykü kitaplarının sayısı, bilim kitaplarının sayısından kaç fazladır?

6. Sayıları eşit olan kitap türlerinin sayısı, bilim kitaplarının sayısından kaç fazladır?

Bisküvi



Şeker



Kraker



Çikolata



Simit



Bir okulun kantinindeki yiyecekler yukarıda gösterilmiştir. Soruları resme göre cevaplayınız. (Her şekil 5 yiyeceği gösterir.)

1. Verilenleri grafik hâline getirmek için neler yapılmalıdır?

2. Kantinde en çok hangi yiyecekten vardır?

3. En çok olan yiyecek ile en az olan yiyecek arasındaki fark kaçtır?

4. Krakerlerin sayısı şekerlerden kaç fazladır?

5. Bisküviler krakerlerden kaç eksiktir?

6. Kantindeki yiyeceklerin toplam sayısı kaçtır?



Aşının adı	Çocuk sayısı
Kızamık aşısı olanlar	38
Çiçek aşısı olanlar	24
Verem aşısı olanlar	56
Çocuk felci aşısı olanlar	27
Tetanos aşısı olanlar	19

Yukarıdaki tabloda, bir aylık sürede Ana - Çocuk Sağlığı Merkezinde çocuklara yapılan aşıların adları ve aşı yapılan çocukların sayıları görülüyor. Tabloya bakarak aşağıdaki soruları cevaplayınız.

1. En fazla yapılan aşı hangisidir?

2. En az yapılan aşı hangisidir?





3. Kızamık ve verem aşısı olan çocukların sayısı kaçtır?

4. Verem aşısı olan çocukların sayısı, tetanos aşısı olanların sayısından kaç kişi fazladır?

5. En az yapılan iki aşı ile en çok yapılan iki aşının sayıları farkı kaçtır?

6. Bu aşılarından hangisini oldunuz?

Grafik: Sınıf kitaplığındaki kitaplar

Kitap çeşitleri	Kitap sayıları
Öykü	
Masal	
Şiir	
Boyama	
<i>Her şekil 3 kitabı göstermektedir.</i>	


1, 2, 3, 4, 5, 6, 7 ve 8. soruları grafiğe göre cevaplayınız.

1. Kitaplığımızda en fazla bulunan kitap çeşidi hangisidir?
2. Öykü kitapları, boyama kitaplarından kaç fazladır?
3. Kitaplığımızda kaç masal kitabı vardır?
4. Masal kitapları, şiir kitaplarından kaç fazladır?
5. Masal ve boyama kitapları toplam kaç tanedir?
6. Kitaplığımızdaki kitapların tamamı kaç tanedir?
7. Ömer kitaplığımıza 4 öykü, 2 masal kitabı hediye etti. Kaç kitabımız oldu?
8. Boyama kitaplarımızın tamamını boyadığımız için sene sonunda kitaplığımızdan çıkardık. Kitaplığımızda kaç kitap kaldı?

2 A sınıfındaki öğrencilerin gittiği kurslar tabloda gösterilmiştir.

Tablo: Kursa katılan öğrenciler

Kurs çeşidi	Öğrenci sayısı
Keman	7
Flüt	13
Basketbol	11
Yüzme	9



9, 10, 11, 12 ve 13. soruları tabloya göre cevaplayınız.

9. Keman ve flüt kursuna giden öğrencilerin sayısı kaçtır?
10. Basketbol ve yüzme kursuna katılan öğrencilerin sayısı kaçtır?
11. Flüt kursuna gidenler yüzme kursuna gidenlerden kaç fazladır?
12. Keman ve basketbol kursuna toplam kişi katılmaktadır?
13. Kurslara toplam kaç öğrenci katılmaktadır?



Grafik: 2 B sınıfında en çok içilen meyve suyu çeşitleri



14, 15, 16, 17, 18, 19 ve 20. soruları grafiğe göre cevaplayınız.

- 14.** En çok tercih edilen meyve suyu çeşitleri hangileridir?
-
- 15.** En az tercih edilen meyve suyu hangisidir?
-
- 16.** Üzüm suyunu tercih edenler kaç kişidir?
-
- 17.** Vişne suyunu tercih edenler, portakal suyunu tercih edenlerden kaç kişi fazladır?
-
- 18.** Elma suyunu tercih edenler kaç kişidir?
-
- 19.** Vişne ve üzüm suyunu tercih edenler kaç kişidir?
-
- 20.** Bu sınıftaki öğrencilerin tamamı meyve suyu içtiğine göre bu sınıfta kaç öğrenci vardır?
-

Grafik: Hava durumu

Hava durumu	Günlerin sayısı
Bulutlu	
Yağmurlu	
Güneşli	
Rüzgârlı	
Her şekil 2 günü göstermektedir.	

Yukarıdaki grafikte bir bölgemizin 30 günlük hava durumu gösterilmektedir. 1, 2, 3, 4, 5 ve 6. soruları grafiğe göre cevaplayınız.

1. Yağmurlu gün sayısı kaçtır?

A. 8

B. 6

C. 4

2. Güneşli gün sayısı kaçtır?

A. 12

B. 10

C. 8

3. Bulutlu gün sayısı kaçtır?

A. 6

B. 7

C. 8

4. Rüzgârlı gün sayısı kaçtır?

A. 6

B. 4

C. 2

5. Güneşli gün sayısı, bulutlu gün sayısından kaç fazladır?

A. 4

B. 5

C. 6

6. Yağmurlu gün sayısı, rüzgârlı gün sayısından kaç fazladır?


A. 6

B. 4

C. 2

Tablo: Sınıfımızın boyası için renk tercihleri

Renk tercihleri	Öğrenci sayısı
Pembe	9
Sarı	15
Kırmızı	4
Beyaz	7
Gri	5



7, 8, 9 ve 10. soruları tabloya göre cevaplayınız.

7. Beyaz rengi tercih edenler kaç kişidir?

A. 7

B. 5

C. 4

8. En az tercih edilen renk hangisidir?

A. sarı

B. beyaz

C. kırmızı

9. Sarı ve pembe rengi tercih edenler toplam kaç kişidir?

A. 26

B. 24

C. 22

10. Beyaz ve gri rengi tercih edenler toplam kaç kişidir?

A. 14

B. 12

C. 10

Tablo: Bahçemizdeki çiçekler

Çiçek çeşitleri	Çiçek sayısı
Nergis	34
Menekşe	12
Gül	25
Kasımpatı	38



11, 12 ve 13. soruları tabloya göre cevaplayınız.

11. En çok yetiştirilen çiçek sayısı menekşelerden kaç fazladır?

A. 28

B. 26

C. 24

12. Nergis ve güllerin toplam sayısı kaçtır?

A. 59

B. 61

C. 60

13. Kasımpatılar güllerden kaç fazladır?

A. 15

B. 14

C. 13

Grafik: En çok sevilen dondurma çeşitleri

Dondurma çeşitleri	Dondurma sayısı
Çilekli	
Sütlü	
Vişneli	
Karışık	
Çikolatalı	
<i>Her şekil 2 dondurmayı göstermektedir.</i>	



14, 15, 16, 17, 18, 19 ve 20. soruları grafiğe göre cevaplayınız.

14. En çok sevilen dondurma sayısı kaçtır?

A. 28

B. 20

C. 14

15. En az sevilen dondurma sayısı kaçtır?

A. 2

B. 4

C. 6

16. Çilekli ve vişneli dondurmayı toplam kaç kişi tercih etmiştir?

A. 18

B. 16

C. 32

17. Sütlü ve karışık dondurmayı sevenler kaç kişidir?

A. 20

B. 16

C. 12

18. Çikolatalı ve çilekli dondurmayı sevenler toplam kaç kişidir?

A. 20

B. 22

C. 48

19. Çilekli dondurmayı sevenler, karışık dondurmayı sevenlerden kaç fazladır?

A. 2

B. 4

C. 6

20. Bu anket kaç kişi ile yapılmıştır?

A. 80

B. 76

C. 58