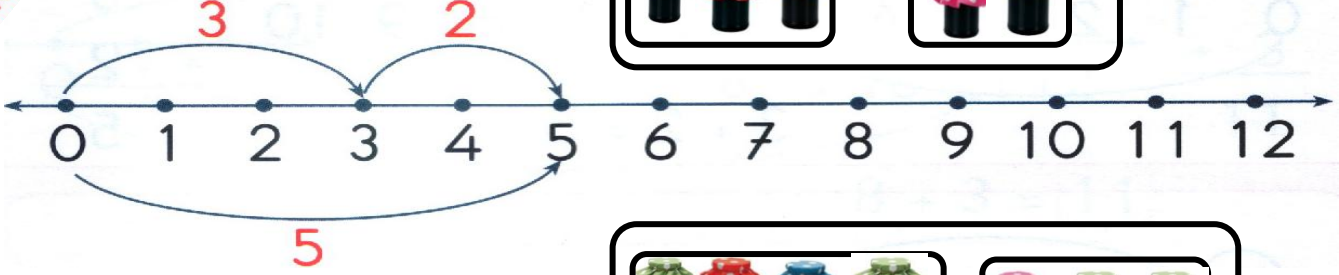



Bal seven ayı için bal kavanozlarını örnekte toplayıp sayı doğrusunda işlemlerini gösteriniz.

ÖRNEK

$$3 + 2 = 5$$




$$4 + 3 = \dots$$




$$6 + 5 = \dots$$



$$7 + 5 = \dots$$



$$3 + 8 = \dots$$



Bal seven ayı için bal kavanozlarını örnekte toplayıp sayı doğrusunda işlemleri gösteriniz.

