



2011 MALİYE BAKANLIĞI  
İÇ DENETÇİ ADAY BELİRLEME  
SINAVI

GENEL YETENEK VE GENEL KÜLTÜR TESTİ  
ALAN BİLGİSİ TESTİ  
YABANCI DİL TESTİ  
18 EYLÜL 2011

T.C. KİMLİK NUMARASI :

ADI

SOYADI :

**BASIN KİTAPÇIĞI**

SALON NO. :

SIRA NO. :

**Soru kitapçığı numarasının cevap kâğıdına kodlanmamasının veya yanlış kodlanmasının sorumluluğu adaya aittir.**

SORU KİTAPÇIK  
NUMARASI

**000000000**

Bu numarayı cevap  
kâğıdınızdaki ilgili alana  
kodlamayı unutmayınız.

**DİKKAT! SINAV BAŞLAMADAN ÖNCE AŞAĞIDAKİ UYARILARI MUTLAKA OKUYUNUZ.**

1. T.C. Kimlik Numaranızı, Adınızı, Soyadınızı, Salon Numaranızı ve Sıra Numaranızı, Soru Kitapçığı üzerindeki ilgili alanlara yazınız.
2. Soru Kitapçık Numaranız yukarıda verilmiştir. Bu numarayı cevap kâğıdınızdaki ilgili alana kodlayınız ve aşağıdaki ilgili alanı imzalayınız. Salon görevlisinin de hem soru kitapçığınızdaki hem de cevap kâğıdınızdaki ilgili alanı imzalamasını sağlayınız. Bu kodlamayı cevap kâğıdınıza yapmadığınız veya yanlış yaptığınız takdirde, sınavınızın değerlendirilmesi mümkün değildir.
3. Bu sayfanın arkasında yer alan açıklamayı dikkatle okuyunuz.

**Adayın imzası:**

Soru kitapçık numarasını doğru kodladım.

**Salon görevlisinin imzası:**

Adayın soru kitapçık numarasını cevap kâğıdına doğru kodladığını onaylıyorum.

## AÇIKLAMA

1. Bu kitapçıkta, Genel Yetenek ve Genel Kültür Testi, Alan Bilgisi Testi ve Yabancı Dil Testi bulunmaktadır.
2. Testin tümü için verilen cevaplama süresi **150 dakika-dır (2,5 saat)**.
3. Bu kitapçıkta testlerde yer alan her sorunun sadece bir doğru cevabı vardır. Bir soru için birden çok cevap yeri işaretlenmişse o soru yanlış cevaplanmış sayılacaktır.
4. Değiştirmek istediğiniz bir cevabı, size verilen silgiyle, cevap kâğıdını örselemeden, temizce siliniz ve yeni cevabınızı işaretlemeyi unutmayınız.
5. Bu sınavın değerlendirilmesi doğru cevap sayısı üzerinden yapılacak, yanlış cevaplar dikkate alınmayacaktır. Bu nedenle, her soruda size en doğru görünen cevabı işaretleyerek cevapsız soru bırakmamanız yararınıza olabilir.
6. Cevaplamaya istediğiniz sorudan başlayabilirsiniz. Her soru ile ilgili cevabınızı, cevap kâğıdında o soru için ayrılmış olan yere işaretlemeyi unutmayınız.
7. Sınavda uyulacak kurallar bu kitapçığın arka kapağında belirtilmiştir.

## SINAVDA UYULACAK KURALLAR

- 1. Cep telefonu ile sınava girmek kesinlikle yasaktır.** Çağrı cihazı, telsiz, fotoğraf makinesi vb. araçlarla; cep bilgisayarı, kol ya da cep saati gibi her türlü bilgisayar özelliği bulunan cihazlarla; silah ve benzeri teçhizatla; müsvedde kâğıdı, defter, kitap, sözlük, sözlük işlevi olan elektronik aygıt, hesap cetveli, hesap makinesi, pergel, açılabilir, cetvel vb. araçlarla sınava girmek kesinlikle yasaktır. Bu araçlarla sınava girmiş adayların adı mutlaka Salon Sınav Tutanağına yazılacak, bu adayların sınavı geçersiz sayılacaktır. **Sınava kalem, silgi, kalemıraş, saat vb. araçla ve kulaklık, küpe, broş vb. takı, herhangi bir metal eşya ile girmek de kesinlikle yasaktır. Yiyecek, içecek vb. tüketim malzemeleri de sınava getirilemez. Adaylar sınava şeffaf şişe içerisinde su getirebilecektir.**
- 2.** Bu sınav için verilen toplam cevaplama süresi **150 dakikadır.** Sınav başladıktan sonra **ilk 110** ve **son 15** dakika içinde adayın sınavdan çıkmasına kesinlikle izin verilmeyecektir. **Bu süreler dışında, cevaplama sınav bitmeden tamamlarsanız cevap kâğıdınızı ve soru kitapçığınızı salon görevlilerine teslim ederek salonu terk edebilirsiniz.**
- 3. Sınav evrakını teslim ederek salondan ayrılan aday, her ne sebeple olursa olsun, tekrar sınava alınmayacaktır.**
- 4.** Sınav süresince görevlilerle konuşmak, görevlilere soru sormak yasaktır. Aynı şekilde görevlilerin de adaylarla yakından ve alçak sesle konuşmaları ayrıca adayların birbirinden kalem, silgi vb. şeyleri istemeleri kesinlikle yasaktır.
- 5.** Sınav sırasında, görevlilerin her türlü uyarılarına uymak zorundasınız. Sınavınızın geçerli sayılması, her şeyden önce, sınav kurallarına uymanıza bağlıdır. Kurallara aykırı davranışta bulunanların ve yapılacak uyarılara uymayanların kimlik bilgileri Salon Sınav Tutanağına yazılacak ve sınavları geçersiz sayılacaktır.
- 6.** Sınav sırasında kopya çeken, çekmeye kalkışan, kopya veren, kopya çekilmesine yardım edenlerin kimlik bilgileri Salon Sınav Tutanağına yazılacak ve bu adayların sınavları geçersiz sayılacaktır. Görevliler kopya çekmeye ya da vermeye kalkışanları uyarmak zorunda değildir, sorumluluk size aittir.  
Adayların test sorularına verdikleri cevapların dağılımları bilgi işlem yöntemleriyle incelenecek, bu incelemelerden elde edilen bulgular bireysel ya da toplu olarak kopya çekildiğini gösterirse kopya eylemine katılan adayın/adayların cevaplarının bir kısmı ya da tamamı iptal edilecektir.  
Sınav görevlileri bir salondaki sınavın, kurallara uygun biçimde yapılmadığını, toplu kopya girişiminde bulunulduğunu raporlarında bildirdiği takdirde, ÖSYM takdir hakkını kullanarak bu salonda sınava giren tüm adayların sınavını geçersiz sayabilir.
- 7.** Cevap kâğıdında doldurmanız gereken alanlar bulunmaktadır. Bu alanları doldurunuz. Cevap kâğıdınızı başkaları tarafından görülmeyecek şekilde tutmanız gerekmektedir. Cevap kâğıdına yazılacak her türlü yazıda ve yapılacak bütün işaretlemelerde Salon görevlisinin atacağı imzalar hariç, kurşun kalem kullanılacaktır. Sınav süresi bittiğinde cevapların cevap kâğıdına işaretlenmiş olması gerekir. Soru kitapçığına işaretlenen cevaplar geçerli değildir.
- 8.** Soru kitapçığınızı alır almaz kapağında bulunan ilgili alanlara kimlik bilgilerinizi yazınız. Sayfaların eksik olup olmadığını, kitapçıkta basım hatalarının bulunup bulunmadığını ve soru kitapçığının her sayfasında basılı bulunan soru kitapçık numarasının, kitapçığın ön kapağında basılı soru kitapçık numarasıyla aynı olup olmadığını kontrol ediniz. Soru kitapçığının sayfası eksik ya da basımı hatalıysa değiştirilmesi için salon başkanına başvurunuz.  
Size verilen soru kitapçığının numarasını cevap kâğıdınızdaki "Soru Kitapçık Numarası" alanına yazınız ve kodlayınız.  
**Soru kitapçığı ve cevap kâğıdı üzerinde yer alan testin Soru Kitapçık Numarasını doğru kodladığınızı beyan eden alanı imzalayınız ve Salon Görevlisinin, kodlamanın doğru yapıldığını beyan eden alanı imzaladığından emin olunuz. Salon Görevlisi imzasını tükenmez kalemle atmalıdır.**
- 9.** Sınav sonunda soru kitapçıkları toplanacak ve ÖSYM'de tek tek incelenecektir. Soru kitapçığının bir sayfası bile eksik çıkarsa sınavınız geçersiz sayılacaktır.
- 10.** Cevap kâğıdına ve soru kitapçığına yazılması ve işaretlenmesi gereken bilgilerde bir eksiklik ve/veya yanlışlık olması hâlinde sınavınızın değerlendirilmesi mümkün olamamaktadır. Tarafınızdan yazılması ve işaretlenmesi gereken bu bilgilerde eksiklik ve/veya yanlışlık olduğunda durumunuz Sınav Salon Tutanağında belirtilecektir. Sorumluluk size aittir.
- 11.** Soru kitapçığının sayfalarındaki boş yerleri müsvedde için kullanabilirsiniz.
- 12.** Soruları ve/veya bu sorulara verdiğiniz cevapları ayrı bir kâğıda yazıp bu kâğıdı dışarı çıkarmanız kesinlikle yasaktır.
- 13. Her testin cevaplarını cevap kâğıdındaki ilgili alana işaretlemeye dikkat ediniz.**
- 14.** Sınav salonundan ayrılmadan önce, soru kitapçığınızı ve cevap kâğıdınızı salon görevlilerine teslim etmeyi unutmayınız.

*Bu testlerin her hakkı saklıdır. Hangi amaçla olursa olsun, testlerin tamamının veya bir kısmının Merkezimizin yazılı izni olmadan kopya edilmesi, fotoğrafının çekilmesi, herhangi bir yolla çoğaltılması, yayımlanması ya da kullanılması yasaktır. Bu yasağa uymayanlar gerekli cezai sorumluluğu ve testlerin hazırlanmasındaki mali külfeti peşinen kabullenmiş sayılır.*

1. Bu testte 60 soru vardır.

2. Cevaplarınızı, cevap kâğıdının Genel Yetenek ve Genel Kültür Testi için ayrılan kısma işaretleyiniz.

1. Günümüze dek korunmuş antik tiyatrolardan biri olan  
I  
Aspendos, önümüzdeki ay özel bir festivale ev sa-  
hipliği yapacak. İki yabancı topluluğun da katılacağı  
II  
bu festivalde toplam sekiz etkinliğe yer verilecek.  
III  
Antalya il sınırları içindeki Aspendos'un ağırlayacağı  
IV  
gruplar arasında dünyanın en iyi senfonik müzik  
topluluğu olarak anılan Viyana Filarmoni Orkestrası  
V  
da var.

**Bu parçadaki numaralanmış sözlerin hangisinde  
öznellik söz konusudur?**

- A) I. B) II. C) III. D) IV. E) V.

2. Vücudun yaralanan bölgesindeki kan, seksenden faz-  
I  
la kimyasal reaksiyonun gerçekleştiği çok kısa bir sü-  
II  
re içinde pıhtılaşıyor. Mikropla savaşı akyuvarlar,  
III  
yaralı bölgeye geliyor, özel proteinler doku yapım  
IV V  
çalışmalarına girişiyor.

**Bu parçadaki altı çizili sözlerden hangisi niteleme  
amacıyla kullanılmamıştır?**

- A) I. B) II. C) III. D) IV. E) V.

3. Aşağıdaki cümlelerin hangisinde bir tahmin  
yapılmıştır?

- A) Günümüzde gittikçe yaygınlaşan elektronik imzayla,  
9000 yıldır süren mühür ve mühür basma geleneği  
de sonlanacak gibi görünüyor.
- B) Astronomide bilinen en eski aletlerden biri olan  
usturlap sayesinde gök cisimlerinin yükseltisi ölçüle-  
bilmiştir.
- C) Bilim adamlarına göre, jeolojik etmenlerin sağlık  
üzerindeki etkilerinin farkına varılmasıyla tıbbi jeoloji  
biliminin önemi anlaşılmaya başlandı.
- D) Nükleer enerji santrallerinin dünya çapında onlarca  
farklı türü bulunsa da elektrik üreten bu santrallerin  
çalışma ilkeleri neredeyse aynıdır.
- E) Plastik eşyalar, ucuz ve dayanıklı olmaları, pek çok  
farklı alanda kullanılabilmeleri nedeniyle yaşamımı-  
zın her alanında yer alıyor.

4. (I) Düünden beri, tek katlı, görkemli, sağlam yapıların oluşturduğu uzak diyarlardaki bu kenti hayranlıkla geziyorum. (II) Ne var ki bu kentteki hiçbir şey, sokaklar kadar etkileyemezdi beni. (III) Çünkü her köşebaşı bana Kars'tan bir şeyler hatırlatıyor. (IV) Aynı ülkenin sınırları içinde olan iki kentin birbirine benzemesi doğal karşılanabilir ama farklı iki kültürün, dilin, tarihin barındığı ayrı ülkelerdeki iki kentin bu kadar benzeşmesi nadir karşılaşılan bir şeydir. (V) Anıların derinliklerinde kalmış bir kenti, onca sene sonra bir başka yerde bulmak ancak şanslı insanlara özgü bir durum olsa gerek.

**Bir kentin anlatıldığı bu parçadaki numaralanmış cümlelerle ilgili olarak aşağıda verilenlerden hangisi yanlıştır?**

- A) I. cümlede, izlenim dile getirilmiştir.
- B) II. cümlede, önceki cümlede belirtilenlere ekleme yapılmıştır.
- C) III. cümlede, geçmişte yaşananlar dile getirilmiştir.
- D) IV. cümlede, az görülen bir durumdan söz edilmiştir.
- E) V. cümlede, kişisel görüş belirtilmiştir.

5. (I) Mithat Cemal Kuntay'la Tevfik Fikret'in "vatan" anlayışı birbirinden farklıdır. (II) Mithat Cemal Kuntay "Bayrakları bayrak yapan üstündeki kandır/ Toprak eğer uğrunda ölen varsa vatandır" derken Tevfik Fikret "Vatan için ölmek de var/ Fakat borcun yaşamaktır" sözleriyle anlatır vatan sevgisini. (III) Ahmet Haşim'in yurtseverliği ise hamasetten uzak, soluk alıp verir gibi doğal, daha içten bir sevgiyi barındırır: "Akşam, evimde, sokaktan geçen yoğurtçunun ve demirhindi şerbetçisinin sesini duydukça öz vatanımda olmanın saadetini bütün vücudumdan geçen bir titreyiş hâlinde duyarım. (IV) Bu seslerin işitilmediği memleketlerde insanların akşamdan nasıl zevk alabildiklerini kendi kendime sorarım. (V) Sokak satıcılarının seslerinin duyulmadığı bir memleket insan için hiç vatan olabilir mi?"

**Vatan konusunun ele alındığı bu parçadaki numaralanmış cümlelerle ilgili olarak aşağıda verilenlerden hangisi yanlıştır?**

- A) I. cümlede, karşılaştırma yapılmıştır.
- B) II. cümlede, alıntıya yer verilmiştir.
- C) III. cümlede, yorum yapılmıştır.
- D) IV. cümlede, sorgulamanın anlamsızlığı sezdirilmiştir.
- E) V. cümlede, düşünce, soru yoluyla dile getirilmiştir.

6. (I) Yazarlar, şairler yüz yüze gelmeden de tanırılar birbirlerini. (II) Onların aralarında, yalnızca kendilerinin hissettiği bir akrabalık vardır sanki. (III) O nedenle olacak, 1972 yılında, Bahariye Caddesi'nde, "Yansıma" dergisini yönettiği küçük dükkanındaki ilk karşılaşmamızdan önce biliyordum adını o sanatçının. (IV) Benim ilk öykümü yayımladığım dergide, kim bilir kaçınıcı yazısını yayımlıyordu. (V) Ustalarla boy ölçüşecek olgunlukta bir kalem erbabıydı kendisi.

**Bu parçadaki numaralanmış cümlelerle ilgili olarak aşağıda verilenlerden hangisi yanlıştır?**

- A) I. cümlede, bir genelleme yapılmıştır.  
B) II. cümlede, I. cümlede belirtilenler desteklenmiştir.  
C) III. cümlede, önceki cümlede söylenenler konuşan kişiyle ilişkilendirilmiştir.  
D) IV. cümlede, yazılanların benzersizliği vurgulanmıştır.  
E) V. cümlede, takdir dile getirilmiştir.

7. Moğolistan'ın başkenti Ulan Bator, 15-16 Ağustos  
I II  
2011'de "Türk Kültürünün Gelişme Çağları: Başlan-  
gıç ve Yazıtlar Çağı Toplantısı"na ev sahipliği yaptı.  
Etkinlik, Moğolistan Millî Üniversitesi, Türk Dil  
Kurumu ve Türk Kültürünü Araştırma Enstitüsünün  
III  
işbirliğiyle gerçekleşti. Dünyanın çeşitli yerlerinden  
IV  
bilim adamlarının davet edildiği toplantıda üç otu-  
V  
rumda altmış bildiri sunuldu.

**Bu parçadaki numaralanmış sözlerden hangisinin yazımı yanlıştır?**

- A) I. B) II. C) III. D) IV. E) V.

8. Yaz geldi (I) tiyatro ve sinema salonları boşaldı. Sezon boyunca herkesi televizyon ekranına kilitleyen diziler ya şimdilik (II) ya da tamamen sona erdi. Yaz rehavetinden plastik sanatlar da (III) sahne sanatları da etkilendi. Ayrıca kitapçılarda (IV) yeni çıkan kitaplar daha az görülmeye başlandı. Durum böyle olunca da yıl içinde yayımlanmış (V) işten güçten fırsat bulup da okunamamış kitaplar okunmaya başlandı.

**Bu parçadaki numaralanmış yerlerden hangisine virgül (,) konması yanlış olur?**

- A) I. B) II. C) III. D) IV. E) V.

9. İlk kitabı olan "Susuzluğumuz" 1999'da yayımlandı ve aynı yıl eleştirmenlerce "önemli romancılarımızdan biri" olarak değerlendirildi.

**Bu cümledeki anlatım bozukluğu aşağıdaki değişikliklerin hangisiyle giderilebilir?**

- A) "ve"den sonra "yazar" sözcüğü getirilerek  
B) "olan" sözcüğü atılarak  
C) "yayımlandı" yerine "basıldı" sözcüğü getirilerek  
D) "eleştirmenlerce" yerine "eleştirmenler tarafından" sözü getirilerek  
E) "aynı yıl" sözü atılarak

10. (I) "Futhark alfabesi" MS 3-17. yüzyıllar arasında, Kuzey Avrupa Germen halkları tarafından kullanılmıştır. (II) Çoğunluğu İsveç ve Norveç'te olmak üzere Avrupa'da 3500 kaya yazıtının bu alfabeye yazıldığı kabul edilmiştir. (III) Bu yazıtlarla ilgili araştırmalar sırasında Kuzey Avrupa Germen Yazıtlarında kullanılan sembollerle Göktürk Yazıtları arasında dilsel bir benzerlik olduğu fark edilmiştir. (IV) Gerek Futhark alfabesi gerekse Arami, Soğd, Pehlevi vb. alfabeler, sembollerini aynı kaynaktan almış ama bu semboller her ulusta zamanla değişikliklere uğrayarak o ulusun yazı sistemini oluşturmuştur. (V) Bunun üzerine, Futhark alfabesinin, aslında Türk asıllı Göktürk alfabesiyle aynı kökenden geldiği görüşü ortaya atılmıştır. (VI) Ama bu görüş Batılı araştırmacılar tarafından ısrarla reddedilmiştir.

**Bu parçadaki numaralanmış cümlelerden hangisi düşüncenin akışını bozmaktadır?**

- A) II. B) III. C) IV. D) V. E) VI.

11. İstanbul... Yokuşlar, merdivenler kenti. Basamaklarını, dinlene dinlene çıkan yaşlılar her molada yeniden düşünürler hayatlarının anlamını. Nefeslerinin nereye kadar yettiğinin, daha ne kadar bu yokuşlardan çıkacaklarının hesabını yaparlar. Gençlerse zamanla yarışarak tepelerdeki zenginliklerden paylarını almak için yokuş yukarı koşarlar. Ama hepsinin emin olduğu şey, bu kentin, yüksek tepelerine çağırdığı insanlara, tarihin şahidi olan kadim yapılarıyla dünyanın en güzel deniz manzarasını sunacağıdır. Boğaz'ın mavi sularını cömertçe seyrettirir, tarihi hayal ettirir. Sonra da yokuşların yolcusunu tekrar denizin kenarına bırakır.

**Bu parçanın anlatımıyla ilgili olarak aşağıdakilerden hangisi söylenemez?**

- A) Kişileştirmeye yer verilmiştir.  
B) Farklı cümle türleri kullanılmıştır.  
C) İkileme kullanılmıştır.  
D) Betimleyici öğelerden yararlanılmıştır.  
E) Birinci kişili anlatıma başvurulmuştur.

12. Bazı insanlar, gördüğünü bir daha görmek isteyen, pırıl pırıl gözlerle bakarlar dünyaya. Işığı da farklıdır o gözlerin, âdeta bir ışık kaynağına ihtiyaç duymadan parlalar. Çok özel bir duyargaları vardır bu gözlerin sanki. Nesnelerin, taşın, toprağın kıpırtısını hissederler. Ve o kıpırtıya yoğunlaşmaya her zaman hazırdırlar. Baktıkları şey hakkında öncesinde ne söylenirse söylensin aldırılmazlar ----.

**Bu parçanın sonuna düşüncenin akışına göre aşağıdakilerden hangisi getirilebilir?**

- A) böylece "bakmak"la "görmek" arasındaki farkı anlamaya çalışırlar  
B) nedense herkesin bildiğini onlar da öğrenmek isterler  
C) aslında içlerindeki heyecanı azaltacak ortamlardan uzak durmaya çalışırlar  
D) çünkü başkalarının göremediği şeyleri göreceklerine neredeyse emindirler  
E) ne var ki bu bakışlarıyla yaşama sevincini hep canlı tutarlar

13. Çocukluk ya da ilk gençlik dönemlerindeki okumalarımız yüzeyseldir genellikle. Metnin dışında kalır, özüne inmeyi başaramayız. ----. Bu nedenle deneyimlerimizin arttığı, yaşama bakış açımızın genişlediği yaşlarda onları yeniden okuma gereksinimi duyarız.

**Bu parçada boş bırakılan yere düşüncenin akışına göre aşağıdakilerden hangisi getirilebilir?**

- A) Bu yüzden çok katmanlı, derinlikli yapıtları ya sonuna değin okuyamaz ya da anlamadan okuyup geçeriz  
B) Kimilerine göre yeniden okuma isteğinin ardında hoşlanma, haz alma yönsemesi vardır  
C) Bu, okuma sevgisi kazanmamış olanlar için geçerlidir  
D) Çünkü okumaya başladığı metni sonuna kadar elinden bırakmamak, okurun eleştirel becerilerini geliştirir  
E) Çocuklara okutulacak kitapların, annelerin ve babaların denetiminde seçilmesi gerekir

14. Mekânların edebiyat yapıtlarına yansiyip onlarla soluk aldığı bilinen bir gerçektir. Evler, balkonlar, sokaklar, kaldırımlar, mahalleler yazarın dünyasında yepyeni bir gerçekliğe dönüşür. Parklar, müzeler, sinemalar, tiyatrolar, kütüphaneler yapıtlardaki kentsel mekânların farklı formlarıdır. Kırsal yaşamın kendine özgü dünyası ise edebiyat yapıtlarında, kasaba ve köy gerçekleri anlatılırken verilir. Trenler, uçaklar, hızın içindeki yolculuklar hayatımızın edebiyata yansıyan önemli bir boyutunu oluşturur. Yol da başka bir mekândır. Ada, insanın içine dönüşünün, yalıtılmışlığın ve yalnızlığın sembolü; deniz, öteleri, ileriye, özgürlüğü anlatmada yararlanılan özel bir mekândır. Bütün mekânları anlamlı kılsa yazınsal yaratılardaki kişilerin kendine özgü yapıları ve bunların evrensel yaşam enerjisiyle anlatılmasıdır.

**Edebiyat yapıtlarındaki mekânların anlatıldığı bu parçadan aşağıdakilerin hangisine ulaşamaz?**

- A) Değiştirilip dönüştürülerek yansıtıldığına
- B) Toplumsal ilişkileri biçimlendirmedeki etkisine
- C) İşlenecek konuya uygun olarak seçildiğine
- D) İnsanla bütünleşince işlevsellik kazandığına
- E) Simgesel nitelik taşıyabildiğine

15. Matbaanın icadını düşündüğümüzde daktilonun tarihi çok da gerilere gitmiyor aslında. İnsanlıkla yüz yıllık bir dostluğu var diyebiliriz. Daktilonun mucidi olarak tek bir kişinin ismini vermek zor olsa da “El yazısını matbaalar-dakine benzer usulde basılmış harflerle değiştirebilen makine” yani daktilo 1808’de icat ediliyor. Mucidi, ilk daktiloyu görme engelli bir dostu için icat etmiş. Bu makinede her harfin doğrudan kâğıt üzerine basılmasını sağlayan minik tokaçlar bulunuyormuş. Hepsî aynı noktaya vuruş yapabilen harf çubuklarıysa 1833’te icat edilmiş. Thomas Edison’un, çubuğu elektromıknatısla hareket eden bir daktilo yapmasıyla, 1930 yılında elektrikli daktilo makinelerinin seri hâlde satışına başlanmış.

**Bu parçada daktiloyla ilgili olarak aşağıdakilerin hangisine değinilmemiştir?**

- A) İcat edilmesine neden olan kişinin bir özelliğine
- B) Uzun bir geçmişe sahip olmadığına
- C) Yerini bilgisayara bıraksa da üreilmeye devam edildiğine
- D) İşleviyle ilgili bir tanımlamaya
- E) Ünlü bir bilim adamının, gelişmesine bulunduğu katkıya



16.  $\left( \frac{2+\frac{2}{3}}{2-\frac{2}{3}} \right) : \left( 1+\frac{1}{2} \right)$

işleminin sonucu kaçtır?

- A)  $\frac{1}{3}$  B)  $\frac{2}{3}$  C)  $\frac{4}{3}$  D) 2 E) 3

17.  $\frac{(0,0004)^3}{(0,002)^4}$

işleminin sonucu kaçtır?

- A) 8 B) 4 C) 2 D) 0,4 E) 0,2

18. Pozitif gerçel sayılar kümesi üzerinde  $\oplus$  ve  $\odot$  işlemleri

$$a \oplus b = \frac{a}{b} + \frac{b}{a}$$

$$a \odot b = \frac{a \cdot b}{a+b}$$

biçiminde tanımlanıyor.

Buna göre,  $(2 \oplus 4) \odot 1$  işleminin sonucu kaçtır?

- A) 2 B) 3 C) 4 D)  $\frac{2}{5}$  E)  $\frac{5}{7}$

19. A ve B kümeleri için

$$\{(1,1), (2,1), (2,4), (3,5), (5,2)\} \subset A \times B$$

olduğuna göre,  $A \times B$  kartezyen çarpım kümesinin eleman sayısı en az kaç olabilir?

- A) 12 B) 15 C) 16 D) 20 E) 25

20. Beş basamaklı A4B5B sayısının 10'a bölümünden kalan 8'dir.

Bu sayı 9'a kalansız bölünebildiğine göre, A kaçtır?

- A) 2 B) 3 C) 4 D) 5 E) 6

21.

$$\frac{a^3+8}{a^2+4a+4} \cdot \frac{a^2+a-2}{a^2-2a+4} = \frac{1}{2}$$

olduğuna göre, a kaçtır?

- A)  $\frac{-1}{2}$  B)  $\frac{-5}{2}$  C)  $\frac{-3}{4}$

- D)  $\frac{3}{2}$  E)  $\frac{5}{4}$

22. a, b ve c gerçel sayıları için

$$a^2 < a$$

$$a \cdot b < 0$$

$$a \cdot c > 1$$

olduğuna göre, aşağıdaki sıralamalardan hangisi doğrudur?

A)  $a < b < c$                       B)  $a < c < b$

C)  $b < a < c$                       D)  $b < c < a$

E)  $c < b < a$

23. a ve b birer gerçel sayı olmak üzere,

I.  $|a + b| = |a| + |b|$

II.  $|a - b| = |b - a|$

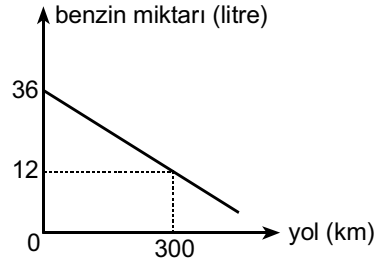
III.  $|a \cdot b| = |a| \cdot |b|$

ifadelerinden hangileri her zaman doğrudur?

A) Yalnız I                      B) Yalnız III                      C) I ve II

D) II ve III                      E) I, II ve III

24. Aşağıdaki doğrusal grafik, bir otomobilin deposundaki benzin miktarının aldığı yola göre değişimini göstermektedir.



Buna göre, harekete başladıktan kaç km sonra otomobilin deposunda 6 litre benzin kalır?

A) 375    B) 400    C) 425    D) 450    E) 475

25. Bir aşçı, bir miktar una 12 kg şeker katarak şeker oranı ağırlıkça % 40 olan un-şeker karışımı hazırlamıştır.

Bu aşçı, şeker oranının % 50 olması için karışıma kaç kg şeker ilave etmelidir?

A) 5    B) 6    C) 8    D) 9    E) 12

26. Taşımacılık hizmeti veren bir firmada, 14 ve 21 kişilik minibüslerden toplam 36 adet vardır.

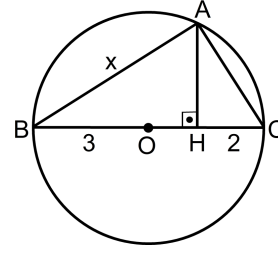
**Bu firmadaki minibüslerin toplam kapasitesi 616 kişi olduğuna göre, 21 kişilik minibüs sayısı kaçtır?**

- A) 10 B) 12 C) 14 D) 16 E) 18

27. 1 başkan, 2 başkan yardımcısı ve 6 üyeden oluşan 9 kişilik bir yönetim kurulundan; içinde başkanın ve 1 başkan yardımcısının bulunacağı 5 kişilik çalışma grubu kaç farklı şekilde oluşturulabilir?

- A) 24 B) 30 C) 32 D) 36 E) 40

28.



O merkezli çember

$AH \perp BC$

$|OB| = 3 \text{ cm}$

$|HC| = 2 \text{ cm}$

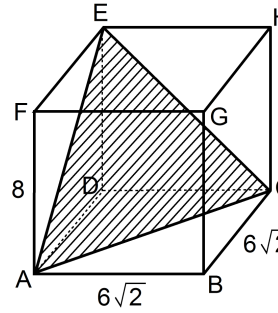
$|AB| = x$

Yukarıdaki şekilde A, B ve C noktaları O merkezli  $[BC]$  çaplı çember üzerindedir.

**Buna göre, x kaç cm'dir?**

- A)  $2\sqrt{3}$  B)  $3\sqrt{3}$  C)  $4\sqrt{3}$   
D)  $2\sqrt{6}$  E)  $3\sqrt{6}$

29.



$|AB| = |BC| = 6\sqrt{2} \text{ cm}$

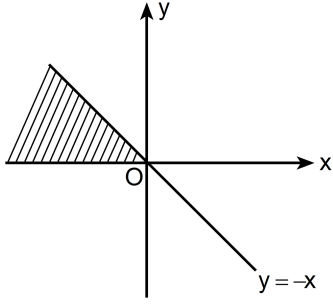
$|FA| = 8 \text{ cm}$

Yukarıdaki şekilde, ABCDEFGH kare dik prizması verilmiştir.

**Buna göre, EAC üçgeninin alanı kaç  $\text{cm}^2$  dir?**

- A) 56 B) 60 C) 64 D) 68 E) 72

30.



Aşağıdaki eşitsizlik sistemlerinden hangisinin çözüm kümesi grafikteki taralı bölgedir?

A)  $\begin{cases} x \leq 0 \\ x + y \geq 0 \end{cases}$       B)  $\begin{cases} y \geq 0 \\ x + y \geq 0 \end{cases}$       C)  $\begin{cases} x \geq 0 \\ x + y \leq 0 \end{cases}$

D)  $\begin{cases} y \leq 0 \\ x + y \leq 0 \end{cases}$       E)  $\begin{cases} y \geq 0 \\ x + y \leq 0 \end{cases}$

## 31. Birinci Dünya Savaşı sonunda Yugoslavya,

- I. Almanya,
- II. Avusturya-Macaristan,
- III. Bulgaristan

devletlerinin hangilerinden alınan topraklar üzerinde kurulmuştur?

- A) Yalnız I
- B) Yalnız II
- C) Yalnız III
- D) II ve III
- E) I, II ve III

## 32. Amaçlarından biri İngiltere himayesinde Osmanlı Devleti'nin varlığını korumak olan cemiyet aşağıdakilerden hangisidir?

- A) İngiliz Muhipleri
- B) İslam Teali
- C) Mavrimira
- D) Kürt Teali
- E) Etniki Eteryay

## 33. Sivas Kongresi'nden iki gün sonra Sovyet Dışişleri Bakanlığı yayımladığı bildiride, İngiltere'nin İstanbul'u ve Boğazları ele geçirdiğini; Türkiye, İran, Afganistan ve Kafkasları egemenlik altına almak üzere olduğunu belirtmiş ayrıca kimi üst düzey devlet adamlarından söz ederek İstanbul Hükûmetini eleştirmiştir.

Sovyet Hükûmetinin bu bildirisinin aşağıdakilerden hangisine yönelik olduğu savunulabilir?

- A) Batı Avrupa devletleriyle ilişkilerini düzeltmek istediğine
- B) İngiltere'nin yayılmacı politikasını kabul ettiğine
- C) Millî Mücadele'yi desteklemeye hazırlandığına
- D) İstanbul üzerindeki emellerinden vazgeçtiğine
- E) İstanbul Hükûmetiyle ilişkilerini geliştirmek istediğine

## 34. Taarruzun Kocatepe'den başladığı ve Mustafa Kemal'in "Ordular! İlk hedefiniz Akdeniz'dir, ileri!" emrini verdiği savaş aşağıdakilerden hangisidir?

- A) Birinci İnönü
- B) Başkomutan
- C) İkinci İnönü
- D) Sakarya
- E) Eskişehir-Kütahya

## 35. İlk TBMM Hükûmeti tarafından kurulan Türk Âsar-ı Atıkası (Eski Eserler) Müdürlüğü, aşağıdakilerden hangisine bağlanmıştır?

- A) Eğitim Bakanlığına
- B) İçişleri Bakanlığına
- C) Dışişleri Bakanlığına
- D) İktisat Bakanlığına
- E) Bayındırlık Bakanlığına

## 36. TBMM Hükûmeti,

- I. İran,
- II. Gürcistan,
- III. Azerbaycan

devletlerinden hangileriyle Kars Antlaşması'nı imzalamıştır?

- A) Yalnız I
- B) Yalnız II
- C) Yalnız III
- D) I ve II
- E) II ve III

37. Fransızlar, Pozantı yöresinde ummadık bir direnişle karşılaşınca TBMM Hükûmetiyle 29/30 Mayıs 1920 gecesinden başlamak üzere yirmi günlük bir ateşkes anlaşması imzalamıştır.

**Bu durumun aşağıdakilerden hangisine neden olduğu savunulabilir?**

- A) Fransız askerî gücünün Anadolu'dan çekilmeye başlamasına
- B) TBMM Hükûmetinin Anlaşma Devletlerinin biri tarafından tanınmasına
- C) Fransız ordusunda Ermenilerin yer almasına
- D) Batı Cephesi'ndeki çatışmaların son bulmasına
- E) Fransa'nın Anlaşma Devletleri safından ayrılmasına

38. Aşağıdakilerden hangisi Tevhid-i Tedrisat (Öğretimin Birleştirilmesi) Kanunu'nun kabul edilmesinden önce uygulanmaya başlanmıştır?

- A) Bütün okulların Millî Eğitim Bakanlığına bağlanması
- B) Medreselerin kapatılması
- C) İlahiyat Fakültesi ve İmam Hatip Okullarının açılması
- D) Eğitimin devlet denetimine geçmesi
- E) Öğretmen okullarının açılması

39. Aşağıdakilerden hangisinin Millî Mücadele Dönemi dış politika ilkelerinden biri olduğu savunulamaz?

- A) Ülkenin tam bağımsızlığının sağlanması
- B) Milletın kendi geleceğini kendisinin belirlemesi
- C) Yabancı sermayenin her koşulda kabul edilmesi
- D) Millî sınırlar içinde vatanın bölünmez bir bütün olması
- E) Manda ve himayenin kabul edilmemesi

40. Aşağıdakilerden hangisi Lozan Antlaşması sonrasında Türkiye ile Fransa arasındaki ikili ilişkilerde bir sorun olmamıştır?

- A) Nüfus mübadelesi
- B) Yabancı okullar
- C) Osmanlı Devleti'nin borçları
- D) Adana-Mersin demir yolu
- E) Suriye sınırı

41. Aşağıdakilerden hangisi Atatürk Döneminde sanat alanında yapılan çalışmalardan biri değildir?

- A) Topkapı Sarayı'nın müze hâline getirilmesi
- B) Sanayi-i Nefise Mektebinin kurulması
- C) İstanbul Belediyesi Konservatuvarının açılması
- D) Ankara Millî Musiki ve Temsil Akademisinin açılması
- E) Resim ve Heykel Müzesinin açılması

42. Türkiye Cumhuriyeti, 11 Nisan 1936'da Lozan Antlaşması'nı imzalayan bütün devletlere birer nota yollayarak Boğazlarla ilgili maddelerin yeniden gözden geçirilmesini istemiştir.

**Aşağıdakilerden hangisinin bu duruma neden olduğu savunulabilir?**

- A) İngiltere'nin, Musul sorununu Milletler Cemiyetine taşıması
  - B) İtalya'nın Akdeniz'de yayılmacı politika izlemesi
  - C) Sadabad Pakti'nin imzalanması
  - D) Hatay'ın Türk topraklarına katılması
  - E) Paris Barış Konferansı'yla Oniki Ada'nın Yunanistan'a verilmesi
43. İsviçre Medeni Kanunu, Avrupa'da hazırlanan kanunların en yenisi, demokrasi ilkelerine en uygunu ve kolay uygulanabilir olmasından dolayı Türk Medeni Kanunu'nun hazırlanmasında esas alınmıştır.

**Aşağıdakilerden hangisi bu kanunla uygulamaya konulmamıştır?**

- A) Resmî nikâh usulü
- B) Boşanma hakkının kadına da tanınması
- C) Tek eşli evlilik
- D) Mirasta kadın erkek eşitliği
- E) Kadınların yönetime katılması

44. **Aşağıdakilerden hangisi Atatürkçülüğün özelliklerinden biri değildir?**

- A) Türk milletinin ihtiyaçlarından doğması
- B) Akla ve bilime uygun olması
- C) Ulusal birlik ve beraberliği hedeflemesi
- D) Dogmalara dayanması
- E) İnsan sevgisine önem vermesi

45. 1934 yılında çıkarılan bir kanunla, dinî kıyafet ve işaretlerin ibadethaneler dışında kullanılması yasaklanmıştır.

**Bu durumun aşağıdaki Atatürk ilkelerinden hangisinin doğrudan bir sonucu olduğu savunulabilir?**

- A) Devletçilik
- B) Milliyetçilik
- C) Laiklik
- D) İnkılapçılık
- E) Cumhuriyetçilik

46. 1982 Anayasası'na göre, aşağıdakilerden hangisi olağan dönemlerde çıkarılan kanun hükmünde kararnameler ile düzenlenebilir?

- A) Mülkiyet hakkı
- B) Sağlık hakkı
- C) Toplantı ve gösteri yürüyüşü düzenleme hakkı
- D) Basın hürriyeti
- E) Yerleşme ve seyahat hürriyeti

47. 1982 Anayasası'na göre, siyasi partiler ile ilgili aşağıdaki ifadelerden hangisi doğrudur?

- A) Siyasi partiler ticari faaliyetlere girişemez.
- B) Siyasi partiler TBMM tarafından kapatılabilir.
- C) 15 yaşını dolduranlar siyasi parti üyesi olabilir.
- D) Siyasi parti tüzükleri insan haklarına aykırı olabilir.
- E) Siyasi partiler önceden izin alarak kurulabilir.

48. 1982 Anayasası'na göre TBMM kaç milletvekilinden oluşur?

- A) 300    B) 450    C) 500    D) 550    E) 600

49. 1982 Anayasası'na göre, milletvekili seçilebilmek için en az kaç yaşını doldurmuş olmak gerekir?

- A) 20    B) 25    C) 30    D) 35    E) 40

50. 1982 Anayasası'na göre, seçimler aşağıdakilerden hangisinin genel yönetim ve denetimi altında yapılır?

- A) Vatandaşların    B) Yargı organlarının
- C) Cumhurbaşkanının    D) TBMM'nin
- E) Hükûmetin

51. 1982 Anayasası'na göre, kanun teklif etmeye aşağıdakilerden hangisi yetkilidir?

- A) Cumhurbaşkanı
- B) Anayasa Mahkemesi Başkanı
- C) Milletvekilleri
- D) Vatandaşlar
- E) Genelkurmay Başkanı

52. 1982 Anayasası'na göre, TBMM genel seçimlerinden önce aşağıdaki bakanlardan hangileri çekilir?

- A) Sağlık ve Millî Eğitim bakanları
- B) Adalet, İçişleri ve Ulaştırma bakanları
- C) Başbakan ve Dışişleri bakanı
- D) Maliye, Sağlık ve Bayındırlık bakanları
- E) Sadece Başbakan ve yardımcıları



53. 1982 Anayasası'na göre, aşağıdakilerden hangisi Devletin temel amaç ve görevlerinden biri değildir?

- A) Cumhuriyeti korumak
- B) Demokrasiyi korumak
- C) Türk Milletinin bağımsızlığını korumak
- D) Ülkenin bölünmezliğini korumak
- E) Yasama organının üstünlüğünü sağlamak

54. 1982 Anayasası'na göre, aşağıdakilerden hangisi Cumhuriyetin niteliklerinden biri değildir?

- A) Demokratik devlet
- B) Halkçı devlet
- C) Laik devlet
- D) İnsan haklarına saygılı devlet
- E) Sosyal devlet

55. 1982 Anayasası'na göre, aşağıdakilerden hangisi Anayasa'nın üstünlüğünü gösterir?

- A) Yasama yetkisinin devredilememesi
- B) Yargı yetkisinin bağımsız mahkemelerce kullanılması
- C) Kanunların Anayasa'ya aykırı olmaması
- D) Herkesin kanun önünde eşit olması
- E) Hiçbir aileye imtiyaz tanınmaması

56. 1982 Anayasası'na göre, mülkiyet hakkı ile ilgili aşağıdaki ifadelerden hangisi yanlıştır?

- A) Herkes mülkiyet hakkına sahiptir.
- B) Mülkiyet hakkı kamu yararı amacıyla sınırlanabilir.
- C) Mülkiyet hakkı sosyal haklardandır.
- D) Herkes miras hakkına sahiptir.
- E) Mülkiyet hakkı ancak kanunla sınırlanabilir.

57. 1982 Anayasası'na göre, eğitim ve öğrenim hakkı ve ödevi ile ilgili aşağıdaki ifadelerden hangisi yanlıştır?

- A) Türkçe'den başka diller de ana dil olarak okutulabilir.
- B) Öğrenim hakkının kapsamı kanunla düzenlenir.
- C) İlköğretim, Devlet okullarında parasızdır.
- D) Eğitim ve öğretim Devlet gözetimi altında yapılır.
- E) Kimse, eğitim ve öğrenim hakkından yoksun bırakılamaz.

58. 1982 Anayasası'na göre, aşağıdakilerden hangisi sosyal güvenlik bakımından özel olarak korunması gerekenlerden biri değildir?

- A) Malul ve gaziler
- B) Sakatlar
- C) Yaşlılar
- D) Memurlar
- E) Vazife şehitlerinin dul ve yetimleri

59. 1982 Anayasası'na göre, yerleşme ve seyahat hürriyeti ile ilgili aşağıdaki ifadelerden hangisi yanlıştır?

- A) Herkes yerleşme ve seyahat hürriyetine sahiptir.
- B) Vatandaş sınır dışı edilemez.
- C) Vatandaş yurda girme hakkından yoksun bırakılabilir.
- D) Yerleşme hürriyeti kamu mallarını korumak amacıyla sınırlandırılabilir.
- E) Seyahat hürriyeti suç işlenmesini önlemek amacıyla sınırlandırılabilir.

60. 1982 Anayasası'na göre, temel hak ve hürriyetler ile ilgili aşağıdaki ifadelerden hangisi doğrudur?

- A) Temel hak ve hürriyetler ancak tüzükle sınırlandırılabilir.
- B) Temel hak ve hürriyetlerle ilgili sınırlamalar hükûmetçe yapılır.
- C) Temel hak ve hürriyetlerin özlerine dokunan sınırlama yapılabilir.
- D) Temel hak ve hürriyetler ancak yargı kararıyla sınırlandırılabilir.
- E) Temel hak ve hürriyetler ancak kanunla sınırlandırılabilir.

1. Bu testte 30 soru vardır.

2. Cevaplarınızı, cevap kâğıdının Alan Bilgisi Testi için ayrılan kısma işaretleyiniz.

1. İşletmenin düzenlediği finansal tabloların karşılaştırılabilir olması için aşağıdaki muhasebe temel kavramlarından hangisine uyulmalıdır?

- A) Tarafsızlık ve belgelendirme
- B) Tam açıklama
- C) Tutarlılık
- D) Maliyet esası
- E) İhtiyatlılık

2. Aşağıdakilerden hangisi Ticari Alacaklar hesap grubunda yer almaz?

- A) Alacak Senetleri Reeskontu
- B) Verilen Depozito ve Teminatlar
- C) Alıcılar
- D) İştiraklerden Alacaklar
- E) Şüpheli Ticari Alacaklar Karşılığı

3. İşletme yarısı kredili, yarısı senet karşılığı yaptığı mal alımını aşağıdaki gibi kaydetmiştir. (KDV oranı % 18 olarak alınacaktır).

_____ / _____	
TİCARİ MALLAR	2300
İNDİRİLECEK KDV	414
BORÇ SENETLERİ	1537
SATICILAR	1537
_____ / _____	

- I. Borç Senetleri hesabı 1735 TL borçlandırılır.
- II. Satıcılar hesabı 180 TL borçlandırılır.
- III. Ticari Mallar hesabı 1537 TL borçlandırılır.
- IV. Borç Senetleri hesabı 180 TL borçlandırılır.
- V. İndirilecek KDV hesabı 32,4 TL borçlandırılır.

Buna göre, bu kaydın düzeltilebilmesi için yukarıdaki işlemlerden hangileri yapılmalıdır?

- A) I ve II
- B) II ve IV
- C) II ve V
- D) III ve V
- E) IV ve V

4. Aşağıdakilerden hangisi bir stok değerlendirme yöntemidir?

- A) Azalan bakiyeler yöntemi
- B) Sürekli envanter yöntemi
- C) Aralıklı envanter yöntemi
- D) Sipariş maliyeti yöntemi
- E) Ortalama maliyet yöntemi

5. Bir işletme tarafından % 18 KDV dâhil 18.408 TL'ye satın alınan ve ekonomik ömrü 8 yıl olan bir maddi duran varlığa azalan bakiyeler yöntemi ile ikinci yılın sonunda ayrılması gereken amortisman tutarı kaç TL'dir?

A) 2925 B) 3900 C) 6825 D) 7800 E) 8775

6. İşletme 01.05.2010 - 31.10.2013 dönemine ait kira sözleşmesi için 01.05.2010 tarihinde 215.250 TL'lik ödeme yapmıştır.

Buna göre, 2011 yılı dönem başı bilançosunda Gelecek Yıllara Ait Giderler hesabının tutarı kaç TL olmalıdır?

A) 113.500 B) 112.750 C) 110.250  
D) 107.625 E) 102.500

7. C AŞ, B AŞ'nin sermayesinin % 20'sine katılmak amacıyla gerekli yasal işlemleri tamamlamıştır.

Buna göre, C AŞ'nin yapması gereken kayıt aşağıdakilerden hangisidir?

A) \_\_\_\_\_ / \_\_\_\_\_  
İŞTİRAKLER XXX  
BANKALAR XXX  
\_\_\_\_\_ / \_\_\_\_\_

B) \_\_\_\_\_ / \_\_\_\_\_  
İŞTİRAKLER XXX  
ÖDENMEMİŞ SERMAYE XXX  
\_\_\_\_\_ / \_\_\_\_\_

C) \_\_\_\_\_ / \_\_\_\_\_  
İŞTİRAKLER XXX  
İŞTİRAKLERE  
SERMAYE TAAHHÜTLERİ XXX  
\_\_\_\_\_ / \_\_\_\_\_

D) \_\_\_\_\_ / \_\_\_\_\_  
ÖDENMEMİŞ SERMAYE XXX  
SERMAYE XXX  
\_\_\_\_\_ / \_\_\_\_\_

E) \_\_\_\_\_ / \_\_\_\_\_  
İŞTİRAKLER XXX  
İŞTİRAKLERE BORÇLAR XXX  
\_\_\_\_\_ / \_\_\_\_\_

**8. - 9. SORULARI AŞAĞIDAKİ BİLGİLERE GÖRE CEVAPLAYINIZ.**

Bir işletmede Brüt Satışlar 3.130.000 TL, Satış İndirimleri 172.000 TL, Faaliyet Zararı 53.000 TL ve Brüt Satış Kârı 279.000 TL'dir.

**8. Bu bilgilere göre işletmede Satışların Maliyeti kaç TL'dir?**

- A) 2.958.000      B) 2.905.000      C) 2.851.000  
D) 2.679.000      E) 2.507.000

**9. Bu bilgilere göre işletmede Faaliyet Giderleri kaç TL'dir?**

- A) 107.000      B) 119.000      C) 225.000  
D) 226.000      E) 332.000

**10. Bir işletme önceki dönemde % 40'ı için 40.000 TL karşılık ayırdığı alacakla ilgili olarak yalnız 40.000 TL tahsil edebilmiştir.**

**Buna göre, işletmenin bu olaydan doğan kâr ya da zararı ile ilgili olarak aşağıdaki ifadelerden hangisi doğrudur?**

- A) 20.000 TL zarar ortaya çıkmıştır.  
B) 40.000 TL zarar ortaya çıkmıştır.  
C) 40.000 TL kâr oluşmuştur.  
D) 60.000 TL kâr oluşmuştur.  
E) Kâr ya da zarar bulunmamaktadır.

**11. İşletme tarafından düzenlenen genel geçici mizanda Verilen Çekler ve Ödeme Emirleri hesabının kalanı 234.000 TL olarak izlenmektedir. Bankadan gelen hesap özeti incelenmesi sonucunda 47.000 TL tutarındaki çekin henüz tahsil edilmediği anlaşılmıştır.**

**Buna göre, yapılması gereken yevmiye kaydında aşağıdaki hesaplardan hangisinin kullanımı doğrudur?**

- A) Verilen Çekler ve Ödeme Emirleri hesabı 47.000 TL borçlu  
B) Verilen Çekler ve Ödeme Emirleri hesabı 187.000 TL borçlu  
C) Verilen Çekler ve Ödeme Emirleri hesabı 47.000 TL alacaklı  
D) Bankalar hesabı 187.000 TL borçlu  
E) Bankalar hesabı 234.000 TL alacaklı

**12. Bir anonim şirket, sermayesini 10 milyon TL'den 20 milyon TL'ye yükseltme kararı almış ve hisse senetlerini banka aracılığıyla 12 milyon TL'ye satmıştır.**

**Bu işlemle ilgili olarak aşağıdaki hesaplardan hangisinin kullanımı doğrudur?**

- A) Hisse Senetleri İhraç Primleri hesabı alacaklı  
B) Menkul Kıymetler İhraç Farkı hesabı borçlu  
C) Menkul Kıymetler İhraç Farkı hesabı alacaklı  
D) Hisse Senedi İptal Kârları hesabı alacaklı  
E) Menkul Kıymet Satış Kârları hesabı borçlu

13. Aşağıdakilerden hangisi Vergi Usul Kanunu'nda sayılan belgeler arasında yer almaz?

- A) Sevk irsaliyesi
- B) Serbest meslek makbuzu
- C) Mahsup fişi
- D) Yazar kasa fişi
- E) Müstahsil makbuzu

14. \_\_\_\_\_ / \_\_\_\_\_  
SAYIM ve TESELLÜM FAZLALARI XXX  
ALICILAR XXX  
\_\_\_\_\_ / \_\_\_\_\_

Bu kayıt aşağıdaki olaylardan hangisine aittir?

- A) Alıcılara kasadaki fazla paranın ödenmesi
- B) Fazla teslim edilen ticari malın alıcılardan geri alınması
- C) Kasada bulunan fazla paranın kaydı
- D) Alıcılardan borçlarına karşılık yapılan tahsilâtın kaydı
- E) Kasa fazlalığının alıcılardan yapılan tahsilâta ait olduğunun belirlenmesi

15. Bir işletmenin Temmuz ayı sonu itibarıyla KDV hesaplarıyla ilgili kalan tutarları aşağıdaki gibidir:

İndirilecek KDV	34.000 TL
Hesaplanan KDV	62.000 TL
Devreden KDV	4000 TL

Buna göre aşağıdaki ifadelerden hangisi doğrudur?

- A) İzleyen aya devreden KDV tutarı 20.000 TL'dir.
- B) İzleyen aya devreden KDV tutarı 24.000 TL'dir.
- C) İzleyen ayda ödenecek KDV tutarı 20.000 TL'dir.
- D) İzleyen ayda ödenecek KDV tutarı 24.000 TL'dir.
- E) İzleyen ayda ödenecek KDV tutarı 32.000 TL'dir.

16. Türkiye Cumhuriyeti'nin ilk yıllarında kurulan ilk millî banka aşağıdakilerden hangisidir?

- A) Ziraat Bankası
- B) Türk Millî Bankası
- C) Türkiye İş Bankası
- D) Türkiye Ticaret ve Sanayi Bankası
- E) Türkiye Umumi Bankası

17. Aşağıdakilerden hangisi 1930'larda uygulanan ekonomi politikalarının genel özelliklerinden biridir?

- A) İhracata dayalı büyüme
- B) Devletçi ekonomi politikaları
- C) Ekonomik liberalizm
- D) Serbest dış ticaret rejimi
- E) Hizmet sektörüne dayalı büyüme

18. Aşağıdakilerden hangisi 1963-1980 tarihleri arasında Türkiye ekonomisinde uygulanan politikalardan biri değildir?

- A) İç pazarın dış rekabete karşı korunması
- B) Sanayi yatırımlarının teşvik edilmesi
- C) KİT'ler eliyle ara mal üretiminin artırılması
- D) İhracata doğrudan parasal destek verilmesi
- E) Gelir ve ücret politikaları ile iç talebin güçlendirilmesi

19. Aşağıdakilerden hangisi 1950-1960 döneminde Türkiye ekonomisinde gerçekleşen gelişmelerden biridir?

- A) Yerli üretimin artan rekabet gücü sayesinde dış ticaret fazlası verilmesi
- B) Sanayi yatırımlarını hızlandırmak amacıyla yeni KİT'lerin kurulması
- C) Yabancı sermayenin ağırlıklı olarak tarım sektöründe yoğunlaşması
- D) Özel sermaye ile KİT ortaklıklarına son verilmesi
- E) Artan dış rekabet nedeniyle sanayi üretiminin millî gelir içindeki payının düşmesi

20. Aşağıdakilerden hangisi 24 Ocak 1980 kararları ile uygulamaya konan ekonomi politikalarından biridir?

- A) Yerli sanayinin korunmasından vazgeçilmesi
- B) Merkez Bankasının açık piyasa işlemlerine son vermesi
- C) Yabancı sermaye girişleri üzerindeki tüm sınırlamaların kaldırılması
- D) İhracata ödenen vergi iadesinin kaldırılması
- E) Merkez Bankasının Hazineye kredi vermesinin durdurulması

21. Aşağıda verilen yıllardan hangisinde Türkiye'de bir ekonomik kriz yaşanmamıştır?

- A) 1958
- B) 1978
- C) 1994
- D) 2000
- E) 2006

22. Türkiye ekonomisinin son on yıl içindeki ekonomik büyüme performansı ile ilgili aşağıdaki ifadelerden hangisi doğrudur?

- A) Ekonomi bu dönemde kesintisiz büyümüştür.
- B) Ekonomik büyüme, banka iflasları nedeniyle 2005 yılında kesintiye uğramıştır.
- C) 2001 krizi ardından başlayan büyüme, 2008'e kadar devam etmiştir.
- D) Sabit fiyatlarla hesaplanan GSYİH'ye göre, 2007'de başlayan gerileme 2010'a kadar devam etmiştir.
- E) 2009 yılı itibarıyla ekonomik toparlanma başlamışsa da büyüme 2011 yılında yeniden negatif gerçekleşmiştir.

23. Türkiye ekonomisinin 2000'li yıllardaki istihdam yapısı ile ilgili aşağıdaki ifadelerden hangisi doğrudur?

- A) Tarım sektörü istihdam içindeki payını korurken sanayinin payı gerilemiştir.
- B) Sanayi istihdam içinde en yüksek paya sahip olmuştur.
- C) 2000'li yılların sonunda inşaat sektörünün istihdam içindeki payı ilk kez tarımı geçmiştir.
- D) İstihdam içinde en yüksek paya hizmetler sektörü sahiptir.
- E) 1990'larda küçülen tarımın istihdam içindeki payı 2000'li yıllarda artmıştır.

24. Türkiye ekonomisinde 2000'li yılların enflasyon verileri ile ilgili aşağıdaki ifadelerden hangisi doğrudur?

- A) 2001 krizi sonrasındaki yılların enflasyon oranı ortalaması 1990'ların altındadır.
- B) 2002'den itibaren TÜFE azalırken TEFE artmaktadır.
- C) Son yirmi yılın en yüksek yıllık enflasyon oranı % 45 ile 2002 yılında gerçekleşmiştir.
- D) Enflasyon oranının ölçümünde yapılan değişiklik nedeniyle 2009 öncesi ve sonrası oranlarının karşılaştırılması mümkün değildir.
- E) 2000'li yıllar boyunca yıllık enflasyon % 20'nin üzerinde seyretmiştir.

25. (milyar ABD doları)

	2005	2006	2007	2008	2009	2010	2011
Resmî Rezervler	-17,8	-6,1	-8,0	1,1	-0,1	-12,8	-9,8

**T.C. Merkez Bankası Rezerv Varlıkları Değişimini gösteren yukarıdaki tabloda verilen bilgilere göre aşağıdaki ifadelerden hangisi doğrudur?**

- A) Cari dengenin fazla vermesi nedeniyle ilk kez 2008 yılında rezervler artmıştır.
- B) Küresel kriz nedeniyle 2009 yılından itibaren rezervlerde erime devam etmiştir.
- C) 2008 yılında rezervler 1,1 milyar ABD doları azalmıştır.
- D) Dönem boyunca devam eden rezerv değişimindeki dalgalanmalar bütçe açıkları olacağını göstermektedir.
- E) 2005-2007 yılları arasında artan ithalat talebi rezervlerdeki azalmanın temel nedenidir.



**26. Türkiye'nin 2005-2010 yılları arasındaki dış borçları ile ilgili aşağıdaki ifadelerden hangisi doğrudur?**

- A) IMF ile 2009 yılında imzalanan yeni stand-by anlaşması dış borçların artmasına neden olmuştur.
- B) Dış borçların temel nedeni dönem içindeki devallasyonlardır.
- C) IMF'den alınan borçların tamamı 2008 yılı itibarıyla ödenmiştir.
- D) Dönem itibarıyla dış borç stoku artmakla birlikte vade süreleri kısalmıştır.
- E) Türkiye'nin dış borç stokunun GSYİH'ye oranı % 60 olan Maastricht Kriteri'nin altındadır.

**27. T.C. Merkez Bankası'nın 2011 yılında politika faiz oranı olarak kullandığı faiz oranı aşağıdakilerden hangisidir?**

- A) 1 hafta vadeli repo ihale faiz oranı
- B) Kamu mevduatları faiz oranı
- C) İnterbank faiz oranı
- D) Zorunlu karşılıklardan alınan faizler
- E) Kamu kredileri faiz oranı

**28. Aşağıdakilerden hangisi 2008 yılında küresel kriz koşullarında Türkiye ekonomisinde gerçekleşmiştir?**

- A) Türk lirasının resmî olarak devalüe edilmesi
- B) Banka iflasları
- C) İşsizlik oranında artış
- D) Gecelik borçlanma faizlerinin % 100'ün üzerine çıkması
- E) Hükûmetin IMF ile yeni bir stand-by anlaşması yapmak zorunda kalması

**29. Aşağıdakilerden hangisi 2008-2009 yılları arasında Türkiye ekonomisinde istihdamı artırmak amacıyla uygulanan politikalardan biridir?**

- A) Kısa çalışma ödeneğinden yararlanma süresinin uzatılması
- B) İşsizlik ödeneğinin üst sınırının asgari ücretin 1,5 katına yükseltilmesi
- C) Genç ve kadın istihdamında sosyal güvenlik primlerinin kaldırılması
- D) Toplum Yararına Çalışma Programı'nın işsizlik fonuna devri
- E) Bölgesel asgari ücret sistemine geçilmesi

30. Aşağıdakilerden hangisi Türkiye’de 61. Hükûmet döneminde ekonomi alanında faaliyet gösteren bakanlıklardan biri değildir?

- A) Bilim, Sanayi ve Teknoloji Bakanlığı
- B) Dış Ticaret Bakanlığı
- C) Maliye Bakanlığı
- D) Ekonomi Bakanlığı
- E) Kalkınma Bakanlığı

1. Bu testte 50 soru vardır.

2. Cevap kâğıdında, sınav yabancı dilinizi (ALMANCA) işaretlemeyi unutmayınız.

1. - 11. sorularda, cümlede boş bırakılan yerlere uygun düşen sözcük ya da ifadeyi bulunuz.

1. Er versuchte ----, wodurch die Störung verursacht wurde.

- A) mitzukommen B) herauszufinden  
C) zu überlassen D) teilzunehmen  
E) einzuparken

2. Es gibt keine Zweifel darüber, dass Kommunikation die sozialen Bindungen ----.

- A) geht B) wirbt C) verlässt  
D) erlegt E) stärkt

3. Schon zu Beginn ihrer Laufbahn hatte sie das ----, ein eigenes Geschäft zu eröffnen.

- A) Karriere B) Zukunft C) Ziel  
D) Prüfung E) Neid

4. Wenn er genug Geld gehabt hätte, hätte er sich schon vor Jahren ---- gemacht.

- A) selbständig B) nachträglich C) vorsichtig  
D) reichhaltig E) restlich

5. ---- der starken Regenfälle war es dem Architekten nicht möglich, sich an den Zeitplan zu halten.

- A) Im Hinblick B) Statt C) Weil  
D) Wegen E) Zwar

6. ---- verschiedener Werbemethoden geben viele Kunden beim Einkaufen mehr aus als geplant.

- A) Aufgrund B) Zumal C) Indem  
D) In Bezug E) Mit

7. ---- einer internen Untersuchung stellte es sich heraus, dass er seine Stellung als Buchhalter missbraucht hat.

- A) Ehe                      B) Nachdem                      C) Mitten  
D) Zwar                      E) Während

8. Es wird mindestens einen Monat dauern, ---- er eine Antwort auf sein Schreiben bekommt.

- A) seit                      B) wem                      C) bis  
D) da                      E) binnen

9. ---- Alter nach wäre es möglich, dass sie sich kennen gelernt haben.

- A) Zum                      B) Dem                      C) Als  
D) Im                      E) Das

10. Er ---- aus familiären Gründen das günstige Angebot nicht wahrnehmen.

- A) wäre                      B) hatte                      C) kam  
D) schien                      E) konnte

11. ---- seine Schulden dauerhaft nicht zurückzahlen kann, ist insolvent.

- A) Indem                      B) Angesichts                      C) Wann  
D) Bezüglich                      E) Wer

**12. - 16. sorularda, aşağıdaki parçada numaralanmış yerlere uygun düşen sözcük ya da ifadeyi bulunuz.**

Trotz den Fortschritten im Kampf gegen die globale Armut schätzt die Weltbank die Zahl der Armen (12)---- um den Erdball auf 1,4 Milliarden. Das heißt, dass (13)---- ein Viertel der Weltbevölkerung davon betroffen ist. Allerdings sei durch neue Daten über die Preisentwicklung die Armutsgrenze (14)---- worden. (15)---- gilt als arm, wer im Durchschnitt von weniger als 1,25 Dollar am Tag leben muss. Die vorherige (16)---- ging von einem Dollar am Tag aus.

12.

- A) rund                      B) lang                      C) stark  
D) unter                      E) eng

13.

- A) lästig                      B) färbend                      C) leiser  
D) annähernd                      E) aufwändig

14.

- A) umgezogen                      B) verlaufen  
C) scheinen                      D) entkommen  
E) angehoben

15.

- A) Mithilfe                      B) Danach                      C) Inmitten  
D) Obschon                      E) Während

16.

- A) Milliarden                      B) Galerie                      C) Beträge  
D) Armutsgrenze                      E) Schreiben

17. - 24. sorularda, verilen cümleyi uygun şekilde tamamlayan ifadeyi bulunuz.

17. ----, ob ich Lust hätte, nach Istanbul zu kommen, um ihn zu besuchen.

- A) Ich kannte ihn
- B) Es gelang ihm
- C) Er fragte mich
- D) Er ist älter als ich
- E) Es war noch zu früh

18. ----, als Dolmetscherin für den ausländischen Gast zur Verfügung zu stehen.

- A) Aufgrund ihrer fremdsprachlichen Kenntnisse ist sie dazu aufgefordert worden
- B) Nach Abschluss der Universität arbeitete sie eine Zeit lang als Fremdenführerin
- C) Sie legte die Fremdsprachenprüfung mit großem Erfolg ab
- D) Nachdem sie viele Jahre lang in Deutschland gelebt hatte
- E) Sie wollte entweder Philologie oder Pädagogik studieren

19. ----, die Erwartungen seines Vorgesetzten in jeder Hinsicht zu erfüllen.

- A) Die Intensivierung der theoretischen Kenntnisse ist nur möglich
- B) Ein Vergleich der Kostenvoranschläge ergab
- C) Dank seiner raschen Auffassungsgabe war es ihm möglich
- D) Sämtliche Mitglieder der Belegschaft wurden einer Prüfung unterzogen
- E) Je mehr Personen sich mit diesem Projekt befassen

20. Obwohl er unter seinen Kollegen beliebt ist und über ausgezeichnete fachliche Kenntnisse verfügt, ----.

- A) lief die Bewerbungsfrist schon vor einer Woche ab
- B) hatte sie schon als Praktikantin mehr praktische Erfahrungen als ihre Mitarbeiter
- C) hätte sich der Leiter der Sicherheitsabteilung selbst um diesen Zwischenfall gekümmert
- D) ist die Entfernung zwischen den beiden Gebäuden zu groß
- E) wird er sich nach Ablauf des Projekts eine andere Stelle suchen müssen

21. Es war ihm unangenehm, ----.

- A) ob er eine Vorstellung über die Auswirkungen des Ereignisses hat
- B) wenn man ihn wenigsten nach seinem Standpunkt gefragt hätte
- C) wer seiner Meinung nach für eine Beförderung in Frage kommt
- D) dass man in seiner Abwesenheit seinen Schreibtisch benutzt hatte
- E) über die man ihn jedoch vorerst noch im Unklaren lässt

22. Der Verwaltungsrat ist im Begriff, Vorkehrungen zu treffen, ----.

- A) weil ihr Bestehen im Hinblick auf die enorm angestiegenen Rohstoffpreise gefährdet ist
- B) um die Krise mit so wenig Verlusten wie möglich überwinden zu können
- C) ob die Aktien der Firma an Wert verlieren werden
- D) dass sich die Öffentlichkeit für die Auswirkungen dieser Ereignisse interessieren könnte
- E) wie sich der Verlauf des Gipfeltreffens auf die Wirtschaft auswirken wird

23. Je weniger sich türkische Staatsbürger, ----, an die Kultur des Landes anpassen konnten, desto mehr suchten sie Zuflucht in ihrer eigenen Kultur.

- A) die vor 50 Jahren als Gastarbeiter nach Deutschland kamen
- B) dass der Begriff Gastarbeiter im Grunde genommen nicht korrekt ist
- C) die trotz der inflationären Verhältnisse nicht vernachlässigt wurde
- D) wie viel Jahrzehnte es in Anspruch nehmen wird
- E) wenn sie den gesellschaftlichen Erwartungen entsprochen hätte

24. Aus dem Bericht geht hervor, ----, ihre Produkte gewinnbringend zu vermarkten.

- A) wie die Schwierigkeiten überwunden werden können
- B) dass es für die Firma nicht einfach sein wird
- C) welches er vorgelegt hatte
- D) weswegen sich die finanzielle Lage bald bessern wird
- E) als man den Briefwechsel eingehend überprüfte

**25. - 27. soruları aşağıdaki parçaya göre cevaplayınız.**

In einigen Jahren sollen Eisenbahnzüge und Autos auf einer 19 km langen Ostsee-Brücke zwischen Deutschland und Dänemark rollen. Mit Unterzeichnung eines Staatsvertrages haben sich Berlin und Kopenhagen endgültig auf das gigantische Bauprojekt geeinigt. Die dänische Regierung trägt die bisher auf 4,8 Milliarden Euro veranschlagten Kosten allein. Der Bau dieser Brücke soll insgesamt neun Jahre dauern. Mit diesem Projekt soll die Strecke zwischen den beiden Ländern verkürzt werden.

**25. Die Brücke, welche Dänemark und Deutschland verbinden soll, ----.**

- A) könnte an den enormen Kosten scheitern
- B) ist schon heute 19 km lang
- C) kann schon befahren werden
- D) soll auch Arbeitsplätze schaffen
- E) wird auch den Bahnverkehr ermöglichen

**26. Im Hinblick auf die geplante Ostsee-Brücke ----.**

- A) konnte man das gigantische Bauprojekt erst neun Jahre später finanzieren
- B) verhandeln die Regierungsvertreter in Berlin und Kopenhagen immer noch
- C) wird die dänische Regierung sämtliche Kosten übernehmen
- D) wurden schon vor Jahren Kritiken laut
- E) sind verschiedene Modelle vorgeschlagen worden

**27. Die Ostsee-Brücke ist ein Projekt, ----.**

- A) für dessen Verwirklichung neun Jahre vorgesehen sind
- B) welches durch die starken Strömungen in der Ostsee verzögert wird
- C) durch das die Beziehungen zwischen Dänemark und Deutschland gefährdet werden
- D) dessen Durchführbarkeit angezweifelt wird
- E) welches von der dänischen Regierung schon vor Jahren abgelehnt wurde



**28. - 30. soruları aşağıdaki parçaya göre cevaplayınız.**

Kinder von Einwanderern erreichen häufiger das Abitur – den höchsten Schulabschluss in Deutschland – als deutschstämmige Gymnasiasten. Schon 21% der betroffenen Zuwanderer haben das Abitur, aber nur 18% der deutschen Jugendlichen. Damit kehrte sich der frühere Trend um, dass Kinder nicht-deutscher Herkunft in der Bildung benachteiligt sind. Statistiker erklären dies mit dem Anteil von gebildeten Zuwanderern aus Mittel- und Osteuropa, welche großen Wert auf die Bildung ihrer Kinder legen.

**28. Der Anteil der nicht-deutschen Schüler, die ein Abitur machten, liegt bei 21%, ----.**

- A) obwohl sich 18% von ihnen nicht um ein Studium bewerben werden
- B) was sich aber im Laufe der Hochschulbildung wieder ausgleicht
- C) weil sie Kinder von Einwanderern benachteiligen
- D) womit er den der deutschstämmigen Schüler übertrifft
- E) dem niedrigsten Stand seit Jahrzehnten

**29. Im Hinblick auf den schulischen Erfolg ----.**

- A) wurden mehr deutschstämmige als nicht-deutsche Schüler eingeschult
- B) war die Bildungslage von Einwandererkindern früher eher ungünstig
- C) bildet das Abitur die Grundlage für ein Studium
- D) kehrte sich der Trend um, so dass Kinder aus Osteuropa kein Abitur haben
- E) konkurrieren Osteuropäer mit Mitteleuropäern

**30. Für gebildete Eltern aus Mittel- und Osteuropa ist es wichtig, dass ----.**

- A) auch im Ausland Schulen eröffnet werden
- B) Kinder nicht-deutscher Herkunft benachteiligt werden
- C) sich ihre Kinder eine entsprechende Bildung aneignen
- D) ihre Kinder sich ihrer Herkunft stets bewusst sind
- E) die meisten von ihnen eigentlich deutschstämmig sind

**31. - 33. soruları aşağıdaki parçaya göre cevaplayınız.**

Um beim Einkaufen zu sparen, gibt es verschiedene Möglichkeiten: Man kann beispielsweise die Angebote verschiedener Supermärkte vergleichen. Man kann auch billiger einkaufen, wenn man Sonderangebote nutzt oder zu preisgesenkten Produkten kurz vor Ablauf der Mindesthaltbarkeit greift. Günstigere Produkte stehen meist in den unteren Regalen und nicht auf Augenhöhe. Stets sollte man Packungsgröße und Preis vergleichen: Oft sind Großpackungen günstiger, aber nicht immer. Beim Obst- und Gemüseeinkauf kann man ebenfalls sparen, indem man saisonale und regionale Produkte wählt.

**31. Wer preisgünstig einkaufen möchte, ----.**

- A) sollte Sonderangebote wahrnehmen
- B) darf keine Zeit im Supermarkt verschwenden
- C) muss hochwertige Produkte wählen
- D) könnte seine Produkte billiger anbieten
- E) bereitet eine Einkaufsliste vor

**32. Es stimmt nicht, dass ----.**

- A) Großpackungen stets billiger sind
- B) es Unterschiede zwischen den Angeboten gibt
- C) die Waren in Augenhöhe frischer sind
- D) Obst außerhalb der Saison teurer ist
- E) es ein Mindesthaltbarkeitsdatum gibt

**33. Wenn man heimische Produkte bevorzugt, ----.**

- A) muss man stets auf regionale Waren verzichten
- B) muss man wissen, dass diejenigen in den unteren Regalen verdorben sind
- C) sollte man auch höhere Preise in Kauf nehmen
- D) kann man Obst und Gemüse preisgünstiger erwerben
- E) sollte man nicht auf den Preis sondern auf die Qualität achten

34. - 36. sorularda, karşılıklı konuşmanın boş bırakılan kısmını tamamlayabilecek ifadeyi bulunuz.

34. Herr Çelik:

– ----

Frau Orbay:

– **Natürlich. Sie arbeitet schon seit fast zehn Jahren in unserem Betrieb.**

Herr Çelik:

– **Ich habe gehört, dass sie sehr vorbildlich und verantwortungsbewusst sein soll.**

Frau Orbay:

– **Das ist richtig. Deswegen wurde ihr auch die Anleitung der neuen Ausbildungskräfte überantwortet.**

- A) Wären Sie daran interessiert, mit einigen Kollegen im Organisationskomitee zu arbeiten?
- B) Soviel mir bekannt ist, haben schon seine Eltern für uns gearbeitet.
- C) Ich verstehe nicht, weshalb Sie ohne ersichtlichen Grund gekündigt haben.
- D) Ich entnehme Ihrem Antrag, dass Sie in eine andere Abteilung verlegt werden möchten.
- E) Kennen Sie Frau Aydoğan von der Verpackungsabteilung unserer Fabrik?

35. Frau Kozlu:

– **Ich arbeite im Kundendienst einer Firma, wo ich die Reklamationen von Kunden entgegennehme.**

Frau Peker:

– ----

Frau Kozlu:

– **So kann man es auch ausdrücken. Die Arbeit macht mir Freude, wenn sie auch nicht immer einfach ist.**

Frau Peker:

– **Das glaube ich Ihnen. Sie müssen immer freundlich sein und dürfen nie ungeduldig werden.**

- A) Ich bin mir sicher, dass Sie von dieser Kundin regelmäßig angerufen werden.
- B) Sie haben also stets mit Menschen zu tun, die sich über die Waren beschweren.
- C) Dann kann er zu Ihnen kommen, Sie per Telefon erreichen oder einen Brief schreiben.
- D) Eigentlich bin ich mit den Waren dieser Firma zufrieden.
- E) Sie sollte sich um Kunden kümmern, die sich über die Produkte informieren möchten.

36. Herr Sabuncu:  
 – **Warum haben Sie sich denn so sehr verspätet? Sie hätten schon vor einer halben Stunde hier sein sollen.**

Herr Türker:

- **Entschuldigen Sie bitte. Die Hauptstraße ist aufgrund Straßenarbeiten gesperrt worden.**

Herr Sabuncu:

– ----

Herr Türker:

- **Ich habe einen Umweg gemacht. Ich bin hinter dem Einkaufszentrum in eine Einbahnstraße eingebogen und so hierher gefahren.**

- A) Wissen Sie, worum es sich dabei handelt?  
 B) Haben Sie eine Ahnung, wie lange er dauern wird?  
 C) Welche Strecke haben Sie denn benutzt?  
 D) Habe ich Ihnen nicht gesagt, dass sie heute Nachmittag kommen wird?  
 E) Haben Sie schon mit jemandem über ihn gesprochen?

**37. - 40. sorularda, boş bırakılan yere, parçada anlam bütünlüğünü sağlamak için getirilebilecek cümleyi bulunuz.**

37. **Die Angst der Deutschen vor Preissteigerungen ist mit 76% so groß wie seit rund 20 Jahren nicht mehr. Nach einer Umfrage stellen für mehr als drei Viertel aller Verbraucher die steigenden Lebenserhaltungskosten die allergrößte Sorge dar. ---- Mehr als die Hälfte der Befragten befürchtet eine schlechtere Wirtschaftslage. Ganz oben steht weiter die Furcht vor Naturkatastrophen. Auch drohende Pflegebedürftigkeit, die nicht bezahlt werden kann, zählt zu den zunehmenden Ängsten der deutschen Bevölkerung.**

- A) Dies ist der höchste Wert seit Beginn der Erhebungen 1991.  
 B) Die Rettungshubschrauber trafen aber viel später ein.  
 C) Die Vertreter der Mitgliedsländer der Europäischen Union verließen das Gebäude.  
 D) Er wies auf die Zunahme der Computerkriminalität hin.  
 E) Sie hätten erhebliche Missverständnisse zur Folge gehabt.

38. **Heute leben rund vier Milliarden Menschen auf der Erde und diese Zahl wächst ständig an. Im Hinblick auf diese Tatsache sucht man schon heute nach Methoden, um den voraussehbaren Anstieg des Nahrungsmittelbedarfs decken zu können. ---- Auch die Rohstoffressourcen werden bald erschöpft sein. Deswegen ist die Suche nach alternativen Energiequellen zu einer Aufgabe geworden, mit der sich weltweit viele Forscher beschäftigen.**

- A) Er fragte sich, weshalb nichts gegen die Armut in diesem Land unternommen wird.  
 B) Die Ernährungsfrage ist jedoch nicht das einzige Problem, das es zu lösen gilt.  
 C) Aus diesem Grund sollte man sich erst nach den Öffnungszeiten erkundigen.  
 D) Seitdem ist das Rauchen in öffentlichen Räumen untersagt.  
 E) Noch immer forscht man nach einem effektiven Mittel gegen diese Krankheiten.

39. In den Wäldern wachsen annähernd 6000 verschiedene Pilzarten. Der Großteil von ihnen ist vom Geschmack her ungenießbar. ---- Von diesen essbaren Pilzen abgesehen gibt es aber auch viele giftige Arten, unter denen es eine wenn auch geringe Anzahl von Exemplaren gibt, deren Verzehr für den Menschen tödlich sein kann. Daher sollte der Sammler nur die Pilze einstecken, die er wirklich kennt und deren giftige Doppelgänger er identifizieren kann.

- A) Diese Beschäftigung hat in den bewaldeten Gebieten eine sehr lange Tradition.
- B) Sie ist aufgrund ihrer roten Farbe und den weißen Flecken leicht zu erkennen
- C) Am besten wächst sie an schattigen Stellen mit feuchtem Boden.
- D) Es gibt lediglich 100 Arten, welche als Speisepilz in Frage kommen.
- E) Sie wurde früher von Kindern gesammelt, getrocknet und bei Bedarf auch zermahlen.

40. Heute ist fast jeder zehnte in Deutschland auf finanzielle Hilfe des Staates angewiesen. Wie das Statistische Bundesamt mitteilte, erhielten rund 8,3 Millionen Menschen Transferleistungen der sozialen Mindestsicherungssysteme. ---- Zur sozialen Mindestsicherung zählen Arbeitslosengeld, Sozialhilfe, Leistungen für Asylbewerber und Kriegsofopferfürsorge. Die Statistik wurde erstmals im September 2008 veröffentlicht.

- A) Es handelt sich dabei um die Staatsoberhäupter der Mitgliedsländer.
- B) Sie hat ihr ganzes Vermögen in diesen Betrieb investiert.
- C) Die Zinsen waren aber dennoch höher als sonst.
- D) Das neue Währungssystem hatte aber auch viele Nachteile.
- E) Dies kostete den Staat insgesamt 45,6 Milliarden Euro.

41. - 46. sorularda, verilen Almanca cümleye anlamca en yakın Türkçe cümleyi, Türkçe cümleye anlamca en yakın Almanca cümleyi bulunuz.

41. Viele Firmen aus verschiedenen Ländern stellen auf dieser Messe ihre neuen Produkte vor.

- A) Birçok ülkeden gelen şirket temsilcileri fuarda sergilenen yeni ürünlerle ilgilendi.
- B) Fuara katılan şirketlerin tanıttıkları ürünlerin çoğu başka ülkelerde üretilmektedir.
- C) Bu fuarda tanıtılan yeni ürünler, değişik ülkelerden gelen birçok şirketin ilgisini çekti.
- D) Bu fuarda değişik ülkelerden birçok şirket yeni ürünlerini tanıtmaktadır.
- E) Birçok şirket, değişik ülkeleri tanıtmayı hedefleyen fuarda yeni ürünlerle öne çıkmaya çalıştı.

42. Forschungen haben gezeigt, dass das Fernsehen die Entwicklung von sozialen Beziehungen innerhalb der Familie erschwert.

- A) Araştırmalar, televizyonun aile içindeki sosyal ilişkilerin gelişmesini zorlaştırdığını gösterdi.
- B) Yapılan araştırmalara dayanarak aile içindeki sosyal ilişkilerin gelişiminin televizyondan etkilendiği söylenebilir.
- C) Televizyonun aile içindeki sosyal ilişkilerin gelişimi üzerindeki etkisi araştırıldı.
- D) Araştırmalara göre aile içindeki sosyal ilişkiler televizyonun etkisiyle değişime uğramıştır.
- E) Aile içindeki sosyal ilişkilerin gelişmesini konu alan araştırmalar televizyonun olumsuz etkilerini ortaya çıkardı.

**43. Bei der letzten Besprechung wurde beschlossen, die Visum-Pflicht zwischen den beiden Ländern aufzuheben.**

- A) Görüşmelerden sonra iki ülke arasındaki zorunlu vize uygulamasına son verildi.
- B) İki ülke arasında yapılan görüşmeler vize zorunluluğunun kaldırılmasıyla ilgiliydi.
- C) Son görüşmede iki ülke arasındaki vize zorunluluğunun kaldırılmasına karar verildi.
- D) Bu iki ülke arasındaki zorunlu vize uygulamasını konu alan görüşme nihayet sonuçlandı.
- E) Son görüşmelerde sadece iki ülke vize zorunluluğunun kaldırılmasından yana oy kullandı.

**44. Uzmanların görüşüne göre benzin fiyatları daha da artacak.**

- A) Experten versuchen zu erklären, weshalb die Benzinpreise ansteigen.
- B) Experten äußerten sich zu der Behauptung, dass die Benzinpreise steigen werden.
- C) Der Experte behielt mit seiner Meinung, die Benzinpreise würden weiter ansteigen, Recht.
- D) Die Experten äußerten sich nur vorsichtig über die steigenden Benzinpreise.
- E) Nach Ansicht von Experten werden die Benzinpreise noch weiter ansteigen.

**45. Müzayede öncesinde ünlü sanatçıların çeşitli eserleri sergilendi.**

- A) Vor Beginn der Versteigerung sollen die verschiedenen Werke des Künstlers geschätzt werden.
- B) Vor der Versteigerung wurden verschiedene Werke berühmter Künstler ausgestellt.
- C) Die verschiedenen Werke der berühmten Künstler sollen ausgestellt werden, bis die Versteigerung beginnt.
- D) Viele berühmte Künstler nahmen an der Versteigerung der verschiedenen Werke teil.
- E) Die Werke, welche der berühmte Künstler während der Versteigerung erworben hat, sollen ausgestellt werden.

**46. İklim değişikliğinin olumsuz etkileri, içme suyu kaynakları için de bir tehdit oluşturuyor.**

- A) Die negativen Auswirkungen des Klimawandels bilden auch eine Bedrohung für die Trinkwasservorkommen.
- B) Wegen seiner umfangreichen Auswirkungen stellt der Klimawandel für die Trinkwasservorkommen eine Gefahr dar.
- C) Die Entwicklung des Klimawandels zeigt, dass auch die Trinkwasservorkommen von ihm beeinträchtigt werden können.
- D) Die Trinkwasservorkommen sind auch durch die Auswirkungen des Klimawandels gefährdet.
- E) Die Gefahren, welche vom Klimawandel ausgehen, betreffen auch die Trinkwasservorkommen.

**47. - 50. sorularda, cümleler sırasıyla okunduğunda parçanın anlam bütünlüğünü bozan cümleyi bulunuz.**

47. (I) In den kommenden Jahren plant China den Bau von etwa 100 neuen Flughäfen, um dem Bedarf nach Landeplätzen zu entsprechen. (II) Die Luftfahrt-Behörde will so ihr Ziel erreichen, dass 80% aller Chinesen in maximal 100 km Entfernung einen Flughafen vorfinden. (III) Das Programm kostet insgesamt umgerechnet 43 Milliarden Euro. (IV) Das Land erwartet bis 2020 jährlich einen Zuwachs im Flugverkehr von mehr als 11%. (V) Solche Bedienungsfehler und Mängel der Konstruktion können zu einem Defekt führen, dessen Folgen nicht abzusehen sind.
- A) I      B) II      C) III      D) IV      E) V
48. (I) Vieles weist darauf hin, dass die Wikinger noch vor Columbus Amerika erreichten und sich dort niederließen. (II) Als Beweis dafür sprechen verschiedene Ortsnamen und auch eine Reihe von archäologischen Funden. (III) Sie erläutert nur die Abläufe, ist jedoch nicht dazu befugt, aktiv bei Entscheidungen mitzuwirken. (IV) Man nimmt an, dass Columbus im Besitz einer von Wikingern stammenden Karte war. (V) So kann man zu dem Schluss kommen, dass es die Wikinger waren, die Amerika entdeckten, nicht Columbus.
- A) I      B) II      C) III      D) IV      E) V
49. (I) Die Sonne hat, wie jeder andere Stern auch, eine begrenzte Lebenszeit. (II) Dieses astronomische Entfernungsmaß bezeichnet die Strecke, die das Licht in einem Jahr zurücklegt. (III) Wissenschaftler sagen voraus, dass sie mit der Zeit unausweichlich schwächer wird und sich dabei immer weiter ausdehnt. (IV) Je größer sie im Laufe dieses Prozesses wird und je geringer der Abstand zur Erde, desto mehr wird sich die Erde erwärmen. (V) Dies wird das Leben auf der Erde beenden, ein Vorgang der jedoch noch Millionen von Jahren in Anspruch nehmen wird.
- A) I      B) II      C) III      D) IV      E) V
50. (I) Die Rückkehr vieler in Deutschland geborener Türken der zweiten oder dritten Generation in die Türkei steht mittlerweile nicht mehr zur Debatte. (II) Mehr als zwei Drittel von befragten Türken haben nicht die Absicht, zurückzukehren. (III) Je jünger die Befragten sind und je länger sie in Deutschland leben, umso geringer wird der Anteil derjenigen, die eine Rückkehr in Betracht ziehen. (IV) Ein Blick in die Anwesenheitsliste wird zeigen, ob sie die Vorlesung besucht hat. (V) Die Arbeitsmigranten der ersten Generation fühlen sich noch am stärksten mit der Türkei verbunden.
- A) I      B) II      C) III      D) IV      E) V

1. Bu testte 50 soru vardır.

2. Cevap kâğıdında, sınav yabancı dilinizi (FRANSIZCA) işaretlemeyi unutmayınız.

1. - 11. sorularda, cümlede boş bırakılan yerlere uygun düşen sözcük ya da ifadeyi bulunuz.

1. Les données génétiques humaines jouent un rôle de plus en plus ---- dans nos vies.

- A) graduel B) parallèle  
C) fictif D) important  
E) optimum

2. ---- de la production industrielle est souvent le premier signe de rétablissement, après des mois de déclin.

- A) Le placement B) L'augmentation  
C) La formation D) La ressource  
E) L'examen

3. Le cancer est une maladie ---- complexe.

- A) populairement B) communément  
C) extrêmement D) momentanément  
E) informatiquement

4. Il est aujourd'hui évident que les nouvelles technologies ---- la diffusion de l'information.

- A) améliorent B) gardent  
C) cherchent D) découvrent  
E) révèlent

5. Les États-Unis ---- plus gros producteurs, consommateurs, exportateurs et importateurs de produits agricoles de base dans le monde.

- A) sont au courant de B) mettent au jour  
C) tiennent compte de D) ont du mal à  
E) font partie des

6. La "mondialisation" est un terme souvent utilisé ---- décrire l'augmentation des échanges internationaux de connaissances, de ressources, de biens et de services.

- A) sur B) pour C) en  
D) dans E) par



7. Le commerce s'est considérablement développé ---- 50 dernières années, aussi bien en termes de valeur que de volume.

- A) au cours de                      B) au lieu des  
C) sur le point de                D) à condition de  
E) loin des

8. Les biotechnologies offrent des solutions techniques qui permettent de résoudre bien des problèmes de santé et de ressources ---- le monde est confronté.

- A) sur laquelle                    B) par lesquelles  
C) auxquels                      D) dont  
E) qui

9. Il a fallu près de 40 ans ---- l'électricité remplace complètement la vapeur dans les usines, après avoir démontré sa supériorité évidente.

- A) de peur que                    B) alors que  
C) bien que                        D) à mesure que  
E) pour que

10. Avant même les premières observations de Galilée avec sa lunette, les astronomes ---- de donner des noms aux grandes formations lunaires.

- A) auraient entrepris            B) avaient entrepris  
C) auront entrepris              D) entreprendraient  
E) entreprendront

11. En 2030, la population mondiale ---- quelque 8,3 milliards d'individus.

- A) comptera                        B) compte  
C) a compté                        D) aura compté  
E) comptait

**12. - 16. sorularda, aşağıdaki parçada numaralanmış yerlere uygun düşen sözcük ya da ifadeyi bulunuz.**

La sécurité alimentaire, la promotion d'un environnement durable et la lutte contre la pauvreté, phénomènes (12)---- liés, posent des défis de taille à tous les acteurs du développement œuvrant en gestion des ressources (13)----. Certes, la lutte contre la pauvreté nécessite une croissance économique soutenue, mais encore faut-il s'assurer que les pauvres (14)---- profitent. Des efforts doivent aussi être consentis pour (15)---- la sécurité alimentaire, non seulement en augmentant la productivité, mais également en créant les conditions nécessaires (16)---- les plus pauvres aient accès à ces ressources et puissent les utiliser de façon adéquate.

12.

- A) contrairement      B) paradoxalement  
C) littérairement      D) étroitement  
E) récemment

13.

- A) complémentaires      B) seules  
C) naturelles      D) dépendantes  
E) moyennes

14.

- A) les      B) en      C) lui      D) la      E) le

15.

- A) chercher      B) découvrir  
C) disparaître      D) naître  
E) accroître

16.

- A) pour que      B) autant que  
C) quoique      D) si bien que  
E) avant que

17. - 24. sorularda, verilen cümleyi uygun şekilde tamamlayan ifadeyi bulunuz.

17. ----, il arrive que les structures traditionnelles ne parviennent pas à suivre le rythme de ces changements.

- A) Puisque des progrès importants ont été réalisés dans le domaine du développement humain
- B) Pour que la proportion de femmes qui travaillent se soit accrue régulièrement
- C) Lorsque les sociétés vivent des changements profonds
- D) Parce que dans le domaine de l'éducation, les disparités entre les femmes et les hommes ne sont pas très importantes
- E) Alors que la production de nourriture représente une autre priorité essentielle

18. La croissance économique n'est une bonne chose que ----.

- A) si elle se traduit par une amélioration des conditions de vie
- B) car elle a été le plus puissant moteur de réduction de la pauvreté
- C) même si elle a créé de l'emploi et accru les salaires réels
- D) mais les relations entre croissance économique et questions sociales sont complexes
- E) au fur et à mesure qu'elle a continué à baisser dans le Sud

19. Si les œuvres d'anciens écrivains arabes ou grecs évoquaient l'Égypte, ----.

- A) "l'Égypte est un don du Nil", a écrit l'historien grec Hérodote
- B) la connaissance de la civilisation égyptienne est un fait récent
- C) après la mort de Ramsès II, l'Égypte vit une période de décadence
- D) pendant cinq siècles, la civilisation égyptienne connaît un prodigieux développement
- E) l'unité égyptienne est à nouveau restaurée par les pharaons de la XI<sup>e</sup> à la XIV<sup>e</sup> dynastie

20. ----, mais elles commencent seulement à prendre conscience que le climat dépend à son tour de leurs actions.

- A) Le changement climatique fait peser de graves menaces sur le développement humain
- B) Les limites des écosystèmes dues au climat affecteront d'abord les animaux
- C) La dégradation des sols, la déforestation et les gaz à effet de serre modifient les conditions climatiques
- D) Les questions soulevées par le climat sont intrinsèquement liées au développement
- E) Les sociétés ont toujours été dépendantes du climat

21. ----, tandis que les États-Unis, elles, possèdent des ressources hydrauliques moindres, mais les exploitent beaucoup plus.

- A) Gérer une crise hydrologique dans une économie en forte croissance n'est pas facile
- B) À travers le monde, près d'1,4 milliard de personnes vivent dans des bassins hydrologiques
- C) Les infrastructures hydrauliques sont capitales pour réduire l'imprévisibilité et modérer les risques
- D) Certains pays détiennent un énorme potentiel hydroélectrique inexploité
- E) L'interdépendance hydrologique n'est pas une notion abstraite

22. Le changement climatique se poursuivra inévitablement, ----.

- A) mais il menace de réduire la productivité céréalière
- B) car elle est une réalité à laquelle les nations et les populations doivent s'adapter
- C) de sorte qu'il imposera à l'humanité des contraintes physiques et économiques
- D) pourtant le changement climatique intensifiera la mousson asiatique et l'effet El Niño
- E) même si elle entraînera une diminution du ruissellement dans de nombreuses régions

23. Les élèves immigrés et leurs parents ont du mal à s'adapter à la nouvelle vie scolaire ----.

- A) parce que leur culture est différente de celle du pays d'accueil
- B) car le nombre des immigrants en situation irrégulière est de l'ordre de 15 à 30 millions pour le monde entier
- C) de sorte que les États-Unis accueillent davantage d'immigrants que tout autre pays au monde
- D) cependant les pays industrialisés dressent de plus en plus d'obstacles à l'immigration
- E) pourtant les immigrants clandestins sont généralement victimes de discrimination

24. Bien que les microbes soient les organismes les plus nombreux et les plus répandus sur la terre, ----.

- A) ils provoquent la maladie dans certaines conditions spécifiques
- B) la microbiologie est la science qui traite des organismes microscopiques
- C) leur écologie reste encore très mystérieuse jusqu'à nos jours
- D) ils comprennent des bactéries, des algues, des champignons, des protozoaires
- E) les micro-organismes n'entraînent pas nécessairement une infection

**25. - 27. soruları aşağıdaki parçaya göre cevaplayınız.**

La demande énergétique et l'accès à l'énergie resteront de grands défis mondiaux. Malgré le recours croissant aux énergies renouvelables et aux sources d'énergie à faible émission de carbone, les combustibles fossiles fourniront encore une large part de l'énergie. Il pourrait y avoir conflit avec les mesures prises pour traiter le changement climatique, phénomène dont on estime qu'il renforcera l'intensité des tempêtes, des sécheresses et des vagues de chaleur; modifiera les régimes pluviométriques; et provoquera une élévation graduelle du niveau moyen des mers. Ces facteurs climatiques, accompagnés de la pollution et de contraintes croissantes quant aux ressources en eau potable, renforceront, à moyen terme au moins, la satisfaction de la demande de produits alimentaires pour l'homme et l'animal, de fibres et d'énergie. L'éventuelle signature d'un accord planétaire équitable sur le changement climatique n'empêchera pas l'apparition de défis écologiques qui en fait nécessitent de nouvelles solutions innovantes.

**25. Même si les énergies renouvelables sont de plus en plus utilisées, ----.**

- A) ces types d'énergie sont plus rentables que les autres
- B) l'énergie solaire possède le meilleur potentiel en tant qu'énergie renouvelable
- C) les recherches dans ce domaine ne sont pas suffisantes
- D) les consommateurs ne sont pas encore convaincus de leur efficacité
- E) cela n'entraîne pas la diminution de l'utilisation des énergies fossiles

**26. Dans ce texte, la sécheresse, les tempêtes et les vagues de chaleur ----.**

- A) contribuent à ralentir les investissements dans les énergies renouvelables
- B) affectent en priorité les pays pauvres
- C) sont mises en avant comme les conséquences du changement climatique
- D) pourraient être atténuées par des mesures préventives plus efficaces
- E) restent des phénomènes très marginaux dans le monde

**27. Étant donné que les problèmes écologiques nécessitent des solutions nouvelles, une entente internationale serait ----.**

- A) riche
- B) sévère
- C) incontrôlable
- D) insuffisante
- E) populaire

**28. - 30. soruları aşağıdaki parçaya göre cevaplayınız.**

Après l'envolée des prix du pétrole durant la crise des années 1970, le Brésil, les États-Unis et plusieurs pays d'Europe se sont lancés dans la production intensive de bioéthanol afin de remplacer l'essence. Le bioéthanol est un alcool produit par la fermentation de matières telles que la canne à sucre et l'amidon du maïs. Le Brésil produit aujourd'hui 60% de l'ensemble de l'éthanol à base de canne à sucre. Bien que la production de bioéthanol soit dérivée d'une ressource renouvelable, elle pose toutefois des problèmes délicats pour l'environnement. Un exemple: la technologie mise en œuvre pour fabriquer du bioéthanol donne des sous-produits toxiques. Le bioéthanol est également grand consommateur de terres arables. En mai dernier, la Namibie a envisagé de ne pas renouveler ses concessions à des investisseurs étrangers pour la production de biocombustibles dans les régions de Kavango et de Caprivi, car les plantations de jatropha y mettraient en péril les cultures vivrières.

**28. D'après ce texte, dans les années 1970, la crise pétrolière ----.**

- A) est la conséquence directe de la guerre froide
- B) a eu pour effet de restreindre dramatiquement la consommation de pétrole
- C) s'est propagé à des secteurs de l'économie
- D) a poussé certains pays à investir dans des énergies alternatives
- E) aurait pu être évitée par des mesures simples

**29. Contrairement à ce qu'on pensait, le bioéthanol ----.**

- A) reste l'alternative première aux énergies fossiles
- B) nécessite des équipements très complexes
- C) est très peu utilisé par les pays qui en ont le plus besoin
- D) est rentable pour les pays qui y ont fortement investi
- E) n'est pas une substance complètement inoffensive pour l'environnement

**30. L'intitulé de ce texte pourrait être: ----**

- A) Bioéthanol: bon ou mauvais?
- B) Les deux crises pétrolières
- C) Les différentes énergies renouvelables
- D) Un pays émergent: le Brésil
- E) La hausse des prix du pétrole

**31. - 33. soruları aşağıdaki parçaya göre cevaplayınız.**

Le bassin de l'Amazonie abrite, sur plus de 5 millions de km<sup>2</sup>, le plus vaste espace continu de forêt tropicale de toute la Terre. Elle réunit, selon certaines estimations, un cinquième de toutes les espèces végétales et animales de la planète. De la forêt originelle, on pense que 20% ont déjà été éclaircis, essentiellement au bénéfice de l'agriculture. Malgré le ralentissement de la déforestation, de nouvelles parcelles sont constamment livrées à l'exploitation. Sur la base des estimations de la valeur moyenne des émissions des gaz à effet de serre, les scientifiques ont prévu que la température de l'Amazonie s'élèvera de 1,8 à 5,1 °C, si de vastes espaces forestiers laissent place au maquis et à la savane. L'impact du changement climatique sur les plantes et les animaux de l'Amazonie n'est pas aussi évident. Jusqu'ici, les recherches ont surtout porté sur la connaissance et la prévision de l'impact sur l'écosystème forestier plutôt que sur les espèces prises individuellement.

**31. Ce texte explique que le bassin de l'Amazonie ----.**

- A) attire des millions de touristes du monde entier
- B) est l'hôte de nombreuses espèces végétales et animales
- C) représente une source inépuisable pour les scientifiques
- D) est particulièrement touchée par la pollution atmosphérique
- E) abrite encore de nombreuses populations indigènes

**32. Alors que la déforestation s'est ralentie en Amazonie, ----.**

- A) le reboisement n'est pas assez rapide
- B) cela n'a toujours pas d'impact positif sur les animaux
- C) l'exploitation de la forêt continue
- D) les efforts financiers pour y parvenir sont démesurés
- E) les groupes d'activistes écologistes restent insatisfaits

**33. Les effets des changements climatiques sur les animaux et les plantes restent incertains car les recherches scientifiques ne sont pas assez ----.**

- A) attractives
- B) controversées
- C) prévisibles
- D) ciblées
- E) productives

34. - 36. sorularda, karşılıklı konuşmanın boş bırakılan kısmını tamamlayabilecek ifadeyi bulunuz.

34. Le journaliste:  
– **Comment expliquez-vous cet étonnant sang-froid des japonais lors de la catastrophe de Fukushima?**

Le chercheur:  
– ----

Le journaliste:  
– **Peut-on parler de soumission aux événements?**

Le chercheur:  
– **Non. Quand on entend parler du “stoïcisme japonais” on pense à Sénèque. C’est une erreur. Le prétendu stoïcisme des Japonais vient de leur coexistence avec des éléments souvent déchaînés.**

- A) Si nous sommes une civilisation de la pierre, le Japon est une civilisation du bois.  
B) Non, car c’est un pays habitué à refaire le geste, à reconstruire, à rebâtir.  
C) Les japonais sont viscéralement attachés à cette terre étroite.  
D) Oui, il ne leur restait pas d’autre choix que de dormir à côté du dragon nucléaire.  
E) Les japonais, surtout les hommes sont formés, rompus à résister à supporter et à se taire.

35. Le journaliste:  
– ----

Le directeur d’une agence de tourisme:

- **On y vient pour sa beauté et sa diversité, et on y revient pour les colombiens. Ça ressemble à un dicton et pourtant c’est la vérité. Voilà une terre en partie vierge, avec de grandes espaces qui restent encore à découvrir.**

Le journaliste:

- **Quel est pour vous l’endroit le plus mystérieux?**

Le directeur d’une agence de tourisme:

- **La forêt. Elle occupe un tiers du pays. Sa permanence et son ampleur ont une influence jusque dans l’inconscient collectif. Région mystérieuse, dangereuse et convoitée.**

- A) Qu’est-ce qu’être colombien?  
B) La Colombie attire de plus en plus de visiteurs. Comment expliquez-vous cet engouement?  
C) Et quels sont les plats qui permettent de découvrir la Colombie?  
D) Quels conseils donneriez-vous à un ami en partance pour la Colombie?  
E) Qu’est-ce qui fait, selon vous, l’identité de la Colombie?



36. Charles:

- J'ai entendu dire que George cherchait à nouveau du travail!

Jean:

- Encore! Mais il disait qu'il aimait beaucoup son nouveau travail.

Charles:

- Oui c'est vrai. Mais il avait l'impression d'être sous-payé.

Jean:

- Il a raison. Mais ne sommes-nous pas tous dans la même situation?

Charles:

- ----

- A) Je sais bien. Il m'a récemment parlé de son projet de créer sa propre entreprise.
- B) Il a raison. La situation en France pour les petits salaires est très difficile.
- C) Sans doute, mais tu connais George, contrairement à nous, il ne peut s'en accommoder.
- D) Tu as raison. Je crois en effet connaître quelqu'un qui pourrait l'aider à trouver un nouveau travail.
- E) Je déteste changer de travail, il faut se réhabituer aux gens et aux méthodes de travail. Je ne sais pas comment George y arrive!

37. - 40. sorularda, boş bırakılan yere, parçada anlam bütünlüğünü sağlamak için getirilebilecek cümleyi bulunuz.

37. ---- Ils abritent aussi environ 80% de la vie sur terre, sont responsables de près de 40% de la photosynthèse planétaire, et contiennent 90% de la biomasse mondiale. Ces chiffres témoignent du vaste potentiel que recèlent les ressources océaniques et marines pour la bioéconomie. La richesse des ressources marines vivantes et leurs caractères génétiques pourraient constituer le point de départ d'innombrables nouvelles applications biotechnologiques.

- A) Un océan offre donc un espace privilégié à la la recherche de ressources génétiques naturellement utiles.
- B) Un autre caractère potentiellement utile de certaines espèces marines est leur capacité de se reproduire très rapidement.
- C) Pour que le potentiel des océans bénéficie pleinement à la bioéconomie, il convient de conserver la biodiversité.
- D) Les océans couvrent plus des deux tiers de la surface du globe et contiennent 97% de l'eau mondiale.
- E) Les biotechnologies ont aussi contribué à plusieurs outils de diagnostic pour l'aquaculture.

38. Au lendemain de la première guerre mondiale, les États-Unis ont connu une formidable croissance économique. ---- De ce fameux "jeudi noir" à la Seconde Guerre mondiale, la débâcle s'est propagée dans le monde entier. Au cours d'une récession de dix longues années, les pays les plus concernés connaîtront d'importants bouleversements sociaux et politiques.

- A) Pendant les années 1920, les États-Unis entrent dans une phase de reconstruction où l'économie connaît un certain essor.
- B) Les crises économiques rendent souvent les carences structurelles plus visibles et cela peut être une incitation à mettre en œuvre des réformes difficiles.
- C) Il en est résulté des crises économiques et budgétaires particulièrement graves dans certains pays.
- D) Au cours des années 1930, la crise s'étend progressivement au monde entier, les économies étrangères étant plus ou moins dépendantes de la puissance américaine.
- E) Personne ne s'imaginerait alors qu'une simple journée à Wall Street s'apprête à provoquer l'une des plus graves crises économiques de l'Histoire.

39. Dès ses premières applications, l'énergie nucléaire fut marquée par la dualité: nouvelle source d'énergie abondante, elle était aussi le symbole d'un immense pouvoir de destruction. Les applications civiles ne virent d'ailleurs le jour que quelques années après l'explosion de sa première bombe. Son incroyable capacité en terme de production électrique semblait alors redorer son blason, surtout lors des crises pétrolières des années 1970. ----

- A) Mais l'incident de Tchernobyl attisa les convictions des anti-nucléaires et sema le doute sur le bien fondé de son utilisation.
- B) Par ailleurs, l'énergie fossile peut être remplacée par l'énergie nucléaire, mais celle-ci présente des risques écologiques tout aussi graves.
- C) La catastrophe nucléaire au Japon représente l'arrêt du débat mondial sur l'énergie atomique.
- D) Le gouvernement allemand envisage d'éventuelles modifications de son abandon progressif de l'énergie nucléaire.
- E) Les compagnies d'électricité ont dépensé des fortunes en publicité et acheté les médias.

40. Débutant en Grande-Bretagne dès le XVIII<sup>e</sup> siècle, la première révolution industrielle provoque de grands bouleversements économiques et sociaux. ---- C'est ainsi que jusqu'en 1830, de grands mutations économiques, techniques et sociales refaçonneront la Grande-Bretagne, avant de s'étendre en Europe et aux États-Unis. Une seconde révolution industrielle aura lieu par la suite à partir de 1896.

- A) Outre le développement économique, la révolution industrielle entraîne de grands bouleversements sociaux.
- B) Cette révolution apparaît dans un contexte particulier, propice au progrès et où se développe de plus en plus l'esprit capitaliste.
- C) Cette nouvelle classe de prolétaires s'oppose à la bourgeoisie industrielle et propriétaire.
- D) Afin de maintenir la stabilité économique, les industriels inventeront de nouvelles méthodes de production et de gestion.
- E) Mais, les révolutions industrielles marquent toujours des tournants décisifs dans l'Histoire.

41. - 46. sorularda, verilen Fransızca cümleye anlamca en yakın Türkçe cümleyi, Türkçe cümleye anlamca en yakın Fransızca cümleyi bulunuz.

41. Çin'in dünya ekonomisindeki rolü, tıpkı ülkedeki yaşam seviyesi gibi daha da artacak.

- A) Même si l'importance de la Chine dans l'économie mondiale va encore s'accroître, le niveau de vie dans le pays n'augmente pas aussi rapidement.
- B) Le niveau de vie en Chine augmente aussi rapidement que son économie dont l'importance au niveau mondial ne cesse de progresser.
- C) L'importance de la Chine dans l'économie mondiale va encore s'accroître, tout comme le niveau de vie dans le pays.
- D) Étant donné que l'importance de la Chine dans l'économie mondiale va encore s'accroître, le niveau de vie dans le pays devrait également s'améliorer.
- E) Avec l'accroissement de l'importance de la Chine dans l'économie mondiale, on peut espérer une amélioration sans précédent du niveau de vie dans le pays.

42. Yeryüzünde gerçekten tehlikesiz yer nadirdir, ama bazı bölgeler doğal felaketlere diğerlerinden daha çok açıktır.

- A) Il existe des espaces exposés aux catastrophes naturelles tandis que d'autres espaces sur Terre ne connaissent pas vraiment de danger.
- B) Certaines régions sont très exposées aux catastrophes naturelles tandis que d'autres espaces sur Terre ne connaissent pas vraiment de danger.
- C) Rares sont sur Terre les espaces véritablement sans dangers, mais certaines régions sont plus exposées que d'autres aux catastrophes naturelles.
- D) Aucun espace sur Terre n'est épargné complètement par les dangers, cependant certaines régions subissent beaucoup plus de catastrophes naturelles.
- E) Si certaines régions sont plus exposées que d'autres aux catastrophes naturelles, il y a des espaces sur Terre qui sont absolument sans dangers.

43. Dünya ekonomisinin kırılganlığı ve 2010 yılında kamu bütçelerinin kısıtlanması çocukların yaşamını tehlikeye atan sayısız eksikliğe yol açmıştır.

- A) L'augmentation des déficits s'explique à la fois par la fragilité de l'économie mondiale et par la restriction des budgets publics en 2010 ce qui a eu des conséquences sur les conditions de la vie des enfants.
- B) La fragilité de l'économie mondiale et la restriction des budgets publics en 2010 ont généré de nombreux déficits qui ont mis en danger la vie des enfants.
- C) La vie des enfants a été cruellement affectée par l'accroissement des déficits en 2010 qui est le résultat d'une économie mondiale fragile et de budgets publics toujours plus maigres.
- D) Sans la restriction des budgets en 2010, la fragilité de l'économie mondiale n'aurait pas générée, seule, de si nombreux déficits responsables de mettre en danger la vie des enfants.
- E) Si les déficits se sont énormément creusés en 2010, cela tient au fait que l'économie est fragile et que les budgets publics diminuent, cependant cela a des conséquences inattendues comme de mettre en danger la vie des enfants.

**44. L'éducation et la formation professionnelles peuvent être déterminantes pour préparer les jeunes au monde du travail, améliorer les compétences des adultes et répondre aux besoins du monde du travail.**

- A) Gençleri iş dünyasına hazırlamak, yetişkinlerin becerilerini geliştirmek ve böylece iş dünyasının ihtiyaçlarını karşılamak için mesleki eğitim ve formasyona başvurulmalıdır.
- B) Mesleki eğitim ve formasyon sayesinde, gençleri iş dünyasına hazırlamak, yetişkinlerin becerilerini geliştirmek ve iş dünyasının ihtiyaçlarını karşılamak daha kolay olacaktır.
- C) Mesleki eğitim ve formasyonun, gençleri iş dünyasına hazırlamak, yetişkinlerin becerilerini geliştirmek ve iş dünyasının ihtiyaçlarını karşılamak konusundaki rolü büyüktür.
- D) Mesleki eğitim ve formasyon, gençleri iş dünyasına hazırlamak, yetişkinlerin becerilerini geliştirmek ve iş dünyasının ihtiyaçlarını karşılamak konusunda belirleyici olabilir.
- E) Gençleri iş dünyasına hazırlamak, yetişkinlerin becerilerini geliştirmek ve bu sayede iş dünyasının personel ihtiyacını karşılamak ancak söz konusu kişilerin mesleki eğitim ve formasyondan geçirilmesiyle mümkündür.

**45. L'ampleur économique que la Chine et l'Inde ont acquise influe sur les marchés mondiaux des matières premières de sorte que cette nouvelle demande renchérit les prix du pétrole et des métaux industriels.**

- A) Çin'in ve Hindistan'ın elde ettiği ekonomik büyüklük, dünya hammadde pazarlarını etkiliyor öyle ki bu yeni talep petrol ve sanayi metallerinin fiyatını artırıyor.
- B) Çin ve Hindistan ekonomik açıdan o kadar büyüdü ki dünya hammadde pazarlarında bu yeni talep yüzünden petrol ve sanayi metallerinin fiyatları çok hızlı artıyor.
- C) Dünya hammadde pazarlarında, petrol ve sanayi metallerinin fiyatlarındaki artışın en önemli nedeni Çin'in ve Hindistan'ın hızlı ekonomik büyümesidir.
- D) Çin ve Hindistan'ın son yıllardaki hızlı ekonomik büyümesi, dünya hammadde pazarlarındaki petrol ve sanayi metallerinin fiyatını çok fazla artırmıştır.
- E) Dünya hammadde pazarlarında petrol ve sanayi metallerinin fiyatları, Çin ve Hindistan'ın elde ettiği ekonomik büyüme sonucunda oldukça artmıştır.

**46. Dans un pays avec une géographie aussi accidentée que celle du Pérou, les infrastructures de transport sont considérées de longue date par le gouvernement comme un secteur stratégique.**

- A) Peru'nunki gibi engebeli bir coğrafyaya sahip bir ülkenin ulaşım altyapıları hükûmet tarafından kaçınılmaz olarak stratejik bir sektör olarak görülmektedir.
- B) Peru'nun engebeli coğrafyası, hükûmetin, uzun süreden beri, ulaşım altyapılarını stratejik bir sektör olarak görmesine yol açmıştır.
- C) Peru'nunki gibi engebeli bir coğrafyaya sahip olan bir ülkede, ulaşım altyapıları hükûmet tarafından uzun süreden beri stratejik bir sektör olarak düşünülmektedir.
- D) Peru hükûmeti, ülkenin sahip olduğu engebeli coğrafya nedeniyle ulaşım altyapılarını stratejik bir sektör olarak görmektedir.
- E) Peru'nunki gibi engebeli bir coğrafyaya sahip olan her ülkenin hükûmeti ulaşım altyapılarını stratejik bir sektör olarak görür.

**47. - 50. sorularda, cümleler sırasıyla okunduğunda parçanın anlam bütünlüğünü bozan cümleyi bulunuz.**

**47. (I)** L'espérance de vie des animaux domestiques s'allonge autant que celle de leur maître. **(II)** Mêmes causes et mêmes conséquences: meilleure alimentation, progrès de la médecine vétérinaire, et voilà chiens, chats et canaris battent des records de longévité. **(III)** En tête du peloton: les lapins. **(IV)** Les données relatives à l'espérance de vie et à la mortalité infantile soulignent bien ce problème. **(V)** Alors que la science leur accorde une durée de vie d'une dizaine d'années, il n'est pas rare qu'ils dépassent aujourd'hui les 14 ans.

- A) I      B) II      C) III      D) IV      E) V

**48. (I)** Le plus vieux cimetière du berceau de l'humanité a été découvert dans le nord de la Jordanie par une équipe internationale d'anthropologues. **(II)** Plus de 11 corps ont été exhumés de tombes garnies d'offrandes, dont l'étude a révélé des pratiques surprenantes. **(III)** Un homme a ainsi été inhumé avec un crâne de renard rougi à l'ocre prélevé dans une tombe plus ancienne. **(IV)** Ce qui témoigne d'un lien particulier avec l'animal, mais pas forcément d'une domestication. **(V)** En revanche, l'existence des cimetières daterait de plus de 16 500 ans.

- A) I      B) II      C) III      D) IV      E) V

**49. (I)** Découvert à Cuba par Christophe Colomb, le tabac fait partie des curiosités botaniques que les conquistadors ont rapportées sur le vieux continent. **(II)** Par la suite, pour développer ses arômes, le tabac a dû d'abord être soigneusement séché, processus au cours duquel la feuille subit une certaine fermentation. **(III)** Par ailleurs, la recherche du goût a conduit peu à peu à y ajouter d'autres substances: des sucres, mais aussi des épices, comme le cacao. **(IV)** On sait aujourd'hui que ces substances peuvent également avoir un effet adoucissant ou broncho-dilatateur. **(V)** Donc, le tabac, introduit en France par Jean Nicot sous François II, fut d'abord utilisé comme plante décorative et médicinale.

- A) I      B) II      C) III      D) IV      E) V

**50. (I)** Le tatouage n'est plus le privilège des hommes. **(II)** Durkheim a justement remarqué que, dans les sociétés australiennes, le tatouage constituait la seule marque visible de l'unité du clan. **(III)** Les femmes aiment désormais embellir leurs corps de tatouages qui peuvent être discrets ou au contraire très voyants. **(IV)** Certaines zones sont plus souvent choisies par les femmes: la cheville, l'épaule, les reins et l'aîne. **(V)** Les motifs restent très multiples, cela peut être un animal, une fleur, un tribal, des lettres et bien d'autres encore.

- A) I      B) II      C) III      D) IV      E) V

1. Bu testte 50 soru vardır.

2. Cevap kâğıdında, sınav yabancı dilinizi (İNGİLİZCE) işaretlemeyi unutmayınız.

1. - 11. sorularda, cümlede boş bırakılan yerlere uygun düşen sözcük ya da ifadeyi bulunuz.

1. With the growth of customer service occupations, an increasing ---- on emotional and aesthetic labour has changed the nature of many professions.

- A) expression                      B) affection  
C) emphasis                      D) decision  
E) threat

2. In a part of the world where tourism and agriculture form the economic base, the protection of ecosystems is ---- to the region's development.

- A) disposable                      B) crucial  
C) sustainable                      D) compulsive  
E) trivial

3. Modern economists are ---- using micro-economic analysis as the basis of macro-economic analysis.

- A) approximately                      B) abruptly  
C) relatively                      D) increasingly  
E) respectively

4. When a company makes the commitment to go international, it must ---- an entry strategy.

- A) separate                      B) resist  
C) damage                      D) strike  
E) choose

5. The World Trade Organization ---- the scope of trading agreements in services and investments since it began operating in the 1990s.

- A) had increased                      B) will have increased  
C) is increasing                      D) has increased  
E) was increasing

6. Although the commercial banks ultimately ---- as a link between millions of lenders and borrowers, they still ---- with other financial intermediaries to attract their deposits.

- A) have acted / would have to compete
- B) will act / had to compete
- C) would act / have had to compete
- D) are acting / had to be competing
- E) act / have to compete

7. In recent years, the world-system model has come ---- criticism ---- its static and mechanical formulation.

- A) under / for
- B) of / with
- C) into / over
- D) over / about
- E) to / within

8. Alternative energy companies benefit most ---- low-carbon technology investments, but companies in other sectors are presented ---- opportunities, too.

- A) for / through
- B) about / in
- C) from / with
- D) into / over
- E) under / for

9. Black market activity has grown as an alternative source of goods and services, ---- it is ultimately dependent in various ways on legal economic activity.

- A) though
- B) despite
- C) even
- D) now that
- E) once

10. ---- the world's auto industry has been suffering from poor sales, several carmakers are struggling to survive in the market.

- A) Whether
- B) When
- C) If
- D) As
- E) Unless

11. Compared with industrialized economies, most developing countries are poor in the essential factors of production ---- capital and skilled labour.

- A) more than
- B) either
- C) so that
- D) the most
- E) such as



**12. - 16. sorularda, aşağıdaki parçada numaralanmış yerlere uygun düşen sözcük ya da ifadeyi bulunuz.**

Naturally endowed with hydrocarbon fuels, Egypt now has the third largest gas reserves of the African continent following highly promising offshore exploration (12)----. Egypt also reached its highest-ever oil reserves (13)---- the 2009-2010 fiscal year with 18.3 billion barrels of oil. While Egypt signed oil agreements (14)---- a number of international corporations at a value of \$8 billion in 2009-2010, foreign investment in the field of oil and gas exploration reached \$16,3 billion last year. (15)----, the government (16)---- the commencement of a nuclear power plant realizing that its reserves have an expiry date.

12.

- A) images                      B) results  
C) properties                D) hardships  
E) obligations

13.

- A) during                      B) while                      C) as  
D) from                      E) through

14.

- A) for                      B) of                      C) by  
D) with                      E) from

15.

- A) Unless                      B) However  
C) Despite                      D) Whether  
E) Although

16.

- A) has announced                      B) is announcing  
C) had announced                      D) will have announced  
E) were announcing

17. - 24. sorularda, verilen cümleyi uygun şekilde tamamlayan ifadeyi bulunuz.

17. Although the Eurosystem uses mainly short-term interest rates in conducting monetary policy, ----.

- A) real appreciation of the currency will lead to problems of sustainability
- B) the eurozone countries do not have a central fiscal authority
- C) accession countries carry out the economic reforms to fulfil the Copenhagen economic criteria
- D) it is long-term interest rates that affect the economy the most
- E) Turkey should pursue a policy of maintaining the real exchange rate at around its long-term equilibrium level

18. Thanks to the development of the Internet and e-commerce, ----.

- A) the enormousness of such a task should be examined in light of rapid changes in technology
- B) certain service activities are increasingly outsourced from independent service suppliers
- C) it is crucial to distinguish between sourcing on a "contractual" basis and sourcing on an "intra-firm" basis
- D) the advantages to be gained by licensing depend on the technology, firm size, product maturity and extent of a firm's experience
- E) trade barriers keep international markets separated and permit the affiliate to operate profitably

19. In spite of the fact that some industries are far ahead of others in their use of information technology, ----.

- A) managers can gain a keener insight into whether their firms are ready for strategic information systems
- B) there are those that need to develop much more in this area
- C) such changes often involve both internal and external blurring of some organizational boundaries
- D) information systems are too important to be left to a small technical group
- E) there is a connection between the strategy of an organization and its internal structure

20. Since individual values are quite diverse, ----.

- A) we expect people to express varying value-judgements about how the world should be
- B) the world of value-judgements is the world in which individuals' preferences are at issue
- C) positive economics indicates what is, whereas normative economics considers what should be
- D) there are a number of assumptions underlying this particular production possibilities curve
- E) when resources are productive, they are typically called factors of production

**21. Financial experts argue that the current economic slowdown will intensify market concerns about ----.**

- A) when the hidden financial problems would be unearthed by the incoming administrations
- B) how weak eurozone economic data has recently hit investor sentiment throughout Europe
- C) if the leaders reiterated the idea that Greece could be granted a soft restructuring or debt "reprofiling"
- D) that debt problems in Europe and tighter monetary policy in China may hold up the global recovery
- E) whether some eurozone governments, particularly Greece, will ever be able to pay off their debts

**22. In order to stimulate economic development, many developing countries have established free-trade zones ----.**

- A) so that the governments can provide better living standards
- B) whose benefits have led to serious violations of human rights in custody
- C) where investors are given special benefits such as low or no
- D) if developed countries would compete for jobs by holding down wages
- E) taxes that they will most probably eliminate discrimination in employment

**23. We can say that the clothing industry should not take pride in using natural fibre in production when we consider ----.**

- A) where synthetic fibre should be brought into production
- B) why the government needs to take such precautions
- C) if such natural fibre clothing is preferred by consumers
- D) how much energy is used to produce natural fibre goods
- E) whether producers should move to different production centres

**24. Governments do not directly compete, ----.**

- A) but they build the platforms on which economic competition takes place
- B) because they would work with large numbers of highly-skilled fellow workers
- C) since investments in human or physical assets depend on current income
- D) though there doesn't need to be a connection between discursive practices and the systematic domination of capitalism
- E) while government research investment created the knowledge base for the industry to develop rapidly

**25. - 27. soruları aşağıdaki parçaya göre cevaplayınız.**

"Becoming the senior executive of a big company is the height of a business career." As obvious as this statement might have appeared a few years ago, it would today meet with plenty of disagreement – at least from senior executives. These days, they are under constant pressure to meet the numbers demanded by Wall Street analysts; demanding government regulators burden them with paperwork; and who wants his pay and benefits exposed in fine detail in the annual report, bringing the almost inevitable accusation that he is over-paid and under-worked? Forced with all that, no wonder more and more business school graduates are choosing alternative career paths.

**25. According to the passage, ----.**

- A) senior executives don't take care of the paper work that government regulation requires
- B) senior executives have a very easy and stress-free life
- C) senior executives felt more pressure from Wall Street analysts a few years ago
- D) becoming a senior executive of a large company is not as attractive as it used to be
- E) only a few senior executives are able to meet the demands of their work

**26. It is pointed out in the passage that ----.**

- A) senior executives don't get paid enough for all the work they have to do
- B) the salaries and extra benefits of senior executives are often examined very closely
- C) the salaries and benefits of senior executives have increased over the last few years
- D) Wall Street analysts get better salaries and benefits than senior executives
- E) senior executives could earn a better salary if they worked as government regulators

**27. One understands from the passage that ----.**

- A) young people no longer choose to go to business schools
- B) business schools need to train more people to become senior executives
- C) business graduates are looking for other careers instead of becoming senior executives
- D) becoming a senior executive is a good career choice for a young business graduate
- E) business school graduates are over-paid and under-worked

**28. - 30. soruları aşağıdaki parçaya göre cevaplayınız.**

It is as important a decision as it is difficult. The British people are being asked to make up their minds over whether or not they should get rid of their own currency – the pound, and join Europe's single currency, the euro. The decision is far more difficult for Britain than it is for other European countries. For Britain, it will mean getting rid of what is probably the oldest continuous currency in the world – if not the most stable. In its 1,200-year history, the pound sterling has fallen in value from a pound of silver to about one hundredth that amount. The British have far more historical and cultural attachment to their currency than, say, the Germans had to the Deutschmark, which was only re-established after the Second World War.

**28. According to the information given in the passage, ----.**

- A) the Germans did not feel very connected to the Deutschmark because it was re-established fairly recently
- B) the Deutschmark was the form of currency used during the Second World War
- C) the values of both the pound and the Deutschmark fell dramatically after the Second World War
- D) the Germans did not want to give up their currency, just like the British
- E) getting rid of the Deutschmark and establishing the euro was a difficult process

**29. It can be understood from the passage that ----.**

- A) the pound needs to be established as the common form of currency used in Europe
- B) the value of the pound has been the same for almost 1,200 years
- C) the pound has great historical and cultural value to the British
- D) the British care more about their history and culture than other European countries
- E) the value of silver has fallen dramatically compared to the value of the pound

**30. It is stated in the passage that ----.**

- A) the British pound is the strongest form of currency in Europe
- B) it is harder for the British than for other European countries to give up their national currency
- C) the British should join other European countries and adopt the euro
- D) it should be easy for the British to make up their minds about whether or not to use the euro
- E) the pound is an old form of currency that should be replaced by euro

**31. - 33. soruları aşağıdaki parçaya göre cevaplayınız.**

Recently, a major tobacco company sued eight American retailers for selling counterfeit versions of its cigarettes. Thanks to the rise of the Internet and extended international supply chains, and more recently, to the global economic crisis, fake goods are everywhere. Fake Porsches and Ferraris zoom along the streets of Bangkok. A German bank has discovered gold pieces made of tungsten in its reserves. NASA, America's space agency, has even unknowingly bought fake materials. Counterfeiting used to be a luxury goods problem. Now, people are trying to traffic fake items that have a wider effect on the economy such as medicines and computer parts. The shift of much of the world's manufacturing to countries with poor protection of intellectual property has provided both the technology and the opportunity to make fake products. The Internet in general, and e-commerce sites in particular, have made it easier to distribute counterfeit goods.

**31. It is pointed out in the passage that ----.**

- A) most of the world's manufacturing centres do not have the opportunity or the technology to make good fake products
- B) the protection of intellectual property is not as important as the protection of physical property
- C) e-commerce sites have made it easier to control and limit the distribution of fake products
- D) the problem of fake products has increased as the manufacturing centres of the world have moved to poorer countries
- E) fake products have increased because manufacturing centres have moved to countries that do very little to protect intellectual property

**32. It can be understood from the passage that ----.**

- A) fake products are even finding their way into agencies and institutions that have strict controls
- B) fake products are becoming more difficult to sell in developed countries
- C) agencies such as NASA want to use fake products because they are cheaper
- D) it is difficult to make fakes of certain products like medicines
- E) the production of fake computer parts is not a problem that should be taken seriously

**33. According to the passage, ----.**

- A) fake products are only a problem in Asian cities like Bangkok
- B) the global economic crisis has hurt the business of producing fakes
- C) the production of fakes is limited to luxury items such as Porsches and Ferraris
- D) most companies don't think that fake products have affected their business
- E) fake products are a major problem affecting all sectors of the economy

34. - 36. sorularda, karşılıklı konuşmanın boş bırakılan kısmını tamamlayabilecek ifadeyi bulunuz.

34. Clark:

- **I just read an interesting article in this magazine about what makes business successful.**

Sally:

- **What does it say?**

Clark:

- ----

Sally:

- **Well, that sounds very interesting. I never thought of it in that way before.**

- A) I don't know if I agree with you, because the idea sounds ridiculous.
- B) It seems that high-performance businesses use their expertise not just to serve markets, but also create them.
- C) The article is a bit difficult to explain to a person with no background in business administration.
- D) It says something about how to make a business profitable, but I don't quite understand it.
- E) It is very difficult for a large company to stay in businesses these days.

35. David:

- **Hello, Tina. How's your job hunt going?**

Tina:

- **As a matter of fact, I just got a new job. I'll be starting next week.**

David:

- ----

Tina:

- **At the African Development Bank. Their main goal is to reduce poverty and improve living standards in Africa.**

- A) How much money will you be making? It's not easy to get by these days, you know.
- B) That's okay! Keep looking. You never know what will come up.
- C) Are you sure you are ready? Working at a bank means a lot of responsibility.
- D) Congratulations! That's great news! Where will you be working?
- E) Is there anything I can do? I have friends that can help you find a good job.

36. John:

- **What do you think is the most serious threat to our children's future?**

Nicole:

- **Well, probably that there won't be enough energy. We need to develop alternatives to fossil fuels like petrol.**

John:

– ----

Nicole:

- **Probably, wind power. We need to use energy from the wind to meet our energy needs in the future.**

- A) How will that work? Are you saying we should stop using our cars?
- B) That doesn't sound right. I am afraid I disagree with you.
- C) What do you think is the best form of alternative energy?
- D) Global warming is forcing everyone to think about alternative energy.
- E) People should give up their luxurious lifestyles and use less energy.

37. - 40. sorularda, boş bırakılan yere, parçada anlam bütünlüğünü sağlamak için getirilebilecek cümleyi bulunuz.

37. China is not known for taking care of the environment. One recent World Bank report found that 16 of the world's 20 most polluted cities were in China. Another report puts the total economic cost of outdoor air and water pollution at around \$100 billion a year, or 5.8% of China's Gross Domestic product. ----

- A) But though China has now become the world's third largest manufacturer of solar panels, most are exported.
- B) By some estimates, China has now overtaken America to become the world's largest producer of greenhouse gases.
- C) Chinese investment in clean technology is on the increase according to industry experts.
- D) The Chinese government is also introducing environment targets of its own in areas such as building regulations.
- E) Japan was also a fast-growing polluted country in the 1960s.



38. Corporate globalization has been increasing since the middle of the 20<sup>th</sup> century, as successful exporters gradually put down roots in their foreign markets, to be closer to them and to save transport costs. Over time, a number of these integrated their operations into truly global companies. ---- The main beneficiaries have been India, notably in software, and China in manufacturing.

- A) Many individuals won't start businesses in foreign countries.
- B) Both countries are growing fast, and the two countries may become economic superpowers within the next 20 years.
- C) Some believe that even lower-cost outsourcing destinations like Ghana and Vietnam will become more competitive.
- D) The next phase saw Western firms moving manufacturing activities to cheaper labour markets.
- E) Like many of the ideas management has to deal with, globalization is not a new one.

39. Promotion is where marketing goes over into selling. It involves communicating all the information necessary to persuade the customer to buy the product. ---- Advertising pulls – it makes customers aware of the product and prompts them to ask for it, but it can be expensive. In a push strategy, the sales force promotes the product to wholesalers and retailers and push it through distribution channels to the end user.

- A) It was only after the Second World War that marketing began to evolve to pull in customers.
- B) Price is a flexible element, since it can be changed very quickly.
- C) A key decision will be the selection of a distribution channel.
- D) Decisions to be made here will include what the product will look like.
- E) Promotional strategies tend to be categorized as either "push" or "pull".

40. Research and experience suggest a magic maximum of 150 people – sometimes known as Dunbar's number – is the largest group with whom anyone can maintain stable relationships. British anthropologist Robin Dunbar came up with this limit having studied primates as well as prehistoric tribe and village sizes. Settlements of Hutterites traditionally split when they reach 150. ---- As a result, Gore has been highly profitable for nearly 40 years and ranks high in "best places to work" lists.

- A) Though some accuse him of stating the obvious, he has been admired by many management theorists.
- B) Gore has created an organized mechanism that makes it much easier for new ideas and information to come up.
- C) People who seem to know everyone and operate across many different social sets are known as connectors.
- D) Group conclusions are often different than those that would be reached by individuals on their own.
- E) At WL Gore Associates, when a plant has 150 people in it, the company opens a new one.

**41. - 46. sorularda, verilen İngilizce cümleye anlamca en yakın Türkçe cümleyi, Türkçe cümleye anlamca en yakın İngilizce cümleyi bulunuz.**

**41. Some countries have stopped the import of milk, vegetable and fruit from areas near the earthquake-damaged nuclear power plant in Japan.**

- A) Bazı ülkeler Japonya'da depremde zarar gören nükleer santral yakınındaki bölgelerden süt, sebze ve meyve ithalatını durdurdu.
- B) Bazı ülkelerin, Japonya'da depremde zarar gören nükleer santral yakınındaki bölgelerden süt, sebze ve meyve ithalatını durduracağı söyleniyor.
- C) Bazı ülkelerde süt, sebze ve meyve ithalatı, bunlar Japonya'da depremde zarar gören nükleer santral yakınından getirildiği için durduruldu.
- D) Bazı ülkeler Japonya'da depremde zarar gören nükleer santral yakınındaki bölgelerde üretilen süt, sebze ve meyvelerin ithalatına sınırlama getirdi.
- E) Bazı ülkeler Japonya'dan gelen süt, sebze ve meyvelerin, yurda sokulmasını nükleer santral yakınında üretildiği gerekçesiyle durdurdu.

**42. Even if domestically produced goods are more expensive than imports, purchases carried out by leading firms should be directed towards them.**

- A) Önde gelen firmaların alımlarında pahalı ithal malları seçmek yerine yerli mallara yoğunlaşmaları gerekmektedir.
- B) Öncü şirketlerce satılan mallar, ithal mallardan daha pahalı olsalar bile büyük ölçüde yerli mallardan oluşmalıdır.
- C) İthal mallar daha pahalı olduğunda, tanınmış şirketler tarafından gerçekleştirilen alımlar yerli mallara doğru yönlendirilmelidir.
- D) Yerli mallar ithal mallardan daha pahalı olsalar bile, önde gelen şirketler tarafından gerçekleştirilen alımlar bunlara yönlendirilmelidir.
- E) Tanınan şirketler tarafından gerçekleştirilen alımlarda yerli mallar daha pahalı olsa bile ithal mallara göre daha çok tercih edilirler.

**43. In addition to personal consumption expenditures, goods and services are also purchased by local and central governments.**

- A) Yerel ve merkezî hükûmetlerce yapılan mal ve hizmet alımına kişisel tüketim masrafları da dâhildir.
- B) Yerel ve merkezî hükûmetlerin, tüketim masrafları dışında mal ve hizmet alımına yönelik harcamaları da vardır.
- C) Kişisel tüketim masraflarına ek olarak, yerel ve merkezî hükûmetlerce mal ve hizmetler de satın alınır.
- D) Mal ve hizmetler, yerel ve merkezî hükûmetlerce satın alınırken kişisel tüketim masrafları da göz önünde bulundurulmalıdır.
- E) Kişisel tüketim masrafları, yerel ve merkezî hükûmetlerin yaptığı mal ve hizmet alımlarının içindedir.

**44. 19. yüzyılın ortasında, Latin Amerika ülkeleri aldıkları borçların geri ödemesiyle başa çıkamadılar ve bu evrensel bir ekonomik krizi ateşledi.**

- A) Latin American countries took out so many loans that a global financial crisis broke out when they were not able to pay them back in the 19th century.
- B) During the middle of the 19th century, Latin American countries couldn't manage to pay back the loans they had taken out and this led to a financial crisis.
- C) None of the Latin American countries could repay the loans they took out in the middle of the 19th century, which caused a financial crisis worldwide.
- D) In the middle of the 19th century, Latin American countries suffered a financial crisis resulting from their inability in repaying the loans they took out before.
- E) In the middle of the 19th century, Latin American countries were not able to cope with the repayment of the loans they had taken out and this sparked a universal financial crisis.

45. İç mali piyasalar her nerede serbestleştirilirse, zayıf kredi kuruluşları bollaşır.

- A) Weak credit institutions appear in certain places through which domestic financial markets are liberalized.
- B) If domestic financial markets are liberalized, weak credit institutions abound around them.
- C) Wherever domestic financial markets are liberalized, weak credit institutions abound.
- D) Domestic financial markets are liberalized everywhere and weak credit institutions appear around them.
- E) Weak credit institutions abound everywhere after domestic financial markets are liberalized.

46. Birçoğu dünya gelir skalasının sonunda olsa da, Afrika ülkeleri son zamanlarda bazı gelişmiş ülkelerden daha fazla büyüdüler.

- A) Even if some of them are at the bottom of the world income scale, African countries have lately grown as much as developed countries.
- B) Although most are at the bottom of the world income scale, African countries have recently grown more than some developed countries.
- C) African countries are currently growing faster than some developed countries although they are at the bottom of the world income scale.
- D) African countries have surpassed developed countries in terms of growth rate even though they are at the bottom of the world income scale.
- E) Nowadays, developed countries are puzzled by the growth of African countries although they rank at the bottom of the world income scale.

47. - 50. sorularda, cümleler sırasıyla okunduğunda parçanın anlam bütünlüğünü bozan cümleyi bulunuz.

47. (I) The easiest way to appreciate the importance of money is to imagine what economic life would be without it. (II) We are so accustomed to using money that we seldom notice the roles it plays in almost all of our everyday transactions. (III) The most important function of money is to serve as a medium of exchange, a generally accepted means of payment. (IV) Currency and bank deposits on which checks may be written certainly qualify as money. (V) In addition to its primary function, it serves as a unit of account, that is, as a widely recognized measure of value.

A) I      B) II      C) III      D) IV      E) V

48. (I) The Asian financial crisis is generally considered to have started in July 1997, with the devaluation of the Thai baht. (II) Thailand had been showing signs of financial strain for more than a year. (III) During 1996, it became apparent that too many office towers had been built; first the nation's real estate market, then its stock market, went into decline. (IV) In the first half of 1997, speculation about a possible devaluation led to a remarkable loss of foreign exchange reserves and on July 2nd, the country attempted a controlled 15% devaluation. (V) Together with Thailand, Malaysia and South Korea were feeling the effects of economic slowdown in their largest industrial neighbour, Japan.

A) I      B) II      C) III      D) IV      E) V

49. (I) In most of the larger EU countries, labour markets are subject to high government employment taxes and other regulations that prevent labour mobility between industries and regions. (II) The result has been persistently high levels of unemployment. (III) The large-scale expansion of the EU raises numerous challenges for the union, but some of them have obvious implications for the Economic and Monetary Union Project. (IV) Unless labour markets become more flexible, individual eurozone countries will have difficult time adjusting to changing economic conditions. (V) It is also plausible that workers in different eurozone countries will press for wage harmonization to reduce migration of capital and lessen unemployment.

A) I      B) II      C) III      D) IV      E) V

50. (I) Accounting is an information system that measures business activity, processes the data into reports and conveys the results to decision makers. (II) Thus, accounting is the language of business. (III) The better you understand the language of business, the better you can manage your own business. (IV) For example, to decide whether or not to borrow money for your business, you need to consider your income and whether you will be able to pay back the loan. (V) Otherwise, companies use accounting information to set annual goals and measure progress toward these goals.

A) I      B) II      C) III      D) IV      E) V

**2011 MALİYE BAKANLIĞI**  
**İÇ DENETÇİ ADAY BELİRLEME SINAVI**

18 EYLÜL 2011

**GENEL YETENEK VE GENEL KÜLTÜR TESTİ**

- |       |       |       |
|-------|-------|-------|
| 1. E  | 21. D | 41. B |
| 2. D  | 22. C | 42. B |
| 3. A  | 23. D | 43. E |
| 4. C  | 24. A | 44. D |
| 5. D  | 25. B | 45. C |
| 6. D  | 26. D | 46. B |
| 7. D  | 27. E | 47. A |
| 8. B  | 28. D | 48. D |
| 9. A  | 29. B | 49. B |
| 10. C | 30. E | 50. B |
| 11. E | 31. D | 51. C |
| 12. D | 32. A | 52. B |
| 13. A | 33. C | 53. E |
| 14. B | 34. B | 54. B |
| 15. C | 35. A | 55. C |
| 16. C | 36. E | 56. C |
| 17. B | 37. B | 57. A |
| 18. E | 38. E | 58. D |
| 19. C | 39. C | 59. C |
| 20. A | 40. A | 60. E |

**2011 MALİYE BAKANLIĞI**  
**İÇ DENETÇİ ADAY BELİRLEME SINAVI**

18 EYLÜL 2011

**ALAN BİLGİSİ TESTİ**

- |       |       |
|-------|-------|
| 1. C  | 16. C |
| 2. D  | 17. B |
| 3. B  | 18. D |
| 4. E  | 19. B |
| 5. A  | 20. A |
| 6. B  | 21. E |
| 7. C  | 22. C |
| 8. D  | 23. D |
| 9. E  | 24. A |
| 10. A | 25. C |
| 11. B | 26. E |
| 12. A | 27. A |
| 13. C | 28. C |
| 14. E | 29. A |
| 15. D | 30. B |

**2011 MALİYE BAKANLIĞI**  
**İÇ DENETÇİ ADAY BELİRLEME SINAVI**

18 EYLÜL 2011

**YABANCI DİL SINAVI**

**ALMANCA**

- |       |       |
|-------|-------|
| 1. B  | 26. C |
| 2. E  | 27. A |
| 3. C  | 28. D |
| 4. A  | 29. B |
| 5. D  | 30. C |
| 6. A  | 31. A |
| 7. E  | 32. A |
| 8. C  | 33. D |
| 9. B  | 34. E |
| 10. E | 35. B |
| 11. E | 36. C |
| 12. A | 37. A |
| 13. D | 38. B |
| 14. E | 39. D |
| 15. B | 40. E |
| 16. D | 41. D |
| 17. C | 42. A |
| 18. A | 43. C |
| 19. C | 44. E |
| 20. E | 45. B |
| 21. D | 46. A |
| 22. B | 47. E |
| 23. A | 48. C |
| 24. B | 49. B |
| 25. E | 50. D |

**2011 MALİYE BAKANLIĞI**  
**İÇ DENETÇİ ADAY BELİRLEME SINAVI**

18 EYLÜL 2011

**YABANCI DİL SINAVI**

**FRANSIZCA**

- |       |       |
|-------|-------|
| 1. D  | 26. C |
| 2. B  | 27. D |
| 3. C  | 28. D |
| 4. A  | 29. E |
| 5. E  | 30. A |
| 6. B  | 31. B |
| 7. A  | 32. C |
| 8. C  | 33. D |
| 9. E  | 34. E |
| 10. B | 35. B |
| 11. A | 36. C |
| 12. D | 37. D |
| 13. C | 38. E |
| 14. B | 39. A |
| 15. E | 40. B |
| 16. A | 41. C |
| 17. C | 42. C |
| 18. A | 43. B |
| 19. B | 44. D |
| 20. E | 45. A |
| 21. D | 46. C |
| 22. C | 47. D |
| 23. A | 48. E |
| 24. C | 49. E |
| 25. E | 50. B |



**2011 MALİYE BAKANLIĞI  
İÇ DENETÇİ ADAY BELİRLEME SINAVI**

18 EYLÜL 2011

**YABANCI DİL SINAVI**

**İNGİLİZCE**

- |       |       |
|-------|-------|
| 1. C  | 26. B |
| 2. B  | 27. C |
| 3. D  | 28. A |
| 4. E  | 29. C |
| 5. D  | 30. B |
| 6. E  | 31. E |
| 7. A  | 32. A |
| 8. C  | 33. E |
| 9. A  | 34. B |
| 10. D | 35. D |
| 11. E | 36. C |
| 12. B | 37. B |
| 13. A | 38. D |
| 14. D | 39. E |
| 15. B | 40. E |
| 16. A | 41. A |
| 17. D | 42. D |
| 18. B | 43. C |
| 19. B | 44. E |
| 20. A | 45. C |
| 21. E | 46. B |
| 22. C | 47. D |
| 23. D | 48. E |
| 24. A | 49. C |
| 25. D | 50. E |