

## MATEMATİK ETKİNLİKLERİ

Adı Soyadı:.....

23.11.2010

1.  $A = 0,7$   $B = 11,4$   $C = 1,78$  ise  $(A + B) - C$  işleminin sonucu kaçtır?  
A) 10,48 B) 10,23 C) 10,32 D) 10,4

2. Özge'nin kaleminin boyu 0,19 m, Tuğçe'nin kaleminin boyu 0,17 m'dir. Özge'nin kalemi Tuğçe'nin kaleminden kaç m uzundur?  
A) 0,2 B) 0,02 C) 0,20 D) 2

3.  $m + 2,71 + 0,4$  işleminin sonucu 4 olduğuna göre "m" ondalık kesri kaçtır?  
A) 1,25 B) 0,27 C) 0,89 D) 1,45

- 
4.  $(0,73 - \frac{3}{20})$  işleminin sonucu aşağıdakilerden hangisidir?  
A) 0,88 B) 0,68 C) 0,48 D) 0,58

5. Bir çıkarma işleminde, eksilenle çıkanın toplamı 14,28 dir. Çıkan 5,98 olduğuna göre fark kaçtır?  
A) 8,3 B) 2,32 C) 11,96 D) 6,71

6. Her biri bir öncekinden 1,7 fazla olan 3 sayının toplamı 47,1 ise küçük sayı kaçtır?  
A) 14 B) 14,7 C) 15 D) 15,7

7.  $0,4 + 0,02 = ?$  toplamı aşağıdakilerden hangisine eşittir?

- A)  $\frac{42}{500}$  B)  $\frac{41}{300}$  C)  $\frac{21}{100}$  D)  $\frac{21}{50}$

8.  $A = 0,12$   
 $B = \frac{2}{10}$  olduğuna göre,  $B - A = ?$

- A)  $\frac{8}{100}$  B)  $\frac{8}{10}$  C) 0,4 D) 0,04

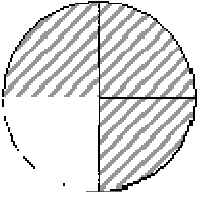
9. Buğra'nın annesi Buğra'dan 0,08 m uzun babasından 0,1 m daha kısadır. Buğra'nın boyu 1,64 m ise babasının boyu kaç m'dir?  
A) 1,83 B) 1,82 C) 1,73 D) 1,72

10. 
$$\begin{array}{r} 0,271 \\ 0,a \\ 0,cca \\ + \\ d,b10 \\ \hline \end{array}$$
 Yandaki toplama işlemine göre  $a + b + c + d$  kaçtır?

- A) 18 B) 16 C) 14 D) 12

11. 0,28 ondalık kesrinin % sembolü ile yazılışı aşağıdakilerden hangisidir?  
A) %28 B) %82 C) %128 D) %280

12.



Yandaki şekilde taralı alanın yüzde sembolü ile gösterimi hangisidir?

A) %3

B) %25

C) %50

D) %75

13.  $\frac{4}{25}$  kesri aşağıdakilerden hangisine eşittir?


A) %4

B) %25

C) %16

D) %29

14.



Yukarıdaki şeklin taralı alanın ifade eden ondalık kesrin % sembolü ile yazılışı aşağıdakilerden hangisidir?

A) %60

B) %52

C) %40

D) %38

15. Aşağıdakilerden hangisinin yüzde sembolü ile gösterimi yanlıştır?


A)  $\frac{8}{25} = \%32$

B)  $\frac{7}{10} = \%17$

C)  $\frac{1}{5} = \%20$

D)  $0,46 = \%46$

16. Bardağın yüzde kaç su doludur?



A) %4

B) %50

C) %25

D) %1

17. Hangisinin yüzde sembolü ile gösterilişi %38 biçimindedir?

A) 1,38

B)  $\frac{19}{50}$

C) 0,19

D)  $\frac{38}{50}$

18. I.  $0,04 = \%4$ 

II.  $\frac{9}{10} = \%90$

III.  $\%36 = \frac{36}{100}$

IV.  $\frac{75}{100} = \%7,5$

Yandaki eşitliklerden hangileri doğrudur?

A) II, III ve IV

B) I, II ve III

C) I, II, III ve IV

D) I, III ve IV

19.  $\frac{21}{300}$ 'ün yüzde sembolü ile gösterilişi aşağıdakilerden hangisidir?

A) %7

B) %14

C) %21

D) %321