



ÇAKABEY OKULLARI

Tarih:25/05/ 2011

SINIF	DERS	ÖDEV
4C	MATEMATİK	ÜÇGEN- KARE- DİKDÖRTGEN VE ÇEVRE TESTİ SAYFA: 6-7-8

24)

Dikdörtgen biçimindeki bir tarlanın etrafına 3 sıra tel çekilecektir. Tarlanın kısa kenarı, uzun kenarından 15 m eksiktir.

Buna göre kısa kenarı 27 m olan tarla için kaç metre tel gereklidir?

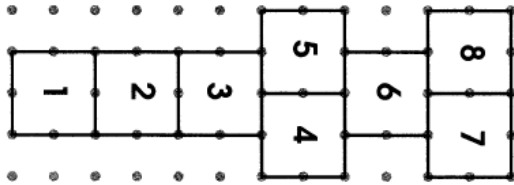
A. 414

B. 406

C. 276

D. 138

25)



Yukarıdaki sek sek oyunu eş karelerden oluşmuştur. Tüm şeklin çevresi 72 cm ise 1 numaralı karenin çevresi kaç cm'dir?

A) 12

B) 14

C) 16

D) 18

26)

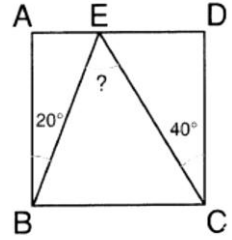
Şekildeki ABCD

karesinde

$s(\widehat{DCE}) = 40^\circ$

ve $s(\widehat{ABE}) = 20^\circ$ ise

$s(\widehat{BEC})$ kaç derecedir?



A) 50

B) 60

C) 70

D) 80

27)

Uzun kenarı kısa kenarının 2 katına eşit olan bir dikdörtgenin çevresi 36 cm ise kısa kenar kaç cm'dir?

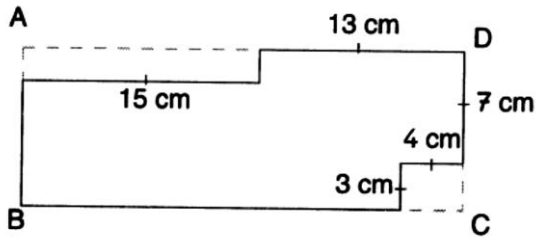
A) 3

B) 6

C) 9

D) 12


28)



Verilenlere göre ABCD dikdörtgeninin çevresi kaç santimetredir?

- A. 76
- B. 82
- C. 90
- D. 94

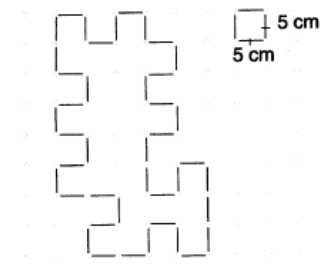
29)



ABCD dikdörtgeninin çevresi 96 cm ise IBCI kaç santimetredir?

- A. 34
- B. 35
- C. 40
- D. 42

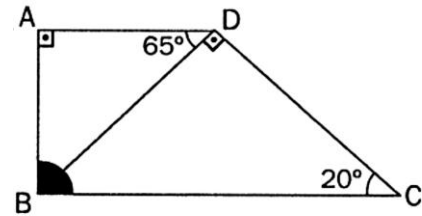
30)



Eşit aralıktaki noktalardan oluşan zemin üzerindeki şeklin çevresi kaç santimetredir?

- A. 190
- B. 195
- C. 205
- D. 210

31)



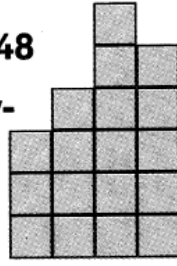
Yukarıdaki şekilde verilenlere göre $\angle ABC$ kaç derecedir?

- A) 75
- B) 95
- C) 105
- D) 110

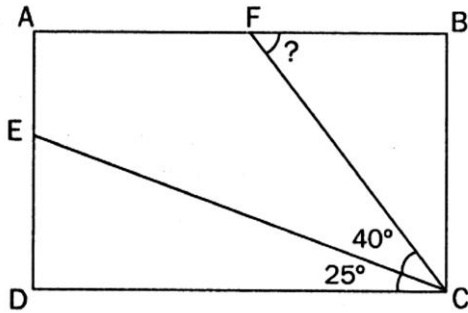
32)

Bir birim karenin çevresi 48 cm ise yandaki şeklin çevresi kaç santimetredir?

- A. 12 B. 192
C. 240 D. 864



33)

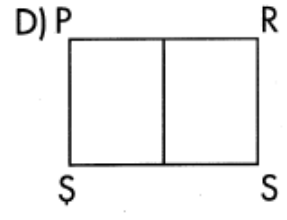
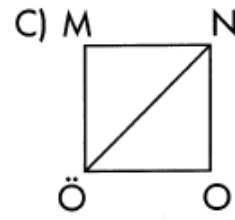
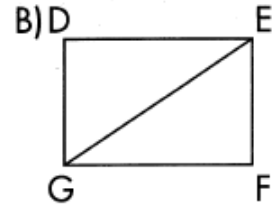
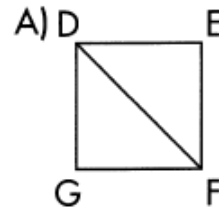


Şekildeki ABCD dikdörtgeninde, $s(\widehat{DCE}) = 25^\circ$ ve $s(\widehat{ECF}) = 40^\circ$ ise $s(\widehat{BFC})$ kaç derecedir?

- A) 25 B) 40 C) 65 D) 50

34)

Aşağıdaki geometrik şekillerden hangisinin köşegeni yanlış çizilmiştir?



35)

Dikdörtgen şeklindeki bir voleybol sahasının kısa kenarı 9 m, uzun kenarı kısa kenarının 2 katıdır. Bu voleybol sahasının çevresi kaç m'dir?

- A) 18 B) 27 C) 54 D) 68

