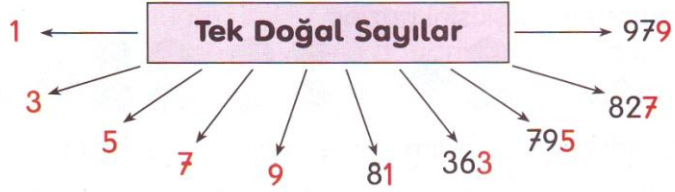
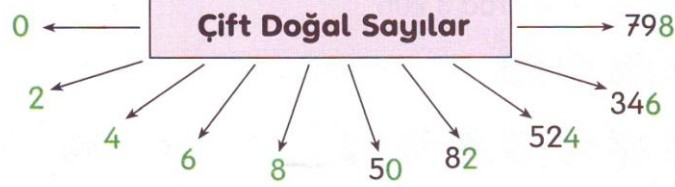


TEK VE ÇİFT DOĞAL SAYILAR



Birler basamağında 1, 3, 5, 7 ve 9 rakamlarından biri olan sayılara, **tek doğal sayılar** denir.




Birler basamağında 0, 2, 4, 6 ve 8 rakamlarından biri olan sayılara, **çift doğal sayılar** denir.

Çift olan doğal sayıların karşısına **çift**, tek olanların karşısına **tek** yazınız.

6 →	62 →	210 →	999 →
5 →	97 →	563 →	144 →
7 →	70 →	417 →	200 →
0 →	23 →	586 →	791 →
2 →	69 →	900 →	810 →
9 →	48 →	743 →	555 →
4 →	86 →	651 →	888 →
3 →	91 →	503 →	447 →
1 →	52 →	796 →	376 →
8 →	78 →	340 →	801 →
	92 →	216 →	688 →
		417 →	

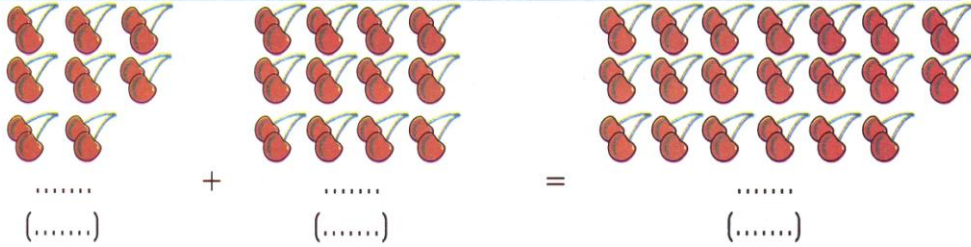
Çift sayıları kırmızı, tek sayıları yeşil renge boyayınız.




Tek ve çift doğal sayıların toplamları ve farkları ile ilgili kuralları belirten tümceyi tamamlayalım.



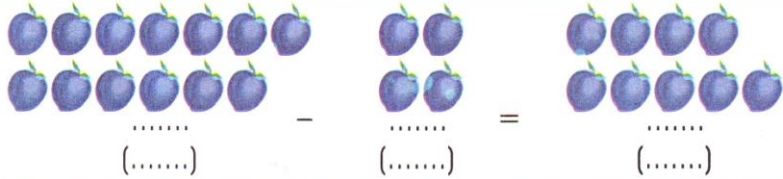
Tek doğal sayı ile tek doğal sayının toplamı doğal sayıdır.



..... doğal sayı ile doğal sayının toplamı doğal sayıdır.



..... doğal sayı ile doğal sayının toplamı doğal sayıdır.



..... doğal sayı ile doğal sayının farkı doğal sayıdır.



..... doğal sayı ile doğal sayının farkı doğal sayıdır.

$$18 - 8 = \dots\dots$$

(.....) (.....) (.....)

..... doğal sayı ile doğal sayının farkı doğal sayıdır.

Aşağıdaki doğal sayılardan, tek olanların karşısına "T", çift olanların karşısına "Ç" yazınız.

2 → Ç

5 → T

1 → T

2 → Ç

6 →

8 →

10 →

13 →

15 →

17 →

18 →

20 →

115 →

120 →

121 →

181 →

190 →

172 →

161 →

109 →

106 →

100 →

4 →

7 →

9 →

12 →

14 →

16 →

50 →

61 →

63 →

65 →

62 →

64 →

101 →

122 →

129 →

135 →

145 →

150 →