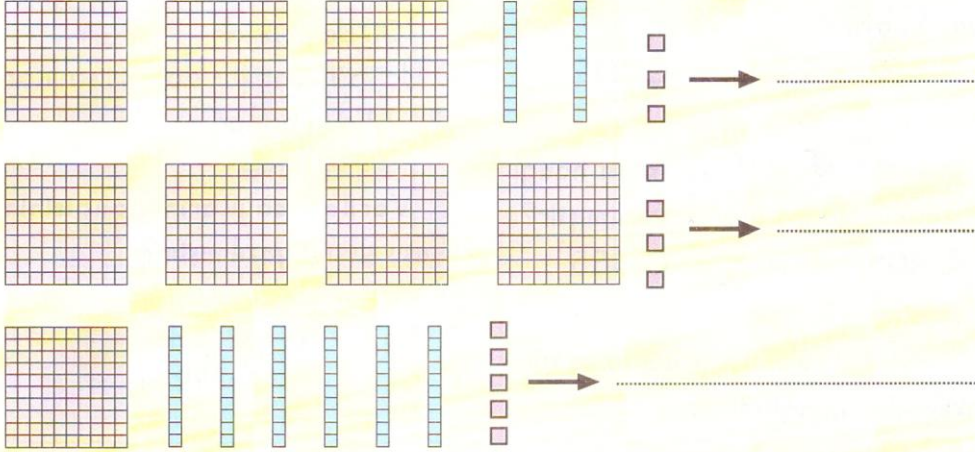
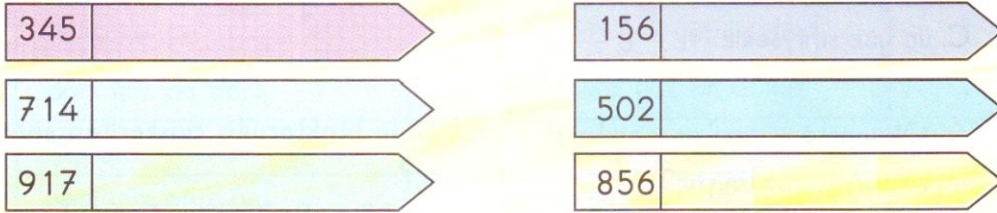



1. Aşağıda taban blokları ile modellenen sayıları yazınız.



2. Aşağıdaki sayıların okunuşlarını yazınız.



3. Aşağıdaki okunuşları yazılı sayıların içine yazınız.



Taban bloklarıyla gösterilen sayı kaçtır?

- A. 102 B. 112 C. 212

2. Dört yüz elli beş sayısı hangi seçenekte doğru olarak verilmiştir?

- A. 405 B. 445 C. 455

3. 308 sayısının okunuşu aşağıdakilerden hangisidir?

- A. üç yüz sekiz  
B. üç yüz on sekiz  
C. üç yüz sıfır sekiz

4. Okunuşları verilen sayılardan hangisi doğru yazılmıştır?

- A. iki yüz on yedi = 207  
B. iki yüz yirmi iki = 222  
C. iki yüz beş = 255

5. Okunuşu "yedi yüz otuz iki" olan sayı hangisidir?


- A. 702 B. 730 C. 732

6. Verilen ifadelerden hangisi yanlıştır?

- A. Üç basamaklı doğal sayılar üç rakamla yazılır.  
B. Üç basamaklı doğal sayılar 100'den başlar.  
C. Üç basamaklı doğal sayılar 111'den başlar.

7. Verilen sayıların hangisinin okunuşu yanlış yazılmıştır?

- A. 403 = dört yüz üç  
B. 587 = beş yüz yedi  
C. 642 = altı yüz kırk iki



Taban bloklarıyla gösterilen sayı kaçtır?

- A. 333 B. 313 C. 303

9. "918" sayısındaki 8 ve 9 rakamı yer değiştirirse yeni sayının okunuşu aşağıdakilerden hangisi olur?

- A. sekiz yüz on dokuz  
B. sekiz yüz dokuz  
C. sekiz yüz doksan bir





## ÜÇ BASAMAKLI DOĞAL SAYILARIN YAZILMASI VE OKUNMASI

Adı: ..... Soyadı: .....  
Sınıfı: ..... Nu.: ..... Tarih: .../.../...



1. Aşağıdaki tabloda gösterilen sayıları ve okunuşlarını yazınız.

Yüzlük	Onluk	Birlik	Sayı	Okunuşu

2. Aşağıdaki okunuşları verilen sayıları yazınız.

iki yüz elli altı		sekiz yüz yetmiş dört	
dört yüz on dört		dokuz yüz on dokuz	
beş yüz bir		yüz altmış beş	
yedi yüz otuz beş		üç yüz kırk sekiz	
altı yüz altı		beş yüz elli beş	

3. Tablodaki sayıların okunuşlarını yazınız.

165		972	
224		304	
703		799	
856		806	
563		294	

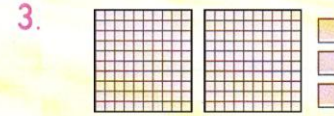
## 2. ÜNİTE ÜÇ BASAMAKLI DOĞAL SAYILARIN YAZILMASI VE OKUNMASI 28. GÜN

1. 170 sayısının okunuşu aşağıdakilerden hangisidir?

- A. yüz yetmiş
- B. yüz yedi
- C. yüz on yedi

2. "Dokuz yüz yirmi iki" sayısının yazılışı hangi seçenekte verilmiştir?

- A. 902 B. 912 C. 922



Yukarıdaki taban bloklarıyla gösterilen sayı kaçtır?

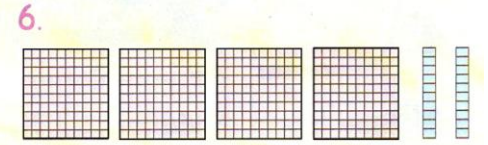
- A. 223 B. 213 C. 203

4. Verilen sayılardan hangisinin okunuşu yanlış yazılmıştır?

- A. 541 = beş yüz kırk bir
- B. 409 = dört yüz sıfır dokuz
- C. 207 = iki yüz yedi

5. Okunuşları verilen sayılardan hangisi doğru yazılmıştır?

- A. yüz on dört = 104
- B. iki yüz on bir = 211
- C. altı yüz sekiz = 680



Yukarıdaki taban bloklarıyla gösterilen sayı kaçtır?

- A. 402 B. 412 C. 420

7. Verilen sayıların hangisinin okunuşu doğru yazılmıştır?

- A. 360 = üç yüz altmış
- B. 471 = dört yüz on yedi
- C. 618 = altı yüz sekiz

8.



"375" sayısındaki 3 ve 5 rakamları yer değiştirse oluşan sayının okunuşu nasıl olur?

- A. beş yüz otuz yedi
- B. üç yüz elli yedi
- C. beş yüz yetmiş üç

9. "294" sayısındaki 2 ve 9 rakamları yer değiştirirse oluşan sayının okunuşu nasıl olur?

- A. iki yüz kırk dokuz
- B. dokuz yüz yirmi dört
- C. dokuz yüz kırk iki