

KÜÇÜK NAZLI

Nazlı ailesi ile birlikte küçük bir kasabada yaşıyordu. Kasabayı ve arkadaşlarını çok seviyordu. Bu yıl ikinci sınıfa başlamıştı. Nazlı, okulda başarılı, arkadaşlarıyla iyi geçinen evinde ise planlı, tertipli ve düzenli çalışan bir çocuktur. Okuldan gelince akli hep ev ödevlerinde oluyordu. Bu ödevlerin ne kadar gerekli olduğunu farkındaydı. Bu yüzden, bazı arkadaşlarına çok zor gelen ev ödevleri Nazlı için çok eğlenceliydi.



Nazlı, yine bir gün okuldan eve geldi.

Üzerini çıkardı. Ellerini yıkayıp, yemeğini yedikten sonra ödevlerini yapmaya başladı.

Dışarıda oyunlar oynayan arkadaşlarının seslerini duyuyordu. Dışarıdaki çocukların oynadıkları oyunlar Nazlı'nın da çok hoşuna gitmişti. Ödevlerini acele bir şekilde yapıp onların yanına gitti. Nazlı, artık ödevlerini

hızlıca yapıp oyun oynamak için arkadaşlarının

yanına gitmeye başlamıştı. Zamanla bazı ödevlerini aksatmaya hatta hiç yapmamaya başlamıştı.

Aşağıda verilen ilk 5 soruyu parçaya göre cevaplayınız.



SORU-1: Nazlı nerede yaşıyordu?

SORU-2: Nazlı önceleri nasıl bir çocuktur?

SORU-3: Nazlı için önceleri ödevlerini yapmak niçin çok eğlenceliydi?

SORU-4: Nazlı ödevlerini **neden** aksatmaya başladı?

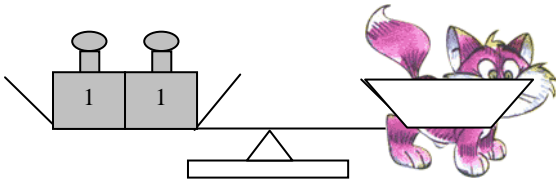
SORU-5: Sence bu hikâyenin sonunda neler olmuş olabilir? Anlatınız.

SORU-6: Aşağıda verilen kelimeleri iki farklı anlamada cümle içinde kullanınız.

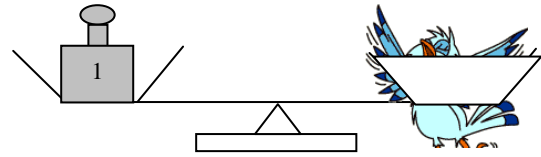
kız	

at	

SORU-7: Aşağıdaki tartma sonuçlarını açıklayınız.



Kedikilogramdır.




Kuş.....kilogramdır.

SORU-8: Aşağıda verilen işlemlerin sonuçlarını tahmini hesaplayınız.

$$\begin{array}{r} 48 \\ +23 \\ \hline \end{array} \quad \begin{array}{c} \longrightarrow \\ \longrightarrow \end{array} \quad \begin{array}{c} \\ + \\ \hline \end{array}$$

Tahmini sonucu bulunur.



$$\begin{array}{r} 42 \longrightarrow \\ +27 \longrightarrow \\ \hline \end{array} \quad \begin{array}{r} \dots \\ + \dots \\ \hline \end{array}$$

Tahmini sonucu bulunur.

SORU-9: Aşağıda verilen dört işlemi yapınız.

$$\begin{array}{r} 77 \\ + 26 \\ \hline \end{array}$$

$$\begin{array}{r} 45 \\ - 27 \\ \hline \end{array}$$

$$\begin{array}{r} 7 \\ \times 5 \\ \hline \end{array}$$

$$10 : 5 =$$

SORU-10: Aşağıda verilen saatlerin okunuşlarını altlarına yazarmısınız?



_____ : _____



_____ : _____



öğleden sonra

gece vakti

SORU-11: Aşağıda boş bırakılan yerleri uygun ay adlarını yazınız.

K I Ş	
	OCAK
	ŞUBAT

Y A Z	HAZİRAN
	TEMMUZ

İ L K B A H A R	MART
	MAYIS

S O N B A H A R	
	EKİM
	KASIM

SORU-12: Bir kümeste toplam 42 hayvan vardır. Bu hayvanlardan 29' u tavuk geriye kalanları ise tavşandır. Bu kümeste kaç tavşan vardır?