



ADI-SOYADI:

Konularımızı tekrar edelim, unutmayalım

2.SINIF
MATEMATİK



Aşağıdaki saatlerin öğleden önce kaç gösterdiği verilmiştir. Siz de **öğleden sonra kaç** gösterdiğini belirtiniz.




10.30

01.30

08.30


22.30



05.30

06.15

07.15



Aşağıdaki kapların her birine üçer bardak su koyuluyor. Hangisinin **su seviyesi daha yüksek** olur? İşaretleyiniz.

kova

sürahi


damacana



Aşağıdaki şekillerin simetrisini çizerek tamamlayınız.



Aşağıdaki şekillerin **boyalı kısımlarının** neyi anlattığını kesir ifadesi olarak yazınız.




Aşağıdaki çocukların boylarının uzunluklarını inceleyiniz. **En uzundan en kısaya doğru** sıralayınız.

Murat

Aylin

Tahsin



1 m 15 cm



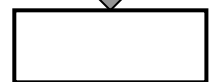
89 cm



135 cm

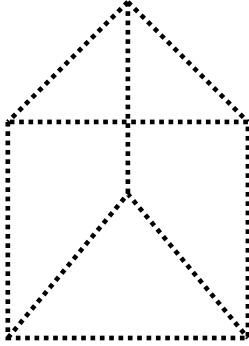



Aşağıdaki kumbaralarda kaç lira var? Altlarına yazınız.






Aşağıdaki geometrik cisimlerin köşelerini kırmızı ile, ayrıtlarını mavi ile, yüzeylerini sarı ile belirtiniz.



Saat 06.30' da evden işe gitmek için yola çıkan bir işçi, **bir buçuk saat sonra** iş yerine ulaştığında saat kaç olur?



Bir aile günde 4 sürahi içme suyu tüketmektedir. Bir sürahi 7 bardak olduğuna göre bu aile **üç günde** kaç bardak su tüketiyor?



Eda' nın boyu 1 metre 38 santimetre, Yeliz' in boyu 1 metre 45 santimetredir. **Yeliz, Eda' dan kaç cm daha uzundur?**



Eda



Yeliz



Babam kilosu 3 TL olan muzdan 4 kilogram, kilosu 2 TL olan portakaldan 6 kilogram alarak pazardan eve döndü. **Babam meyveler için toplam kaç TL ödemiştir?**



24 cevizin **çeyreği** kaç ceviz eder?



Aysu 24 kilogram Adem ise ondan 3 kilogram daha ağırdır. **İkisinin toplam kütlesi kaç kilogramdır?**



Aşağıdaki geometrik şekillerin köşelerini kırmızı ile, kenarlarını mavi ile belirtiniz.

