

CUMHURİYET İLKÖĞRETİM OKULU 2-A SINIFI
MATEMATİK TESTİ

Adı :
Soyadı :
Numarası :

SORULAR

1- 60'tan başlayıp ileriye doğru üçer üçer sayarken beşinci olarak hangi sayıyı söyleriz?

- a) 72 b) 75 c) 78

2- 35 sayısından bir önce ve bir sonra gelen sayıların toplamı kaçtır?

- a) 60 b) 65 c) 70

3- 9 onluk, 6 birlikten oluşan sayının 11 eksiği kaçtır?

- a) 75 b) 80 c) 85

4- 80'in $\frac{1}{10}$ 'u, 20'nin $\frac{1}{2}$ 'sinden kaç eksiktir?

- a) 2 b) 3 c) 4


5- 80'in yarısının 3 katı kaçtır?

- a) 90 b) 100 c) 120

6- 30 kuzunun ayak sayısı 30 ördeğin ayak sayısından kaç fazladır?

- a) 40 b) 50 c) 60

7- Aşağıdakilerden hangisi bir düzine değildir?



8) 4 – 6 – 10 – 16- 24 - □ sayı dizisinde □ bulunan yere hangi sayı gelmelidir?

- a) 34 b) 32 c) 30

9-36 sayısında onlar basamağı ile birler basamağındaki rakamlar yer değiştirilirse sayı ne kadar artar?

- a) 24 b) 27 c) 36

10-Bir çıkarma işleminde çıkan 65 , fark ise 27'dir.Eksilen sayı kaçtır?

- a) 92 b) 82 c) 38

11-Aşağıdakilerden hangisi litre ile ölçülür?

- 1.süt 2.ayçiçeği yağı 3.margarin
a) 1 ve 3 b) 1 ve 2 c) 2 ve 3

12-20 litrelik bar teneke zeytinyağının yarısının 3 litre eksiği satıldı. Satılan yağ kaç litredir?

- a) 13 b) 10 c) 7

13-5 saatte 3 litre gaz yağı yakan bir gaz sobası 15 saatte kaç litre gaz yağı yakar?

- a) 9 b) 12 c) 15

14-Bir sütçü, 20 kişiye ikişer litre, 36 kişiye de birer litre süt sattı.Sütçü bir günde kaç litre süt satmış oldu?

- a)56 b) 76 c) 112

15-Bir bölme işleminde bölüm 8, bölen 4'tür.Bölünen sayı kaçtır?

- a) 2 b) 12 c) 32

16-6 düzine kalemin önce 6 destesini sonra da 12 tanesini satan kırtasiyecinin elinde kaç kalem kalır?

- a) 0 b) 12 c) 24

17-Sınıftaki öğrenciler yedişerli kümeler ayrılınca 6 küme oluyor ve 3 öğrenci artıyor.Sınıfta kaç öğrenci vardır?

- a) 39 b) 42 c) 45

18-Otobüsteki 38 yolcunun 11'i durakta indi. Aynı duraktan 16 yolcu da bindi.Otobüste kaç yolcu oldu?

- a) 33 b) 43 c) 53

19-Bir tabakta 56 fındık, fındıkların yarısı kadar da ceviz vardır. Tabaktaki fındık ve cevizlerin toplamı kaç tanedir?

- a) 28 b) 74 c) 84

20- 70 sayfalık öykü kitabından her gün beş sayfa okuyan bir öğrenci , kitabı kaç günde bitirir?

- a) 12 b) 14 c) 16

21- 48 kişilik bir sınıf fidan dikmeye gidiyor. Her üç öğrenci bir fidan diktiğine göre bu sınıfın diktiği fidan sayısı kaçtır?

- a) 14 b) 15 c) 16

22- Sınıftaki öğrenciler sıralara ikişer oturunca 4 öğrenci ayakta kalıyor.Sınıfta 17 sıra olduğuna göre sınıf mevcudu kaçtır?

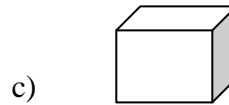
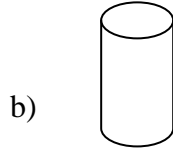
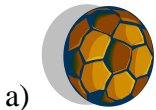
- a) 38 b) 34 c) 30

23- **-Yüzeyleri yuvarlaktır** **-Ayrıtı yoktur** **-Köşesi yoktur**

Küre ile ilgili yukarıdaki bililerden kaç doğrudur?

- a) 3 b) 2 c) 1

24- Aşağıdaki varlıklardan hangisi silindire benzer?



25 – Aşağıdaki varlıklardan hangisi küreye benzer?

