

CUMHURİYET İLKÖĞRETİM OKULU 2-A SINIFI
MATEMATİK TESTİ

Adı :
Soyadı :
Numarası :

SORULAR


1- Ağaca en yakın varlık hangisidir?



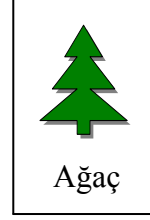
Araba



Kadın



Top




Ağaç

a)Araba

b)Top

c)Kadın

2- Aşağıdaki varlıklardan en yüksekte olanı hangisidir?



a)Kabak

b)Uçurtma

c)Uçak

3- $72 - 75 - 78 - 81 - \square - 87$... şeklinde sıralanan saymada \square yerine hangi sayı gelmelidir?

a) 84

b)80

c)83

4- $21 - 25 - 29 - 33 - 37 - ? - 45$... şeklinde sıralanan saymada ? işareti yerine hangi sayı gelmelidir?

a) 38

b)40

c)41

5- Bir koşuda Fatma üçüncü, Ayten ikinci, Asım ise birinci gelmiştir.Buna göre aşağıdaki sıralamalardan hangisi doğrudur?

a) 2.Ayten, 1.Asım , 3.Fatma

b) 1.Asım , 2.Ayten , 3.Fatma

c) 3.Fatma , 1.Asım , 2.Ayten

6- $\frac{1}{4}$ kesrinde bir parçanın kaç eşit parçaya ayrıldığını gösteren sayı hangisidir?

a) 1

b) 6

c)4

7- Şekildeki taralı kısmı gösteren kesir sayısı aşağıdakilerden hangisidir?

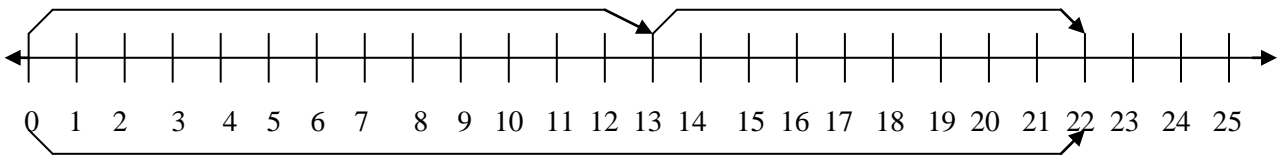


a) $\frac{1}{2}$

b) $\frac{2}{4}$

c) $\frac{2}{2}$

8-Aşağıdaki sayı doğrusunda verilen işlemin matematik cümlesi olarak yazılışı hangisidir?



a) $12+9=21$

b) $13+9=22$

c) $22-9=13$

9- Aşağıdaki sayı dizisinde ? işareti yerine hangi sayı gelmelidir?

15 18 22 27 ? 40

a) 29

b) 33

c) 37

9-Toplamları 47 olan iki sayıdan küçüğü 7' dir. Büyük sayı kaçtır?

a) 14

b)40


54

10-Birinci kutuda 23 kaşık, ikinci kutuda ise birinci kutudan 18 fazla kaşık vardır.İkinci kutudaki kaşık sayısı nedir?

a) 41

b)15

c) 51

11-  Şekildeki taranmış kısmı gösteren kesir hangisidir?

a) $\frac{2}{2}$

b) $\frac{1}{2}$

c) $\frac{1}{3}$

12-Didem 18 cevizi iki arkadaşına bölüştürdü. Kaçar ceviz düşer?

a) 9

b) 16

c) 20

13- Öğretmenimiz sınıftaki 9 erkek öğrenciye 4'er tane çizgi çizdirdi. Kaç çizgi çizilmiştir?

a) 13

b) 36

c)28

14-Ayşe 12 yaşındadır. Ablası Ayşe'nin yaşının yarısından 8 yaş fazladır.Ablası kaç yaşındadır?

a) 20

b) 16

c)14

15- 28 elma 4 arkadaşla bölüştürülürse kaçar elma düşer?

a) 7

b)8

c)9

16 –Benim 12 bilyem vardır. Kardeşimin bilyesi benim bilyelerimin 2 katından 7 fazladır.kardeşimin kaç bilyesi vardır?

a) 14

b) 19

c) 31

17- 38 ile 15'in toplamına 8 eklenirse , toplam kaç olur ?

a) 53

b) 61

c) 71

18-Banu, sınıflarında 14 kız , 19 erkek öğrenci olduğunu söyledi.Sınıf mevcudu nedir?

a) 24

b) 33

c) 34

19- . . yandaki çıkarma işleminde eksilen sayı kaçtır?

$$\begin{array}{r} - 17 \\ 53 \end{array}$$

a) 70

b) 74

c) 77

20- Aşağıdaki işlemlerin kaçı doğrudur?

$$\begin{array}{r} 63 \\ + 18 \\ \hline 71 \end{array}$$

$$\begin{array}{r} 42 \\ - 7 \\ \hline 35 \end{array}$$

$$\begin{array}{r} 8 \\ \times 2 \\ \hline 18 \end{array}$$

$$\begin{array}{r|l} 12 & 4 \\ - 12 & 3 \\ \hline 00 \end{array}$$

a) 2'sinin

b) 3'ünün

c) 4'ünün