
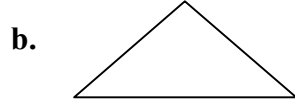



# GEOMETRİK CİSİMLER VE ŞEKİLER KONU TESTİ

1. Aşağıdakilerden hangisinin kenar sayısı diğerlerinden azdır ?



2. Aşağıdaki bölgenin çevresini sınırlayan çizgi hangi geometrik şekildir ?

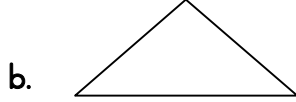
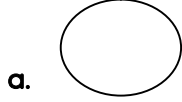


a. Kare

b. Dikdörtgen

c. Üçgen

3. Aşağıdaki şekillerden hangisinin köşesi yoktur ?



4. Aşağıdaki trafik işaretlerinden hangisi dairesel bölgeye benzer ?



5. 4 Köşesi ve 4 kenarı olan şekiller hangi seçenekte verilmiştir ?

a. Kare-dikdörtgen

b. Kare-üçgen

c. Kare-daire

6. 4 adet kibrit çöpü ile aşağıdakilerden hangisini yaparken kibrit çöplerimiz artar?

a. Üçgen

b. Kare

c. Dikdörtgen

7. Dikdörtgen şeklindeki bahçe duvarımızın kenarlarını farklı renklerle boyamak istiyoruz. kaç çeşit boyaya ihtiyacımız vardır?

a. 3

b. 2

c. 4

8. Çember çizmek isteyen bir kişi aşağıdakilerden hangisinden yararlanabilir?

a. Kibrit kutusu

b. Bilezik

c. Top

9. Aşağıdaki geometrik şekillerden hangisinin köşesi yoktur?

a. Çember

b. Kare

c. Üçgen

10. Birbirine eş en az kaç kürdan ile dikdörtgen oluşturulabilir?

a. 4

b. 5

c. 6

11. Karşılıklı kenarları birbirine eşit olan şekil aşağıdakilerden hangisidir?

a. Üçgen

b. Kare

c. Dikdörtgen

12. Üçgen prizmasının alt ve üst tabanları hangi geometrik şekle benzer?

a. Dikdörtgen

b. Üçgen

c. Kare

13. Aşağıdaki bilgilerden hangisi yanlıştır?

a. Karenin 4 kenarı, 4 köşesi vardır.

b. Üçgenin 3 kenarı, 4 köşesi vardır.

c. Dikdörtgenin 4 kenarı, 4 köşesi vardır.

14. Aşağıdaki nesnelerden hangisinin köşesi yoktur?

a. Süt kutusu

b. Kitap

c. Top

15. Konserve kutusunun alt ve üst tabanları aşağıdakilerden hangisidir?

a. Üçgensel bölge

b. Karesel bölge

c. Dairesel bölge.