

SORULAR

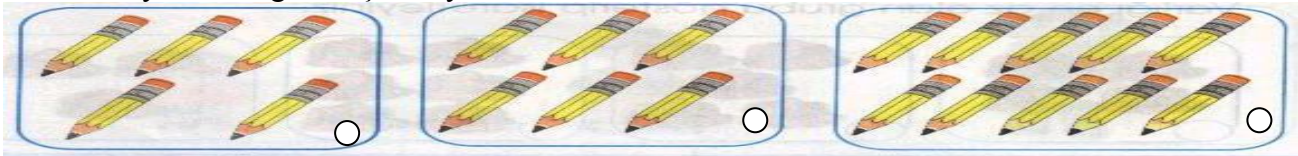
1-Aşağıdakilerden en uzun olanı hangisidir?



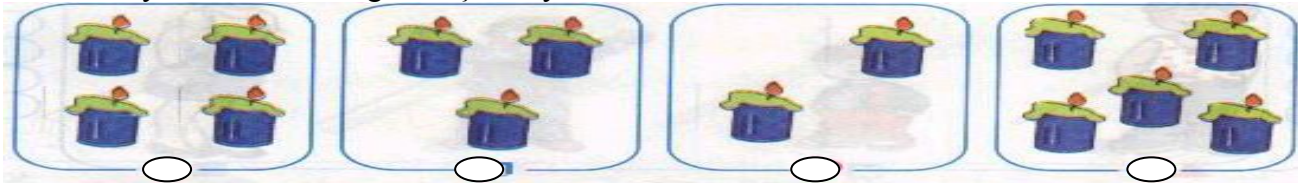
2-En kısa varlığı işaretleyiniz?



3-Varlık sayısı en az grubu işaretleyiniz.



4-Varlık sayısı en fazla olan grubu işaretleyiniz



5- Aşağıdaki sayma işleminde boş bırakılan yere hangi sayı gelmelidir?

4-7-10-13-16-19-22-25- ? -31-33

a)28 b)26 c)24

6-Ali, yolda adımlarını atarken 4'er sayıyordu.12.adımda saydığını unuttu. Ali hangi sayıya gelmiştir?

a) 44 b) 48 c) 46

7- 21' den başlayarak 3'er 3'er ileri sayarken 8. saymada aşağıdaki sayılardan hangisini söyleriz?

a) 39 b) 42 c) 45

8- Seksen dokuz sayısı aşağıdakilerden hangisidir?

a) 98 b) 68 c) 89

9- 6 onluk+7 birlikten oluşan sayı hangisidir?

a)76 b)67 c)77

10- Uzunluk ölçüsü birimi nedir?

a).Lira b).Kilogram c).Metre

11- Anne Ali'den 23 yaş büyük. Ali 9 yaşında olduğuna göre anne kaç yaşındadır?

a)30 b)32 D.33

12- 4 düzine kalemde 2 deste kalem çıkarılırsa kaç kalem kalır?

a) 28 b) 26 c) 68

13- Aşağıdaki doğal sayıların arasında kalan sayı hangisidir?

28- -30 69 - 71

a) 27,68 b) 26,67 c) 29,70

14-Aşağıdaki doğal sayıların büyükten küçüğe doğru sıralanışı hangisidir?

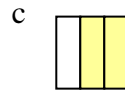
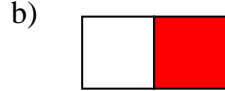

$$98 - 65 - 56 - 84 - 48 - 34 - 43$$

- a)98,84,65,56,48,43,34 b)84,98,56,43,34,48 65 c)98,84,56,65,34,48,43

15- Aşağıdaki şekillerden $\frac{1}{2}$ kesrini gösteren hangisidir



16-Aşağıdaki şekillerden hangisinde taranmış kısım $\frac{1}{4}$ 'ini göstermektedir?



17-Özge'nin 20 kalemı vardı. $\frac{1}{2}$ 'si (yarısı) kaç kalem eder?

- a)12 b)10 c) 8

18- 8 eksiği 24 olan sayı kaçtır?

- a)22 b) 28 c)32

19- Aşağıdakilerden hangisi **yanlıştır**?

a)
$$\begin{array}{r} 28 \\ + 4 \\ \hline 32 \end{array}$$

b)
$$\begin{array}{r} 35 \\ + 6 \\ \hline 51 \end{array}$$

c)
$$\begin{array}{r} 76 \\ + 4 \\ \hline 80 \end{array}$$

20- Aşağıdaki işlemlerden hangisi doğrudur?

a)
$$\begin{array}{r} 48 \\ - 6 \\ \hline 42 \end{array}$$

b)
$$\begin{array}{r} 64 \\ - 4 \\ \hline 59 \end{array}$$

c)
$$\begin{array}{r} 29 \\ - 9 \\ \hline 21 \end{array}$$

21- 85 sayısının çözümlenmiş hali hangisidir?

- a) 8 onluk + 5 onluk b) 8 onluk + 5 birlik c) 8 onluk + 3 birlik

22- 6 onluk + 0 birlik olarak çözümlenen sayı aşağıdakilerden hangisidir?

- a) 66 b) 60 c) 62

23- 6 deste kalemde kaç kalem vardır?

- a) 58 b) 50 c) 60

24- 12'nin 13 fazlasının 5 eksiği nedir?

- a) 25 b) 20 c)28

25- Ben 9 yaşımdayım.Annemin yaşı benim yaşımdan 26 fazladır.Annem kaç yaşındadır?

- a) 35 b) 30 c)34