

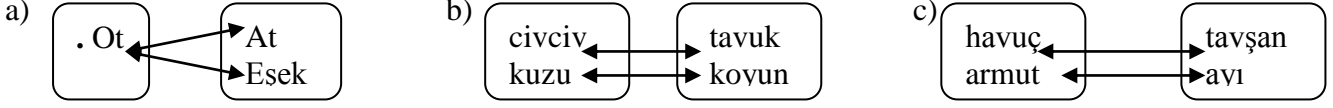
CUMHURİYET İLKÖĞRETİM OKULU 2-A SINIFI
MATEMATİK TESTİ

Adı Soyadı :

Numarası :

SORULAR

1-Aşağıdakilerden hangisi birebir eşleme değildir?



2- 0 – 5 – 10 – 15 – (?) – 25 – 30 ...şeklindeki saymada (?) işareti yerine aşağıdakilerden hangisi gelmelidir?

a) 16

b) 18

c) 20

3- 1 – 3 – 5 – 7 - ? – 11 şeklindeki saymada (?) işareti yerine aşağıdakilerden hangisi gelmelidir?

a) 9

b) 8

c) 7

4-Aşağıdaki işlemlerden kaç tane yanlıştır?

$$\begin{array}{r} 26 \\ - 3 \\ \hline 23 \end{array}$$

$$\begin{array}{r} 39 \\ - 6 \\ \hline 26 \end{array}$$

$$\begin{array}{r} 85 \\ + 4 \\ \hline 89 \end{array}$$


$$\begin{array}{r} 40 \\ + 8 \\ \hline 48 \end{array}$$

$$\begin{array}{r} 23 \\ + 6 \\ \hline 26 \end{array}$$

a) 4

b) 3

c) 2

5-  Yandaki şekilde taralı kısmı gösteren kesir sayısı aşağıdakilerden hangisidir?

a) $\frac{1}{2}$

b) $\frac{2}{2}$

c) $\frac{2}{1}$

6- 20 futbol topunun $\frac{1}{2}$ 'si kaç top eder?

a) 10

b) 15

c) 20

7-Bir bölme işleminde ; bölünen 14 , bölen 2 ise bölüm kaçtır?

a) 7

b) 6

c) 5

8-Bir bütünün iki eş parçasından her birinin adı nedir?

a) çeyrek

b) Yarım

c) Bütün

9-Her birinde 10 tane kalem bulunan 5 kutuda toplam kaç kalem vardır?

a) 30

b) 40

c) 50

10- “Bir ay gün,bir gün saattir.”cümlesindeki noktalı yerlere sırasıyla aşağıdakilerden hangisi yazılmalıdır?

a) 30 , 24

b) 24 , 30

c) 7 , 24

11-“Bir yılay ; bir ayhaftadır.” cümlesindeki noktalı yerlere sırasıyla aşağıdakilerden hangisi yazılmalıdır?

a) 12 , 7

b) 12 , 4

c) 12 , 30

12-“Bir saate..... yarım saat ve çeyrek saat vardır.” cümlesindeki noktalı yerlere sırasıyla aşağıdakilerden hangisi yazılmalıdır?

a) 4 , 2

b) 2 , 4

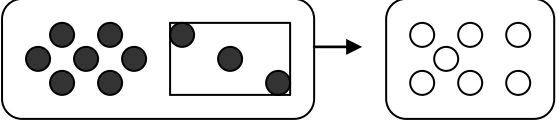
c) 1 , 2

13-Yarısı 10 olan sayının 2 katı kaç eder?

a) 20

b) 30

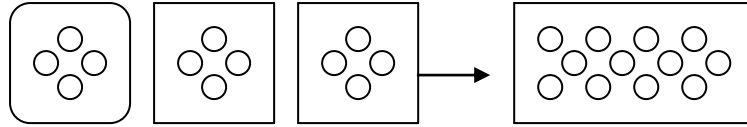
c) 40

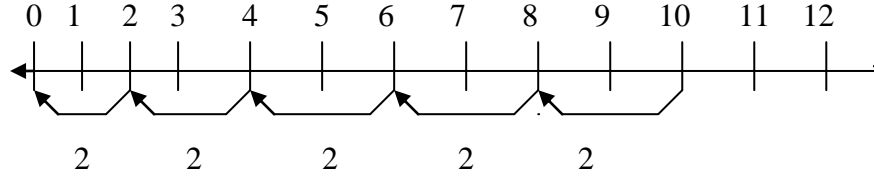
- 14-  Yandaki şemaya ait çıkarma işleminin matematik cümlesi olarak yazılışı hangisidir?
a) $7 - 3 = 4$ b) $10 - 3 = 7$ c) $10 - 7 = 3$

- 15-Sürüde 61 hayvan vardır.Bunlardan 19'u kuzu, geriye kalanları ise koyundur.Sürüde kaç koyun vardır?
a) 41 b) 42 c) 43

- 16-Bir çuvalda 15 top,diğer çuvalda bunun 4 katı kadar top olduğuna göre iki çuvalda toplam kaç top vardır?
a) 75 b) 70 c) 65

- 17-Bir çiftçi tarlasına 1.gün 12 teneke,2.gün birinci günün 5 katı kadar buğday ekliyor.Çiftçi iki günde kaç teneke buğday ekmiştir?
a) 72 b) 60 c) 52

- 18-  Yandaki şemaya ait çarpma işleminin matematik cümlesinin yazılışı hangisidir?

- a) $3 \times 4 = 12$ b) $4 \times 3 = 12$ $4+4+4 = 12$
19-  Sayı doğrusunda gösterilen bölme işlemine ait ifade aşağıdakilerden hangisine aittir?
a) $5 \times 2 = 10$ b) $10 : 5 = 2$ c) $10 : 2 = 5$

- 20-Sınıfa 4 kutu raptiye aldık.Dört kutuda toplam 80 raptiye olduğuna göre bir kutuda kaç raptiye vardır?
a) 40 b) 30 c) 20

- 21-Bir çıkarma işleminde eksilen sayı 43,fark 24 ise çıkan sayı kaçtır?
a) 23 b) 19 c) 67

- 22-Bir toplama işleminde Toplananlardan biri 42 ,toplan 91 ise diğer toplanan kaçtır?
a) 49 b) 45 c) 47

- 23- 46 , 23 , 81 , 93 , 26 , 62 sayılarından kaç tanesi 64 sayısından küçüktür?
a) 3 b) 4 c) 5

- 24- Aşağıdaki ifadelerden hangileri doğrudur?

- a) Bir çarpma işleminde çarpanlar yer değiştirirse sonuç değişmez.
b) Bir sayının sıfır ile toplanması yine kendisi eder.
c) Bir sayının sıfır ile çarpımı 0 (sıfır) eder.

- a) Hepsii **doğru** b) Sadece a ve b **doğru** c) Sadece c **doğru**

- 25- Aşağıdaki bölme işlemlerinden kaç **doğrudur**?

$\begin{array}{r} 24 \overline{) 3} \\ - 18 \overline{) 6} \\ \hline 06 \end{array}$	$\begin{array}{r} 32 \overline{) 4} \\ - 32 \overline{) 8} \\ \hline 00 \end{array}$	$\begin{array}{r} 45 \overline{) 5} \\ - 45 \overline{) 9} \\ \hline 00 \end{array}$	$\begin{array}{r} 21 \overline{) 3} \\ - 24 \overline{) 7} \\ \hline 00 \end{array}$
--	--	--	--

- a) 3 b) 2 c) 4