


ADI - SOYADI :

NO :

MATEMATİK TEST

1. 
Gösterilen şekillerden hangisinin köşe ve ayrıtı vardır?

A) Daire B) Silindir C) Üçgen

2. Aşağıdaki nesnelerden hangisinin uzunluğu diğerlerinden daha büyüktür?

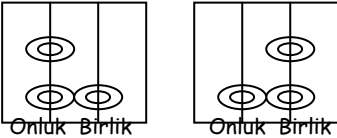
A) Yazı tahtası B) Kalem C) Silgi

3. Beş deste kalem kaç tane eder?

A) 5 B) 50 C) 10

4. Bir kibrit kutusunun içinde 36 tane kibrit çöpü var. Acaba 36 kibrit çöpü kaç düzine yapar?

A) 12 B) 36 C) 3

5. 
Onluk Birlik Onluk Birlik

Yukarıda onluk ve birlikleri verilen sayılar hangi seçenekte doğru olarak verilmiştir?

A) 10 - 20 B) 21 - 12 C) 3 - 6

6. iki bütün , dört yarım ve dört çeyrek toplam kaç bütün yapar?

A) 5 B) 10 C) 4

7. " 17 : 30 " verilen saatin doğru okunuşu hangisidir?


A) Saat gece beş,
B) Saat akşam yedi buçuk,
C) Saat öğleden sonra beş buçuk,

8. 10 dan başlayarak dörder dörder sayan Selin, 22 sayısından sonra hangi sayıyı söylemelidir?

A) 24 B) 26 C) 28

9. Üçer üçer 30 dan geriye doğru sayan Ufuk , 18 sayısından sonra hangi sayıyı söylemelidir?

A) 21 B) 12 C) 15

10.  Yandaki şekil örüntüsü aynı sırayla birbirini takip ediyor. Buna göre "simit" ten sonra tekrar hangi şekil gelmelidir?

A) Güneş B) Kalp C) Adam

11. " 23 - 27 - 31 - 35 - 39 - ? " Yandaki sayılar belirli bir düzene göre sıralanmışlardır. Soru işareti olan yere hangi sayı gelmelidir?

A) 43 B) 45 C) 41

12. " 85 - 73 - 68 - 10 " sayılarının büyükten küçüğe doğru sıralanmış şekli hangi seçenekte verilmiştir?

A) 68 - 10 - 73 - 85
B) 10 - 68 - 73 - 85
C) 85 - 73 - 68 - 10

13. $\begin{array}{r} 38 \\ + 46 \\ \hline \end{array}$

işleminin sonucu

kaçtır? İşaretleyiniz.

- A) 74 B) 84 C) 12

14. $\begin{array}{r} 53 \\ - 27 \\ \hline \end{array}$

işleminin sonucu

kaçtır? İşaretleyiniz.

- A) 34 B) 36 C) 26

15. $6 \times 5 = ?$ işleminin sonucu

kaçtır? İşaretleyiniz.

- A) 30 B) 11 C) 35

16. $\begin{array}{r|l} 12 & 3 \\ \hline \end{array}$ işleminin sonucu

kaçtır ? İşaretleyiniz.

- A) 3 B) 4 C) 15

17. Çikolata = 25 Kr

Meyve Suyu = 30 Kr

Sakız = 10 Kr

Yukarıda bakkalda satılan bazı ürünlerin fiyatları verilmiştir.

Oğuzhan bu ürünlerden bir tane çikolata , bir tane meyve suyu ve üç tane de sakız almıştır. Oğuzhan bakkala kaç Kr para ödemiştir?

- A) 65 Kr B) 80 Kr C) 85 Kr

18. Bir yılda 4 mevsim vardır.

Acaba 10 yılda kaç mevsim vardır?

- A) 40 B) 4 C) 14

19.

Sevilen Çiçekler Öğrenci Sayısı

Gül	12
Papatya	5
Menekşe	9
Karanfil	10

Yanda verilen "Sevilen Çiçekler" adlı grafikte en az sevilen çiçek hangisidir?

- A) Gül B) Menekşe C)Papatya

20. 32 sayısının , 8 fazlasının , 15 eksiği kaç eder ?

- A) 25 B) 40 C) 55

21. 4 'ün 5 katının , 6 fazlası kaç eder?

- A) 24 B) 26 C) 20

22. Sibel 21 çiçeğini 3 tane vazoya eşit olarak paylaşdırmak istiyor. Sibel her bir vazoya kaç çiçek koymalıdır ?

- A) 7 B) 24 C) 3

23. En küçük bir basamaklı sayı ile en büyük bir basamaklı sayının 5 fazlası kaç eder?

- A) 9 B) 15 C) 10

24. 10 misketini 5 arkadaşına eşit olarak vermek isteyen Can, her bir arkadaşına kaç tane misket vermelidir?

- A) 15 B) 10 C) 2

25. Aşağıdakilerden hangisi ölçü değildir?

- A) Uzunluk ölçüsü (metre)
B) Ağırlık ölçüsü (kilogram)
C) Oturma ölçüsü (sandalye)