

GEOMETRİK ŞEKİLLER TEST-1

1 .Aşağıdaki ifadelerden hangisi yanlıştır?


- a.Küp biçimindeki bir kutunun 6 yüzeyi vardır.
- b.Dikdörtgenler prizmasında karşılıklı yüzeyler birbirine eştir.
- c.Kare prizmanın tüm yüzeyleri karesel bölgedir.



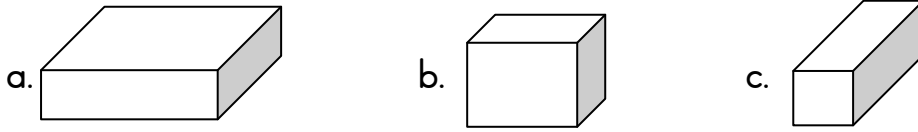
2.Yukarıdaki konserve kutusuyla ilgili verilen bilgilerden hangisi yanlıştır?

- a.4 yüzeyi vardır.
- b.Hiç köşesi yoktur.
- c.İki yüzeyi daire biçimindedir.

3.Aşağıdaki şekillerden hangisinin köşesi yoktur?



4.Aşağıdakilerden hangisinin tüm yüzeyleri dikdörtgensel bölgedir?



5.Futbol topu hangi geometrik cisme benzemektedir?

- a.Silindir
- b.Koni
- c.Küre

6.Ayrıt sayısı en fazla olan geometrik cisim hangisidir?

- a.Koni
- b.Üçgen prizma
- c.Küp

7.Köşe sayıları eşit olan cisimler hangi seçenekte verilmiştir?

- a.Küp-Üçgen prizma
- b.Üçgen prizma-Kare prizma
- c.Küp-Kare prizma

8.Aşağıdaki cisimlerden hangisi küreye benzer?

- a.Kibirit kutusu
- b.Portakal
- c.Soba Borusu

9.Aşağıdaki cisimlerden hangisi silindire benzer?

- a.Soba borusu
- b.Kalemtraş
- c.Bilye

10.Aşağıdaki cisimlerden hangisi diğerlerinden farklıdır?

- a.Kitap
- b.Top
- c.Tavla zarı

11.Üçgen prizmanın alt ve üst tabanları hangi, geometrik şekle benzer?

- a.Üçgen
- b.Kare
- c.Dikdörtgen

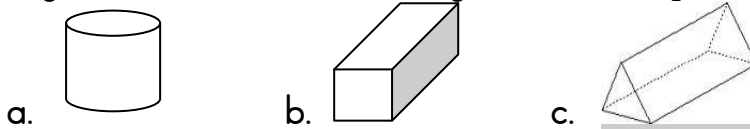
12.Aşağıdakilerden hangisi düz yüzeilidir?



13.Evimizde kullandığımız buzdolabı hangi geometrik cisme benzer?

- a.Küp
- b.Dikdörtgen prizma
- c.Kare prizma

14. Aşağıdaki geometrik cisimlerden hangisinin köşe sayısı en fazladır?



15.Küp ve üçgen prizma yapan Elif her iki cismin ayrıtlarını boyadı. Elif toplam kaç ayrıt boyamıştır

- a.15
- b.18
- c.21

GEOMETRİK ŞEKİLLER TEST-2


1. Aşağıdaki varlıklardan hangisinin köşesi yoktur?
a.Küp b.Küre c.Dikdörtgen prizma
2. Aşağıdaki cisimlerden hangisinin yüzeyleri karedir?
a.Kare prizma b.Küp c.Küre
3. Aşağıdaki cisimlerden hangisi dikdörtgenler prizmasına benzer?
a.Kavanoz b.Kibrit kutusu c.Çadır
4. 3 yüzü olan,ayrıtı olmayan geometrik cisim hangisidir?
a.Silindir b.Koni c.Küp
5. Eşleştirmelerden hangisi doğrudur?
a.Küp-5 yüzü vardır. b.Küre-2 köşesi vardır. c.Silindir-Ayrıtı yoktur.
6. Hangisinden daire elde edilemez?
a.Koni b.Silindir c.Küp
7. Seçeneklerdeki geometrik şekillerden kenar sayısı en az olan hangisidir?
a.Üçgen b.Kare c.Dikdörtgen
8. Aşağıdaki nesnelerden hangisinin köşesi yoktur?
a.Süt kutusu b.Kitap c.Top
9. Kare,Üçgen ve dikdörtgenin kenarlarındaki uçların birleştiği yere ne denir?
a.kenar b.köşe c.Kare
10. Birbirine eş kare şeklindeki 6 karton ile bir kutu yaparsak hangi şekli elde etmiş oluruz?
a.Üçgen prizma b.Küp c.Kare prizma



11.

Yukarıdaki resim hangi geometrik cisme benzemektedir?

- a.Dikdörtgen prizması b.Küp c.Üçgen prizma
12. Karesel bölge elde etmek için aşağıdaki geometrik cisimlerden hangisi kullanılamaz?
a.Silindir b.Kare prizma c.Küp
13. Aşağıdaki cisimlerden hangisinin yüzeyleri ile kare çizilebilir?



14. Yandaki çikolata kutusunun kaç yüzeyi vardır?
a.6 b.5 c.4



15. Aşağıda verilen geometrik cisimlerden kaç tanesinin köşesi yoktur?

