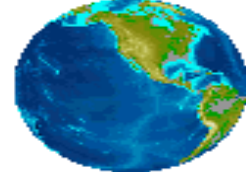




DÜNYA'NIN HAREKETLERİ



Dünya'mız kendi çevresinde dönerken.....oluşur.



Dünya'mız kendi çevresinde dönüşünü.....saatte tamamlar.



Dünya'mız Güneş'in çevresinde dönüşünüte tamamlar.



Bir yılda mevsim vardır..



Dünya'mız Güneş'in çevresinde dönerkenle r oluşur.



Bir yıl aydır.



Kendi etrafımda dönerken Güneş'ten ışık aldığım bölümüm, ışık almadığım bölümüm

Aşağıdaki resimlerde gösterilen olaylar nelerdir? Bu olayların nasıl gerçekleştiğini anlatınız.






Aşağıdaki soruları cevaplandırın.




Dünya'nın Güneş etrafında dönmesinden meydana gelen olay.



Dünya Güneş etrafında ne kadar sürede döner?



Bir yılda kaç mevsim vardır?Adlarını yazın.



Dünya'nın etrafında dönen gök cismi.