

1. Aşağıdakilerden hangisi bir fiziksel özelliktir?

- A. Heyecan B. Sevgi
C. Saç rengi D. Korku

2. Çevremizdeki evleri, ağaçları yolları, binaları çizerek yerlerini ve birbirlerine göre durumlarını karşımızdakine en kolay nasıl anlatabiliriz?





- A. Krokiyle B. Planla
C. Haritayla D. Taslakla

3..... ifade etmek, bireyin becerisini geliştirir. İyi iletişim kurabilen bireyler de kendilerine güven duyarlar.

Yukarıda boş bırakılan yerlere aşağıdaki kelimelerden hangisi getirilmelidir?

- A. hayallerini / el
B. düşüncelerini / sportif
C. davranışlarını / sportif
D. duygularını / iletişim

4.Aşağıdaki canlılardan hangisinin söylediği cümlede yön bildiren bir ifade yoktur?

- A.  Biraz daha kuzeye gitmeliyim.
- B.  Artık yuvama doğru gidiyorum.
- C.  Güneş'in battığı yön burası galiba
- D.  Artık güneşe göç etmeye karar verdim.

5. Emre, birinci dönem sonunda takdir almış ve babası kendisine karne hediyesi olarak bisiklet alma sözü vermiştir. Hafta sonu babasıyla beğendiği bisikleti almıştır. Alışverişin sonunda aldıkları belgeler aşağıda gösterilmiştir.



Fiş veya fatura



Garanti belgesi

Yukarıdaki belgeleri alan Emre, aşağıdaki haklardan hangisini elde edemez?

- A. Garanti süresi içinde arızalanması durumunda ücretsiz servis imkânlarından yararlanma
B. İlk 7 gün içerisinde iade edebilme
C. Aldığı ürünün çalınması durumunda yenisini ücretsiz olarak alabilme
D. Aldığı ürünle ilgili şikâyetlerini üretici firmaya bildirme
- 6.



Tekerleğin icat edilmesi insanlık tarihinin en önemli buluşlarından biridir. Tekerleğin icat edilmesinin ardından ulaşım araçları her geçen gün geliştirilerek insanlığın hizmetine sunulmuştur.

Aşağıdakilerden hangisi teknolojinin de gelişmesiyle birlikte ulaşım araçlarının insanlara sağladığı faydalardan değildir?

- A. Ulaşımın daha kısa sürede yapılmasının sağlanması
B. Ulaşımın daha konforlu ve rahat yapılmasının sağlanması
C. Daha pahalı olması
D. Daha güvenli ve hızlı olması

7. Emel'in annesi geçen pazar günü, Emel'e kışın soğuklardan korunması için kalın bir kaban aldı. Yukarıdaki bilgiye bakarak Emel'in hangi temel ihtiyacı karşılanmıştır diyebiliriz?

- A. Giyinme B. Beslenme
C. Eğlenme D. Barınma

8. Aşağıdakilerden hangisi kültürümüzün öğelerinin geçmişten günümüze değişerek geldiğine kanıt olabilir?

- A. Haberleşmede mektubun yerini telefonun alması
B. Tarım alanında, hayvanların gücü yerine makinelerden yararlanılması
C. Yüksek katlı binalara merdiven yerine asansörle çıkılması
D. Düğünlerde gelinin at yerine otomobile binerek baba evinden ayrılması



9. A. Üretim B. Tüketim
C. Ulaşım D. Dağıtım

10. Sapanca'da yalnızca gölün çevresinde gezinmedik. Günlerimizi ormanda, dağda geçirdik. Akşamları da dağın yamacındaki evde kaldık. Yukarıdaki metinde beşeri unsur hangisidir?

- A. Dağ B. Orman
C. Ev D. Göl

11.



Mehmet amca geçimini manavlık yaparak sağlamaktadır. Buna göre Mehmet amcanın tezgahında bulunan ürünler henüz aşağıdaki hangi aşamadan geçmemiştir?

- A. Üretim B. Tüketim
C. Dağıtım
D. Ürünlerin tarla ve bahçelerden toplanması

12.



Yukarıdaki resimlere göre aşağıdakilerden hangisi söylenemez?

- A. Teknolojik ürünler genellikle zararlıdır.
B. Teknolojik ürünleri doğru kullanmasak çeşitli sorunlarla karşılaşırız.
C. Teknoloji insanların hayatını etkilemektedir.
D. Teknolojik ürünler işlerimizi kolaylaştırır.

13. Denizlerin oturduğu semtin trafik ışıkları yanmadığından birçok trafik kazası olmaktadır. Semt sakinleri bir araya gelerek trafik kazalarını önlemek için çalışmalar yapmaya başlamış. Bu durumda semt sakinleri aşağıdakilerden hangisini oluşturmuşlardır?

- A. Dernek B. Grup
C. Sosyal örgüt D. Resmi Kurum

14.



Aşağıdakilerden hangisi dayanışmaya örnektir?

- A. Okul bahçesinde oyun oynayan çocuklar
- B. Bankada çalışan insanlar
- C. Yemek masasını birlikte hazırlayan aile bireyleri
- D. Uçakta yolculuk eden yolcular

15. Aşağıdakilerden hangisi sosyal örgütlerin kuruluş amacıdır?

- A. Dünya devletlerinde kurulmuş olması
- B. Sosyal problemlerin çözülmesi
- C. Devletin yeni kurulmuş olması
- D. Çocukların güvenli ortamda büyümesi

16.



Mehmet ve kameraman arkadaşı Mert son zamanlarda ülkemizin genelini ilgilendiren bir konuda halkın düşünce ve görüşlerini almak üzere röportaj yapmaktadır.

Röportaj yaptıkları insanların, yani halkın çoğunluğunun genel düşünce ve görüşlerine ne ad verilir?

- A. Oy
- B. Seçim
- C. Kamuoyu
- D. Seçme ve seçilme

- 17.**
- I. Karayollarının bozuk olması
 - II. Kız çocuklarını okula gönderilmemesi
 - III. Yeşil alanların azalması

İfadelerinden hangisi ya da hangileri sosyal problemdir?

- A. Yalnız II
- B. I ve II
- C. II ve III
- D. I, II ve III

18. Doğal afet sonrasında halka aşağıdakilerden hangisi yardım eder?

- A. Kızılay
- B. Yeşilay
- C. TEMA
- D. LÖSEV

19.



Yukarıda verilen resimlerden yola çıkarak aşağıdaki sonuçlardan hangisi söylenemez?

- A. Kullandığımız ürünler günümüze kadar çok farklı aşamadan geçerek gelmiştir.
- B. Günden güne kullandığımız ürünlerin çeşitliliği ve kalitesi artmaktadır.
- C. İlk günden günümüze kadar gelen ürünler kullanıcıların ve mühendislerin farklı teklifleriyle daha da geliştirilmiştir.
- D. Eskiden üretilen ürünler her zaman daha sağlam ve kullanışlı üretilmekteydi.

20. Aşağıdaki seçeneklerden hangisi doğal dengenin bozulmasında etkili değildir?

- A. Orman yangını
- B. Fidan dikimi
- C. Fabrika atıkları
- D. Bilinçsiz avlanma

