


MATEMATİK 4.TEMA DEĞERLENDİRME

1-)



Yukarıdaki bütün kasalarda eşit sayıda elma vardır. Tüm kasalardaki elma sayısı kaçtır?

2-)




Yukarıdaki tren, bir vagonunda 268 kg yük taşıyabilmektedir. Trenin tüm vagonları yüklü olduğunda ne kadar yük taşımış olur?


3-)

Üç basamaklı en küçük çift sayı ile ,
bir basamaklı en büyük tek sayının çarpımı kaçtır?

Yukarıdaki sorunun cevabını hangi çocuk doğru düşünmüştür?

a)  $998 \times 10 =$

b)  $102 \times 9 =$

c)  $100 \times 9 =$

4-)



18 TL



10 TL



5 TL

Ecrin ailesi ile alışveriş merkezine gitti.

2 tane oyuncak aslan,

3 tane oyuncak araba,

8 tane de top aldı. Ecrin ne kadar para harcamıştır?

5-)



17 TL

Orhan'ın 385 TL'si var. Kelebek koleksiyonu için 23 tane kelebek almak istiyor. Kelebek almaya parası yeter mi?

6-)

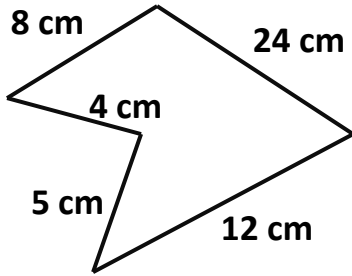
I. İşlem: $11 \times 8 = 88$

II. İşlem: $88 + 24 = 112$

Yukarıdaki işlem hangi problemi çözmek için yapılmıştır?

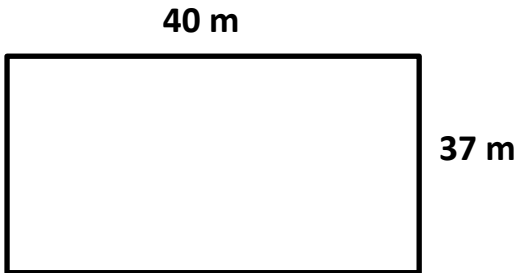
- a) 11 sayının 8 katının 88 fazlası kaçtır?
- b) 8 sayının 11 katının 24 eksiği kaçtır?
- c) 11 sayısının 8 katının 24 fazlası kaçtır?

7-)



Yukarıdaki şeklin çevresi kaç cm'dir?

9-)

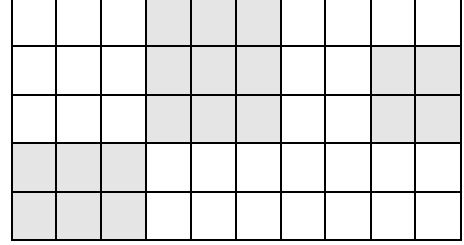


Muhammed yukarıdaki dikdörtgen şeklindeki tarlanın etrafını **2 tur** dikenli tel ile çevirmek istiyor. Muhammed'e kaç metre dikenli tel gereklidir?

10-) Erkan 56'dan başlayarak 9'ar ileri ritmik sayıyor. 5. söylediği sayı kaçtır?

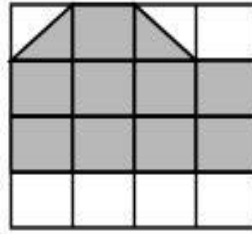


11



Yukarıdaki şekilde **boyalı şeklin alanı** kaç birim karedir?
Cevap:

12- Aşağıdaki boyalı şeklin alanı kaç birim karedir?



Cevap:

13- Aşağıdakilerden hangi iki standart ölçü araçlarımızdandır?

- a) metre- cm
- b) cm-kulaç
- c) karış-kulaç

14-) Doğru olanlara X işareti koyun.

- () 1 metre 100 cm'dir.
- () 100 metre 1 cm'ye eşittir.
- () 7 metre = 700 cm
- () 3 m 40 cm, 340 cm şeklinde de yazılabilir.
- () 125 cm, 1 metre 33 cm'den kısadır.
- () Bir kurşun kalemin boyu yaklaşık 20 metredir.
- () Matematik ders kitaplarımız yaklaşık 11 cm boyundadır.
- () Uzunluk ölçülerini kullanan tek meslek terzilerdir.

15-) Ahmet'in boyu Melisa'dan 82 cm uzundur. Melisa 1 m 15 cm olduğuna göre Ahmet'in boyu kaç cm'dir?