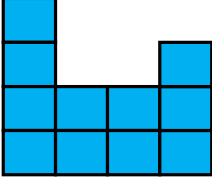


ÇEVRE

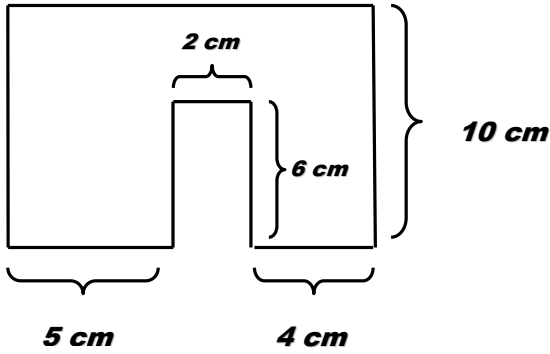
1

1birim



Yandaki şekil özdeş karelerden oluştuğuna göre şeklin çevresi kaç birimdir?

2



Yandaki geometrik şeklin çevresi kaç cm 'dir ?

3

7 cm



Uzun kenarı ,kısa kenarının 3 katından 10 cm uzun olan bir dikdörtgenin kısa kenarı 7 cm olduğuna göre çevresi kaç cm 'dir ?

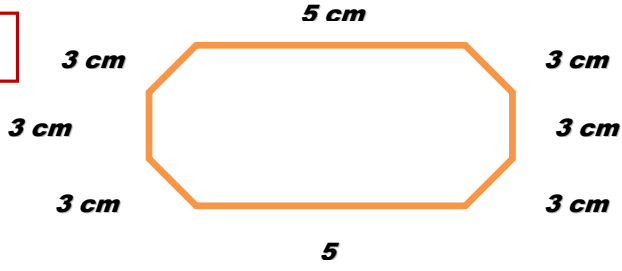
4

Bir kenar uzunluğu 6 m olan bir bahçenin etrafını tel örgüyle 4 tur çevirmek isteyen bahçe sahibi kaç m tel örgü almalıdır?



6 m

5



Yandaki geometrik şeklin çevresini bulunuz.

6

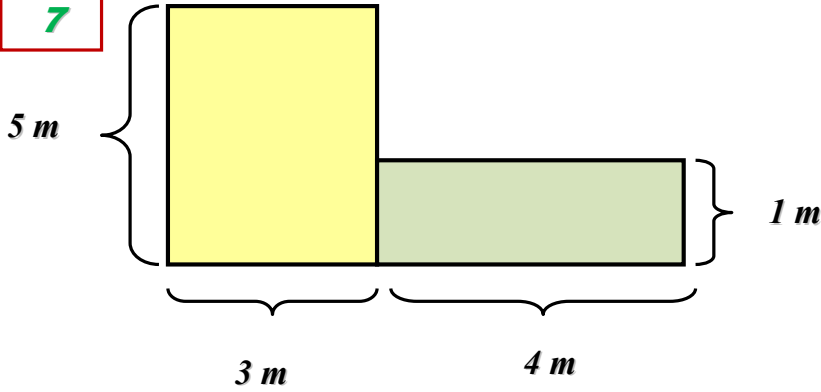


60 cm

40 cm

Yandaki Atatürk resminin çevresini kurdele ile 2 sıra çevirmek istiyoruz. Kaç metre kurdele almamız gerekir?

7



Yandaki şeklin çevre uzunluğu kaç metredir?

PUANLAMA: 4 ve 6.sorular 15, diğer sorular ise 14 puan değerindedir?