

23. Aşağıdaki tekliflerinden kaç tanesini reddetmeliyiz?

- Bugün okula gitmeyelim ,biraz dolaşalım.
- Eve iki saat geç gidelim.
- İnternet kafeye gidip bütün gün oyun oynayalım.


A) 1 B) 2 C) 3

24. Aşağıdakilerden hangisi tatilde yapacağımız bir etkinlik değildir?

A) Ders çalışmak. B) Denizde yüzmek. C) Kumsalda kumdan kale yapmak.

GENEL KÜLTÜR SORULARI

25. " Samet, draw two red apple." İfadesini duyan Samet hangisini yaparsa doğru yapmış olur?



AKIL OYUNLARI

➤ Aşağıdaki şekilde,soldan sağa ve yukarıdan aşağıya toplandığı zaman 72 olacak şekilde aşağıdaki sayıları boşluklara yerleştirebilir misiniz?

22, 23, 24, 26, 27

28		21
20		25

Mehmet GÜL
2/F Sınıf Öğretmeni

"İki tavşanı kovalayan hiçbirini tutamaz." Hz-Mevlânâ



Dede Korkut İlköğretim Okulu 2/F Sınıfı
Haftalık Genel Değerlendirme Testi -18-

Adım Soyadım:..... Numaram:.....



08.04.2011

TÜRKÇE DERSİ SORULARI

Aleyna çok akıllı bir kızdı. Arkadaşları ile iyi geçinirdi. En çok Derya ile Tuğçe'yi severdi. Ödevlerini her zaman birlikte yaparlardı. Derya Türkçe dersinde iyiydi. Tuğçe ise matematikte iyiydi. Aleyna resim yapmayı çok severdi. Aleyna çok şanslı olduğunu düşünüyordu. Çünkü arkadaşları onu hiç yalnız bırakmıyordu. Ayrıca hepsi kitap okumayı çok seviyordu.

(İlk üç soruyu yukarıdaki parçaya göre cevaplayınız.)

1. Aleyna için aşağıdakilerden hangisi söylenemez?

A) Tuğçe'yi çok sever. B) Türkçe dersinde çok iyidir. C) Akıllı bir kızdır.

2. Aleyna, Tuğçe ve Derya'nın ortak özelliği hangisidir?

A) Kitap okumayı severler. B) Resim yapmayı severler.
C) Ödevlerini birlikte yapmazlar.

3. Aleyna niçin şanslı olduğunu düşünüyor?

A) Akıllı bir kız olduğu için. B) Arkadaşları onu yalnız bırakmadığı için.
C) Hepsini birlikte ödev yaptıkları için.

4. yeni yaramaz alçak gerçek yüksek yalan uslu

Yukarıda zıt anlamlı kelimeler bir arada verilmiştir. Hangisinin eşi yoktur?

A) yeni B) yaramaz C) gerçek

5. Aşağıdaki cümlelerin hangisinde yazım yanlışı yapılmıştır?

A) Eda'nın başı çok ağrımış. B) Baba'mın bisikleti bozulmuş.
C) Otobüs, Ankara'ya gidecekmış.

6. Hangi cümlede sebe - sonuç ilişkisi belirtilmiştir?

A) Üşüdüğüm için kazağımı giydim. B) Annem pazardan muz almamış.
C) Eve gelince hemen üstünü değiştirdi.

7. "Ablam, dün sabah bahçede oyun oynamış." Cümlesinde hangi sorunun **cevabı yoktur?**

- A) Nasıl? B) Nerede? C) Kim?

8. Hangi cümlelerin sonunda soru işareti olmalıdır?

- A) Ne zaman geleceğini bilmiyorum B) Kaç, arkandan köpek geliyor
C) Helikopter nereye düşmüş

MATEMATİK DERSİ SORULARI

9. Resimdeki yıldızların sayısı hangi seçenekte, onluk ve birliklerine ayrılarak gösterilmiştir?

- A) 9 onluk, 8 birlik
B) 1 onluk, 7 birlik
C) 1 onluk, 9 birlik



10. 9 -13 -  - 21 -25 -  -33

Yandaki sayı örüntüsünde, verilmeyen sayıların toplamı kaç eder?

- A) 17 B) 29 C) 46

11. 25 , 69 , 44 "Ercan'ın tane fıncığı vardı. Bu fıncıkların tanesini kardeşine verdi. Ercan'ın geriye fıncığı kaldı."

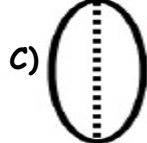
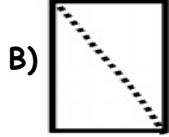
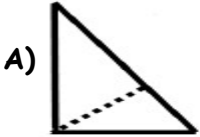
Bu anlatımda ilk boşluğa, yukarıdaki sayılardan hangisi yazılmalıdır?

- A) 69 B) 44 C) 25

12. Sınıfımızda 26 öğrenci vardır. Zil çalınca 5 erkek, 9 kız öğrenci bahçeye çıktı. Buna göre sınıfta kalan öğrencilerin 9 katı kaç öğrenci yapar?

- A) 24 B) 108 C) 90

13. Hangi şekil yarımı ifade etmez?



14. Hangi otomobilin üzerindeki çarpma işleminin sonucu yanlıştır?



15. " 21 - 92 - 46 - 38 - 64 " Yandaki sayıları büyükten küçüğe doğru sıralarsak baştan ikinci sayının yarısı hangi sayı olur?

- A) 64 B) 46 C) 32

16. Günde 3 ekmek tüketen aile, 2 haftada toplam kaç tane ekmek tüketir?

- A) 10 B) 21 C) 42

HAYAT BİLGİSİ DERSİ SORULARI

17. Hangi teknolojik alet diğer ikisinden farklıdır?

- A) televizyon B) radyo C) ütü

18. Şıklardan hangisi evde alınması gereken güvenlik önlemlerinden değildir?

- A) Bayat ve bozuk yiyecekleri yemek. B) Başkalarının ilaçlarını içmemek.
C) Yanıcı ve yakıcı maddelerle oynamamak.

19. Resimdeki çocuk ıslak elleriyle prize dokunuyor. Bu durumda çocuğun başına hangisi gelir?

- A) Elektrikli eşya bozulabilir.
B) Çocuğu elektrik çarpabilir.
C) Elektrik kesilebilir



20. Aşağıdakilerden hangisi ailemizin çocukluğuyla ilgili sorabileceğimiz sorulardan olamaz?

- A) Anne, ilkokulunun adı neydi? B) Dede, ne zaman tatile çıkacağız?
C) Baba, nasıl bir çocuktun?

21. Aşağıdaki bilgilerden hangisi yanlıştır?

- A) Adana Akdeniz bölgesindedir. B) Anıtkabir, Adana'dadır.
C) Okulumuz, Adana'nın Seyhan ilçesindedir.

22. "Küçükken çok kiloluydum. Ama şimdi zayıfım. Saçlarım eskisi kadar kıvrıkcık değil." Anlatılanlara göre aşağıdakilerden hangisi söylenebilir?

- A) Büyükken farklı oyunlar oynarız.
B) Küçüklüğümüzdeki özelliklerimiz değişmez.
C) Büyüdüğümüz zaman fiziksel özelliklerimizde değişim olur.