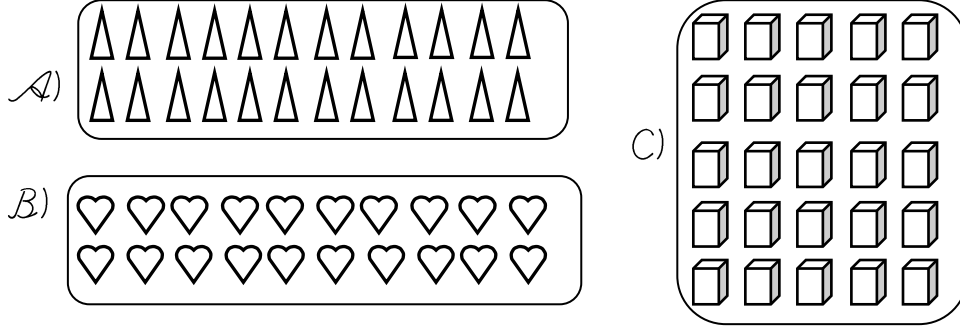


14. Aşağıdaki nesne gruplarından hangisinde 2 düzine nesne vardır?



15. Bir simitçi sabahleyin bir düzine simit, öğleden sonra ise bir deste simit sattı. Simitçi toplam kaç adet simit sattı?

- A) 10 B) 12 C) 22

16. Bir düzine limonun yarısı kaç tane limon eder?

- A) 10 B) 8 C) 6

17. Dedem bana bir düzine çikolata getirdi.

Çikolataların 2 tanesini yedim. Geriye kaç tane çikolata kaldı?

- A) 10 B) 8 C) 6

18. İki deste, 1 düzineden kaç tane fazladır?

- A) 28 B) 18 C) 8

Bafra Gazi İlköğretim Okulu 1/B Sınıfı  
Matematik Dersi Çalışma Kâğıdı - 61  
Adım Soyadım:.....

### Deste ve Düzineyi Öğrenelim.

1 deste = 10 adet

1 düzine = 12 adet

1. Aşağıdaki varlık gruplarından hangisi 1 desteye eşittir?



- A) B) C)

2. Aşağıdaki elmaların yanına kaç tane daha getirelim ki 1 desteye eşit olsun?



- A) 4 B) 3 C) 2

3. Aşağıdaki şekiller 1 desteden ne kadar fazladır?



- A) 3 B) 2 C) 1

T. Taş

Süleyman OCAK  
Sınıf Öğretmeni

4. Bakkal 16 yumurtanın bir destesini sattı. Geriye kaç yumurta kaldı?

000000000000000000

A) 6

B) 5

C) 4

5. Fatih'in bir deste kalemi vardı. Babası 8 kalem daha aldı. Fatih'in şimdi kaç kalemi oldu?

A) 20

B) 18

C) 9

6. Masanın üstünde bir deste bisküvi vardı. Selim bisküvilerin 4 tanesini yedi. Geride kaç tane bisküvi kaldı?

A) 6

B) 14

C) 16

7. Mehmet, karne tatilinde 2 deste kitap okuduğunu söylüyor. Acaba Mehmet, toplam kaç tane kitap okumuştur?

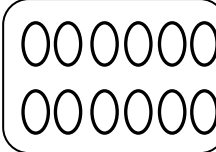
A) 24

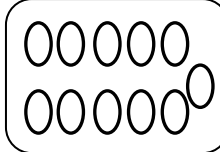
B) 22

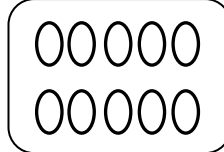
C) 20

8. Aşağıdaki kutuların içine 3 deste kalem çiziniz.

9. Aşağıdaki varlık gruplarından hangisi bir düzineye eşittir?

A) 

B) 

C) 

10. Mahmut'un çantasında bir düzine kalem vardı. Dedesi 5 kalem daha verdi. Şimdi çantada kaç kalem oldu?

A) 15

B) 16

C) 17

11. Bir fırıncı bir düzine ekmeğin 9 tanesini sattı. Geride kaç ekmeğe tane ekmeğe kaldı?

A) 1

B) 2

C) 3

12. Kürşat'ın 7 tane balonu vardı. Balonların bir düzine olması için Kürşat kaç tane balon almalıdır?

A) 6

B) 5

C) 4

13. Bir deste fındık, bir düzine fındıktan ne kadar azdır?

A) 2

B) 3

C) 4

Süleyman OCAK  
Sınıf Öğretmeni