

# GENEL KÜLTÜR

**DİKKAT: BU BÖLÜMDE YANITLAYACAĞINIZ SORU SAYISI 60'TIR.**

1-30 SORU

"Atatürk İlkeleri ve İnkılap Tarihi" ile "Türk Kültür ve Medeniyetleri"

31-48 SORU

"Türkiye Coğrafyası"

49-60 SORU:

"Temel Yurttaşlık Bilgisi ve Güncel Konular" ile ilgilidir.

Bu bölümdeki sorularla ilgili cevaplarınızı, cevap kağıdınızdaki "GENEL KÜLTÜR" bölümüne işaretleyiniz.

1. I. Avar  
II. Uygur  
III. Göktürk

**Yukarıdaki Türk Devletlerinden hangilerinde matbaa kullanılmıştır?**

- A) Yalnız I B) Yalnız II C) Yalnız III  
D) I ve II E) II ve III

2. Anadolu Selçuklu Devletinde, ticaretin ekonomi-deki payının çok yüksek olması,

- I. Kervansaray  
II. Zaviye  
III. İmaret

**Yukarıdaki mimari eserlerden hangilerinin daha fazla gelişmesine neden olmuştur?**

- A) Yalnız I B) Yalnız II C) Yalnız III  
D) I ve III E) I, II ve III

3. I. Kutadgu Bilig  
II. Orhun Yazıtları  
III. Karabalıgasun Kitabeleri

**Yukarıdakilerden hangileri Türk kültürünün araştırılmasında kullanılacak kaynaklardır?**

- A) Yalnız I B) Yalnız III C) I ve II  
D) II ve III E) I, II ve III

4. Osmanlı Devletinde,

- I. İç ve dış yazışmalara bakan  
II. Padişahın tuğrasını çeken  
III. Tahir defterlerini tutan

**Divan görevlileri aşağıdakilerden hangisidir?**

- A) Vezirazam B) Defterdar  
C) Nişancı D) Şeyhülislam  
E) Kadiasker

5. I. Laleli Camii  
II. İstanbul Şehzade Camii  
III. Süleymaniye Camii

**Yukarıdaki mimari eserlerden hangileri Mi-mar Sinan dönemine ait değildir?**

- A) Yalnız I B) Yalnız II C) Yalnız III  
D) I ve II E) I ve III

6. I. Islahat talebi halktan gelmiştir.  
II. Yenilikler yüzeysel olmuştur.  
III. Islahatlarda baskı ve şiddet yöntemi uygulanmıştır.

**Yukarıdakilerden hangisi XVII yy. ıslahatları-nın özellikleri arasında yer almaz?**

- A) Yalnız I B) Yalnız III C) I ve II  
D) II ve III E) I ve III

7. I. Nizam-ı Cedit Ocağının kurulması  
II. Devlet matbaası açılması.  
III. Avrupa başkentlerinde geçici elçiliklerin açılması

**Yukarıdaki yeniliklerden hangileri III Selim dönemine aittir?**

- A) Yalnız I B) Yalnız II C) Yalnız III  
D) I ve II E) II ve III

8. Osmanlı Devletinde, Türkçülük akımının ortaya çıkması aşağıdaki dönemlerden hangisinde gerçekleşmiştir?

- A) Kuruluş B) Yükselme  
C) Duraklama D) Gerileme  
E) Dağılma

9. I. İltimasın yasaklanması  
II. Nüfus sayımının yapılması  
III. Müsadere sisteminin kaldırılması  
**II. Mahmut döneminde gerçekleştirilen yukarıdaki ıslahatlardan hangileri mülkiyet güvencesi sağlamıştır?**  
A) Yalnız I B) Yalnız II C) Yalnız III  
D) I ve II E) II ve III

10. I. Tanzimat Fermanı  
II. Kanunname-i Ali Osman  
III. Kanun-i Esasi  
**Osmanlı Devletinde görülen yukarıdaki uygulamalardan hangilerinde Fransız İhtilalinin etkisi yoktur?**  
A) Yalnız I B) Yalnız II C) Yalnız III  
D) I ve II E) II ve III

11. **Osmanlı İmparatorluğunun çöküşünü engellemek için Ümmetçilik akımını devlet politikası haline getiren Osmanlı Padişahı aşağıdakilerden hangisidir?**  
A) II. Mahmut B) Abdülaziz  
C) Vahdettin D) II. Abdülhamit  
E) II. Mustafa

12. I. Sevr Antlaşması  
II. Mudanya Ateşkesi  
III. Brest Litovsk Antlaşması  
**Yukarıdaki Antlaşmalardan hangileri ile Osmanlı Devleti toprak kazancı sağlamıştır?**  
A) Yalnız I B) Yalnız II C) Yalnız III  
D) I ve III E) II ve III

13. **Aşağıdaki gelişmelerden hangisi Kuvay-i Milliye ruhunun doğmasına neden olmuştur?**  
A) Harbard Raporunun hazırlanması  
B) Meclis-i Mebusanın dağıtılması  
C) Wilson ilkelerinin yayınlanması  
D) Amiral Bristol raporunun hazırlanması  
E) Anadolu'nun işgal edilmeye başlaması

14. I. Toplanış şekli bölgeseldir.  
II. Ulusal sınırlar belirlenmiştir.  
III. İlk kez geçici hükümet kurma fikri ortaya atılmıştır.  
**Yukarıdakilerden hangileri Erzurum Kongresi ile ilgilidir?**  
A) Yalnız II B) Yalnız III C) I ve II  
D) I ve III E) I, II ve III

15. **Mondros Ateşkes'inden sonra kurulan direniş örgütleri aşağıdakilerden hangisinde alınan kararla Anadolu ve Rumeli Müdafaa-i Hukuk Cemiyeti olarak birleştirilmiştir?**  
A) Erzurum Kongresi  
B) Sivas Kongresi  
C) Amasya Görüşmesi  
D) Havza Genelgesi  
E) Son Osmanlı Mebusan Meclisi

16. I. TBMM'nin açılması  
II. Son Osmanlı Mebusan Meclisinin toplanması  
III. Amasya Protokolünün yapılması  
IV. Misak-ı Milli'nin kabulü  
**Yukarıdaki olayların kronolojik sıralaması aşağıdakilerden hangisinde doğru olarak verilmiştir?**  
A) III – II – IV – I  
B) II – III – I – IV  
C) I – III – II – IV  
D) III – I – II – IV  
E) IV – I – II – III

17. **TBMM'nin ilk askeri başarısı aşağıdaki cep-helerden hangisinde ve hangi devlete karşı verilmiştir?**  
A) Batı Cephesi - Yunanlılar  
B) Güney Cephesi - Fransızlar  
C) Batı Cephesi - İngilizler  
D) Doğu Cephesi - Ermeniler  
E) Doğu Cephesi - Ruslar

18. I. Moskova Antlaşmasının yapılması  
II. Teşkilat-ı Esasiye'nin yayınlanması  
III. Kars Antlaşmasının imzalanması

**Yukarıdakilerden hangileri I. İnönü savaşının siyasi sonuçlarından değildir?**

- A) Yalnız I B) Yalnız II C) Yalnız III  
D) I ve III E) II ve III

19. Osmanlı Tarihinde halifelik kurumunun siyasi gücü ve yetkileri aşağıdaki olaylardan hangisi ile sona ermiştir?

- A) Saltanatın kaldırılması  
B) Cumhuriyetin ilanı  
C) Anayasa'da "devletin dini İslamdır" maddesinin çıkarılması  
D) Halifeliğin kaldırılması  
E) Şer'iye ve Evkaf vekaletinin kaldırılması

20. Lozan Barış Konferansında,

- I. Kapitülasyonlar  
II. Ermeni Meselesi  
III. Boğazlar

**Yukarıdaki konulardan hangisinde taviz verilmemiştir?**

- A) Yalnız I B) Yalnız II C) Yalnız III  
D) I ve II E) II ve III

21. I. Kabine sistemine geçilmesi  
II. Saltanatın kaldırılması  
III. Halifeliğin kaldırılması

**Yukarıdaki İnkılaplardan hangileri II. TBMM tarafından gerçekleştirilmemiştir?**

- A) Yalnız I B) Yalnız II C) Yalnız III  
D) I ve II E) II ve III

22. I. Tevhid-i Tedrisat yasaının çıkarılması  
II. Erkan-ı Harbiye vekaletinin kaldırılması  
III. Anayasadan laikliğe aykırı hükümlerin tümünün kaldırılması

**Yukarıdaki uygulamalardan hangileri 3 Mart 1924'te halifeliğin kaldırıldığı gün gerçekleştirilmiştir?**

- A) Yalnız I B) Yalnız II C) I ve II  
D) II ve III E) I ve III

23. I. Kıbrıs  
II. Musul  
III. Hatay

**İngiltere'nin yukarıdaki bölgelerin hangilerinde etkinliğini kaldırılması Türkiye ile Yunanistan arasındaki ilişkilerin bozulmasına neden olmuştur?**

- A) Yalnız I B) Yalnız II C) Yalnız III  
D) I ve II E) II ve III

24. Türkiye Cumhuriyetinin dış politikasını meşgul eden aşağıdaki olaylardan hangisi Atatürk'ün ölümünden sonra Türkiye'nin lehine çözümlenmiştir?

- A) Musul Meselesi  
B) Yabancı Okullar  
C) Boğazlar  
D) Dış borçlar  
E) Hatay Sorunu

25. Medeni Kanunun kabulü,

- I. Halkçılık  
II. Cumhuriyetçilik  
III. Laiklik

**Yukarıdaki ilkelere hangileri ile ilgilidir?**

- A) Yalnız I B) Yalnız II C) I ve II  
D) I ve III E) II ve III

26. I. Sovyetler Birliği

II. Almanya

III. Yunanistan

**Yukarıdaki devletlerden hangilerinin Möntrö Boğazlar Sözleşmesinde imzası yoktur?**

A) Yalnız I B) Yalnız II C) Yalnız III

D) I ve II E) II ve III

27. I. Türk Dil Kurumunun açılması

II. I. 5 yıllık kalkınma planının oluşturulması

III. Medeni Kanunun kabulü

IV. Köy Enstitülerinin kurulması

**Yukarıdaki olayların kronolojik sıralaması aşağıdakilerden hangisinde doğru verilmiştir?**

A) I – III – IV – II

B) II – III – IV – I

C) III – I – II – IV

D) II – I – IV – III

E) I – II – III – IV

28. **Şeyh Said İsyanını bastırmak ve Anadolu'da güveni sağlamak amacı ile çıkarılan kanun aşağıdakilerden hangisidir?**

A) Hıyanet-i Vataniye Kanunu

B) Tekalif-i Milliye Emirleri

C) Teşkilat-ı Esasiye Kanunu

D) Takrir-i Sükun Kanunu

E) Başkomutanlık Kanunu

29. **Bütünleyici ilkelerde olan "Akılcılık ve bilimsellik"**

I. Devletçilik

II. Laiklik

III. Milliyetçilik

**Yukarıdaki Atatürk ilkelerinden hangilerini bütünler?**

A) Yalnız I B) Yalnız II C) Yalnız III

D) I ve III E) II ve III

30. "....., yeni parti adındaki "ileri" ve "cumhuriyet" sözcüklerinin karşıt anlamları ile gelmiştir. Parti gericilere umut vermiştir"

**M. Kemal'in yukarıda sözünü ettiği parti aşağıdakilerden hangisidir?**

A) Serbest Cumhuriyet Fırkası

B) Ahvar Partisi

C) Hürriyet ve İtilaf Fırkası

D) Demokrat Parti

E) Terakki Perver Cumhuriyet Fırkası

31. **Türkiye'nin gerçek alanı ile izdüşüm alanı arasında 35.126 km<sup>2</sup>'lik fark vardır. Bu farkın oluşması aşağıdakilerden hangisiyle açıklanır?**

A) Engebe ve yükseltisinin fazla olmasıyla

B) Ovalarının geniş yer kaplamasıyla

C) Üç tarafının denizlerle çevrili olmasıyla

D) Yer altı kaynakları bakımından zengin olmasıyla

E) İklim çeşitliliğinin yaşanmasıyla

32. **Aşağıdakilerden hangisi Türkiye'nin özel konumunun sonuçlarından değildir?**

A) Ortalama yükseltisinin fazla olması

B) Yılda dört mevsimin belirgin yaşanması

C) Yeraltı kaynakları bakımından zengin olması

D) Boğazların doğu-batı doğrultusunda uzanması

E) Sıcaklığın doğuya doğru azalması

33. **Aşağıdaki ovalardan hangisi oluşum bakımından diğerlerinden farklıdır?**

A) Çukurova

B) Silifke

C) Bafra

D) Çarşamba

E) Konya ovası

34. **Aşağıda verilen yanardağlardan hangisi İç Anadolu Bölgesinde yer almaz?**

A) Melendiz B) Erciyes C) Nemrut

D) Hasandağı E) Karadağ

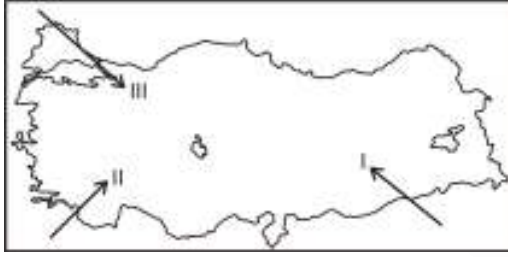
35. İç Anadolu Bölgesi ve Erzurum-Kars Bölümünün iklim özellikleri incelendiğinde;

- I. En fazla yağış ilkbahar mevsiminde düşer.
- II. Yağış şekli konveksiyoneldir. (yükselim)
- III. Kış mevsiminde yağışlar genelde kar şeklindedir.
- IV. Yazlar sıcak ve kurak geçer.

Özelliklerinden hangileri ortaktır?

- A) I ve II
- B) I ve III
- C) I ve IV
- D) II ve III
- E) III ve IV

36. Türkiye'ye kuzeyden esen rüzgarlar sıcaklığı düşürürken, güneyden esen rüzgarlar artırır.



Yukarıdaki haritada numaralandırılmış yönlerden esen rüzgarlar aşağıdakilerden hangisinde doğru olarak verilmiştir?

I	II	III
A) Samyeli	Lodos	Karayel
B) Lodos	Kible	Karayel
C) Karayel	Yıldız	Poyraz
D) Yıldız	Kible	Lodos
E) Samyeli	Lodos	Kible

37. Aşağıda verilen hangi iki kent arasında yapılan karayolunun maliyeti diğerlerine göre daha yüksektir?

- A) Trabzon – Gümüşhane
- B) Ankara – Konya
- C) İzmir – Afyon
- D) Gaziantep – Urfa
- E) Tekirdağ – Edirne

38. Türkiye'de aşağıdaki tarım ürünlerinden hangisinin daha çok yetiştiği bölgede büyük baş hayvancılık daha fazla gelişmiştir?

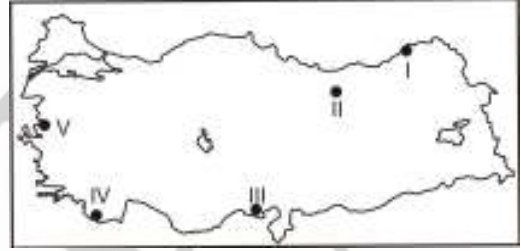
- A) Buğday
- B) Pamuk
- C) Çay
- D) Arpa
- E) Ayçiçeği

39. Karstik arazide erime sonucunda oluşan ovalara genellikle Akdeniz Bölgesinde rastlanır.

Aşağıdaki ovalardan hangisi buna örnektir?

- A) Çukurova
- B) Kestel
- C) Silifke
- D) Amik ovası
- E) Büyük Menderes ovası

40.



Yukarıda numaralandırılmış bölgelerden hangilerinin nüfuslanmasında daha çok tarım ve sanayi birlikte etkili olmuştur?

- A) I ve II
- B) I ve III
- C) II ve III
- D) III ve V
- E) IV - V

41. Türkiye'de her yer deniz seviyesinde olsaydı; aşağıda verilen bölgelerden hangisinde enlemden kaynaklanan bölge içi sıcaklık farkı en fazla olurdu?

- A) Doğu Anadolu
- B) Ege
- C) Karadeniz
- D) Güneydoğu Anadolu
- E) İç Anadolu


42. Marmara Bölgesinde şehirleşme oranı diğer bölgelerden daha yüksektir. **Aşağıdakilerden hangisi bu durumun nedenlerinden biri değildir?**

A) Ulaşımın gelişmiş olması  
B) Ticaretin gelişmiş olması  
C) Sanayinin gelişmiş olması  
D) Bitki örtüsünün çeşitli olması  
E) Yer şekillerinin sade olması

43. Güneydoğu Anadolu Bölgesinde nüfus az olmasına rağmen, nüfus yoğunluğu fazladır. **Bu durumun nedeni aşağıdakilerden hangisidir?**

A) Yüzölçümünün küçük olması  
B) Tarım alanlarının geniş olması  
C) Karasal iklimin görülmesi  
D) Nadasa ayrılan toprakların geniş olması  
E) Yer şekillerinin sade olması

44.



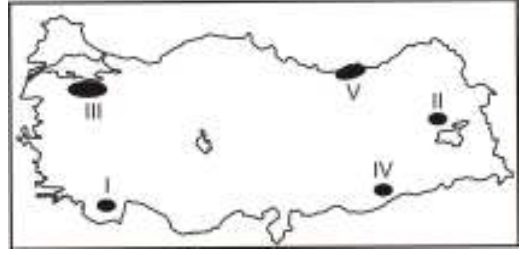
**Yukarıdaki haritada taralı alanların ortak özelliği aşağıdakilerden hangisidir?**

A) Evlerinin yapı malzemeleri  
B) Sıcaklık ortamlarının yüksek olması  
C) Toprak tipleri  
D) Yağış miktarlarının fazla olması  
E) Tarım ürünleri

45. **Aşağıdaki tarım ürünlerinin hangisinin üretiminde Türkiye Dünya'da önemli bir paya sahip değildir?**

A) Fındık      B) İncir      C) Çay  
D) Tütün      E) Kayısı

46.



**Türkiye'nin Temmuz ayı sıcaklık ortalaması düşünüldüğünde haritada numaralanmış alanlardan hangisinde sıcaklığın en yüksek olması beklenir?**

A) I      B) II      C) III      D) IV      E) V

47. - Ortalama yükseltisi fazladır.

- Akarsuların enerji potansiyeli yüksektir.

- Linyit ve tuz yatakları yaygındır.

**Gibi Türkiye ili ilgili verilen özellikler aşağıdakilerden hangisinin kanıtıdır?**

A) Arazi yapısının genç oluşumlu olmasının  
B) Ovaların geniş yer tutmasının  
C) Volkanik yapıların bulunmasının  
D) Karstik arazinin yaygın olmasının  
E) Bitki örtüsünün cılız olmasının

48.



**Yukarıdaki harita aşağıda verilen sanayi kuruluşlarından hangisinin dağılışını göstermektedir?**

A) Demir-Çelik sanayi  
B) Petrol rafinerileri  
C) Yünlü dokuma sanayi  
D) Kağıt sanayi  
E) Otomotiv sanayi

49. Aşağıdakilerden hangisi idare içinde yer almaz?
- A) Ankara Barosu  
B) Üniversiteler  
C) Belediyeler  
D) Yargıtay  
E) Vergi Dairesi
50. 14 yaşında bir çocuğun babasından izinsiz bisiklet alım sözleşmesi imzalaması durumunda hangi yaptırım uygulanır?
- A) Zorla İcra  
B) Yokluk  
C) Tazminat  
D) Tek taraflı bağlamazlık  
E) İptal
51. Söz ve eylemleri ile partisinin kapatılmasına sebep olan milletvekilinin durumu hakkında aşağıdaki değerlendirmelerden hangisi doğrudur?
- A) Başka bir partiden milletvekilliği devam eder.  
B) Milletvekilliği kendiliğinden düşer.  
C) Milletvekilliği TBMM kararına bağlı olarak düşer.  
D) Bağımsız milletvekili konumuna düşer.  
E) Milletvekili dokunulmazlığı kalkar ancak milletvekilliği devam eder.
52. Başbakanın Cumhurbaşkanı seçilmesi durumunda aşağıdaki sonuçlardan hangisi ortaya çıkmaz?
- A) Milletvekilliği sona erer.  
B) Parti üyeliği sona erer.  
C) Başbakanlık görevi sona erer.  
D) Yasama faaliyetlerinde oy kullanamaz.  
E) Devletin yürütme faaliyetinin tamamen dışına çıkmış sayılır.
53. Vergi Mahkemelerinin verdiği kararların son inceleme mercii hangisidir?
- A) Maliye Bakanlığı  
B) Yargıtay  
C) Danıştay  
D) Anayasa Mahkemesi  
E) Sayıştay
54. Özürlülere ve yaşlılara devlet tarafından aylık bağlanması aşağıdakilerden hangisinin gereği olarak kabul edilebilir?
- A) Devletçilik  
B) Ulus devlet  
C) Laik devlet  
D) Milliyetçilik  
E) Sosyal devlet
55. Aşağıdakilerden hangisi halk tarafından doğrudan seçilmez?
- A) Milletvekilleri  
B) TBMM Başkanı  
C) Cumhurbaşkanı  
D) İl Genel Meclisi üyeleri  
E) Belediye Başkanı
56. Aşağıdakilerden hangisi hukuk devletinin gereklerinden biri sayılmaz?
- A) Yargının bağımsızlığı  
B) Eğitim-öğretim hizmetlerinin devlet eli ile yürütülmesi  
C) İdarenin haksız işlemlerine karşı vatandaşların dava açabilmeleri  
D) Kanunların Anayasaya uygun olması  
E) Savunma hakkı

57. Aşağıdakilerden hangisi Anayasamızdaki “Sosyal ve Ekonomik Haklar” arasında yer almaz?

- A) Grev ve Lokavt Hakkı
- B) Sendika Kurma Hakkı
- C) Bilim ve Sanat Hürriyeti
- D) Eğitim- Öğretim Hakkı
- E) Ailenin Korunması

58. 2007 Aralık ayında bir suikast ile öldürülen Pakistan eski başbakanı aşağıdakilerden hangisidir?

- A) Ziya Ül-hak
- B) Zülfikar Ali Butto
- C) Benazir Butto
- D) Pervez Müşerref
- E) Kejmir Kenari

59. Sera etkisi yaratan gazların atmosfere salınımına kısıtlamalar getiren ve 175 ülkenin imza attığı Kyoto protokolünü geçtiğimiz günlerde son olarak imzalayan ülke aşağıdakilerden hangisidir?

- A) Türkiye
- B) Avusturalya
- C) Çin
- D) ABD
- E) Hindistan

60. Aralık ayında başlayarak ve 2008 yılının Mart ayına kadar tamamlanacak genişlemeyle Schengen (Avrupa Birliği içinde vizesiz ge-  
çiş) alanına 9 ülke daha dahil olmuştur. Aşa-  
ğıdakilerden hangisi bu ülkelerden değildir?

- A) Estonya
- B) Çek cumhuriyeti
- C) Norveç
- D) Litvanya
- E) Malta

**LÜTFEN CEVAPLARINIZI KONTROL EDİNİZ.**