

GENEL KÜLTÜR

DİKKAT: BU BÖLÜMDE YANITLAYACAĞINIZ SORU SAYISI 60'TIR.

1-30 SORU

"Atatürk İlkeleri ve İnkılap Tarihi" ile "Türk Kültür ve Medeniyetleri"

31-48 SORU

"Türkiye Coğrafyası"

49-60 SORU:

"Temel Yurttaşlık Bilgisi ve Güncel Konular" ile ilgilidir.

Bu bölümdeki sorularla ilgili cevaplarınızı, cevap kağıdınızdaki "GENEL KÜLTÜR" bölümüne işaretleyiniz.

1. Kavimler Göçü Avrupa tarihinde önemli bir aşamadır.

Kavimler Göçünün özelliklerinden hangisi bu ifadeyi doğrulamak için yeterli değildir?

- A) Avrupa'nın yeni haritası ortaya çıkmıştır.
B) Avrupa toplumları yerleşik hayata geçmişlerdir.
C) Avrupa'da yeni toplumsal kültürler ortaya çıkmıştır.
D) Hristiyanlık hızlı bir yayılma süreci yaşamaya başlamıştır.
E) Avrupa, Ortaçağ'ın karanlık devrimini yaşamaya başlamıştır.

2. I. Anadolu'da Türk tarihinin başlamasını sağlarlar.
II. "Sultan" ünvanını ilk Selçuklu hükümdarları kullanmışlardır.
III. Merkez ve memleket yönetiminde İran-İslâm gelenekleri görülmektedir.

Yukarıda verilenlerden hangisi Büyük Selçuklu Devleti'nde görülen özelliklerden değildir?

- A) Yalnız I B) Yalnız II C) I ve II
D) II ve III E) I, II ve III

3. I. Anadolu'nun feth edilmesinde büyük rol oynadılar.
II. Anadolu'daki Türk varlığını Ermeni, Bizans Gürcü saldırılarına karşı korudular.
III. Türk varlığının Avrupa'ya taşınmasında önemli görevler üstlendiler.

Yukarıda verilenlerden hangileri Anadolu'da kurulan ilk Türk Beyliklerinin özellikleri arasında yer alır?

- A) Yalnız II B) I ve III C) II ve III
D) I ve II E) I, II ve III

4. Sırp, Fransız ihtilalinin etkisiyle ilk ayaklanan Osmanlı toplumudur. Bu isyanın çıkmasının sebepleri;

- I. Rusların Panslavizm politikası
II. Toprak düzeninin bozulmuş olması
III. Balkanlarda bu dönemde pek çok isyanın çıkması.

arasında yukarıda verilenlerden hangisi yer alır?

- A) Yalnız I B) Yalnız III C) I ve II
D) I ve III E) I, II ve III

5. Osmanlı ordusunun bozulmasının sebepleri;

- I. Padişahın ordu komutanlığını sadrazama bırakması
II. Askerliğin bir geçim kaynağı haline gelmesi
III. Kapitulasyonların olumsuzluğu

arasında hangisi yer almaz?

- A) Yalnız I B) Yalnız III C) II ve III
D) I ve III E) I ve II

6. Osmanlı Devletinde;

- I. Hacı Özbek Camii – Edirne Üç Şerefli Camii
II. Topkapı Sarayı – Bağdat Köşkü
III. Bursa Çarşısı – Fatih Medresesi
IV. Alman Çeşmesi – İshak Paşa Sarayı

yukarıda verilen ikili mimari eserlerden hangisi "Erken Dönem" Osmanlı mimari eserleri arasında yer alır?

- A) Yalnız I B) Yalnız III C) I ve II
D) II ve III E) I ve III

7. Yıllık geliri 100.000 ve daha fazla gelir getiren araziler doğrudan hanedana bağlı olurlardı. Bu araziler aşağıdakilerden hangisidir?

- A) Has B) Malikhane C) Zeamet
D) Tımar E) Eşkin

8. I. İltizam usulü kaldırılmıştır.
II. Avrupa'ya ilk defa öğrenci gönderilmiştir.
III. İlk demokratikleşme hareketi Sened-i İttifak bu dönemde ilan edilmiştir.
Yukarıda verilen gelişmelerden hangisi II. Mahmud dönemine ait gelişmelerdendir?
A) Yalnız I B) I ve II C) II ve III
D) I ve III E) I, II ve III
9. XVII. ve XVIII. yüzyılda yapılan Osmanlı ıslahatlarının amacına bir türlü ulaşamamış olmasının sebepleri aşağıda verilenlerden hangisi olamaz?
A) Yapılan ıslahatların günübirlik olması
B) Padişahların ıslahatları desteklememesi
C) Halkın sorunlarına yüzeysel yaklaşılması
D) Yapılan ıslahatların kişilere bağlı kalması, devlet politikası haline getirilmesi
E) Islahatların sorunları derinlemesine çözmemesi
10. "Osmanlı Devleti bir Avrupa devleti sayılacak ve Avrupa hukuk kurallarını uygulayacaktır." **esaslarının yer aldığı Paris Antlaşması ile birlikte yer alan ve Osmanlı müslimlerini gayrimüslimlerden dezavantajlı duruma getiren kanun aşağıda verilenlerden hangisidir?**
A) Tanzimat Fermanı
B) Sened-i İttifak
C) Islahat Fermanı
D) Halepa Fermanı
E) Kanun-i Esasi
11. I. Trablusgarp'ın Duyun-u Umumiye'ye olan borçlarını İtalya ödeyecektir.
II. Trablus halkı dini anlamda halifeye bağlı kalacaktır.
III. Trablusgarp; İtalya'dan, İngiltere'ye devredilecektir.
Yukarıda verilen esaslardan hangisi Ouchy(Uşi) Antlaşması'nda yer alan maddelerden birisi değildir?
A) Yalnız II B) Yalnız III C) I ve II
D) I ve III E) II ve III
12. I. İleri
II. Açıksöz
III. Peyami Sabah
IV. Tasvir-i Efkâr
Yukarıda verilen gazete isimlerinden hangisi Milli Mücadele yanlısı olan gazetelerden değildir?
A) I ve II B) II ve III C) III ve IV
D) I ve III E) I, II ve III
13. **Ankara'nın Milli Mücadele döneminde merkez seçilmesinin sebebi aşağıda verilenlerden hangisi olamaz?**
A) Batı cephesine olan yakınlığı
B) İstanbul'unda Ankara'yı merkez yapma isteği
C) Tüm Anadolu'nun buradan denetim altında tutulabiliyor olması
D) Demiryolları ve iletişim hatlarının Anadolu'ya ulaşması
E) Stratejik kanunu itibarıyla işgalcilere uzak olması
14. **Misak-ı Milli, Anadolu'nun işgallere haykırışının ilk sesidir. Bu haykırıştaki Avrupa'yı tehdit eden ifadeler aşağıda verilenlerden hangisi olamaz?**
A) Azınlık hakları komşu ülkelerdeki müslümanlara tanınan haklar kadar tanınacaktır.
B) İstanbul ve Marmara'nın güvenliği sağlandığı takdirde Boğazlar, uluslararası ticarete açılmayacaktır.
C) Kapitülasyonlar kaldırılacaktır. Aksi halde dış borçlar ödenmeyecektir.
D) Batı Trakya'daki hukuki durum halkın tam bir özgürlükle vereceği kararla olmak zorundadır.
E) Kars, Ardahan, Batum'da gerekirse referandum yapılacaktır.
15. **Aşağıda I. TBMM'ye ait özelliklerden hangisi onun siyasi otoritesini göstermesi açısından önemlidir?**
A) İnkılapçı ve yenilikçi olması
B) Çok sesli ve demokratik olması
C) Ulusal bir meclis olması
D) Meclis Hükümeti sistemini benimsemesi
E) Yasama, yürütme, yargı yetkilerini kendinde toplaması
16. **Sivas Kongresi milli mücadelenin uygulama safhasıdır.**
I. Ali Fuat Paşa'nın Batı Cephesi komutanlığına atanması
II. Milli Cemiyetleri birleştirmek
III. Osmanlı Mebusan Meclisi'nin toplanmasını sağlamak
Yukarıda verilenlerden hangisi Sivas Kongresi'nde Temsil Heyeti'nin hükümet gibi hareket ettiğinin göstergesidir?
A) Yalnız II B) I ve II C) I ve III
D) II ve III E) I, II ve IV

17. I. Olağanüstü yetkilere sahip bir meclistir.
II. Geçici değil sürekli bir meclistir.
III. Kurucu ve inkılapçı meclisidir.

Yukarıda TBMM'ye ait olan özelliklerden hangisi meclisin yeni bir siyasi oluşumuna doğru gidildiğinin kanıtı niteliğindedir?

- A) Yalnız I B) Yalnız III C) I ve II
D) I ve III E) I, II ve III

18. TBMM'nin yerine getirdiği önemli görevler arasında;

- I. Hiyanet-i Vataniye Kanununu çıkarmak
II. Meclis-i Mebusan'ın toplanmasını sağlamak
III. Teşkilat-i Esasi'yi hazırlayıp, yürürlüğe koymak
IV. Düşmanın Anadolu'nun içlerine kadar yayılmasını engellemek

Yukarıda verilenlerden hangisi yer almaz?

- A) Yalnız II B) I ve II C) II ve IV
D) I, II ve III E) III ve IV

19. I. Doğu Cephesi – Ermenistan
II. Güney Cephesi – İtalya
III. Batı Cephesi - İngiltere

Yukarıda Fransızlarla, Ermenilerle ve Yunanlılarla savaştığımız cepheler verilmiştir. Bu cephelerden hangisinin karşılaştırıldığı devlet doğru verilmemiştir?

- A) Yalnız I B) I ve II C) II ve III
D) I ve III E) I, II ve III

20. Aşağıda verilen kanunlardan hangisi TBMM tarafından çıkarılmamıştır?

- A) Hiyanet-i Vataniye Kanunu
B) Ağnam Vergisinin Artırılmasına İlişkin Kanun
C) Takrir-i Sükun Kanunu
D) Teşkilat-i Esasi
E) Tekalif-i Milliye Kanunları

21. Mudanya Ateşkes Antlaşmasının (11 Ekim 1922) TBMM için savaşı bitirmesinin yanında sağladığı en önemli fayda aşağıda verilenlerden hangisidir?

- A) TBMM'nin siyasi bir zaferi olması
B) İtilaf devletlerinin TBMM'yi artık resmen tanımması
C) İngiltere'de bu antlaşma sonrası hükümet değişikliğinin olması
D) Meriç'in Yunanistan ile Türkiye arasında sınır kabul edilmesi
E) Doğu Trakya'nın güvenliği için yöreye Jandarma Birliği'nin gönderilmesi

22. I. Şapka Kanunu
II. Kabotaj Kanunu
III. Hilafetin Kaldırılması
IV. Kadına Seçme ve Seçilme Hakkının verilmesi
V. Soyadı Kanunu

Yukarıda verilen kanunları çıkarılış sırasına göre kronolojik olarak sıralamak istersek verilenlerden hangisi doğru olur?

- A) II – I – III – IV – V
B) III – I – II – IV – V
C) I – II – V – III – IV
D) IV – II – I – III – V
E) V – I – III – I – IV

23. I. Bozkurt – Lotus Davası
II. Vagon-Li Olayı
III. Şeyh Sait İsyanı

Cumhuriyet döneminde yaşanan yukarıdaki olaylardan hangisinde laik düzeni yıkmaya yönelik bir faaliyet olmuştur?

- A) Yalnız III B) I – II C) I – III
D) II – III E) I, II ve III

24. Cumhuriyet dönemindeki;

- I. Anadolu ve Orta Asya tarihinin incelenmesi
II. Arkeoloji kazılara hız verilmesi
III. Dil, Tarih ve Coğrafya Fakültesi'nin kurulması

tarih çalışmalarından hangisi bu dönemdeki tarih anlayışının salt Osmanlı tarihi olmaya çağının doğrudan göstergesidir?

- A) Yalnız III B) I ve II C) I ve III
D) II ve III E) I, II ve III

25. Halifeliğin kaldırılması aşağıdakilerden hangisinin gereğidir?

- A) Bağımsızlığın
B) Yurtta ve dünyada barışın
C) Din ve devlet işlerinin ayrı tutulmasının
D) Ulusal egemenliğin
E) Uluslararası antlaşmaların

26. ^Hayatta En Hakiki Murşit İlimdir, Fendir.^ sözü ile Atatürk ilkelerinden hangi ikisinin önemi özellikle vurgulanmıştır?

- A) Cumhuriyetçilik – Laiklik
B) Devletçilik – Milliyetçilik
C) İnkılapçılık – Devletçilik
D) Halkçılık – Cumhuriyetçilik
E) Laiklik – İnkılapçılık

27. Milli Mücadele sadece Türk toplumunun kurtarmakla kalmamış, dünya emperyalist devletlerin egemenliği altında bulunan diğer mazlum milletlere de örnek olmuştur. **Atatürk ilkelerinden hangisinin bu milletlere yol gösterici olduğu söylenebilir?**

- A) Akılcılık – bilimsellik
- B) Girişimcilik – etkileyicilik
- C) Batıcılık - barışçılık
- D) Bağımsızlık – anti emperyalizm
- E) Yaptırımcılık – ıslahatçılık

28. Atatürk, Türk Dış Politikasının belirlerken kendisine tek bir distur belirlemiştir. Dış politikada izlenen bu yol aşağıdakilerden hangisidir?

- A) Bağımsızlığa ve eşit devlet anlayışına aykırı hiçbir anlaşmayı kabul etmemek
- B) Karşılıklı ekonomik ve siyasi çıkarları korumak
- C) Dünya barışına katkıda bulunmak
- D) Ülke rejimini korumak ve ortak savunma prensibi oluşturmak
- E) Uygar milletlerle olan ilişkileri güçlendirmek

29. Atatürk'ün, "Yabancı milletlerin himayedarlığını istemek, bir milletin insanlık vasıflarını kaybettiğinin, acz içerisinde olduğunun ilanından başka birşey değildir." sözüyle aşağıdaki kavramlardan hangisinin önemine değinmemiştir?

- A) Batılılaşma
- B) Sömürgeci karşıtlığı
- C) Ulusçuluk
- D) Çağdaşlaşma
- E) Milletine olan güven

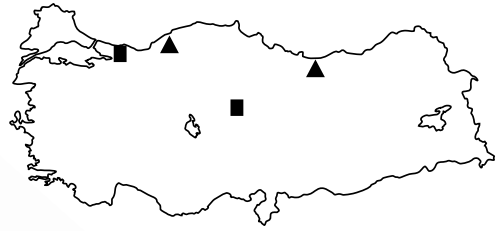
30. Aşağıda verilen olaylardan hangisi Türklerle Fransızlar arasında geçen ve Türklerin başarısıyla sonuçlanan bir dış politik gelişmedir?

- A) Balkan Antantı
- B) Musul Sorunu
- C) Bozkurt Lotus Davası
- D) Milletler Cemiyetine Giriş
- E) Ege Adalarının silahsızlandırılması

31. Aşağıda verilen özelliklerden hangisi Türkiye'nin Kuzey Yarım Küre'de yer aldığını kanıtlamaz?

- A) Kuzeyden güneye doğru gidildikçe cisimlerin öğle vakti ölçülen gölge boylarının kısalması
- B) Güneyden esen rüzgarların sıcaklığı artırması
- C) 21 Haziran tarihinden sonra gündüz süresinin kısaltmaya başlaması
- D) Güneş ışınlarının hiç bir zaman 90° lik açıyla almaması
- E) Ardışık iki meridyen arası uzaklığın güneyden kuzeye gidildikçe azalması

32. Aşağıda iki ayrı sanayi kuruluşunun bazı merkezlerdeki dağılışı gösterilmiştir



Bu endüstri kuruluşları aşağıdakilerden hangisidir?

- | ▲ | ■ |
|----------------|----------|
| A) Seramik | Uçak |
| B) Otomotiv | Vagon |
| C) Sigara | Kağıt |
| D) Demir-çelik | Konserve |
| E) Kağıt | Rafineri |

33. Aşağıdaki haritada üç aynı hayvan türünün en çok yapıldığı yerler gösterilmiştir.



Bu hayvancılık türleri aşağıdakilerden hangisinde doğru olarak verilmiştir?

- | I | II | III |
|------------------|-------------------|---------------|
| A) Kıl keçisi | Kümes | Manda |
| B) Arıcılık | İpek böcekçiliği | Sığır |
| C) Arıcılık | Merinos koyunları | Tiftik keçisi |
| D) Kümes | İpek böcekçiliği | Koyun |
| E) Tiftik keçisi | Kıl keçisi | Sığır |

34. Aşağıda bazı tarım merkezleri ve bu alanlardaki turizm türleri eşleştirilmiştir.

Bu eşleştirmelerden hangisi yanlıştır?

- A) Kartalkaya → Kış turizmi
B) Gordion → Tarihi turizm
C) Ürgüp → Termal turizm
D) Balıklı Göl → İnanç turizmi
E) Ayder → Yayla turizmi

35. - Yaz ve kış mevsimleri arasındaki yıllık sıcaklık farkı azdır.
- Sıcaklığın 0°C'nin altına düştüğü gün sayısı azdır.
- Nem oranı yüksektir.

Yukarıda bazı iklim özellikleri verilen coğrafi bölüm aşağıdakilerden hangisidir?

- A) Güney Marmara
B) Kıyı Ege
C) Orta Kızılırmak
D) Doğu Karadeniz
E) Orta Fırat Bölümü

36. Akarsuların getirdiği alüvyonların deniz içinde birikmesi sonucu oluşan ovalara delta ovası denir.

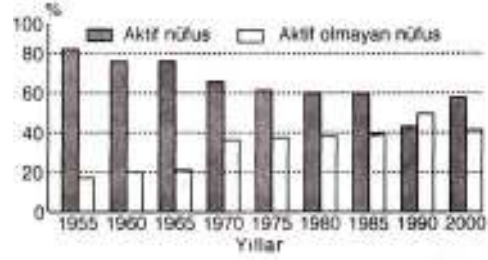
Aşağıda verilen akarsu ve oluşturduğu delta ovası eşleştirmelerinden hangisi yanlıştır?

Akarsu

Delta

- | | |
|---------------|----------|
| A) Göksu | Amik |
| B) Kızılırmak | Bafra |
| C) Gediz | Menemen |
| D) B.Menderes | Bolat |
| E) Yeşilırmak | Çarşamba |

37. Aşağıdaki grafikte bazı yıllarda Türkiye'deki aktif ve aktif olmayan nüfus oranları gösterilmiştir.



Tablodaki bilgilere göre aşağıdakilerden hangisine ulaşamaz?

- A) Yalnızca 1990 yılında aktif olmayan nüfus oranı, aktif olan nüfus oranından daha fazladır.
B) Aktif nüfus oranının en fazla olduğu yıl aktif olmayan nüfus oranı en azdır.
C) 1975 ve 1980 yıllarında hem aktif hem de aktif olmayan nüfus oranları birbirine çok yakındır.
D) 1960 yılında toplam aktif nüfus sayısı 2000 yılındaki toplam aktif nüfus sayısından daha fazladır.
E) 1985 yılındaki aktif olmayan nüfus oranı 1965 yılındaki aktif olmayan nüfus oranının yaklaşık iki katıdır.

38. I. Karstik ovaların yaygınlığı
II. Yağışın en fazla düştüğü mevsim
III. Sanayi tesislerinin yaygınlığı
IV. Delta ovalarının yaygınlığı
V. Yıllık yağış miktarı

Yukarıda verilenlerden hangisi Adana ve Antalya Bölümlerinin ortak bir özelliğidir?

- A) I B) II C) III D) IV E) V

39. Türkiye'de son yıllarda sanayi büyük bir hızla gelişmektedir.

Aşağıdakilerden hangisi sanayinin hızla gelişmesinin Türkiye ekonomisine sağladığı yararlarından biri değildir?

- A) İhraç ürünleri içinde endüstri gelirlerinin payının artması
B) Hem iç hem de dış ticaretin gelişmesi
C) Çalışabilir çağdaki nüfusa yeni iş olanaklarının yaratılması
D) Büyük kentlerin çevresinde konut yetersizliğinin ortaya çıkması
E) Hammadde kaynaklarının işlendikten sonra yurt dışına satımının artması

40. Şehirlerin gelişim süreçleri birbirinden farklı olmaktadır.

Buna göre aşağıda verilen merkezlerden hangisinin gelişmesinde yakınında çıkarılan yeraltı kaynaklarının varlığı daha az etkili olmuştur?

- A) Karadeniz Ereğli
B) Batman
C) Seydişehir
D) Elbistan
E) Yatağan

41. Aşağıdaki tabloda Türkiye'deki orman alanlarının coğrafi bölgelerimize göre oransal dağılışı verilmiştir.

Bölge	Orman alanı %
Akdeniz	22
Doğu Anadolu	10
Ege	17
Marmara	13
Güney Doğu Anadolu	3
Karadeniz	27
İç Anadolu	8

Yalnızca tablodaki bilgilere göre aşağıdakilerden hangisine ulaşılabilir?

- A) Yükseltinin artması orman alanlarının artışını sağlamaktadır.
B) İç bölgelerdeki orman alanı oranı Akdeniz Bölgesinin orman alanı oranından daha azdır.
C) Kıyı kesimdeki ormanlar geniş yapraklı ağaçlardan oluşmaktadır.
D) Orman alanları güneyden kuzeye doğru gidildikçe sürekli artmaktadır.
E) Güneydoğu Anadolu ile Ege Bölgesinin toplam orman alanı oranı Akdeniz Bölgesinden fazladır.

42. Kıyı Ege Bölümü'nde nüfus dağılışı Doğu Karadeniz Bölümünden farklı olarak iç kesimlerde de yoğunur.

Bu durum her iki bölümün hangi bakımdan farklı olmasının bir sonucudur?

- A) Yeraltı kaynakları
B) Yağış miktarı
C) Dağların kıyıya göre konumu
D) Doğal bitki örtüsü
E) Enlem değerleri

43. - Ekili-dikili alan oranı en fazla olan bölge-mizdir.
- Türkiye tarımsal gelirlerinde birinci sırada yer alan bölgemizdir.
- Yıllık sıcaklık farkının en az olduğu bölge-mizdir.
- Maden çeşidi ve rezervi en fazla olan bölge-mizdir.

Yukarıda bazı coğrafi bölgelerimizin bazı özellikleri verilmiştir.

Buna göre hangi bölgemize ait bir özellik verilmemiştir?

- A) Doğu Anadolu
B) Karadeniz
C) Güney Doğu Anadolu
D) Ege
E) Marmara

44. Her tarım ürününün yetiştirme koşulu birbirinden farklıdır. Buna göre; yaz ve sonbahar mevsimlerinde kuraklık isteyen bir tarım ürününün

- I. Konya
II. Doğu Karadeniz
III. Orta Fırat
IV. Erzurum-Kars

Bölgelerinden hangilerinde doğal olarak yetiştirilmesi daha zordur?

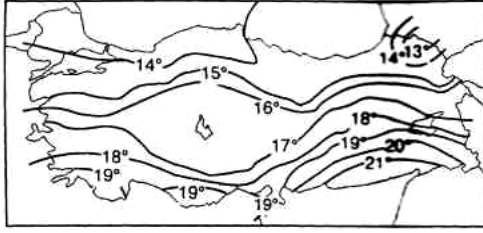
- A) Yalnız II B) Yalnız III C) I ve II
D) II ve III E) II ve IV

45. Türkiye nüfusu hızla artan bir ülke olduğu için tarım alanlarından birim alandan daha fazla verim almak zorunda olan bir ülkedir.

Aşağıdakilerden hangisi birim alandan alınacak verimi arttırmak için uygulanacak bir yöntem değildir?

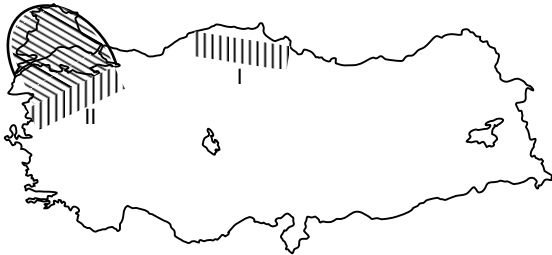
- A) Kaliteli tohum kullanımını yaygınlaştırmak
B) Üretici sayısını artırmak
C) Zirai mücadeleyi yaygınlaştırmak
D) Makine kullanımını arttırmak
E) Sulama koşullarının geliştirmek

46. Aşağıda Türkiye'nin indirgenmiş yıllık izo-term (eş sıcaklık) haritası verilmiştir.



Haritadaki bilgilere göre aşağıdakilerden hangisine ulaşamaz?

- A) Ege Bölgesinin en kuzeyi ile en güneyi arasındaki sıcaklık farkı yaklaşık 4°C dir.
 B) En düşük sıcaklıklar Erzurum-Kars Bölümündedir.
 C) Aynı enlem üzerinde yer alan merkezlerde sıcaklık aynıdır.
 D) Güneydoğu Anadolu Bölgesi'nde kuzeye doğru gidildikçe sıcaklıklar azalmaktadır.
 E) Akdeniz Bölgesi'nin sıcaklık ortalaması Güneydoğu Anadolu Bölgesi'nden daha düşüktür.
47. Aşağıdaki Türkiye haritasında bazı alanlar taranarak gösterilmiştir.



Taralı alanların doğal koşulları göz önüne alındığında bu alanlarda aşağıdaki tarım ürünlerinden hangisinin yetiştirilmesi beklenemez?

- | I | II |
|--------------|-------------|
| A) Fındık | Ayçiçeği |
| B) Kenevir | Zeytin |
| C) Buğday | Üzüm |
| D) Turunçgil | Çay |
| E) Mısır | Şekerpancar |

48. Doğu Anadolu Bölgesinde yer alan akarsuların özellikle yukarı kesimlerinde akım kış aylarında çok azalır.

Bu durumun nedeni aşağıdakilerden hangisidir?

- A) Barajlarda bu dönemde su tutulmasının artması
 B) Bu alanda yer alan akarsuların boylarının kısa olması
 C) Kış yağışlarının daha çok kar şeklinde düşmesi
 D) Bu alanda engebe oranının fazla olması
 E) Akarsuların havzalarının dar olması
49. Hukuk kurallarına aykırı olarak yapılmış bir idari işlemin yargı organı kararıyla ortadan kaldırılmasını ifade eden hukuki yaptırım aşağıdakilerden hangisidir?
- A) İptal B) Tazminat C) Cebr-i icra
 D) Ceza E) Hükümsüzlük
50. Seçimlerle ilgili her türlü denetim yetkisi aşağıdakilerden hangisine aittir?
- A) Sayıştay
 B) TBMM
 C) Yargıtay
 D) Danıştay
 E) Yüksek Seçim Kurulu
51. Aşağıdakilerden hangisi hukuk devleti ilkesinin unsurları içinde sayılmaz?
- A) Yürütme işlemlerinin yargısal denetimi
 B) Yasama işlemlerinin yargısal denetimi
 C) Devlet yönetiminin din kurallarından etkilanmemesi
 D) Yargı bağımsızlığı
 E) Kanuni hakim güvencesi
52. Yasama sorumsuzluğuna ilişkin olarak aşağıdakilerin hangisi söylenemez?
- A) Sorumsuzluk hayat boyu sürer
 B) Sorumsuzluk sadece cezai takibata karşı mutlak koruma sağlar
 C) Suç teşkil eden eylemin sorumsuzluğun kapsamında olabilmesi için oy, söz veya düşünce açıklaması biçiminde gerçekleşmesi gerekir
 D) Sorumsuzluk Meclis tarafından kaldırılmaz
 E) Hakaret ve sövme suçu teşkil eden eylem ve sözler Anayasada sorumsuzluğun kapsamı dışında tutulmuştur

53. Aşağıdakilerden hangisi ara verme ve tatil sırasında TBMM'nin toplantıya çağrılmasını talep edemez?

- A) MGK
- B) Bakanlar Kurulu
- C) Meclis Başkanı
- D) Cumhurbaşkanı
- E) TBMM üye tamsayısının 1/5' i

54. Aşağıdakilerden hangisi Meclis Başkanı'nın görevlerinden değildir?

- A) Cumhurbaşkanına vekalet etmek
- B) Meclisin kolluk ve yönetim hizmetlerini yürütmek
- C) Meclis toplantılarına başkanlık etmek
- D) Tatil sırasında Meclisi toplantıya çağırarak
- E) Cumhurbaşkanıyla birlikte seçimlerin yenilenmesine karar vermek

55. Hangisi merkezi idarenin taşra teşkilatı örgütlerindendir?

- A) Bakanlık
- B) Devlet Planlama Teşkilatı
- C) İl İdaresi
- D) Başbakanlık
- E) Belediye

56. Aşağıdakilerden hangisi tüzel kişilerin kendiliğinden sona erme sebeplerinden biri değildir?

- A) Amacın gerçekleşmiş olması
- B) Sürenin geçmiş olması
- C) Aciz haline düşme
- D) Genel Kurul kararıyla sona erme
- E) Yönetim kurulunu kuramayacak hale gelme

57. 1982 Anayasasına göre "Çalışma Hakkı" aşağıda belirtilen haklardan hangisine girer?

- A) Özel haklar
- B) Sosyal ve ekonomik haklar
- C) Kişisel haklar
- D) Siyasi haklar
- E) Negatif statü hakları

58. Siyasi parti grupları ile ilgili olarak aşağıdakilerden hangisi yanlıştır?

- A) Siyasi parti grupları, üye sayıları oranında Meclis Başkanlık Divanına katılırlar
- B) Siyasi parti grupları gensoru önergesi verebilirler
- C) Siyasi parti grupları Meclis Başkanlığı için aday gösterebilirler
- D) Siyasi parti grupları, meclis araştırması yapılmasını isteyebilirler.
- E) Siyasi parti grupları, genel görüşme yapılmasını isteyebilirler.

59. Mali yapıları zayıfladığı için, devlete ve mevduat sahiplerine karşı olan yükümlülüklerini yerine getiremeyen bankalar aşağıdakilerden hangisine devredilir?

- A) Türkiye Bankalar Birliği
- B) TC Merkez Bankası
- C) Hazine Müsteşarlığı
- D) Maliye Bakanlığı
- E) Tasarruf Mevduatı Sigorta Fonu

60. Çevrenin ve doğanın korunması için faaliyet gösteren zaman zaman faaliyetlerini eylemleri yoluyla duyuran dünya çapında faaliyet gösteren çevre örgütü aşağıdakilerden hangisidir?

- A) Kyoto Eylem Grubu
- B) Tema Vakfı
- C) Green Peace
- D) UNDP
- E) Küresel Eylem Grubu

LÜTFEN CEVAPLARINIZI KONTROL EDİNİZ.