

GENEL KÜLTÜR

DİKKAT: BU BÖLÜMDE YANITLAYACAĞINIZ SORU SAYISI 60'TIR.

1-30 SORU

"Atatürk İlkeleri ve İnkılap Tarihi" ile "Türk Kültür ve Medeniyetleri"

31-48 SORU

"Türkiye Coğrafyası"

49-60 SORU:

"Temel Yurttaşlık Bilgisi ve Güncel Konular" ile ilgilidir.

Bu bölümdeki sorularla ilgili cevaplarınızı, cevap kağıdınızdaki "GENEL KÜLTÜR" bölümüne işaretleyiniz.

- Aşağıdakilerden hangisi Orta Asya'da kurulan Türk devletlerine ait yönetim özelliklerinden biri değildir?**
A) Devlet, sağ(doğu), sol(batı) ve merkez olmak üzere üçe ayrılarak yönetilir.
B) Devlet törelere uygun yönetilir.
C) Hükümdar kendinden sonra gelecek veliahtı tek başına tayin eder.
D) Hatun(Katun) eşlerine devlet yönetiminde destek olurdu.
E) Devletin başına geçebilmek için kut sahibi olmak esastır.
- Osmanlı Devletinde yönetime idareci yetiştiren saray için okul aşağıdakilerden hangisidir?**
A) Lonca
B) Sahn-ı Seman
C) Sibyan mektebi
D) Medrese
E) Enderun
- I. Nişancı
II. Defterdar
III. Şeyhülislam
IV. Reis'ül Küttab**
Yukarıda verilen divan üyelerinden hangisi ilmiyye sınıfındandır?
A) I-II
B) Yalnız III
C) III-IV
D) I – III
E) I-II-IV
- I. Mülk arazi
II. İktâ arazi
III. Vakıf arazi
IV. Ocaklık**
Yukarıda verilen arazi türlerinden hangisi Büyük Selçuklu Devleti toprak yönetiminde de görülen türlerden birisi değildir?
A) Yalnız IV
B) I-II
C) II – III
D) II – III –IV
E) Yalnız III1
- Aşağıda verilen Osmanlı Devleti ıslahatlarından hangisi Lale Devri'nde yapılmıştır?**
A) Yabancılar mülk satışı serbest bırakılmıştır.
B) Askerlik bir vatan görevi haline getirildi.
C) Herkesten gelirine göre vergi alındı.
D) Matbaa kurularak eser basımına geçilmiştir.
E) Yeniçerilerin ilk defa sayımı yapılmıştır.
- Osmanlı'da vergiler şer'i ve örfi olarak ikiye ayrılır. Aşağıdakilerden hangisi örfi vergilerden değildir?**
A) Çift Resmi
B) Ağnam
C) Haraç
D) Pençik Resmi
E) Avarız
- I. Meşrutiyet ile birlikte Osmanlı Devleti'nin dağılmasını önlemek adına çeşitli akımlar ortaya çıkmıştır. Aşağıdakilerden hangisi I. Meşrutiyetin en etkin akımı olmuştur?**
A) Osmanlıcılık
B) Türkçülük
C) Turancılık
D) Batıcılık
E) Adem-i Merkeziyetçilik
- Trablusgarp Savaşı aşağıda verilen olayların hangisinin başlamasıyla sona ermiştir?**
A) İtalya'nın siyasi birliğini tamamlamasıyla
B) Balkan Savaşı'nın başlamasıyla
C) İngiltere'nin Rusya ile Reval Görüşmelerini yapmaya başlamasıyla
D) Almanya ile Osmanlı'nın askeri ve politik yakınlaşmasıyla
E) Milli Mücadelenin başlamasıyla
- Aşağıda verilen cephelerden hangisi Mustafa Kemal Paşanın katıldığı cephelerden birisi değildir?**
A) Kafkas Cephesi
B) Suriye-Filistin Cephesi
C) Hicaz-Yemen Cephesi
D) Trablusgarp Cephesi
E) Sakarya Cephesi
- Aşağıda verilen cemiyetlerden hangisi Milli Mücadele yanlısı faaliyetleri ile bilinenlerden biri değildir?**
A) Karakol Cemiyeti
B) Hınçak Cemiyeti
C) Trabzon Müdafaa-i Hukuk Cemiyeti
D) Milli Kongre Cemiyeti
E) İzmir Redd-i İlhak Cemiyeti
- Mustafa Kemal'in Sivas Kongresi'nde çıkarılmasına karar verdiği gazete aşağıdakilerden hangisidir?**
A) İrade-i Milliye
B) Ceride-i Havadis
C) Hakimiyet-i Milliye
D) Açıksöz
E) Tasvir-i Efkâr

12. I. Vatanın bütünlüğü milletin bağımsızlığı tehlikededir.
II. Milletin bağımsızlığını yine milletin azim ve kararlılığı kurtaracaktır.
III. Sivas'tan ulusal bir kongre toplanacaktır.

Yukarıda Amasya Genelgesi ile ilgili verilen esaslardan hangisi Milli Mücadelelerin yön-temini belirlemiştir?

- A) Yalnız I B) I – II C) Yalnız II
D) II – III E) I – II ve III

13. Misak-ı Milli'nin amacı aşağıda verilenlerden hangisi olamaz?

- A) Devletin ulusal sınırlarını belirlemek
B) Kapitülasyonları kaldırılmasını sağlamak
C) Osmanlı'ya itibarını yeniden eline alma şansı vermek
D) Halk oylamasının yapılmasını önlemek
E) Avrupalıların devletin içişlerine müdahalesini önlemek

14. TBMM'nin nitelikleri aşağıda verilmiştir. **Bunlardan hangisi TBMM'nin yeni bir devletin temeli olduğunun göstergesidir?**

- A) İnkılapçı ve yenilikçidir.
B) Güçlerbirliği esasına bağlıdır.
C) Kurucu bir meclistir.
D) Azınlıklara yer vermediği için ulusal bir meclistir.
E) Meclis hükümeti sistemi benimsemiştir.

15. I. İnönü Savaşı sonrası yaşanan gelişmeler aşağıda verilmiştir. **Bunlardan hangisi yeni bir devletin kurulmasının ilk işaretleri kabul edilemez?**

- A) İstiklal Marşı'nın ulusal marş kabul edilmesi
B) Teşkilat-i Esasi yürürlüğe girmesi.
C) Afganistan ile dostluk antlaşması imzalanması.
D) Sovyet Rusya ile Moskova Antlaşması'nın imzalanması.
E) TBMM'ye duyulan güven artması.

16. I. Eskişehir gibi önemli bir üs ilk defa düşman eline geçmiştir.
II. TBMM, M.Kemal Paşa'ya Mareşallik rütbesi vermiştir.
III. El sanatları ile uğraşan zanaatkarların da ordu hizmetine girmesi esası benimsenmiştir.
IV. M.Kemal Paşa'nın orduyu Sakarya'nın doğusuna çekmesine sebep olmuştur.

Yukarıda verilen özelliklerden hangisi Kütahya-Eskişehir Savaşı'nın sonuçları arasında yer alır?

- A) I – II B) II – III C) I - IV
D) I – III – IV E) Yalnız II

17. I. Bölgesel Kuva-i Milliye birliklerini destekleme
II. Ulusal bilinci harekete geçirme
III. Bölgesel direnişi başlatma
IV. İstanbul'a karşı halkın tavrını ortaya koyma

Yukarıda verilen esaslardan hangisi toplumun başlattığı hareketin topyekün Türk toplumunun bir girişimi olduğunu göstermez?

- A) I – III B) II – IV C) Yalnız III
D) I, II ve III E) II ve III

18. Mustafa Kemal Paşa aşağıda verilen kongrelerden hangilerinde yer almıştır?

- A) Balıkesir – Elazığ Kongreleri
B) Pozantı – Erzurum Kongreleri
C) Alaşehir – Edirne Kongreleri
D) Sivas – Afyon Kongreleri
E) Lüleburgaz – İzmir İktisadi Kongreleri

19. Moskova Antlaşması ile TBMM;

- I. Rusya ile askeri, ekonomik, siyasi işbirliği resmileştirmiştir.
II. Misak-ı Milli'yi tüm Avrupalı devletler tanımak zorunda kalmıştır.
III. Osmanlı Devleti'nin siyasi varlığı Sovyet Rusya için son bulmuştur.

Yukarıda özellikleri verilen Moskova Antlaşmasının hangi maddeleri doğru verilmemiştir?

- A) Yalnız I B) II ve III C) Yalnız II
D) I ve III E) I, II ve IV

- 20. Milli Mücadele döneminde;**
Bazı ulusal cemiyetler TBMM yanında silahlı mücadeleye başlarken bazı çetelerde TBMM'ye karşı isyanlara katılmışlardır. Bu olaylar örgütlenme döneminde arka arkaya yaşanmıştır.
İsyanların sebepleri aşağıdakilerden hangisinde doğru verilmiştir?
A) İstanbul Hükümeti'nin TBMM'yi halka rağmen desteklemesi
B) İtilaf güçlerinin Anadolu hareketinden rahatsız olması
C) "Meclis Hükümeti" sisteminin benimsenmiş olması
D) Londra Konferansı'ndaki barış önerilerinin TBMM tarafından reddetilmesi
E) TBMM'nin Sovyet Rusya ile yakınlaşmaya başlaması
- 21. Milli Mücadele döneminde Mustafa Kemal Paşa "Gazilik" ve "Mareşallik" rütbelerini aşağıdaki kurumların hangisinden almıştır?**
A) İçişleri Bakanlığı
B) Milli Savunma Bakanlığı
C) Türkiye Büyük Millet Meclisi
D) Meclis-i Mebusan
E) Genelkurmay Başkanlığı
- 22. İtalyanlar aşağıda verilen savaşların hangisinde Anadolu'dan çekilme kararlarını ilk kez dünya kamuoyuna duyurmuştur?**
A) Trablusgarp Savaşı
B) Sakarya Savaşı
C) I. İnönü Savaşı
D) II. İnönü Savaşı
E) Kütahya –Eskişehir Savaşı
- 23. TBMM'de oluşan gruplardan hangisi İttihat ve Terakki'nin devamı niteliğinde faaliyet göstermiştir?**
A) Yeşil Ordu
B) İstiklal Grubu
C) Müdafaa-i Hukuk Grubu
D) Tesanüd Grubu
E) İstikbâl Grubu
- 24. I. Kuva-i Milliye
II. Kuva-i İnzibatiye
III. Kuva-i Seyyere**
Yukarıda verilen bölgesel kuvvetlerden hangisi Anadolu'daki Milli Mücadele sorununa doğrudan ve hızla müdahale amacıyla kurulmuş milli kuvvetlerden birisidir?
A) Yalnız I B) I ve II C) Yalnız III
D) II ve III E) I, II ve III
- 25. Atatürk inkılaplarından hangisi sosyal alanda yapılan yeniliklerden birisidir?**
A) Kılık-Kıyafet değişikliği
B) Maarif Teşkilatı Kanunu
C) Türk Medeni Kanunu
D) Cumhuriyet'in ilanı
E) Teşvik-i Sanayi Kanunu
- 26. Aşağıdakilerden hangisi laik devlet düzenine geçilebilmesi için yapılanlardan birisi değildir?**
A) Tevhid-i Tedrisat
B) Halifeliğin kaldırılması
C) Terakkiperver Cumhuriyet Fırkasının kapatılması
D) Şeyh Sait İsyanının bastırılması
E) Kılık-kıyafet inkılabının yapılması
- 27. Aşağıda verilen inkılaplardan hangisi milliyetçilik ilkesi doğrultusunda yapılmamıştır?**
A) Türk Dil Kurumunun kurulması
B) Kabotaj Kanununun çıkarılması
C) TBMM'nin açılması
D) Türk Devleti'nin kurulması
E) Yasalar önünde herkesin eşit olması
- 28. I. Türk Kızılay'ının kurulması
II. Halkevlerinin kurulması
III. Millet Mekteplerinin açılması
IV. Köy Enstitülerinin açılması**
Yukarıda verilen kurumlardan hangisi Atatürk'ün kurduğu kurumlardan değildir?
A) I, II ve III B) II, III ve IV C) II ve III
D) I ve IV E) I, III ve IV
- 29. I. Medeni Kanunun kabulü
II. Kadınlara seçme-seçilme hakkının verilmesi
III. Takrir-i Sükun Kanununun çıkarılması**
Yukarıdaki gelişmelerin kronolojik sıralanışı aşağıdakilerden hangisidir?
A) I – II – III B) II – III – I C) III – I – II
D) I – III – II E) II – I – III
- 30. Balkan Pakti'nin kurulmasında;**
I. İtalya'nın Almanya'nın yayılmacı bir politika takip etmesi
II. Boğazlar üzerindeki sınırlamaların kaldırılması
III. Sovyet Rusya'nın kendi rejimini dünyaya yaymak istemesi
gibi gelişmelerden hangisinin etkisi vardır?
A) Yalnız I B) I ve II C) II ve III
D) I ve III E) I, II ve III

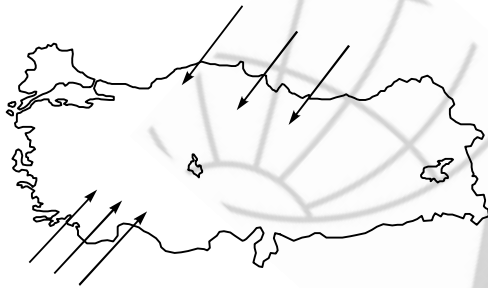
31. Aşağıdakilerden hangisi, Karadeniz Bölgesi'nde nüfusun yoğun olduğu yörelerden biri değildir?

- A) Doğu Karadeniz kıyı kesimi
- B) Zonguldak çevresi
- C) Çarşamba ovası
- D) Orta Karadeniz kıyı kesimi
- E) Çoruh – Kelkit vadisi

32. Akdeniz Bölgesi'nde daha çok taş evlerin yaygın olmasının temel nedeni aşağıdakilerden hangisidir?

- A) Doğal çevre
- B) Ekonomik yapı
- C) Kültürel özellikler
- D) Bitki örtüsü
- E) Yağış miktarı

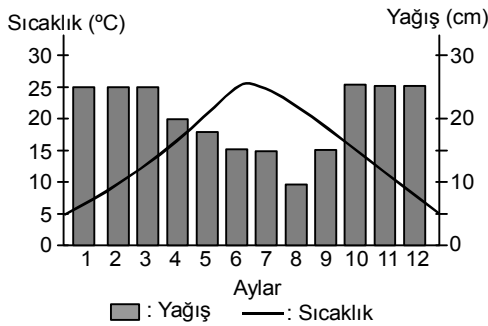
33.



Yukarıdaki Türkiye haritasında oklar yönünde esen yerel rüzgârlar aşağıdakilerden hangisidir?

- A) Yıldız – Keşişleme
- B) Poyraz – Lodos
- C) Kible – Karayel
- D) Samyeli – Poyraz
- E) Lodos – Yıldız

34.



Yukarıda sıcaklık ve yağış grafiği verilen ilimiz aşağıdakilerden hangisi olabilir?

- A) Tekirdağ
- B) İzmir
- C) Samsun
- D) Antalya
- E) Bilecik

35. Akdeniz ikliminin maki bitki örtüsüyle hemen her yerde görülen karakteristik ağaç aşağıdakilerden hangisidir?

- A) Ladin
- B) Sedir
- C) Karaçam
- D) Köknar
- E) Kızılçam

36.



Yukarıdaki şekil Kapıdağ Yarımadası'nın bir bölümüdür. Daha önce ada konumunda olan Kapıdağ'ın yarımada konumunu almasında birinci derecede etkili olan dış kuvvet dalgalarıdır.

Bu yerşeklinin adı aşağıdakilerden hangisidir?

- A) Deniz kulağı
- B) Kıyı oku
- C) Lagün
- D) Tombolo
- E) Falez

37. Sıcak iklim bölgelerinin bitkisidir. Yetiştirme döneminde yüksek neme ve bol yağışa gereksinim duyar. Alüvyonlu toprakları sever. Olgunlaşma döneminde ise kuraklık ister. Türkiye'de en fazla kıyı Ege ve Akdeniz bölgelerinde yetiştir.

Yukarıda hangi tarım bitkisinden söz edilmektedir?

- A) Şekerpancarı
- B) Pamuk
- C) Ayçiçeği
- D) Zeytin
- E) Kenevir

38.

- Mısır
- Pamuk
- Ayçiçeği
- Buğday

Aşağıdaki illerden hangisinde, yukarıda verilen tarım bitkilerinin tümü yetiştirilemez?

- A) Urfa
- B) Balıkesir
- C) Denizli
- D) Afyon
- E) Aydın

39. Tahıl ürünleri arasında en çok emek isteyen aşağıdakilerden hangisidir?

- A) Buğday
- B) Pirinç
- C) Mısır
- D) Arpa
- E) Yulaf

40. Aşağıda verilen tarım ürünlerimizden hangisinin belirli yörelerde toplanmasının doğal yetiştirme koşullarıyla fazla ilgisi yoktur?

- A) Tütün
- B) Mısır
- C) Pamuk
- D) Üzüm
- E) Ayçiçeği

41. Türkiye’de aşağıdaki hayvancılık faaliyetlerinden hangisi ya da hangileri bitki örtüsünün çeşitliliğine ve tarım ürününün dağılımına göre yaygınlık gösterir?

- I. Koyun besiciliği
- II. Büyükbaş hayvancılık
- III. Arıcılık
- IV. Tiftik keçisi
- V. İpekböcekçiliği

- A) I ve II
- B) Yalnız V
- C) III ve V
- D) Yalnız III
- E) II ve III

42. Aşağıdaki bölgelerimizden hangisinde, jeo-termal enerji kaynaklarından yararlanarak seracılık yapıldığında maliyet düşük olur?

- A) Ege Bölgesi
- B) Marmara Bölgesi
- C) Akdeniz Bölgesi
- D) Güneydoğu Anadolu Bölgesi
- E) Karadeniz Bölgesi

43. Aşağıda ülkemizde bulunan bazı sanayi kolları ve bu sanayi kollarının bulunduğu merkezler eşleştirilmiştir.

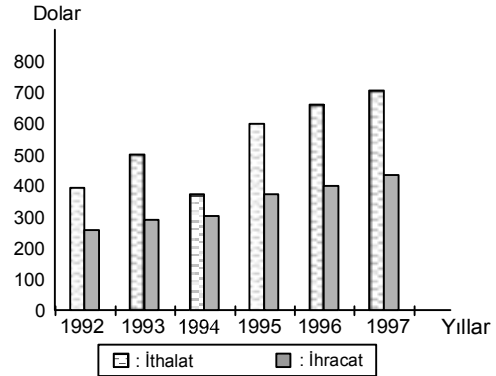
Buna göre eşleştirmelerden hangisi yanlıştır?

- A) Demir – çelik – Kırıkkale
- B) Pamuklu dokuma – Manisa
- C) Yağ endüstrisi – İzmir
- D) Oto lastiği – Adana
- E) Kâğıt endüstrisi – Malatya

44. Aşağıdakilerden hangisi Akdeniz Bölgesi’nde turizmi geliştiren etkenlerden biri olamaz?

- A) Damlatış mağaraları
- B) Obruklar
- C) Kıyı plajları
- D) Güneşli gün sayısının fazlalığı
- E) Antik kent ve harabeler

45. Aşağıdaki grafikte, Türkiye’nin 1992–1997 yılları arasındaki kişi başına ithalat ve ihracat durumu gösterilmiştir.



Aşağıdakilerden hangisi bu grafikten çıkarılacak bir sonuç değildir?

- A) 1997 yılındaki ithalatımız, ihracatımızdan fazladır.
- B) 1995 yılındaki ithalat ve ihracat 1993 yılına göre artmıştır.
- C) 1992–1997 yılları arasında yıllık ihracatta sürekli artış görülmüştür.
- D) 1993 yılındaki ithalat, 1994 yılına göre fazladır.
- E) 1994 yılındaki dış ticaret açığı diğer yıllara göre fazladır.

46. Ülkemizde yük ve yolcu taşımacılığı kara yoluna göre daha ucuz olmasına rağmen demiryolları ağıımız kara yoluna göre daha azdır.

Ülkemizde demiryolu taşımacılığının gelişmemiş olmasının en önemli nedeni aşağıdakilerden hangisidir?

- A) İklim şartlarının elverişsizliği
- B) Arazinin engebeli olması
- C) Kalifiye eleman yetiştirilememesi
- D) Kara, deniz ve hava ulaşımının gelişmiş olması
- E) Sadece askeri araçlar, kömür, tahıllar ve şekerpancarı gibi yüklerin taşınmasında kullanılması

47. Türkiye’de orman varlığının azalmasının temel nedeni aşağıdakilerden hangisidir?

- A) Kıl keçisi besiciliği
- B) Buharlaştırmanın şiddetli olması
- C) Yağışların azalması
- D) Beşeri faktörler
- E) Orman köylerinde tarla kazanımı

48. Ülkemiz bölgelerinin genel özellikleri düşünüldüğünde, aşağıda bölgelerimiz ile ilgili verilmiş bilgilerden hangisinin doğru olduğu söylenemez?
- A) Karadeniz Bölgesi'nden sonra en çok göç gönderen bölge Doğu Anadolu Bölgesi'dir.
 B) Güneydoğu Anadolu Bölgesi göl bakımından en fakir bölge olmasına karşın, göl oluşumu bakımından en fazla çeşitlilik gösteren bölge İç Anadolu Bölgesi'dir.
 C) Soya fasulyesi ve mısır tarımı Karadeniz Bölgesi'nde ilk sırada iken pamuk ve nohut tarımında Akdeniz Bölgesi ilk sıradadır.
 D) Kışın Kuzey Anadolu dağları güney sektörlü rüzgârların Toroslarda, kuzey sektörlü rüzgârların geçişini engellediğinden kışların ılık geçmesine neden olur.
 E) Sığıla yağının elde edildiği güllük ağacı dünyada sadece Ege Bölgesi'nde bulunurken Marmara Bölgesi de bor üretiminde birinci sıradadır.
49. Aşağıdakilerden hangisi devletin, toplumsal barışı ve adaleti sağlamak amacıyla toplumsal ve ekonomik yaşama etkin biçimde müdahalesini meşru ve gerekli gören devlet anlayışını ifade eder?
- A) Hukuk devleti
 B) İnsan haklarına dayanan devlet
 C) Laik devlet
 D) Demokratik devlet
 E) Sosyal devlet
50. Halk oylamasının usulüne uygun yapıp yapılmadığını denetleme yetkisi aşağıdakilerden hangisine aittir?
- A) Sayıştay B) TBMM
 C) Danıştay D) Yüksek Seçim Kurulu
 E) Yargıtay
51. Aşağıdakilerden hangisi 1982 Anayasasında siyasi haklar ve ödevler arasında sayılmıştır?
- A) Türk Vatandaşlığı
 B) Sendika Kurma Hakkı
 C) Dernek Kurma Hakkı
 D) Toplantı ve Gösteri Yürüyüşü Düzenleme Hakkı
 E) İspat Hakkı
52. Laiklik ilkesi ilk defa aşağıdakilerden hangisi ile kabul edilmiştir?
- A) 1876 Kanun-u Esasisi
 B) 1921 Anayasası
 C) 1924 Anayasası
 D) 1961 Anayasası
 E) 1982 Anayasası
53. Anayasayı değiştirme sürecinin başlayabilmesi için gerekli olan teklif oranı en az kaçtır?
- A) TBMM üye tamsayısının 1/3'ü
 B) TBMM üye tamsayısının 3/5'ü
 C) TBMM üye tamsayısının 2/3'ü
 D) TBMM üye tamsayısının salt çoğunluğu
 E) TBMM üyelerinin tamamı
54. 1982 Anayasası'na göre yürütme yetkisi ve görevi aşağıdakilerden hangisi tarafından yerine getirilir?
- A) Cumhurbaşkanı
 B) Bakanlar Kurulu
 C) Bakanlar
 D) Valilikler ve Bakanlar Kurulu
 E) Cumhurbaşkanı ve Bakanlar Kurulu
55. Aşağıdaki düzenleyici işlemlerden hangisinin yürürlükteki kanun hükümlerini değiştirmesi veya yürürlükten kaldırması mümkündür?
- A) Kanun Hükmünde Kararname
 B) Yönetmelik
 C) Tüzük
 D) Sirküler
 E) Genelge
56. Askeri Yargıtay ve Askeri Yüksek İdare Mahkemesi üyeleri aşağıdakilerin hangisi tarafından seçilmektedir?
- A) Yargıtay
 B) Danıştay
 C) Genel Kurmay Başkanlığı
 D) Cumhurbaşkanı
 E) Bakanlar Kurulu
57. TBMM genel seçimlerinden önce Aşağıdaki bakanlardan hangisinin görevinden çekilmesi zorunludur?
- A) Ulaştırma Bakanı
 B) Maliye Bakanı
 C) Dış İşleri Bakanı
 D) Sanayi ve Ticaret Bakanı
 E) Milli Eğitim Bakanı
58. Aşağıdakilerden hangisi Birleşmiş Milletler bünyesinde faaliyet gösteren Eğitim, Bilim ve Kültür örgütünü ifade eder?
- A) FAO B) UNEP C) UNICEF
 D) UNESCO E) ILO
59. Yeni seçilen Anayasa Mahkemesi Başkanı aşağıdakilerden hangisidir?
- A) Tülay Tuğcu
 B) Haşim Kılıç
 C) Yekta Güngör Özden
 D) Hasan Söğüt
 E) Osman Şahin
60. Altın Portakal film festivali hangi ilimizde yapılmaktadır?
- A) İstanbul B) Adana C) Ankara
 D) Antalya E) Mersin

LÜTFEN CEVAPLARINIZI KONTROL EDİNİZ.