

GENEL KÜLTÜR

DİKKAT: BU BÖLÜMDE YANITLAYACAĞINIZ SORU SAYISI 60'TIR.

1-30 SORU

"Atatürk İlkeleri ve İnkılap Tarihi" ile "Türk Kültür ve Medeniyetleri"

31-48 SORU

"Türkiye Coğrafyası"

49-60 SORU:

"Temel Yurttaşlık Bilgisi ve Güncel Konular" ile ilgilidir.

Bu bölümdeki sorularla ilgili cevaplarınızı, cevap kağıdınızdaki "GENEL KÜLTÜR" bölümüne işaretleyiniz.

1. I. Avrupa'da devlet kurmuşlardır
II. Alfabeyi kullanmışlardır
III. Mimari alanda gelişmişlerdir
IV. İlk yazılı anıtları dikmişlerdir

Yukarıdaki özelliklerden hangileri Uygurlara aittir?

- A) Yalnız II B) Yalnız III C) II ve III
D) II ve IV E) III ve IV

2. I. Ölülerin başına balbal dikilmesi
II. Kut anlayışının olması
III. Ölülerin değerli eşyalarıyla birlikte gömülmesi

Yukarıdakilerden hangileri eski Türklerin ölümden sonra yaşama inandıklarına kanıt olarak gösterilebilir?

- A) Yalnız I B) Yalnız II C) Yalnız III
D) I ve II E) I,II ve III

3. Anadolu'da inşa edilen ilk Kervansaray, ilk Medrese ve ilk Külliye sırasıyla aşağıdakilerden hangisinde doğru olarak verilmiştir?

<u>İlk Kervansaray</u>	<u>İlk Medrese</u>	<u>İlk Külliye</u>
A) Alay Han	Yağbasan	Şifaiye
B) Hekimhan	Hond Hatun	Cacabey
C) Alayhan	Yağbasan	Divriği
D) Sultan Han	Karatay	Gök
E) Hekim Han	Yağbasan	Divriği

4. Osmanlı'nın güçlü bir devlet olmasında;
I. Jeostratejik konumu
II. Güçlü bir merkezi otoriteye sahip olması
III. Anadolu Beylikleri arasında mücadelenin olması

durumlarından hangileri etkilidir?

- A) Yalnız I B) I ve II C) Yalnız III
D) II ve III E) I,II ve III

5. I. Dirlik olarak verilen topraklarda güvenliği sağlamak
II. Hazinesinin yükünü hafifletmek
III. Feodal yönetimleri güçlendirmek

Yukarıda verilenlerden hangisi tımar sisteminin amaçları arasında gösterilemez?

- A) Yalnız I B) Yalnız III C) I ve II
D) II ve III E) I,II ve III

6. Lale Devrinde yapılan sosyo-kültürel gelişmeler arasında;

- I. Tercüme odalarının kurulması
II. Kütüphanenin açılması
III. İlk daimi elçiliklerin açılması

benzeri gelişmelerden hangisi yoktur?

- A) Yalnız II B) Yalnız III C) I ve II
D) II ve III E) I,II ve III

7. Mısır sorununun ortaya çıkmasına sebep olan antlaşma aşağıdakilerden hangisidir?

- A) Kutahya Antlaşması
B) Ayastefanos Antlaşması
C) Londra Boğazlar Sözleşmesi
D) Nizip Antlaşması
E) Hünkâr İskelesi Antlaşması

8. Aşağıda verilen gelişmelerden hangisi I. ve II. Meşrutiyet dönemi arasındaki istibdat döneminde yaşanmamıştır?

- A) Bulgaristan'ın bağımsızlığını ilan etmesi
B) Duyun-u Umumiye teşkilatının kurulması
C) Mecelle Kanununun yürürlüğe girmesi
D) Avcı Taburlarının kurulması
E) Teşkilat-ı Mahsusa'nın temellerinin atılması

9. Trablusgarp Savaşı devam ederken, Osmanlı Devleti'nin İtalyanlardan barış istemesinin temel sebebi aşağıda verilenlerden hangisidir?

- A) I. Dünya Savaşının başlamış olması
- B) Almanların Osmanlı Devleti ile dostluk kurması
- C) Mebusan Meclisinin kapatılması
- D) Balkan Savaşlarının çıkmış olması
- E) Osmanlı'da rejim değişikliğinin olması

10. I. Dünya Savaşında Arapların İngilizlerin yanında yer alması ile Osmanlı Devleti'nde II. Meşrutiyetten sonra siyasi anlamda etkin olan hangi akım önemini kaybetmiştir?

- A) Osmanlıcılık
- B) Adem-i Merkeziyetçilik
- C) Turancılık
- D) Ümmetçilik
- E) Türkçülük

11. I. Dünya barışı üzerine kararlar almak
II. Osmanlı topraklarının paylaşımını konuşmak
III. Cemiyet-i Akvam'ın kuruluş esaslarını belirlemek

Yukarıda verilen özelliklerden hangisi Paris Barış Konferansının toplanma amaçları arasında yer alır?

- A) Yalnız I B) Yalnız II C) I ve II
- D) II ve III E) I,II ve III

12. Kuva-i Milliye'nin ilk toplu direnişinin gerçekleştiği yer aşağıdakilerden hangisinde doğru verilmiştir?

- A) İzmir B) Nazilli C) Ayvalık
- D) Dörtöyl E) Pozantı

13. "İstanbul'un Anadolu'ya egemen değil, bağımlı olmak zorunda olduğu" fikri aşağıdakilerin hangisinde ortaya çıkmıştır?

- A) Havza Genelgesi
- B) Amasya Genelgesi
- C) Erzurum Kongresi
- D) Sivas Kongresi
- E) Amasya Görüşmeleri

14. TBMM'nin açılmasında;

- I. İstanbul'un işgale uğraması
- II. Müdafaa-i Hukuk Cemiyetlerinin kurulması
- III. Mebusların tutuklanmaları

durumlarından hangileri etkili olmuştur?

- A) Yalnız I B) Yalnız II C) I ve III
- D) II ve III E) I, II ve III

15. I. Kuva-i Milliye'yi destekleme
II. Mandatlerlik düşüncesine karşı çıkma
III. Bölgesel kurtuluş çabalarına karşı çıkma

Yukarıda verilenlerden hangisi milli mücadele döneminde toplanan ulusal kongrelerin ortak özelliğidir?

- A) Yalnız I B) Yalnız II C) Yalnız III
- D) II ve III E) I,II ve III

16. Sivas Kongresi kararlarına bakıldığında;

- I. Manda ve himaye kesinlikle kabul edilemez
- II. Cemiyetler tek bir güç etrafında birleştirilecektir.
- III. Ali Fuat Cebesoy, Batı Cephesi Komutanı olacaktır.

şeklinde esaslar benimsenmiştir. Buna göre aşağıdakilerden hangisi söylenemez?

- A) Temsil Heyeti hükümet gibi hareket etmiştir.
- B) Devletçilik ilkesi yerleştirilmek istenmiştir.
- C) Tam bağımsızlık temel esas olarak kabul edilmiştir.
- D) İtilaf kuvvetlerinden gelecek her türlü ekonomik yardım reddedilmiştir.
- E) Ulusal birlik sağlanmıştır.

17. I. Teşkilat-i Esasi'nin çıkarılması
II. İstiklal Mahkemelerinin kurulması
III. Karşı fetva yayınlanması
Yukarıda verilenlerden hangisi TBMM'nin ayaklanmalara karşı aldığı tedbirler arasında yer alır?

A) Yalnız I B) I ve II C) I ve III
D) II ve III E) I, II ve III

18. I. Sevr'i TBMM'ye kabul ettirmek
II. Aras Nehri-Çıldır Gölü arasındaki yeri ele geçirmek
III. Afyon, Kütahya, Eskişehir'i ele geçirmek ve Eskişehir'de askeri üs kurmak
Yukarıda verilenlerden hangisi I. İnönü Savaşı'nın sebepleri arasında yer almaz?

A) Yalnız I B) Yalnız II C) I ve II
D) II ve III E) I, II ve III

19. I. İtilaf Devletleri TBMM'yi resmen tanımışlardır.
II. İngiltere'de hükümet değişikliği olmuştur.
III. İstanbul, Marmara ve Boğazlar, Doğu Trakya savaşımlardan alınmıştır.
Mudanya Ateşkes Antlaşmasıyla ilgili yukarıda verilenlerden hangisi doğru değildir?

A) Yalnız I B) Yalnız II C) I ve II
D) II ve III E) I, II ve III

20. **Şeyh Said isyanı ile;**
I. Musul ve Kerkük
II. Çok partili siyasi denemelerin sonuçsuz kalması
III. Batı Trakya'nın kaybedilmesi
Türk hükümetinin kaybettiikleri yukarıda verilenlerden hangisi yer alır?

A) Yalnız I B) Yalnız II C) I ve II
D) II ve III E) I, II ve III

21. I. Medeni Kanun
II. Tevhid-i Tedrisat Kanunu
III. Takrir-i Sükûn Kanunu
Yukarıdaki kanunların hangileri hukuki ve kültürel alanda ikilikleri sona erdirmeye yöneliktir?

A) Yalnız I B) Yalnız II C) I ve III
D) I ve II E) I, II ve III

22. **Atatürk'ün,**
I. Şeriyeye ve Evkaf Vekaleti'nin kaldırılması
II. Medreselerin kaldırılması
III. Anayasanın laikleşmesi
yukarıda yeniliklerinden hangileri, Türk devletinde görülen laikleşme aşamalarından biridir?

A) Yalnız I B) I-II C) II-III
D) I-III E) I-II-III

23. I. Köy Enstitülerinin kurulması
II. Türk Ocaklarının kurulması
III. Elektrik İşleri ve Etüd İdaresinin kurulması
Yukarıda verilen kurumlardan hangisi Atatürk'ün kurduğu kurumlar arasında yer alır?

A) Yalnız I B) Yalnız III C) I ve II
D) II ve III E) I, II ve III

24. I. Yeni harflerinin kabulü
II. Türk Dil Kurumunun kurulması
III. Hafta tatilinin pazara alınması
Yukarıda verilen Cumhuriyet dönemi inkılaplarından hangisinde Batı ülkeleri ile birlikte hareket etmek isteği yoktur?

A) Yalnız I B) Yalnız II C) Yalnız III
D) II ve III E) I, II ve III

25. I. Sadabat Pakti
II. Locarno Pakti
III. Türkiye'nin NATO'ya üye olması
IV. Birleşmiş Milletlere Türkiye'nin üye olması
Türk dış siyasetinde meydana gelen bu olayların kronolojik sırası aşağıda verilenlerden hangisidir?

A) II-I-IV-III B) II-IV-III-I C) III-I-IV-II
D) IV-III-I-II E) II-IV-I-III

26. I. Razgrad Olayı
II. Bursa'da Arapça Ezan Olayı
III. Şeyh Said İsyanı
IV. 6-7 Eylül Olayları
Yukarıda verilen olaylardan hangisi Cumhuriyet döneminde rejime karşı çıkan isyanlar arasında değildir?

A) I,II ve III B) II,III ve IV C) I ve IV
D) I, III ve IV E) II ve IV

27. I. Berlin Antlaşması
II. Misak-ı Milli
III. Mudanya Ateşkes Antlaşması
Yukarıda verilen antlaşmalardan hangileri boğazlar meselesi ile ilgilidir?

A) Yalnız I B) Yalnız II C) I ve II
D) II ve III E) I,II ve III

28. Lozan Barış Antlaşmasında çözülemeyen ve Türkiye'nin iç sorun olarak kabul edip sonradan çözdüğü sorun aşağıdakilerden hangisidir?

A) Musul-Kerkük
B) Boğazlar
C) Yabancı Okullar
D) Osmanlı Borçları
E) Hatay meselesi

29. "Benim naciz vücudum bir gün elbet toprak olacaktır, fakat Türkiye Cumhuriyeti ilelebet payidar kalacaktır." sözleriyle Mustafa Kemal, rejimin sadece kendi kişiliğine bağlı olmadığını, onun kökleştiğinin vurgulamıştır. **Atatürk, bu sözleriyle aşağıda verilen ilkelerinden hangisinin özelliğine atıfta bulunmuştur?**

A) Devletçilik B) Cumhuriyetçilik
C) Laiklik D) Ulusçuluk
E) İnkılapçılık

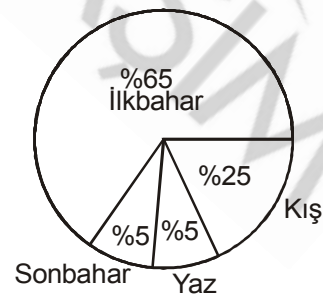
30. Atatürk'ün, "Savaş bir mecburiyet haline gelmezse, cinayettir." dediği sözü aşağıdakilerden hangisiyle doğrudan ilgilidir?

A) Uluslararası antlaşmalara uyma
B) Kültürel ilerleme
C) Ekonomik kalkınma
D) Dünya barışı
E) Teknolojik gelişme

31. Akdeniz Bölgesi'nde yer alan kentlerden hangisi yaz mevsiminde turizm nedeniyle nüfusunda artış beklenmeyen bir şehirdir?

A) Isparta B) Antalya C) Side
D) Dalaman E) Alanya

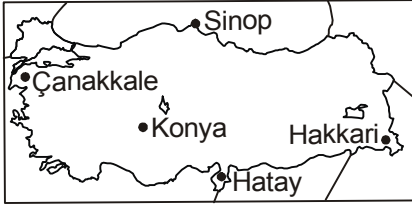
32. Aşağıda heyelanın Türkiye'de mevsimlere göre dağılışı grafikte gösterilmiştir.



- Buna göre, Türkiye'de heyelanların en fazla ilkbahar mevsiminde görülmesinin nedeni aşağıdakilerden hangisidir?**

A) Ormanlık alanların meralara çevrilmesi
B) Hayvan otlatılmasının artması
C) İlkbaharda bitki örtüsünün gürleşmesi
D) Yol ve tünel çalışmalarının hızlanması
E) Kar erimelerinin ve yağışın artması

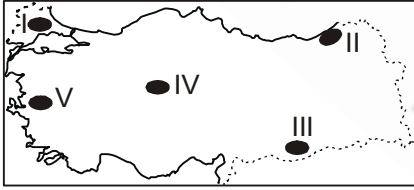
33.



Güneş ışınlarının ekvatora dik geldiği bir tarihte yukarıdaki Türkiye haritasında verilen kentlerden hangisinde öğle vakti yatay düzleme dik olarak konan cismin gölge boyu en kısadır?

- A) Sinop B) Hakkari C) Konya
D) Hatay E) Çanakkale

34. Bir vadinin önü toprak kayması sonucu tıkanarak heyelan set gölü oluşur.



Türkiye’de heyelanların dağılışı düşünüldüğünde yukarıdaki Türkiye haritasında taralı alanların hangisinde heyelan set gölüne rastlanır?

- A) I B) II C) III D) IV E) V

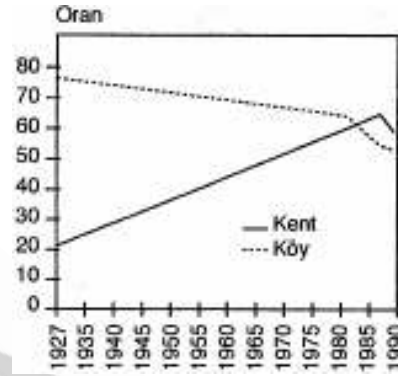
35. Aşağıdakilerden hangisi Ege Bölgesi’nin özelliği değildir?

- A) Kıyı Ege Bölümü, İç Batı Anadolu Bölümü’ne göre daha fazla gelişmiştir.
B) Alüvyonlarla örtülü verimli ovaları vardır.
C) Horst ve grabenler kıyıya dik uzanır.
D) İç Batı Anadolu Bölümü, Asıl Ege Bölümü’ne göre daha yüksektir.
E) En çok görülen yağış biçimi orografik yağışlardır.

36. Güneydoğu Anadolu Bölgesi’nin batı kesimlerinde zeytin üretiminin yapılabilmesi aşağıdakilerden hangisiyle açıklanır?

- A) Batı kesimlerinde Akdeniz ikliminin görülmesiyle
B) Toprak koşullarının verimli olmasıyla
C) GAP’ın yaygınlık göstermesiyle
D) Güneyden gelen sıcak rüzgarlara açık olmasıyla
E) Sulama olanaklarının iyi olmasıyla

37.



Yukarıdaki grafik, Türkiye’nin 1927–1990 yılları arasındaki köy ve kent nüfus oranlarının değişimini göstermektedir.

Aşağıdakilerden hangisi bu grafikten çıkarılabilecek bir sonuç değildir?

- A) 1980 ile 1985 yılları arasında köy ve kent nüfus oranı birbirine eşitlenmiştir.
B) Köylerde doğum oranı, kentlerden fazladır.
C) Kent nüfus oranı sürekli artmıştır.
D) 1927-1950 yılları arasında köy nüfus oranında büyük bir değişiklik olmamıştır.
E) Son yıllarda, nüfusun yarısından fazlası kentlerde yaşamaktadır.

38. Karstik arazinin yaygın olduğu yerlerde nüfus miktarı azdır.

Buna göre, aşağıdaki yerlerden hangisi böyle bir genellemeye uyar?

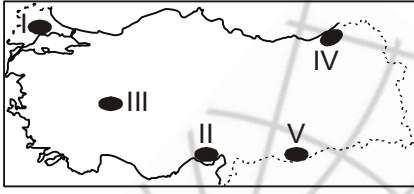
- A) Hakkari ve çevresi
B) Tuz gölü ve çevresi
C) Taşeli Platosu
D) Yıldız Dağları
E) Doğu Karadeniz

39. Karadeniz'den sonra batıya en çok göç gönderen bölge Doğu Anadolu'dur.

Bu durumun nedeni aşağıdakilerden hangisi değildir?

- A) İklim koşullarının elverişsiz olması
B) Ulaşım koşullarının elverişsiz olması
C) Yer altı kaynaklarının az olması
D) Sanayinin gelişmemesi
E) Yer şekillerinin engebeli olması

40. Makineleşme köyden kente göçe neden olur.



**Buna göre, yukarıdaki haritada taralı yörelerden hangisi böyle bir genellemeye uy-
maz?**

- A) I B) II C) III D) IV E) V

41. Tarım topraklarında tuz birikmesi olayına çoraklaşma denir. Aşırı yıkanmış topraklarda çoraklaşma az olur.



Haritada işaretli alanlardan hangisinde yer alan toprakta, çoraklaşma yukarıdaki açıklamaya göre daha azdır?

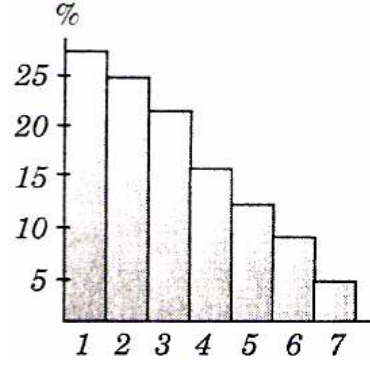
- A) I B) II C) III D) IV E) V

42. Buğday, özellikle ılıman iklimin yazları sıcak ve kurak geçen kesimlerinde yetişir. Orta derecede yağış alan yerler, buğday tarımı için elverişli değildir.

Buna göre, aşağıdaki bölümlerden hangisi buğday tarımına elverişli değildir?

- A) Ergene Bölümü
B) Konya Bölümü
C) Doğu Karadeniz Bölümü
D) Orta Fırat Bölümü
E) Yukarı Sakarya Bölümü

- 43.



Türkiye'de ormanların dağılışı ile nem ve yağış koşulları arasında bir ilişki vardır. Yukarıdaki grafikte 2003 yılında ormanlarımızın coğrafi bölgelere göre dağılışı gösterilmiştir. **Grafığe göre, 1 ve 2 numara ile gösterilen bölgelerimiz aşağıdakilerden hangisidir?**

	1	2
A)	Akdeniz	Karadeniz
B)	Karadeniz	Akdeniz
C)	Ege	İç Anadolu
D)	Karadeniz	Doğu Anadolu
E)	Marmara	Güneydoğu Anadolu

44. Akarsular, eğimin fazla olduğu yerlerde hızlı akar ve enerji potansiyelleri yüksektir.

Aşağıdaki bölgelerin hangisinde akarsuların akış hızları ve enerji potansiyelleri daha azdır?

- A) İç Anadolu B) Doğu Anadolu
C) Karadeniz D) Marmara
E) Akdeniz

45. Türkiye'de arıcılık faaliyetlerinin dağılışı ile ormanların ve yaylaların dağılışı arasında az çok bir paralellik vardır.

Buna göre, aşağıdaki illerin hangisinde arıcılık faaliyetleri önemli değildir?

- A) Rize B) Sinop C) Bolu
D) Muğla E) Şanlıurfa

46. Kırsal nüfusun fazla, buna karşılık tarım alanlarının az olduğu bölgelerde tarımsal nüfus yoğunluğu fazladır.

Buna göre, aşağıdaki bölge çiftlerinden hangisinde tarımsal nüfus yoğunluğu diğerlerine göre daha fazladır?

- A) Ege ve Marmara
B) İç Anadolu ve Ege
C) Akdeniz ve İç Anadolu
D) Karadeniz ve Doğu Anadolu
E) Doğu Anadolu ve Güneydoğu Anadolu

47. Bir bölgedeki endüstri faaliyetleri ile o bölgedeki hava, su ve toprak kirliliği arasında doğrudan bir ilişki vardır.

Buna göre ekonomik etkinlikler göz önüne alındığında aşağıdaki illerden hangisinde oluşan çevre kirliliğinde endüstriyel faaliyetlerin payı en çoktur?

- A) Bilecik B) Kocaeli C) Ordu
D) Tunceli E) Isparta

48. Karadeniz ve Akdeniz Bölgesi'nde kıyı ve iç kısımlar arasında ulaşım güçlükle yapılır. Bunun için birçok geçit kullanılır.

Aşağıdaki verilen geçitlerden hangisi Akdeniz Bölgesi'nde yer alan geçitlerden biri değildir?

- A) Kop B) Belen C) Sertavul
D) Gülek E) Çubuk

49. Aşağıdakilerden hangisi hakkın aslen kazanılmasının bir örneğidir?

- A) Bir kişinin açık arttırmadan aldığı bir vazonun mülkiyet hakkını kazanması
B) Bir kişinin kendisine bağışlanan bir taşınmazın mülkiyet hakkını kazanması
C) Bir kişinin satın aldığı bir yüzüğün mülkiyet hakkını kazanması
D) Bir kişinin çöpe atılmış bir ayakkabının mülkiyet hakkını kazanması
E) Bir kişinin kendisine miras bırakılan bir arabanın mülkiyet hakkını kazanması

50. Aşağıdaki yılların hangisinde 1982 Anayasasında bir değişiklik yapılmamıştır?

- A) 1987 B) 1996 C) 2002
D) 2007 E) 2008

51. 1982 Anayasasına göre egemenliğin kayıtsız şartsız Türk milletine ait olması devletin aşağıdaki temel niteliklerinden hangisinin bir sonucudur?

- A) Atatürk milliyetçiliğine bağlılık ilkesi
B) Anayasanın üstünlüğü ilkesi
C) Demokratik devlet ilkesi
D) İnsan haklarına saygılı devlet ilkesi
E) Kuvvetler ayrılığı ilkesi

52. Aşağıdakilerden hangisi yönetmelik çıkarmaya yetkili değildir?

- A) Bakanlar Kurulu
B) Bakanlıklar
C) Kaymakam
D) Orman Genel Müdürlüğü
E) Belediye

53. Yargı kararlarının yasama ya da yürütme organı tarafından değiştirilememesi aşağıdaki niteliklerden hangisinin sonucudur?

- A) Liberal devlet
B) Hukuk devleti
C) Otoriter devleti
D) Demokratik devlet
E) Laik devlet

54. Valinin il genel meclisi kararlarını onaylama yetkisinin varlığı aşağıdakilerden hangisinin bir sonucu olduğu söylenebilir?

- A) Yetki genişliği
B) İdari vesayet
C) Hiyerarşi
D) Yerinden yönetim
E) Hukuk devleti

55. I. Doğal afet
II. Ağır ekonomik bunalım
III. Kamu düzeninin ciddi şekilde bozulması
Cumhurbaşkanı başkanlığındaki Bakanlar Kurulu yukarıdaki hallerin hangisinde veya hangilerinde Milli Güvenlik Kurulunun görüşünü almadan olağanüstü hal ilan edemez?

A) Yalnız I B) Yalnız II C) Yalnız III
D) I ve II E) II ve III

56. Hakimlerin ve savcılarının azlolunamaması aşağıdakilerden hangisini sağlamayı amaçlar?

A) Yargı bağımsızlığını
B) Demokratik devleti
C) Kanuni hakim güvencesini
D) Sosyal devleti
E) İş güvencesini

57. Aşağıdakilerden hangisi Cumhurbaşkanının yürütme ile ilgili görevlerinden biri değildir?

A) Genelkurmay Başkanını atamak
B) Sürekli hastalık, sakatlık ve kocama sebebi ile belirli kişilerin cezalarını hafifletmek veya kaldırmak
C) Devlet Denetleme Kurulunun üyelerini ve Başkanını atamak
D) Yükseköğretim Kurulu üyelerini ve Üniversite rektörlerini seçmek
E) Hakimler ve Savcılar Yüksek Kurulu üyelerini seçmek

58. Aşağıdakilerden hangisi 2008 yılında 80.' si düzenlenen ve Oscar diye anılan Film Sanat ve Bilimleri Akademisinin EN İYİ FİLM adaylarından biri değildir?

A) Atonement
B) Crossing The Bridge
C) No Country For Old Men
D) Michael Clayton
E) There Will Be Blood

59. Aşağıdakilerden hangisi Avrupa Birliğinin kurucu ülkelerinden biri değildir?

A) Belçika B) Hollanda C) Lüksembourg
D) İtalya E) İspanya

60. ABD, Kanada, Meksika arasında imzalanan Kuzey Amerika Ülkeleri Serbest Ticaret Anlaşması olarak adlandırılan antlaşma aşağıdakilerden hangisidir?

A) NATO B) NAFTA C) EFTA
D) BAFTA E) WTO

LÜTFEN CEVAPLARINIZI KONTROL EDİNİZ.