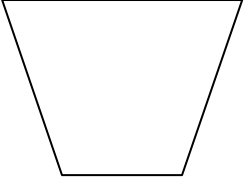


MATEMATİK ETKİNLİKLERİ

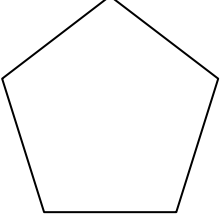
ADI- SOYADI:.....

1. Aşağıdaki şekillerin köşe ve açı sayılarını bulunuz.




Köşe sayısı=.....

Açı sayısı =.....



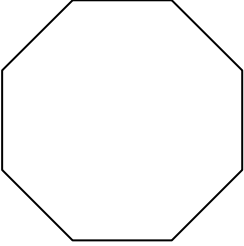
Köşe sayısı=.....

Açı sayısı =.....



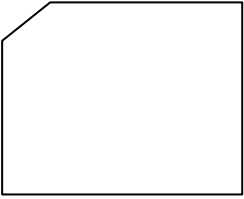
Köşe sayısı=.....

Açı sayısı =.....



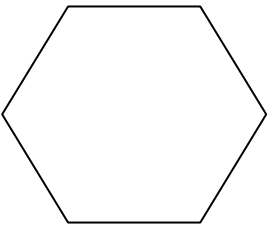
Köşe sayısı=.....

Açı sayısı =.....



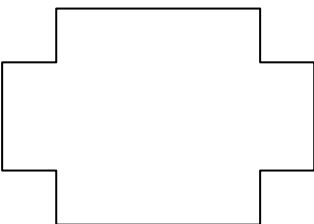
Köşe sayısı=.....

Açı sayısı =.....



Köşe sayısı=.....


Açı sayısı =.....



Köşe sayısı=.....

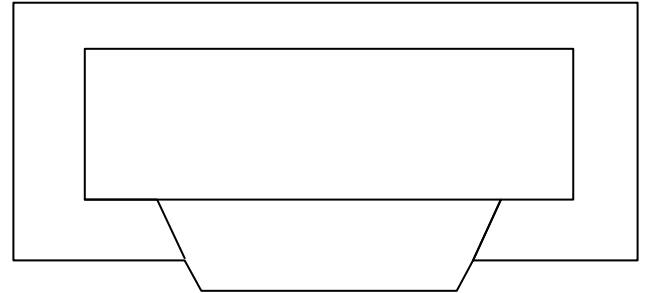
Açı sayısı =.....

2. Aşağıdaki şekilde istenen bilgileri renkli kalemlerle çiz.

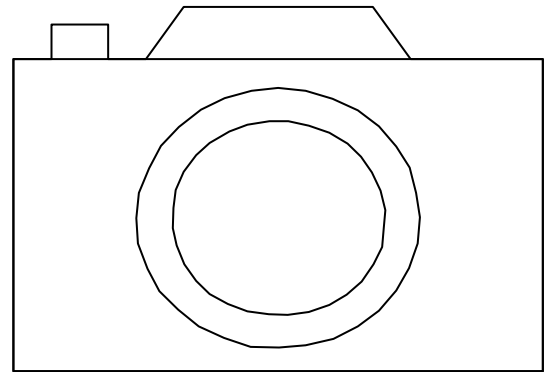


Yatay doğruları mavi kalemle göster.
Dikey doğruları kırmızı kalemle göster.
Eğik doğruları siyah kalemle göster.
Paralel doğruları yeşil kalemle göster.

3. Aşağıdaki şekillerde açı çeşitlerini göster.



Dar açıları kırmızı kalemle göster.
Dik açıları siyah kalemle göster.
Geniş açıları mavi kalemle göster.



Dar açıları kırmızı kalemle göster.
Dik açıları siyah kalemle göster.
Geniş açıları mavi kalemle göster.