




DOĞRU, İŞİN, DOĞRU PARÇASI

Adı: Soyadı:
Sınıfı: Nu.: Tarih: .../.../.....



1. Aşağıdaki noktalı alanlara altlarında yazılı ifadeleri çiziniz.




doğru

ışın

doğru parçası

2. Kareli alanlara altlarında yazılan doğru çeşitlerini çizip küçük harflerle doğruları adlandırınız.

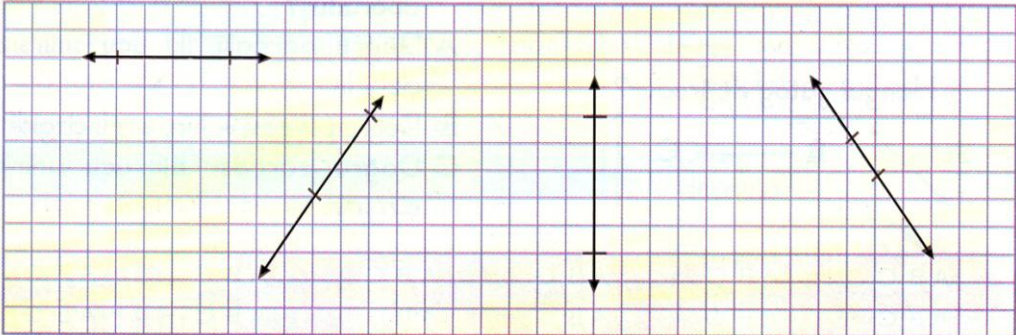


yatay doğru

dikey doğru

eğik doğru

3. Çizilen doğrulardan yanlarına işaretlenen büyüklükte doğru parçaları çiziniz.




1. ÜNİTE

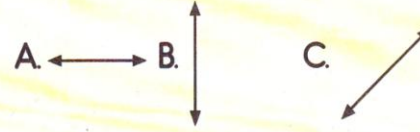
DOĞRU, İŞİN, DOĞRU PARÇASI

7. GÜN

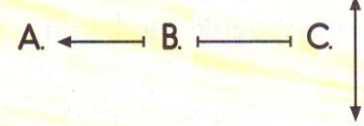
1.



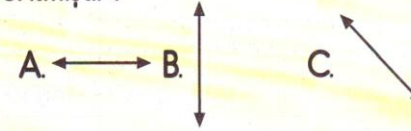
Önder'in çizdiği resimde hangi doğru çeşidinin örneği **yoktur**?



2. Hangisi doğru parçasıdır?



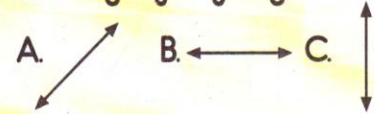
3. Dikey doğru hangi seçenekte verilmiştir?



4. "F" harfinde kaç tane yatay doğru vardır?

A. 2 B. 3 C. 4

5. Hangisi yatay doğrudur?



6. Aşağıdakilerin hangisinde yatay, dikey ve eğik doğru vardır?

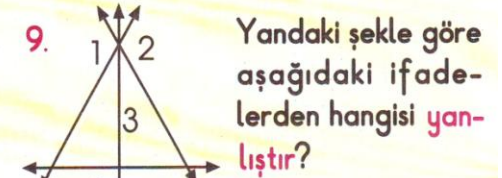
A. 4 B. 7 C. 1



A. k doğrusu
B. m doğrusu
C. l doğrusu

8. "N, T, Z, H" harflerinin kaç tanesinde eğik doğru vardır?

A. 4 B. 3 C. 2



A. 1 numaralı doğru yatay doğrudur.
B. 3 numaralı doğru dikey doğrudur.
C. 4 numaralı doğru yatay doğrudur.

10. Aşağıdaki ifadelerden hangisi doğrudur?

A. Doğru parçası, iki ucu sınırsız çizgidir.
B. Doğru parçası, iki ucu sınırlı çizgidir.
C. Doğru parçası, bir ucu sınırlı çizgidir.

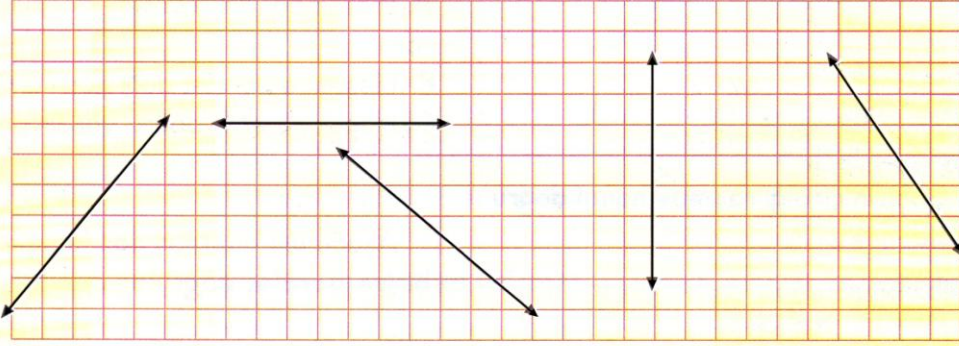


DOĞRU VE DOĞRU ÇEŞİTLERİ

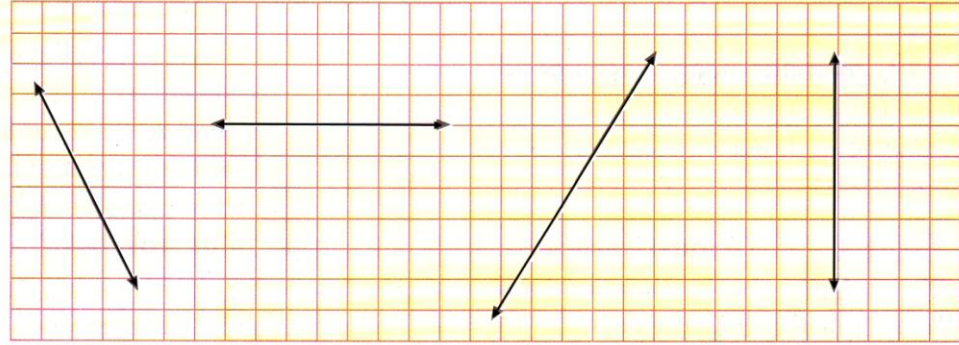
Adı: Soyadı:
Sınıfı: Nu.: Tarih:/...../.....



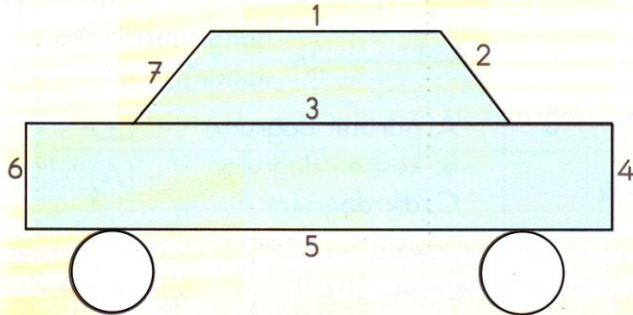
1. Aşağıdaki doğrulara paralel doğrular çiziniz.



2. Aşağıdaki doğrulara dik kesişen doğrular çiziniz.



3. Şekildeki doğruları inceleyip tabloya doğruların sayılarını yazınız.



Eğik doğrular	
Dikey doğrular	
Yatay doğrular	

1. ÜNİTE

DOĞRU ve DOĞRU ÇEŞİTLERİ

8. GÜN

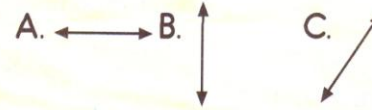
1. Hangisi doğru **değildir**?



2.



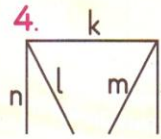
Cahit'in çizdiği resimde hangi doğru çeşidi **yoktur**?



3. "T" harfinde hangi doğru çeşidi **yoktur**?

A. yatay B. eğik C. dikey

4.



Yandaki şekilde "l" ve "m" doğruları nasıl doğrulardır?

A. paralel doğrular
B. dik doğrular
C. kesişen doğrular

5. "X" Yandaki şekilde hangi doğru çeşidi **yoktur**?

A. yatay B. dikey C. eğik

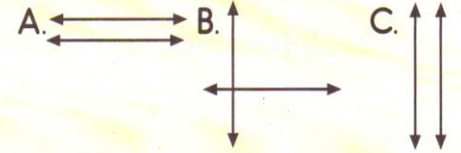
6.

HEM

Kelimesindeki harflerin ortak özelliği nedir?

A. Hepsinde dik kesişen doğrular vardır.
B. Hepsinde paralel doğrular vardır.
C. Hepsinde eğik doğru vardır.

7. Aşağıdaki doğrulardan hangileri birbirine paralel doğrular **değildir**?

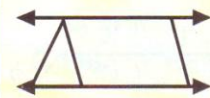


8.

Yandaki doğrular iki-şerli eşleştirilerek kaç tane paralel doğru elde edilebilir?

A. 8 B. 6 C. 4

9.



Yandaki çatının gösterilen kenarları hangi doğrulara örnektir?

A. paralel doğrular
B. kesişen doğrular
C. dik doğrular