

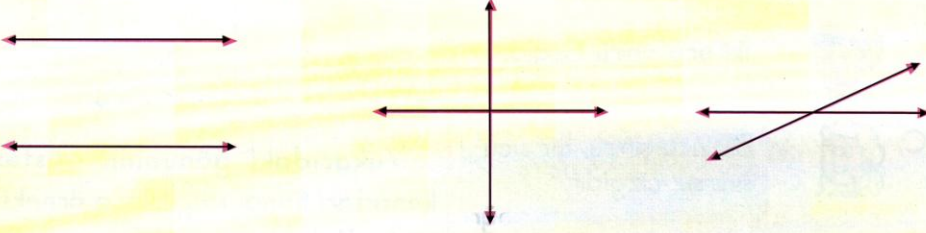


## DOĞRU VE DOĞRU ÇEŞİTLERİ


Adı: ..... Soyadı: .....  
Sınıfı: ..... Nu.: ..... Tarih: ...../...../.....



1. Aşağıda çizilen doğruların çeşitlerini altlarına yazınız.



2. Kareli alana K, A, H ve T harflerinin yatay doğrularını yeşil, dikey doğrularını pembe ve eğik doğrularını kırmızı renklerle çiziniz.



3. Aşağıda verilen tabloyu örnekteki gibi doldurunuz.

|   | dikey | yatay | eğik | paralel | dik | kesişen |
|---|-------|-------|------|---------|-----|---------|
| Z |       |       |      |         |     |         |
| Y |       |       |      |         |     |         |
| E |       |       |      |         |     |         |
| M |       |       |      |         |     |         |
| A |       |       |      |         |     |         |
| X |       |       |      |         |     |         |

## 1. ÜNİTE

## DOĞRU VE DOĞRU ÇEŞİTLERİ

## 9. GÜN

1. Hangi seçenekteki öğrenci doğru parçasını doğru tarif etmiştir?

- A. İki ucu sınırsız çizgidir.  
B. İki ucu sınırlı çizgidir.  
C. Bir ucu sınırlı, bir ucu sınırsız çizgidir.

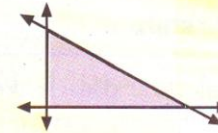
2. "V" harfindeki doğrular nasıl doğrulardır?

- A. kesişen doğrular  
B. paralel doğrular  
C. dik doğrular

3. Hangi kalem ışın şeklindedir?

- A. B. C.

4.



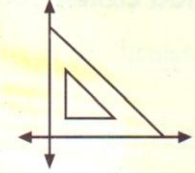
Yukarıdaki düzlemsel şekilde hangi doğru çeşitleri **yoktur**?

- A. paralel doğrular  
B. dik doğrular  
C. kesişen doğrular

5. "M" harfinde hangi doğru çeşidi **yoktur**?

- A. eğik B. yatay C. dikey

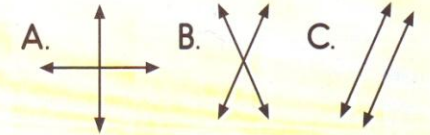
6.



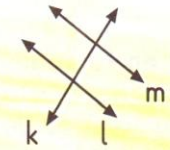
Yukarıdaki gönyenin gösterilen kenarları hangi doğrulara örnektir?

- A. dik kesişen doğrular  
B. paralel doğrular  
C. yatay doğrular

7. Hangi seçenekteki doğrular birbirine paralel doğrulardır?



8.



Yandaki şekle göre aşağıdaki ifadelerden hangisi **yanlıştır**?


- A. k ve l doğruları birbirine paraleldir.  
B. k ve m doğruları kesişen doğrulardır.  
C. l ve m doğruları birbirine paraleldir.





## DOĞRU VE DOĞRU ÇEŞİTLERİ

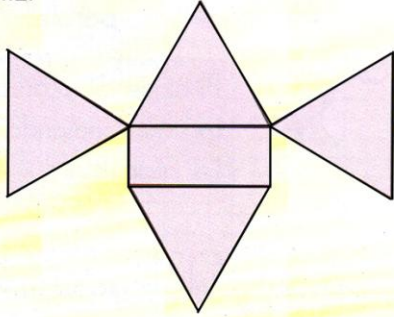
Adı: ..... Soyadı: .....  
Sınıfı: ..... Nu.: ..... Tarih: ...../...../.....



1. Noktalı bölgelerde doğru, doğru parçası ve ışıktan olmayanı bulup işaretleyiniz.



2. Aşağıdaki şeklin çizilmesinde kullanılan doğru sayılarını karşlarına yazınız.

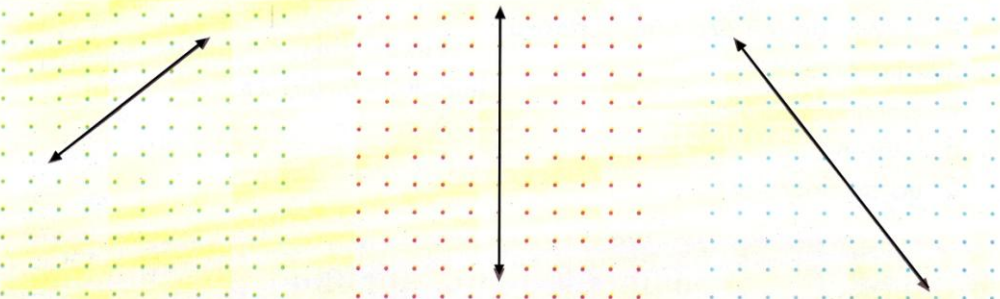


Yatay doğru sayısı: .....

Dikey doğru sayısı: .....

Eğik doğru sayısı: .....

3. Aşağıdaki doğrulara dik, kesik ve paralel doğrular çizin.



## 1. ÜNİTE

## DOĞRU VE DOĞRU ÇEŞİTLERİ

## 10. GÜN

1. GÜN GÜN

Sözcük grubunda hangi harfte eğik doğru kullanılmıştır?

A. G      B. Ü      C. N


2. Verilenlerden hangisi ışıdır?

A.      B.      C.

3. "N" harfinde kaç tane dikey doğru vardır?

A. 4      B. 3      C. 2

4.



Masanın bacakları hangi doğru çeşitlerine örnektir?

A. paralel doğrular  
B. kesik doğrular  
C. yatay doğrular

5.

Yukarıdaki şekil kaç tane doğru parçasından oluşmuştur?

A. 6      B. 7      C. 8

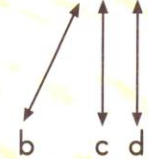
6. "F, M, H, Z, T" harflerinin kaç tanesinde birbirine dik olan doğrular yoktur?

A. 2      B. 3      C. 4

7. Aşağıdaki öğrencilerden hangisi yanlış bilgi vermiştir?

- A. Paralel doğrular hiçbir zaman kesikmezler.
- B. Kesik doğrular birbirine paralel olamaz.
- C. Birbirine dik olan doğrular, aynı zamanda paralel olabilirler.

8.



Yukarıdaki doğrular uzatılırsa hangileri birbiri ile kesikmez?

A. b ile c  
B. c ile d  
C. b ile d