

## MATEMATİK ETKİNLİKLERİ

ADI- SOYADI:.....

1.) Doğru çiz.

2.) Işın çiz.

3.) Doğru parçası çiz.

4.) Paralel doğrular çiz.

5.) Kesişen doğrular çiz.

6.) Dik kesişen doğrular çiz.

7.) Dik açı çiz.

8.) Doğru açı çiz.

9.) Dar açı çiz.

10.) Geniş açı çiz.

11.) Kare hakkında istenen bilgileri yaz.



Kenar sayısı =.....

Köşe sayısı =.....

Açı sayısı =.....

Açı çeşidi =.....

12.) Dikdörtgen hakkında istenen bilgileri yaz.



Kenar sayısı =.....

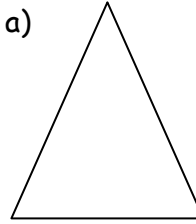
Köşe sayısı =.....

Açı sayısı =.....

Açı çeşidi =.....

13.) Üçgen hakkında istenen bilgileri yazınız.

a)



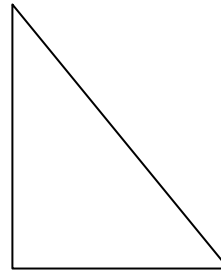
Kenar sayısı =.....

Köşe sayısı =.....

Açı sayısı =.....

Açı çeşidi =.....

b)




Kenar sayısı =.....

Köşe sayısı =.....

Açı sayısı =.....

Açı çeşidi =.....

14.) Daire hakkında istenen bilgileri yaz.



Kenar sayısı =.....

Köşe sayısı =.....

Açı sayısı =.....

Açı çeşidi =.....

## MATEMATİK ETKİNLİKLERİ

ADI- SOYADI:.....